

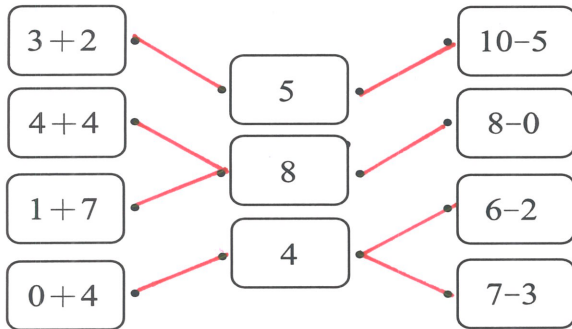
臺東縣新生國小110學年度第一學期一年級數學領域期末評量試卷

命題者：劉恩慈老師

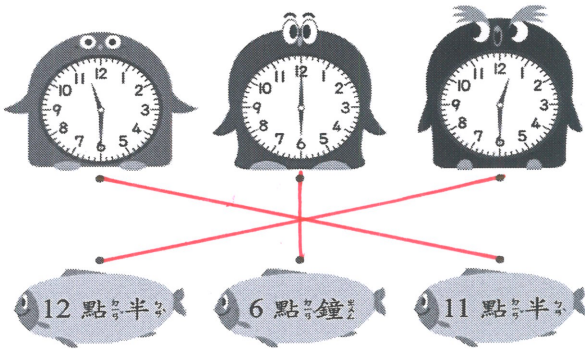
____年____班 座號：____ 姓名：____

一、連字連線看字。每題答2分

1. 把答案相同的字連起來。



2. 連出正確的時刻。




二、看圖做做看。每題答1分

1. 把最大的數畫○，最小的數打√。

(1)	25	15	5
	(○)	()	(√)
(2)	13	16	19
	(√)	()	(○)
(3)	24	21	27
	()	(√)	(○)
(4)	28	30	20
	()	(○)	(√)

2. 按照順序填填看。



三、看圖回答。每題答2分


1. 按照事情發生的先後順序，在□裡填上1、2、3、4。



2.



3. 排隊拿玩具。



小高是第(15)位，秋秋是第(16)位。戴眼鏡的是第(18)位，他前面一共有(17)個人。

四、做做看看：畫圖並寫出算式，回答問題。每答2分

1. 小₂狗₂有₂ 4 隻₂，小₂貓₂有₂ 3 隻₂，小₂狗₂比₂小₂貓₂多₂幾₂隻₂？

畫圖：

小 ₂ 狗 ₂	○○○○
小 ₂ 貓 ₂	○○○

算式： $4 - 3 = 1$

答：小₂狗₂多₂(1)隻₂

2. 蜜₂蜂₂有₂ 2 隻₂，蝴₂蝶₂有₂ 7 隻₂，蜜₂蜂₂比₂蝴₂蝶₂少₂幾₂隻₂？

畫圖：

蜜 ₂ 蜂 ₂	○○
蝴 ₂ 蝶 ₂	○○○○○○○

算式： $7 - 2 = 5$

答：蜜₂蜂₂少₂(5)隻₂

3. 一盒₂雞₂蛋₂有₂ 8 顆₂，打₂破₂ 4 顆₂，剩₂下₂幾₂顆₂？

畫圖：

雞 ₂ 蛋 ₂	○○○○○○○○
-------------------------------	----------

算式： $8 - 4 = 4$

答：剩₂下₂(4)顆₂

五、應用題：寫出算式並回答問題。算式3分，答1分

1. 青青有₂ 6 枝₂筆₂，心心有₂ 4 枝₂筆₂，兩₂人₂共₂有₂幾₂枝₂筆₂？

算式： $6 + 4 = 10$

答：(10)枝₂鉛₂筆₂

2. 阿吉老₂師₂原₂來₂有₂ 4 顆₂蘋₂果₂，校₂長₂又₂給₂他₂ 3 顆₂，阿吉老₂師₂現₂在₂有₂幾₂顆₂蘋₂果₂？

算式： $4 + 3 = 7$

答：(7)顆₂蘋₂果₂

3. 投₂籃₂比₂賽₂，阿朋投₂進₂ 6 顆₂，小₂友₂投₂進₂ 0 顆₂，阿朋和₂小₂友₂共₂投₂進₂幾₂顆₂？

算式： $6 + 0 = 6$

答：(6)顆₂

寫完要檢查考卷。