

臺東縣太麻里鄉美和國小 107 學年度第一學期期中評量試題

領域：社會 命題範圍：南一版第三冊（第 1~3 單元） 年級：四年級 命題者：葉宗河


座號 _____ 姓名 _____ 得分： _____

一、是非題：每格 2 分、共 32 分

- (X) 1. 地圖上只要標示出地圖名稱，就算是完整的地圖。
- (0) 2. 先民會以民謠抒發開發家鄉的心情。
- (X) 3. 從不同時代的地圖可以發現，嘉義市的地名從以前到現在都未曾改變。
- (0) 4. 沿岸邊的居民多從事養殖水產或水產加工的活動。
- (0) 5. 家鄉居民因應不同的氣候，建立了各自的生活型態。
- (0) 6. 一般來說，靠近海邊的地區風力較強。
- (X) 7. 多雨的地區，建築物多建有煙囪以利排水。
- (0) 8. 家鄉的氣候會因為季節或地形等因素而有不同。
- (0) 9. 澎湖群島夏天炎熱，冬天風強，降雨量少，作物較難生長。
- (0) 10. 早期，家鄉原住民多過著漁獵和農耕的生活。
- (X) 11. 「高雄」的地名由來主要是受自然因素的影響。
- (0) 12. 城鄉居民相互了解，有助於使城鄉的發展相輔相成。
- (X) 13. 捨棄鄉村全力建設城市地區，是對國家發展最好的做法。
- (X) 14. 如果家鄉的地形大部分是起伏的，較有機會擴大城鎮的規模。
- (X) 15. 具臺鐵、高鐵、捷運等的交通條件的城鎮因交通噪音太大而使居民搬離，城鎮發展變慢。

二、選擇題：每格 2 分、共 30 分

- (2) 1. 從地形圖中無法獲知下列哪一種資訊？
①地勢起伏狀況 ②當地人口數 ③山脈走向 ④河川分布情形
- (2) 2. 透過地圖上的哪一項資料，可以知道地圖的類別和功能？
①地圖尺寸 ②地圖名稱 ③地圖繪製者的姓名 ④印製地圖的出版社

- (/) 3.  是地圖中的哪一項要素？
①比例尺 ②圖例 ③方位標 ④地圖名稱
- (4) 4. 地名中有「營」字，較可能和下列哪一個因素有關？
①曾為大型建築舊址 ②曾為公司行號所在地 ③曾為地方首長官邸 ④曾為軍隊駐紮地
- (3) 5. 澎湖縣馬公市舊名「媽宮」，此地名的由來與下列哪一個因素有關？
①方位 ②地形 ③信仰 ④灌溉設施
- (/) 6. 原本以商業貿易為主的鹿港，後來因為下列哪一個原因而逐漸沒落？
①港口泥沙淤積 ②盜匪出沒劫掠 ③地震引發火災 ④海嘯摧毀港口
- (3) 7. 珊珊的家鄉有許多居民設置箱網，養殖水產，在她家附近較可能看見下列哪一項？
①農場 ②果園 ③港口 ④牧場
- (2) 8. 下列哪一個是新竹縣新埔鎮出產柿餅的條件？
①降雨量多 ②風力強 ③氣溫低 ④日照少
- (3) 9. 香君想了解家鄉的氣候，較適合到下列哪一個單位的網站查詢？
①教育部 ②行政院 ③中央氣象局 ④中央健康保險署
- (/) 10. 下列哪一個是臺中市重劃區利於大面積開發的主要原因？
①地勢平坦 ②自然資源豐富 ③港口運輸便利 ④產業活動特殊
- (2) 11. 下列哪一個不是先民修築瑠公圳的影響？
①促進臺北地區發展 ②導致地震時常發生 ③農田面積增加 ④農作物產量增加

(2)12. 下列哪一種做法能使城鄉有更好的發展？

- ①資源只分配給城市居民 ②配合規畫調整行政區域 ③在鄉村興建賭場
④禁止鄉村居民使用城市資源

(2)13. 馬偕牧師曾經來到淡水居住，留下歷史足跡。下列哪一項不是他的事蹟？

- ①傳教 ②修渡輪 ③設醫院 ④建學校

(1)14. 下列哪一個是先民分散居住在各自耕地的主要原因？

- ①為方便耕作 ②為開設商店 ③為買賣作物 ④為抓盜賊

(4)15. 臺南市安平區早期因下列哪一種條件而形成市街？

- ①蘊藏豐富礦產 ②販售珍稀動物
③栽植大片林木 ④位居重要水路

三、是的打√，不是的打×：每格2分、共22分

1. 下列哪些是家鄉居民為因應氣候而採取的做法？

- (√)(1)依照季節種植適合的農作物。
(×)(2)在陰雨綿綿的地區製作柿餅。
(√)(3)多雨地區以油毛氈作為屋頂材料。
(√)(4)建造半穴屋以防颱風侵襲。
(×)(5)氣溫偏高的地區採縮小房屋門窗的設計。

2. 老師請班上同學各自調查與先民開發有關的事物，並在課堂上和同學分享調查的結果。下列是幾位同學報告的內容，哪些是正確的？

- (×)(1)子齊：「『碌礮』是先民狩獵動物的重要工具。」
(√)(2)貝兒：「透過早期的圖畫，可以了解先民開墾家鄉的過程。」
(√)(3)小群：「想知道祖先的發源地除了研究堂號，也可以翻閱族譜。」
(√)(4)孟庭：「透過早期的詩歌，可以感受先民開發家鄉的心情。」
(×)(5)小嬋：「可以從家鄉各家族的電話號碼，知道他們的祖先來自哪一個地方。」

(√)(6)小超：「從賽德克族的傳說可以知道，白石山是他們祖先的發源地。」

四、連連看：每格1分、共8分

1. 下列不同的地圖種類主要具有什麼功能？

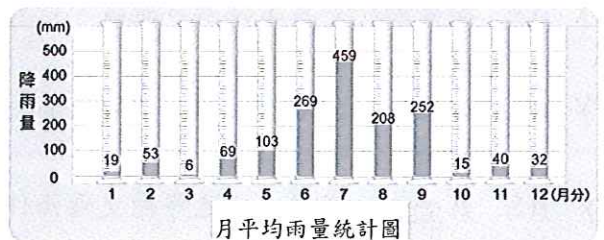
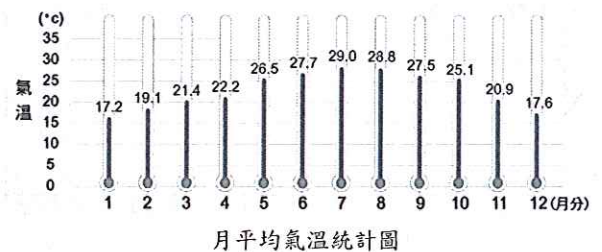
- (1)地形圖 ● ㄉ. 介紹特產美食
(2)行政區域圖 ● ㄆ. 呈現地勢變化
(3)觀光地圖 ● ㄇ. 分辨縣市範圍
(4)衛星影像圖 ● ㄊ. 了解建築物分布

2. 下列地名各是如何產生的？

- (1)新北市石門 ● ㄉ. 依據氣候特色
(2)彰化縣埤頭 ● ㄆ. 依據地形樣貌
(3)嘉義縣鹿草 ● ㄇ. 依據常見植物
(4)屏東縣恆春 ● ㄊ. 依據灌溉設施

五、圖表題：每格1分、共4分

1. 下列是祥新家鄉的月平均雨量及氣溫統計圖，觀察圖表後回答問題，敘述正確的在()裡打√：



- (√)①降雨量集中在夏季。
(×)②四月到九月容易出現缺水問題。
(√)③夏季的氣溫較冬季高。
(×)④冬季的氣溫常低於10°C。

六、簡答題：每題4分、共4分

寫出一個宜蘭因開墾而產生的地名。

答：頭圍...