

新竹市北區西門國小一〇六學年度第一學期第二次定期評量 四年級社會科試卷

組距	100分	90-99分	80-89分	70-79分	60-69分	60分↓
人數						

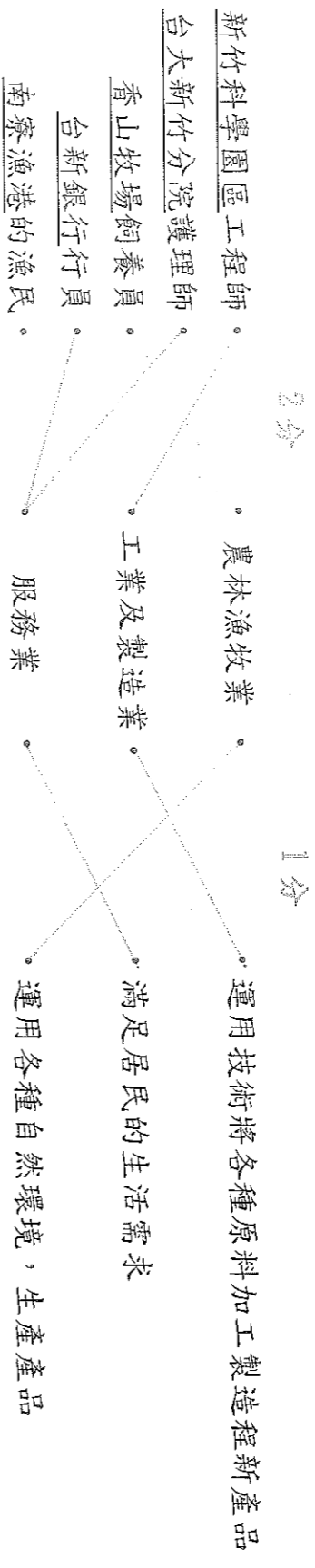
四年( )班 座號：( ) 姓名：( )

小明和家人在寒假期間，進行了「台灣文化行腳」的旅程，身為鐵道迷的他，還在每個景點都蒐集了台灣鐵路的紀念戳章呢！請你和他一起去旅遊，並且幫他解決旅途上遇到的難題吧：


一、話我家鄉—**新竹市** 25%

小明的爸爸在新竹科學園區擔任程式設計師，媽媽是台大新竹分院的護理師。早餐媽媽準備了香山牧場的鮮奶，爸爸選到台新銀行領了一些錢當作旅費。他們先到愛買量販店採買了零食及旅行必需品，再到南寮漁港吃了一頓豐盛的海鮮大餐，準備迎接豐富的旅程。

(一)請配對各行業的產業類別及產業內容：




- (二)( )請問誰較容易面臨天災威脅或進口低價產品競爭等問題？(①程式設計師 ②銀行行員 ③南寮漁港漁民)
- (三)( )香山牧場是運用哪種地形發展產業？(①平原 ②丘陵 ③沿海)
- (四)( )小明想要帶一些新竹特產給住在外地祖父母，應該準備(①芋頭酥 ②陶器 ③玻璃飾品)。
- (五)( )小明蒐集了第一個紀念戳章(如右圖)，請問戳章中的古蹟是(①承恩門 ②迎曦門)
- (六)若小明想帶親戚朋友參觀新竹市著名的名勝古蹟，你會建議他到哪兩個景點參觀：



景點 1	景點 2	
北門聖母廟	新竹都城隍廟	

二、第二站—**台中站** 11%



- (一)( )台中市和平區的武陵農場，有優美的山櫻景色，屬於(①名勝 ②古蹟)
- (二)( )台中市的霧峰林家花園是著名的庭園，別緻造景吸引遊客參訪，曾經嚴重損毀後修復，請問造成林家花園損毀的原因是(①人們缺乏維護古蹟觀念 ②天然災害侵襲 ③因經濟建設發展而面臨拆除命運)。

(三)( )台中市有個台灣民俗文物館，參觀這座博物館時，小明看到操偶師將皮製成人物剪影，借燈光投影在布幕上，進行表演，這種表演稱為：(①歌仔戲 ②布袋戲 ③皮影戲)。

(四)館內收藏了全台灣各地的民俗文物及藝品，哪些可能是小明會看到的展覽物品，請勾選出來☑：

- (  1. 油紙傘     2. 木乃伊     3. 木雕     4. 捏麵人     5. 布袋戲偶 )

三、第三站—**嘉義站** 8%



開發歷程。

- (一)( )來到嘉義，小明一家人先來到(①嘉義市立博物館 ②北門驛 ③射日塔)了解森林鐵路的開發歷程。
- (二)( )然後一家人前往(①陽明山 ②雪山 ③阿里山)欣賞森林美景，並準備隔天一早搭乘小火車前往山頂觀日出雲海！
- (三)( )森林鐵路在日據時期最初建造時的用途是：(①運送木材 ②載運觀光客)
- (四)( )揮別嘉義縣，小明一家人特地到新港買伴手禮，他們買的特產是(①草莓 ②純釀醬油 ③豆干)

四、第四站——**台南站** 25% (請將正確的答案打勾☑)單選 2分，複選每答 1分

- (一) 台南市 個古色古香的的城市，有不少名勝古蹟，請問紀念戳章中的古蹟可能是 (  1. 撫臺街洋樓  2. 林家花園  3. 孔廟 )
- (二) 參觀古蹟時，哪些是應有的觀念和態度？





1. 建築物的裝飾材質很特別，一定要親手觸摸才能深刻體驗。  2. 參觀時要遵守規定並維護環境整潔。
3. 仔細聆聽導覽員的解說。  4. 可以在名勝古蹟上刻字留念。  5. 看到古蹟損壞時，我能通報主管機關。
6. 為了推廣名勝古蹟，所以參觀的人潮越多越好。
- (三) 台南市 有個特色的傳統節慶，每年都吸引不少觀光客前來，是 (  1. 炸寒單爺  2. 鹽水蜂炮  3. 炸龍 )，這個傳統習俗是在 (  1. 農曆新年  2. 元宵節  3. 中元節 ) 舉辦的，主要目的是 (  1. 驅除邪魔  2. 祈求延壽  3. 除舊布新 )。


(四) 台南 的文化資產除了古蹟外，還有許多特色的民俗活動，每逢廟會慶典，台南 子弟不論陣式武術、兵器對打、雙手連環皆訓練有素，充滿力與美，這種用以團結鄉里、展現武功的民俗技藝稱為：(  1. 跳鼓陣  2. 宋江陣  3. 高蹺陣 )

(五) 這些民俗活動有哪些功能呢？ (  1. 練武強身  2. 娛樂大眾  3. 感謝祖靈保佑  4. 增加節慶熱鬧氣氛 )

(六) 來到台南文創園區，正好遇上台灣設計展，其中展覽了許多「MIT微笑標章」產品，關於「MIT微笑標章」哪些是正確的

1. 標章圖案：  2. 標章圖案：  3. 商品取得「MIT微笑標章」認證，可以讓產品更有競爭力。
4. 貼有此標章代表產品只在台灣販賣。  5. 貼有此標章代表產品經過政府品質認證。

五、第五站——**花蓮站** 9%



- (一) 花蓮 的太魯閣以 (  1. 海岸地形  2. 峽谷地形  3. 平原地形 ) 聞名。
- (二) 花蓮 麻糬最有名，製作麻糬需要糯米、紅豆餡等原料，工人將各種食材加工製造成紅豆麻糬，貨車將麻糬送到門市，門市販售冷凍水餃。這是產業間的 (  1. 合作  2. 競爭 )，花蓮 麻糬從製作到販賣需要透過 哪些 產業完成：(  1. 農林漁牧業  2. 工業及製造業  3. 服務業 )
- (三) 旅程進入尾聲，請問小明一家人環島旅遊的路線是 (  1. 北部→中部→南部→東部  2. 東部→南部→中部→北部 )

六、**完成傳統節慶學習單**：旅遊回來後，小明還有寒假作業要完成呢，請幫他完成傳統節慶的學習單吧！

(一) 家鄉的傳統節慶：(1)請按照時間先後在  寫出 2. 3. 4. 5。 (2)請按照特色連連看。 9%

1	春節	3	清明節	5	中秋節	4	端午節	2	元宵節
---	----	---	-----	---	-----	---	-----	---	-----

親友團聚賞月      掃墓、祭拜祖先      早起祭祖、拜年      插菖蒲、艾草      猜燈謎、賞花燈

排灣族	豐年祭	族人手持長竿刺球，祈求部落平安
雅美族	飛魚祭	透過歌舞，感謝平安豐收
泰雅族	祖靈祭	祈求捕飛魚時平安與豐收
阿美族	五年祭	獻上祭物，感謝祖靈保佑，承諾遵守祖訓

(二) 原住民的傳統節慶：請按照各族慶典名稱及慶典特色連連看 8%

(三) 關於傳統節慶，哪些描述是正確的請打勾☑：5%

1. 傳統節慶的習俗從古代流傳下來都不曾改變。  2. 原住民會將原本國家的慶典帶入台灣來慶祝。
3. 原住民不管族別，傳統祭典都是一樣的。  4. 傳統節慶的習俗活動會因地方不同而有差異。
5. 泰國 人民為了答謝水神、祈求幸福與豐收會舉辦潑水節。