

命題教師

一年級

班號 姓名

小朋友，歡迎

參與數學冒險任務

《所有題目，每答2分》




一、連連看(22分)

- ①  $5+5$    ②  $1+3$    ③  $2+6$    ④  $0+7$

- ㄅ. 8   ㄆ. 4   ㄇ. 7   ㄎ. 10

- A.  $10-3$    B.  $9-1$    C.  $6-2$    D.  $10-0$



- 4點半   5點鐘   3:30

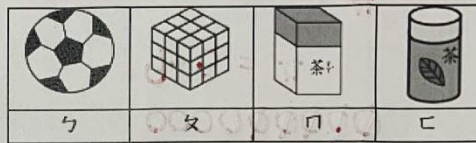
二、填填看(54分)

1. 按照事情的先後順序在

( ) 寫上 1、2、3

① 吃飯	② 擺碗筷 盛飯	③ 洗手
 ( 3 )	 ( 2 )	 ( 1 )

2. 寫入正確的代號:



(1) 可以滾動的代號是 ( ㄅ )、( ㄎ )

(2) 可以堆高的代號是 ( ㄆ )、( ㄇ )、( ㄎ )。

(3) 有平平的面，也有彎彎的面代號是 ( ㄎ )。

(4) 只有平平的面代號是 ( ㄆ )、( ㄇ )

3. 右圖時鐘是巧巧老師上班時間:

短針指在

( 7 ) 和 ( 8 ) 之間

, 長針指在 ( 6 )

, 是 ( 7 ) 點半



4. 現在是下午 2 點半, 再過

4 小時後是晚餐時間, 請問

巧巧老師要下午 ( 6 ) 點半

吃晚餐?

5. 琪琪每天上午 8 點要到學校,

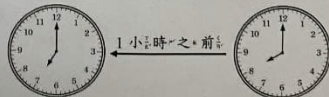
從起床到學校要 1 小時,

請問她最慢要 ( 7 ) 點

出發才不會遲到。

起床時刻:

到學校時刻:




6. 做做看, 答案是 6 在  填

答案是 9, 請在  填 。

(1)   $1+5$    (2)   $9-0$    (3)   $10-1$



(4)   $3+6$    (5)   $3+3$    (6)   $6+0$

7. 下圖是巧虎的畫作，請問：



- (1) 共有 ( 3 ) 個正方形  
 (2) 共有 ( 6 ) 個長方形  
 (3) 共有 ( 3 ) 個圓形  
 (4) 共有 ( 8 ) 個三角形

三、依照圖形規律，[?]會是什麼答案，圈出適當答案。(4分)



四、畫○做做看看，並用算式記下來。(一題4分，20分)

1. 巧虎原有4張貼紙，小可再送給他6張，巧虎共有幾張貼紙？

畫○： ○○○○ ○○○○○○

算式：  $4 + 6 = 10$

答： ( 10 ) 張

2. 小花有9包餅乾，吃掉3包，還剩下幾包？

畫○： ○○○○○○○○○

算式：  $9 - 3 = 6$

答： ( 6 ) 包

3. 一盒蛋塔有3個，琪琪買了2盒，一共買了幾個蛋塔？

畫○： ○○○ ○○○

算式：  $3 + 3 = 6$

答： ( 6 ) 個

4. 桃樂比比有6張卡片，妙妙有8張卡片，誰的卡片比較多，多幾張？

畫○桃樂比比： ○○○○○○

妙妙： ○○○○○○○○

算式：  $8 - 6 = 2$

答： 多 ( 2 ) 張

5. 巧虎的爸爸媽媽共吃掉9個蘋果，爸爸吃掉5個，請問媽媽吃幾個蘋果？

畫○： ○○○○ ○○○○○

算式：  $9 - 5 = 4$

答： ( 4 ) 個

要檢查考卷喔

