


命題教師： XXXXXXXXXX

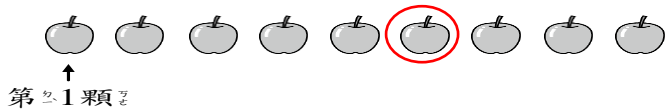
一一年 班 座 號 姓 名 :

一、圈圈看看(每個答2分)共18分


1. 把最矮的圈起來



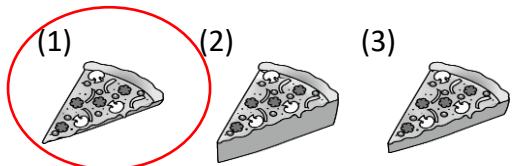
2. (1) 圈出第6顆蘋果



(2) 圈出6顆蘋果



3. 最薄的圈起來




4. 下列哪些圖形是直線?

請圈起來:





5. 數一數有幾個蓮霧, 把正確的數字圈起來 (26 , 28 , 24)



6. 數字 25 和 19, 哪一個數比較小? (25 , 19) 比較小


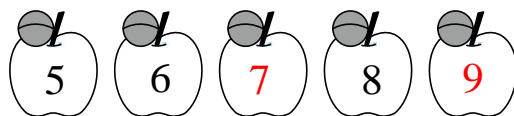
7. 要再畫幾個心才會剛好是 10 個? 畫○做做看, 並圈出答案 (3 個 , 2 個 , 4 個)



二、填填看看(每個答2分)共40分

1. 按照順序填填看看。

(1)



(3)




2. 小熊排隊買票, 他排在第 15 個。

(1) 小熊的前面排了 (14) 個人。

(2) 小熊的後面一位是第 (16) 個人。

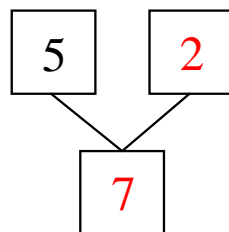

3. 全部有 8 個花瓣, 被握住的花瓣有 (5) 個。



4. 先 10 個、10 個圈起來, 再寫出數量。有 (26) 隻聖誕襪。

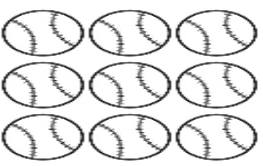


5. 共有多少隻瓢蟲?

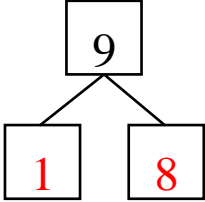


6. 有 9 顆球分二堆，可分成多少和多少？

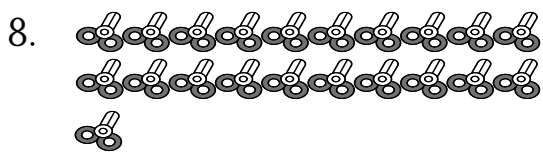
和多少？



(參考答案)


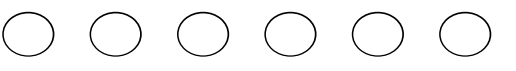


7. 有 29 個橘子，再多 1 個，共有 (30) 個橘子。



有 21 把剪刀，拿走一把，還有 (20) 把剪刀；再拿一把，還有 (19) 把剪刀。


9. 數一數，有多少？先畫○，再寫數字。

	數字
	6


三、勾選題 (每個答 2 分) 共 26 分

1. 怎樣比長短才正確？

在 打✓



2. 最長的打✓，最短的畫✗



3. 觀察下列圖形的順序，敘述是對的在 打✓，錯的在 打✗



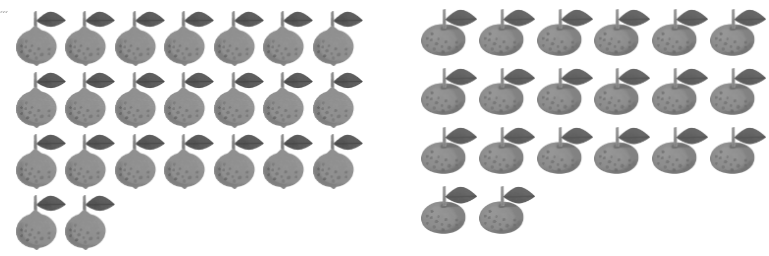
從右邊數起，▲排在第4個。

從左邊數起，○排在第5個。

4. 教室裡有 14 枝掃把，全班有 17 位同學，一個人拿一枝掃把，掃把夠不夠？在 裡打✓ (夠， 不夠)

5. 數一數，寫出數量，再比比看


哪個比較多？在 裡打✓



23 個 20 個

四、看圖做做看 (每個答 2 分) 16 分


1.




(1) 從下面數起，大象住第 (3) 樓

(2) 從上面數起，兔子住第 (2) 樓

(3) 從上面數起，第4個是哪一個？



(4) 從下面數起，第5個是哪一個？



2. 多少和多少合起來是 10？

連連看：

