

一年級 班 號 姓名：

家長簽名：

一、圖畫：16 分



1. 把答案為 8 的圖畫起來。(10 分)

- 9-5 5+1 2+5 1+6 **8+0**
 7+2 **6+2** **4+4** **3+5** 4+3

2. 下面哪一個鐘面上長針的位置是錯誤的？請把這個時鐘圖畫起來。



3. 依照下面圖形排列的規律性，() 裡會是什麼圖形？請畫起來。



4. 想一想，做哪一件花時間比較長？請畫起來。



二、畫圖算算看看：12 分

(1) $5 + 4 = (9)$

ooooo oooo

(2) $7 - 2 = (5)$

ooooo
 oo

(3) $3 + 3 = (6)$

ooo ooo

(4) $10 - 6 = (4)$

oooooooooooo
 ooooo

三、連連看看：8 分

1. 可以堆高，不容易滾動。

2. 可以堆高，也容易滾動。

3. 容易滾動，不能堆高。

4. 容易滾動，不能堆高。

四、填填：46 分

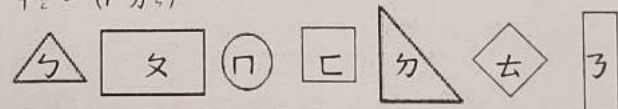
1. 想一想，填填看看(7 分)



左邊的籃子有 (5) 顆球，右邊的籃子有 (3) 顆球，左邊的籃子比右邊的籃子多 (2) 顆球。

算式：(5) - (3) = (2)

2. 下面是什麼形狀，把代號填在框框中。(7 分)

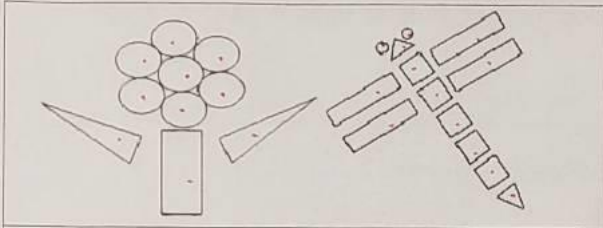


圓形	長方形	正方形	三角形
㊸	ㄆ	ㄇ	ㄅ

3. 請問下面時鐘是什麼時刻？(12 分)

ㄅ	ㄆ	ㄇ
(12) 點鐘	(9) 點半	(4) 點鐘
(12:00)	(9:30)	(4:00)


4. 數數看看，各有幾個圖形？(8分)



- (1) 圓形共有(9)個。
 (2) 三角形共有(4)個。
 (3) 正方形共有(5)個。
 (4) 長方形共有(5)個。

5. 小如再過 2 小時就要回家了。(2分)

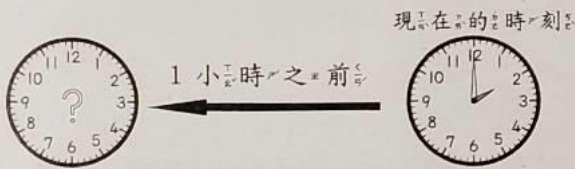
現在是幾時幾分？



(8) 點半的時

候，小如就要回家。

6. 小美 1 個小時之前正在打球。(2分)



(1) 點鐘的時

候，小美正在打球。

7. 先寫出時刻，再依事情發生的先後順序，在□中填上 1, 2, 3, 4。(8分)

順序，在□中填上 1, 2, 3, 4。(8分)

2 上午(7)點半



出門上學

4 下午(4)點



星期二放學

3 上午(8)點



交功課

1 上午(7)點



起床

五、把做法用算式記下來。(18分)

1. 一枝鉛筆 5 元，買兩隻鉛筆要幾元？

$$5 + 5 = 10$$

(10) 元

2. 操場上有 9 隻麻雀，飛走了 3 隻後，

還剩下幾隻麻雀？

$$9 - 3 = 6$$

(6) 隻

3. 哥哥烤了 5 塊餅乾，要送給 8 個朋友，

1 人 1 塊，請問不夠幾塊餅乾？

$$8 - 5 = 3$$

(3) 塊

4. 爺爺種了 2 棵樹，奶奶種了 6 棵樹，

請問爺爺和奶奶共種了幾棵樹？

$$2 + 6 = 8$$

(8) 棵

5. 圍欄裡有 8 隻小貓，3 隻小狗，請問

圍欄裡的小貓比小狗多幾隻？

$$8 - 3 = 5$$

(5) 隻

6. 小雄從 6 樓往上爬 3 樓到小香家，

請問小香家住幾樓？

$$6 + 3 = 9$$

(9) 樓