









得分	家長 簽名	年 班 號	學生 姓名
----	----------	----------	----------

一、選擇題：(每題 2 分，共 16 分)

- (2) 1. 1 個漢堡和 4 個電池一樣重，2 個漢堡和幾個電池一樣重？
① 6 個 ② 8 個 ③ 2 個 ④ 12 個
- (1) 2. 下面哪一個容器可以裝的水最多？
①  ②  ③  ④ 
- (3) 3. 鍋子裡有 79 顆湯圓，班上女生吃了 43 顆，大約還剩下幾顆湯圓？
① 50 顆 ② 60 顆
③ 40 顆 ④ 30 顆
- (3) 4. 教室裡，哪些地方沒有垂直現象？
① 數學課本 ② 窗戶
③ CD 光碟片 ④ 桌子
- (4) 5. 9 個一數：18-27-□-45，□中應該填入什麼數？
① 9 ② 54 ③ 28 ④ 36
- (2) 6. 哪裡不能看見水平面？
① 湖泊 ② 瀑布
③ 游泳池 ④ 學校的魚池
- (1) 7. 小竹比小延重，小竹比小元輕，小延和小元誰比較重？
① 小元 ② 小延 ③ 一樣重
④ 無法比較

- (3) 8. 下面裝水的容器傾斜時，哪一個是錯誤的？
①  ②  ③ 
④ 

二、連連看：(每題 2 分，共 10 分)

- | | | |
|----------------|--------------|---------|
| ① 4×5 | ↗ | 5 的 6 倍 |
| ② 5×6 | ↘ | 4 有 5 個 |
| ③ 3×2 | ↔ | $3 + 3$ |
| ④ 6×5 | ↘ | 7 有 6 個 |
| ⑤ 7×6 | ↗ | 6 的 5 倍 |

三、填填看：(每格 2 分，共 26 分)

1. 「3 的 7 倍」比「3 的 4 倍」多 (3) 個 3，也就是多 (9)。
2. 8×6 比 8×9 少 (24)。
3. $9 \times 6 = 54$ 的算式中，被乘數是 (9)，乘數是 (6)，積是 (54)。
4. 甲容器比乙容器大，丙容器比乙容器小，哪一個容器最大？(甲) 容器
5. 把杯子裡的水，倒進另一個杯子裡，倒過去的水和原來的水一樣多嗎？(一樣多)
6. $2 + 2 + 2 + 2 + 2 = (10)$
2 的 5 倍是 $2 \times (5) = (10)$

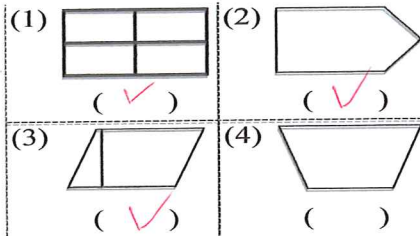
7. 49 大約是接近 50 還是 40? (50)

8. 一塊黏土壓扁，做成游泳圈造型，重量會改變嗎?

(不會)

四、看圖回答問題：(20分)

1. 有平行行也有垂直現象的畫√。





2.

1 隻 和 (5) 個 一樣重。


1 隻 和 (6) 個 一樣重。

1 隻 比 1 隻 重 (1) 個 。

3. 由重到輕寫上 1、2、3。



4. 哪些指針是鉛直線? 請將它圈起來




5. 圖中共有幾顆糖果?



$(7) \times (4) = (28)$

共有 (28) 顆糖果

6. 估估看，在正確的□裡打√。



(1) 買一顆足球和一顆網球，

大約要多多少元?

70 元 80 元 50 元

(2) 買一顆籃球和一顆棒球，

大約要多多少元?

90 元 100 元 110 元

(3) 一庭有 100 元，夠不夠買一顆

棒球和一顆籃球?

夠 不夠 不一定


五、動動腦：(共28分)

1. 聖誕節到來，聖誕老公公又開始忙碌的送給孩子們禮物了，但是今年他必須回答一些問題，才能開始發送，請大家一起來幫他完成吧!

(1) 請在每個禮物上圈出 2 條平行線。(4分)



(2) 玩具布偶中哪一個比較重？比較重的在 () 裡畫○，比較輕的打×：(2分)



(○) (×)

(3) 他家裡有 97 個禮物，早上要送 24 個禮物到德國小學教務處，下午要送 39 個禮物到輔導室，現在家裡還剩下幾個禮物？請將做法跟答案記下來。(4分)

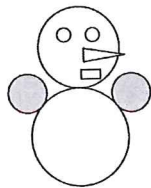
$$97 - 24 = 73$$

$$73 - 39 = 34$$

A: 34 個

(4) 他必須畫出 4 個相同的雪人，他一共需要畫幾個圓形呢？請用乘法算式做做看看。(4分)

$$(4) \times (4) = (16)$$



答: 16 個圓形

(5) 下面是聖誕老人的英文字母，請把它們有垂直現象圈起來。(2分)

SANTN CLAUS

2. 德國小學運動會，活動相當精彩，場地布置吸引許多來賓的目光，以下請你幫忙動腦回答當天活動中的問題。

(1) 二年級繞場，手拿著風車，1枝風車有 5 片葉扇，9枝風車共有多少片葉扇？(4分)

$$(5) \times (9) = (45)$$

答: 45 片葉扇

(2) 當天家長會賣豆干一包 40 元，一枝棉花糖比豆干少 17 元，買一包豆干和一枝棉花糖共要多少元？請將做法跟答案記下來。(4分)

$$40 - 17 = 23$$

$$23 + 40 = 63$$

A: 63 元

(3) 已經有 32 枝風車插在木棍上，又插了 15 枝，最後再插上 12 枝，現在總共有多少枝風車插在木棍上？請將做法跟答案記下來。(4分)

$$32 + 15 = 47$$

$$47 + 12 = 59$$

A: 59 枝



恭喜完成本階段學習，請再檢查一遍喔！