

新北市立三民高級中學 108 學年度第一學期高中部一年級歷史科第一次段考試題

1 年 \_\_\_\_\_ 班 座號： \_\_\_\_\_ 姓名： \_\_\_\_\_


一、單選題：共 30 題，每題 2 分（占 60%）

說明：單選題 1 至 30 題，每題 2 分，每題有 4 個選項，其中只有一個是正確或最適當的選項，答錯、未作答或劃記多於一個選項者，該題以零分計算。

1. 歷史老師在上課時，跟班級的同學說明何謂歷史事實跟歷史解釋的差別後，請四位同學舉一個例子解釋說明，下列哪一個同學的回答屬於「歷史解釋」？  
(A) 詳諺：中信兄弟的彭政閔引退賽，現場湧入 20223 觀眾，共同見證當代傳奇歷史性的一刻  
(B) 楷翔：根據 1895 年《馬關條約》的內容，臺灣人可自由選擇是否離開臺灣  
(C) 又誠：陳第在 1603 年完成《東番記》，是最早記載原住民族的文獻資料  
(D) 宇傑：珍珠港事件後，美國參加第二次世界大戰，加入同盟國的陣營
2. 臺灣原住民族的稱呼，隨著各政權的嬗遞有不同的稱呼，請問臺灣史哪個政權最早以人類學方法將原住民分類？  
(A) 戰後中華民國政府時期 (B) 日本統治時期 (C) 清領時期 (D) 鄭氏時期
3. 「今 XX 乃開創之地，雖僻處海濱，安敢忘戰？暫爾散兵，非為安逸，初創之地，留勇衛、侍衛二旅，以守安平鎮、承天二處。其餘諸鎮，按鎮分地、接地開墾，日以什一者瞭望，相連接應，輪流迭更。是無開丁，亦無逸民。插竹為社，斬茅為屋。圍生牛教之以犁，使野無曠土，而軍有餘糧。」這段文字敘述下列何解讀最合理？  
(A) XX 是指臺灣，旨在描述鄭氏時期寓兵於農政策  
(B) XX 是指澎湖，旨在描述施琅攻臺時布署之計畫內容  
(C) XX 是指安平，旨在描述荷治時期漢人牛耕開墾歷程  
(D) XX 是指臺灣，旨在描述清領前期的劃界封山政策
4. 根據《熱蘭遮城日誌》的記載，臺灣某一跨族群的「政權」威脅到他們的管理，無法順利由南向北拓展，直到該「政權」的領袖與南部地方會議後，才簽約臣服。後來的統治者先後對該「政權」採取更嚴苛的統治手段，至 1730 年代該「政權」宣告瓦解。有關該「政權」的敘述何者正確？  
(A) 該政權在清初遭到鎮壓，形成「番童少雁行，番婦半寡居」的局面  
(B) 鄭氏時期曾經與該政權合作，雙方共同來對抗清廷的各種威脅  
(C) 該政權為了對抗荷蘭人的高壓統治，雙方曾經爆發麻荳社事件衝突  
(D) 荷蘭人曾經依據該政權使用的語言創出新港文字，以利傳教與教化
5. 臺灣的四川牛肉麵令人垂涎三尺！據已故臺大教授也是美食家遼耀東推測，臺灣的川味牛肉麵並非源自於四川，而是高雄岡山空軍子弟及其家屬因懷念家鄉口味，將岡山的豆瓣醬燉成紅湯牛肉，加上麵條，而空軍在抗戰時期大本營即是在四川，就成了「四川牛肉麵」。請問：這種飲食可稱之為何種文化？  
(A) 閩南文化 (B) 客家文化 (C) 四川文化 (D) 眷村文化
6. 下列哪些臺灣鄉鎮市區級地名的變遷，最能反映解嚴後政府及社會對多元族群及其文化的尊重態度？  
甲：吳鳳→阿里山、乙：紅毛→新豐、丙：三地門鄉→三地鄉、丁：番社→東山、戊：三民→那瑪夏  
(A) 甲丙 (B) 丙戊 (C) 乙丁 (D) 甲戊

7. 1974 年，印尼當局發現一名在叢林中躲藏的「野人」。這個「野人」表示：為避免被「敵人」發現，不敢進入附近村落，自己耕種，獵捕野生動物維生，就這樣度過數十年，對外界事務，毫不知情。日本駐印尼使館派人前往探視，野人才知道戰爭早已結束。幾個月後，他搭飛機抵達臺灣。這個「野人」身分應當是？
- (A) 國共內戰之後撤出中國的國軍 (B) 韓戰爆發後逃往東南亞的華僑  
(C) 參加東南亞作戰的高砂義勇軍 (D) 越戰爆發後躲在山區的華人

8. 照片 1 甲是臺灣某地公廨改建的「太上龍頭忠義廟」；照片 4 乙是該廟的內部。祭壇供桌上有香爐、供花、長年燈和五個包裹紅色綢布的祀壺等，兩側還有稱為向缸的大水缸。請問：



照片 1

照片 1 所示的祭祀場所，是哪個原住民族的祭祀場所？且祭祀的場所在臺灣哪個區域數量最多？

- (A) 西拉雅族，北部 (B) 西拉雅族，南部  
(C) 凱達格蘭族，北部 (D) 凱達格蘭族，南部
9. 政府在某一個時期開始開放大陸探親，引發許多老兵及其伴侶或家人一同前往進行尋根之旅，請問：該政策是從哪位總統開始推動的？
- (A) 蔣經國 (B) 陳水扁 (C) 李登輝 (D) 蔣中正
10. 品樺響應觀光局的春遊補助來到花蓮旅遊，其中一處景點為「慶修院」，這引起了她的興趣。她用手機查了一下該院的歷史，發現該院位於過去的吉野村內，則下列資料何者正確？
- (A) 慶修院是因應皇民化運動時，官方所推動下的「正廳改正運動」而興建  
(B) 慶修院是為了紀念沈葆楨推動的開山撫番政策中，所犧牲的清軍將士  
(C) 慶修院是為了紀念國共內戰後，撤退來臺的大陳島民  
(D) 慶修院是日治時期日籍移民為了寄託思鄉之情所建
11. 「年輕時，我在譙東蓋了一間房子，想過著讀書、射獵的生活，待二十年後天下太平再入朝為官，但事與願違。我應朝廷徵召，擔任典軍校尉一職，希望能討賊立功，死後墓碑的題字為『漢故征西將軍曹侯之墓』。……董卓倡亂，我舉兵征討，也降服三十餘萬黃巾部隊，又討平袁術、袁紹、劉表等勢力，天下總算太平。我官拜宰相，位極人臣，超過我的願望。如果國家沒有我，不知道已經有多少人稱帝稱王。」這段資料應當是？
- (A) 政府追悼死者時的悼文 (B) 後世子孫對祖先的介紹  
(C) 政治人物對自己的描述 (D) 歷史學者對某人的描繪
12. 鄭氏統治時期，臺灣已出現男多女少的現象；清領臺灣後，限制渡臺不得攜眷，使男女比例更加懸殊。以下敘述何者「不是」反映臺灣移墾社會時期，男女比例懸殊，結婚大不易的現象？
- (A) 「過了三貂嶺，不敢回頭想某子」 (B) 「红柿上樹頭，羅漢腳目屎流」  
(C) 「有唐山公，無唐山媽」 (D) 「娶一個某，卡贏三個天公祖」

13.有一位清代官員是首先調整治臺政策的關鍵人物，他除了營造安平與打狗砲臺外，更認為臺灣必須設置電報保持與清朝聯絡的管道。在奏文書中他提到：「臺洋之險，甲諸海域，從前文報，恒累月不通，有輪船後，乃按月可達。至颶風大作時，雖輪船亦為所阻，故欲消息常通，斷不可無電報線。」請問這位具有現代化新思維的官員是何人？

- (A) 沈葆楨 (B) 丁日昌 (C) 劉銘傳 (D) 邵友濂

14.有首詩出自道光年間噶瑪蘭廳通判柯培元的《噶瑪蘭志略》：「人畏生番猛如虎，人欺熟番賤如土，強者畏之弱者欺，無乃人心太不古。……竊聞城中有父母，走向城中崩厥首，啁啾鳥語無人通，言不明畫以手。訴未終，官若聾，竊窺堂上有怒容，堂上怒，呼杖具，杖畢垂頭聽官諭：嗟爾番，爾何言？爾與唐人皆赤子，讓耕讓畔胡弗遵？……」請問應該如何理解這首詩？

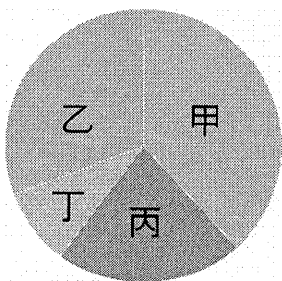
- (A) 這首詩反映熟番因位居弱勢，任漢人欺負 (B) 這首詩說明生番和熟番的定義區別  
(C) 這首詩敘述漢人開山撫番的弊端 (D) 這首詩強調官府差役過度，引發民亂

15.行政院在 1996 年成立原住民族委員會，但政府在規劃整體經濟政策時，似乎還是常忽略原住民族的相關權益，如臺電沒有經過任何協調與溝通，就將核廢料儲放在蘭嶼島上，而引發抗爭運動與關注。請問：臺電此舉侵害到以下哪一族群的權益？

- (A) 阿美族 (B) 泰雅族 (C) 達悟族 (D) 賽夏族

16.圖（一）是 2017 年，臺灣東南亞地區國際移工的國籍人數比例圖。請問：甲、乙、丙、丁依序是哪些國家？

- (A) 泰國、菲律賓、越南、印尼 (B) 印尼、越南、菲律賓、泰國  
(C) 越南、菲律賓、印尼、泰國 (D) 印尼、菲律賓、越南、泰國



圖（一）

17.請閱讀資料一跟資料二的內容，我們應該如何理解這兩段文字？

資料一：「文獻記載中國官方與臺灣住民的接觸，可以追溯到三國或隋代，臺灣與大陸有著極其密切的歷史關係，臺灣自古以來就是中國的領土，居住在臺灣的高山族是祖國民族大家庭的成員。」

資料二：「在歷史時代，文獻記載中國官方與臺灣住民的接觸，最早的可能可追溯到三國時代，或在隋代。假設文獻記載的島嶼的確指臺灣，這類的接觸也是偶發的、不連續的，數百年難得發生一次，在本質上不是隸屬的關係。我們甚且可以說，正由於有這類的記載，我們可以確定臺灣不是『自古即為中國領土』。」

- (A) 資料一為歷史解釋，資料二則是歷史事實 (B) 資料一為歷史事實，資料二則是歷史解釋  
(C) 兩者引用相同史料，結論不同，當有一誤 (D) 學者引用相同史料，可能獲得不同的結論

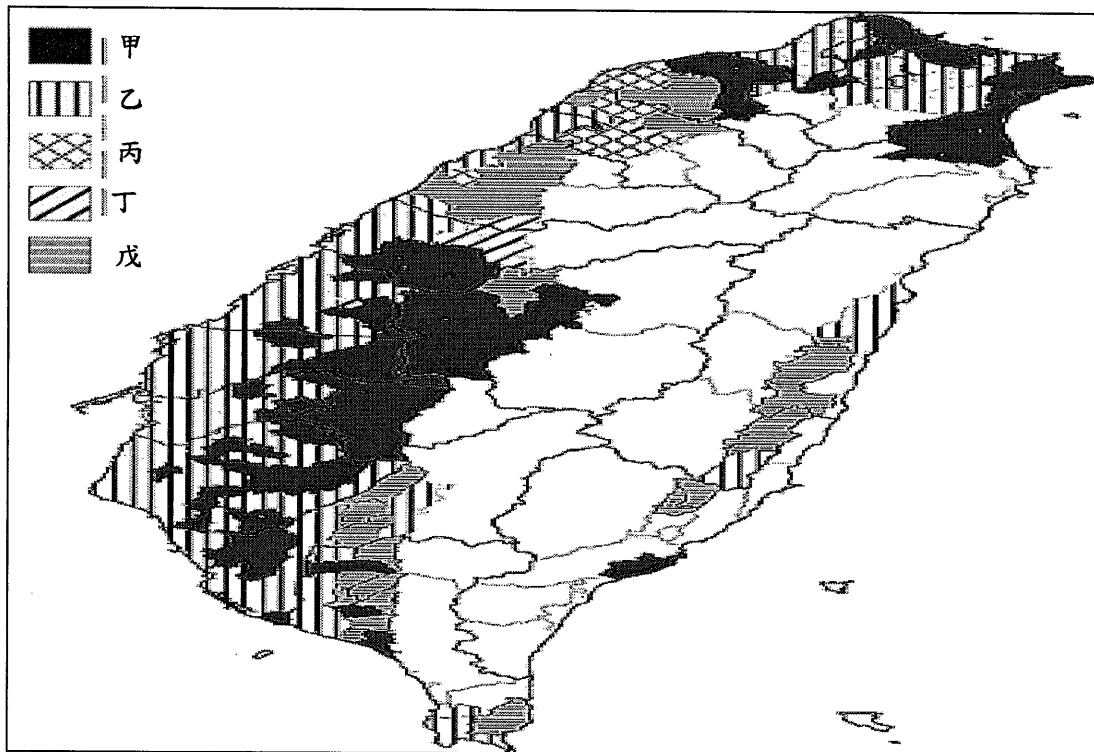
18.某組織：「……前面已經說過祖國抗戰，是對臺灣革命頂大的幫助，是臺灣革命展開的最好機會，所以我們必須要參加祖國抗戰，……祖國抗戰獲得最終勝利之時，並不保證臺灣革命一定成功。但萬一祖國的抗戰失敗，則等同臺灣革命的前途無望。」請問：下列何人最能代表這個組織？

- (A) 周里觀 (B) 謝雪紅 (C) 謝介石 (D) 李友邦

19.新北市立三民高級中學的高一校訂必修課程「環境顯微鏡」，是一門廣受師生喜愛的課程，許多學生為了完成課程的作業，努力蒐集資料，有些學生跑去湧蓮寺採訪主委，有些學生親自到西洋樓訪問當地的住戶，更有學生訪談學校教師，以利瞭解蘆洲地區的發展脈絡。請問上述文中學生蒐集歷史資料的類型屬於下列哪一種形式？

- (A) 影像紀錄 (B) 口述歷史 (C) 文字記載 (D) 實物遺跡

- 20.明清之際，移民臺灣的漢人多來自漳州、泉州、嘉應州、潮州和惠州等地區。圖（二）是根據 1926 年《臺灣在籍漢民族鄉貫別調查》的資料，以街、庄為單位繪製的「祖籍優佔區」分布圖。祖籍優佔區係指某一祖籍人口佔該地總人口比例最高的地區。圖（二）中哪個圖例，最可能代表泉州人的優佔區？
- (A) 甲 (B) 乙 (C) 丙 (D) 丁



圖（二）

- 21.《臺灣府志》記載：「人無貴賤，必華美其衣冠，色取極豔者。靴襪恥以布，履用錦，稍敝即棄之。下而肩輿隸卒，褲皆紗帛。」福建傳言臺灣「作一冬吃三冬，臺灣錢淹腳目，臺灣好賺食。」根據上文記載，以下解讀最為合理？
- (A) 客家〈渡臺悲歌〉可輔助上述史料，證明整個清代偷渡風氣都很興盛  
 (B) 從羅漢腳現象可以推斷，實際上來臺謀生很困難，上述史料過於誇大  
 (C) 臺灣早期地曠人稀，兼以氣候溼熱宜農耕，比福建原鄉生活容易許多  
 (D) 上述記載都是客頭欺騙福建沿海人民來臺編造的花言巧語，不足為憑
- 22.19 世紀中葉發生於臺灣某一場分類械鬥，落敗的一方被迫撤出原本的根據地，轉往河流中游的另一處港口發展。豈知不過十年來的光景，該港口順應時勢變化，一躍而成為茶商雲集的大城市。請問此一港口最可能為？
- (A) 鹿港 (B) 艋舺 (C) 大稻埕 (D) 鹿耳門
- 23.有一本記載平埔族群的史料如下：「男子準備成家，就選定可以為妻的女子，派人送一對瑪瑙珠到女子家。……如果接受，就在夜晚到女子家，不叫門，在戶外吹奏口琴挑動女子。……女子聽到口琴聲，就接男子入內同宿。天未亮，男子直接離去，……到了生下孩子，女子才至夫婿家迎回夫婿，如同婚禮中的親迎；這時女婿才拜見妻子的父母，從此以妻子的家為家，終身奉養妻子的父母，他的生父母不能把他當兒子看待了。因此，生女兒比生兒子還高興，因為女兒可以傳宗接代，而兒子無法繼承。」請問關於上文的史料解讀何者最合理？
- (A) 平埔族群不允許自由戀愛風氣 (B) 顯示平埔族群重男輕女的社會狀態  
 (C) 平埔族群由女性繼承財產 (D) 平埔族群的女性有其義務照顧男方的家屬
- 24.一則新聞報導指出：臺灣男子與外籍配偶所生的新臺灣之子，有學習障礙的比例遠高於父母皆為臺灣人所生之子，這可能與外籍配偶媽媽有關。下列哪一項解讀最能說明這項報導？
- (A) 國混血兒素質通常較純種的參差不齊 (B) 新聞媒體報導有時會將外籍配偶汙名化  
 (C) 外籍配偶媽媽比較沒有教育理念與方法 (D) 異國間的婚姻可能會降低臺灣人的水準

25.請閱讀以下兩則資料，資料提及的事件最有可能為何？

資料一：「這次戰役是中共戰史上第一次的陸海空三軍協同作戰。戰後，國民政府為因應險峻的情勢，決定縮短防線，強化金馬的防禦，並在美軍協助下撤守浙江沿海島嶼。」

資料二：「此事件又被稱為第一次臺海危機，一方面改變了臺海軍事形勢；另一方面，也讓中共了解臺灣問題其實還牽涉到複雜的國際關係。」

- (A) 1949 年金門古寧頭戰役 (B) 1950 年國軍自舟山群島與海南島撤退  
(C) 1955 年一江山島淪陷與大陳島撤守 (D) 1958 年八二三砲戰，國軍在美軍支援下固守還擊

26.「在清朝，『熟番』的定義是『歸附納餉』，餉是丁餉，也就是人頭稅；還要負擔很多公差。『熟番』的收入有限，丁餉、公差往往難以負荷，為了紓解困境，往往就把草埔、鹿場賣給漢人。」這段文字主要在說明？

- (A) 「熟番」差役及稅賦的變遷 (B) 「熟番」土地權流失的原因  
(C) 清廷對「熟番」的治理政策 (D) 清廷對臺灣「熟番」的定義

27.以下是一則與臺灣有關的資料，請問這則資料最有可能與哪個歷史事件有關？

「小的三十二歲，乾隆三十八年，隨父母來臺，趕車度日。時常聽見漳、泉兩府，設有天地會，邀集多人，立誓結盟，患難相救。我與同伙，平日意氣相投，遂拜盟起會。後因斗六有人立會入夥被人告發，並牽連我們一齊呈告。彰化官衙，差人到處查辦，衙役等從中勒索，無論好人、歹人，紛紛亂拿，以致各村莊俱被滋擾，我等只好抗拒官兵。」

- (A) 戴潮春事件 (B) 大嵙崁事件 (C) 朱一貴事件 (D) 林爽文事件

28.17 世紀初，「某些人」在臺灣的雲林、嘉義一帶建立基地，並招來漳州、泉州無業百姓前來開墾，為漢人在臺灣的農墾事業奠下初基，也使原住民族首度遭遇強大的競爭對手。文中的「某些人」最有可能是？

- (A) 漢人海商集團 (B) 荷蘭商人 (C) 日本倭寇 (D) 西班牙傳教士

29.喬科維奇在乾隆末年從漳州來到臺灣，到竹山社寮拓墾。他育有六子，死後留下公產三甲作為祭祀公業，由六房輪流耕作。輪值耕作公田者，負責該年祭祀祖先之費用。請問這是哪一種組織？

- (A) 開臺祖：血緣組織 (B) 開臺祖：地緣組織  
(C) 唐山祖：血緣組織 (D) 唐山祖：地緣組織

30.行政院認可的臺灣原住民多達 16 族，卻被視為是一個族群，其最主要的原因為何？

- (A) 相同血緣：臺灣的原住民皆來自於共同的祖先，各族都是同時自東南亞渡海來臺  
(B) 族群認同：臺灣的原住民雖分為多族，但彼此認同，自認為是同一民族  
(C) 相同語言：臺灣的原住民皆為「南島語族」，各族人民可以彼此溝通  
(D) 歷史因素：臺灣的原住民是漢人大量移民前的居民，漢人移民與原住民的衝突，使得原住民漸被視為一個群體

## 二、多選題共 6 題，每題 4 分（占 24%）

說明：多選題 31-36 題，每題 4 分，每題有 5 個選項，其中至少有一個是正確的選項，所有選項均答對者，得 4 分，答錯 1 個選項得 2.4 分；答錯 2 個選項者，得 0.8 分；答錯多於兩個選項或所有選項均未作答者，該題以零分計算

31.荷蘭東印度公司統治臺灣的時間不長，其歷史評價如何，至今仍值得討論，但凡走過必留足跡，特別是對原住民的統治影響更見深遠。下列哪些「東印度公司遺產」（政策或作為），對原住民的影響至清代還可以見到？

- (A) 領主封臣 (B) 王田制度 (C) 贖社制度 (D) 勞役徵調 (E) 新港文書

32.某位政治人物向原住民族說道：「荷蘭及鄭成功對平埔族群的屠殺和經濟剝削，清朝時代重大的流血衝突及鎮壓，日本統治時期全面而深入的理蕃政策，一直到戰後中華民國政府實施的山地平地化政策。四百年來，每一個曾經來到臺灣的政權，透過武力征伐、土地掠奪，強烈侵害了原住民族既有的權利。」請問關於臺灣不同政權的與原住民族的互動，哪些正確？

- (A) 荷蘭時期對平埔族群的屠殺，最有名的是郭懷一事件
- (B) 鄭成功實施的王田制度，大量侵吞原住民的土地
- (C) 清末實施的開山撫番政策，讓漢人及原住民的關係變得更加親密
- (D) 日治時期的理蕃政策讓原住民族利益優於日本利益
- (E) 中華民國政府將高砂族改稱山胞，再改稱原住民

33.歷史課時兩位同學發表對清代臺灣社會發展的想法，下列哪些說法正確？

宇姍：清代臺灣社會的發展，在政策上傾向於以學習中國各省的社會形態為目標，期能轉變成與中國本部完全相同的社會，並強調中華民族向邊陲地區擴展融合、趨於一體的過程。

瑋文：清代臺灣移民心態上仍認同中國大陸祖籍，臺灣是中國傳統社會的延伸。但隨著時間推移，移民在地緣意識上逐漸認同臺灣本土，社會群體也產生改變，新的血緣和地緣團體形成。

- (A) 宇姍認為是內地化過程，瑋文認為是土著化過程
- (B) 宇姍認為是土著化過程，瑋文認為是內地化過程
- (C) 兩者都認為清代臺灣社會是內地化的過程
- (D) 兩者都是在討論臺灣社會變遷的模式
- (E) 兩者都認為清代臺灣社會是內地化的過程

34.某位臺灣原住民回憶說：「日本警察協助我們蓋新房子、修築灌溉水圳，還聘請平地漢人教導我們水稻種植技術，希望我們在新住地定居下來。」這段回憶反映了日本殖民政府哪些重要的原住民政策？

- (A) 將原住民族集體遷徙
- (B) 促進原、漢間交流
- (C) 改變傳統的狩獵生活
- (D) 利用警察統治原住民
- (E) 讓原住民住者有其屋

35.以下為三則與臺灣史相關的口述歷史文獻，下列哪些解讀最為合理？

甲：「到了山頂，她望見成列的屍首上吊在樹枝上，一共 21 名親人，夫君的屍首也在其中，親人都穿著傳統服裝，夫君穿著羽織和服，想必他在死亡前是充滿怨恨、矛盾、茫然和遺憾。」

乙：「在川中島，優秀的青年都爭先恐後地赴海外出征。我們都在志願制度下血書報效。這是告訴日本人，我們也是男子漢呀！不要對我們有差別待遇！」

丙：「每逢建設，我們必定被強迫從事砍伐森林等苦工，工資比其他地方低很多，還時常領不到錢，只給我們鹽代替工資，強迫勞役的日子有增無減。」

- (A) 三則資料的主題是霧社事件
- (B) 按照時間先後順序排列為：丙→乙→甲
- (C) 資料甲的敘述為歷史解釋
- (D) 資料乙是漢人對日本的訴苦，希望日人對他們一視同仁
- (E) 資料丙的時間屬於皇民化時期

**背後尚有試題，請繼續翻頁作答**

36.根據下列兩則資料，選出最適當的選項？

資料一：語言是考察人類遷徙的另類遺跡，而同語族但語言分布最歧異的地區，最有可能是該語族的起源地或擴散中心，臺灣正是擁有種類最多且最密集的南島語族地區。

資料二：從語言學來考察族群起源的說法，尚需要其他學科的佐證，方可成為定論。因此強調在遺址實地研究的考古學，就可能比其他學科得以發掘出更直接、真實的證據。

- (A) 資料一認為台灣可能是南島語族的重要起源擴散地
- (B) 資料二認為考古遺址是研究民族起源最主要的證據
- (C) 兩則資料都認為語言是研究民族遷徙最重要的史料
- (D) 兩則資料都認為考察遺址才有可能發現民族的起源
- (E) 上述兩者資料觀點互相衝突，只有一個說法是正確

### 三、閱讀素養導向題，每題 4 分（占 16%）

說明：閱讀素養導向題 37 至 40 題，每題 4 分，每題有 4 個選項，其中只有一個是正確或最適當的選項，答錯、未作答或劃記多於一個選項者，該題以零分計算。

請閱讀以下文章並回答 37-38 題。

政府規劃整齊劃一的移民村，欲將日本農村模式移植到臺灣，並做為臺灣農村的示範。然而這種硬生生的空間轉移，多多少少與臺灣社會有些格格不入。日本農村相當注重居住環境的美化，雖然住屋是瓦片或厚厚茅草為頂的木造房，但環境清雅宜人。而位於河川浮覆地的西部移民村，建設在砂原之上，一棟棟住宅像極了火柴盒，四周景觀單調，許多移民看到自己未來就要住在這種不毛之地，失望之情溢於言表。雖然日本移民多半來自日本南部地區的農村，但他們對臺灣潮溼炎熱的天氣仍相當不能適應……，加以日本的耕種期為春、夏、秋季，冬季為農閒期，但是臺灣中部為兩期稻作區，農務繁忙，最初幾年的開荒工作尤其辛苦，……五、六年後已有多人死亡。和生活最密切的飲水問題也讓移民十分困擾，移民村的飲用水水質很差，不能生飲，取水又不方便。在語言上，移民縱使都來自日本，但是因為來自不同地區，所以各操不同方言，彼此的溝通並不順暢。在臺灣的學校裡則使用標準語（東京腔），許多日本南部地方的移民有如鴨子聽雷。走出移民村，和臺灣人言語更是不通，簡直就像啞巴一樣。……日本移民看到路上血跡斑斑，目睹這種景象讓他們十分懼怕，原以為是肺結核患者，後來才知道其實是本島人嚼檳榔吐檳榔汁，不禁啼笑皆非。種種生活上的不適應，都比不過疾病的殺傷力，開發程度較底的花蓮港廳移民村，移民患病率相當高，連衛生狀況較好的西部移民村也深受各種疾病的威脅。

37.根據上文所述，日本政府為何在臺灣規畫移民村？

- (A) 以日式農村做為臺灣的模板
- (B) 為了紓解日本勞動力過剩的壓力
- (C) 為了解決臺灣在工業發展上的勞力需求
- (D) 為了向臺灣人宣示殖民主權

38.對日本移民而言，在臺灣的生活中，哪一件事最令他們困擾？

- (A) 疾病
- (B) 氣候
- (C) 居家周圍
- (D) 語言

**背後尚有試題，請繼續翻頁作答**

請閱讀以下文章並回答 39-40 題。

清朝有一個人，名叫吳鳳（1699-1769）。他小時候，跟隨父母由老家福建，遷來臺灣，住在嘉義縣阿里山下。他聰明能幹，每天除了自家勤苦工作以外，還教鄰近的高山同胞，播種、插秧和製造工具，所以大家都很敬愛他。後來政府派他做阿里山的通事，管理高山同胞。吳鳳像家長一樣的照顧他們，像老師一樣的教育他們，像朋友一樣的幫助他們。不久，把一個野蠻的地方，治理得有條有理。阿里山的高山同胞，從前有一種野蠻的風俗；每年秋末祭神的時候，要獵取人頭來上貢。吳鳳知道這是多年的迷信，不容易馬上革除，就規定把過去變亂的時候，被殺的四十多個漢人的頭，每年給他們一個上貢。四十多年以後，人頭用完了，高山同胞又向吳鳳要求獵取祭神的人頭，吳鳳再三勸說，山胞都不聽從。他難過極了，就哭著像山胞說：「殺人是壞事啊！如果你們一定要殺人，明天早晨在我辦公處的附近，有一個穿紅衣裳戴紅帽子的人，你們就把他殺了吧！」第二天早晨，幾十個高山同胞，拿著刀槍和弓箭，在那裡等候；果然看見一位穿紅衣裳戴紅帽子的人，騎著一匹白馬走來。他們一聲喊叫，就把那人打倒，把頭割下來；仔細一看，原來是他們最敬愛的吳鳳。那時候他們像瘋了一樣，大哭大叫，有的咬自己的手，有的打自己的臉，悔恨不已。從此，他們為了悼念吳鳳，就自動把那種野蠻的風俗革除了。

39.關於這個故事的解讀，下列何者最為合理？

- (A) 吳鳳成功感化原住民族，從此原住民族獵取人頭的習俗自此消失
- (B) 吳鳳是由統治階層創造出來的神話，以利政權對原住民族的掌控
- (C) 吳鳳的犧牲奉獻，加速原住民族的漢化及文明化
- (D) 吳鳳的犧牲，反映出原住民族的野蠻及未開化

40.關於吳鳳的一生的遭遇，下列敘述何者正確？

- (A) 吳鳳來臺時，臺灣已進入定居社會，臺灣的民變和械鬥比率已大幅降低
- (B) 吳鳳來臺時，必須申請渡臺許可證，否則將無法來臺
- (C) 吳鳳跟高山同胞相處的族群是賽德克族
- (D) 吳鳳來臺時，曾經與中部岸里社共同開發土地，「割地換水」是一個例子

**試題結束！祝考試順利！請再次確認畫卡是否劃錯！**