

一、單選題：共 30 題，每題 2 分（占 60 分）


說明：單選題 1 至 30 題，每題 2 分，每題有 4 個選項，其中只有一個是正確或最適當的選項，答錯、未作答或劃記多於一個選項者，該題以零分計算。

1. 高二歷史課堂上，老師讓同學討論歷史的閱讀資料，其中有一篇資料內容有圖（一）中華蘇維埃共和國國家銀行所發行之鈔票，印有列寧頭像，且下面寫著「憑票券即付銀幣壹元」。圖（二）是這個貨幣的使用地區。四個同學分別發表對這張兩張圖的描述，下列何人的解讀最為合理？

- (A) 榮森：這是 1920 年代，「聯俄容共」時期，蘇聯援助中國的鈔票，目的是協助中國完成北伐
- (B) 彥融：這是 1930 年代，國共第一次分裂時，中共佔領區發行的貨幣
- (C) 倩音：這是 1940 年代，國共第二次分裂時，中共佔領區發行的貨幣
- (D) 家瑄：這是 1940 年代，蘇聯共產政權在中國發行的鈔票，目的在於協助中共推動革命



圖（一）



圖（二）

2. 柏軒對中國近代史非常有興趣，他在圖書館找了一本書閱讀，書中的內容如下：「此時，國民政府的軍隊已占領北京，並將政府所在地移往南京。這時國民政府對大部分的中國至少實行了名義上控制，海外的一些國家看到國民黨的成就，便在外交上承認了南京政府，並同意南京政府有權經辦中國關稅和海關事務。它們還部分放棄了治外法權，並保證在不久的將來完全取消這些特權。」關於柏軒看的書籍資料的歷史背景，下列何者解讀最為合理？

- (A) 1923 年，因為中國國民黨「聯俄容共」而收回許多特權
- (B) 1928 年，中國國民黨完成北伐，中國得以恢復形式上的統一
- (C) 1936 年，中國國民黨進行剿共，徹底撲滅共產勢力
- (D) 1943 年，英美向中國釋出善意，取消對中國的不平等條約內容

3. 某一時期，對峙的兩方進行談判，某一方堅持下列七點和平條件：「一、懲辦所有戰犯；二、廢除不合理憲法；三、廢除國民黨的法統；四、改編國民政府部隊；五、沒收官僚資本；六、改革土地租佃制度；七、廢止所有賣國條約。」關於此談判背景應為下列何者？

- (A) 「國共內戰」時，中國國民黨和中國共產黨最後和談
- (B) 「西安事件」後，中國國民黨和中國共產黨再次合作
- (C) 「北伐」後，中國國民黨欲削弱地方軍閥勢力
- (D) 「中日戰爭」時，中國國民黨和中國共產黨展開重慶會談

4. 中華人民共和國建國後的某一時期，完成消滅私有財產，達成工商業與農業的集體化目標，同時實施糧食徵購制度以確保工業發展和城市糧食供應問題，並建立嚴密的戶口制度，形成日後「城鄉隔離」的二元社會結構。試問這應是哪一時期的措施？

- (A) 第一個五年計畫時期
- (B) 三面紅旗運動時期
- (C) 文化大革命時期
- (D) 三反、五反時期

5. 「這是一個嚴重的判斷錯誤，認為日本不會打的，認為日本是在挑釁，想說找點麻煩，可以多要點好處哇。我是這麼個判斷。那時候想依靠國聯，沒想到國聯沒有力量。……我這個人呀，比如西安事件，等於我叛變。我上南京，把領導人送到南京，軍法審批可以把我槍斃，我也知道。槍斃就槍斃，我是軍人，我該負責任。我這人是從來這樣子，我幹什麼我負責任，我決不退卻。」這段資料應該如何理解？

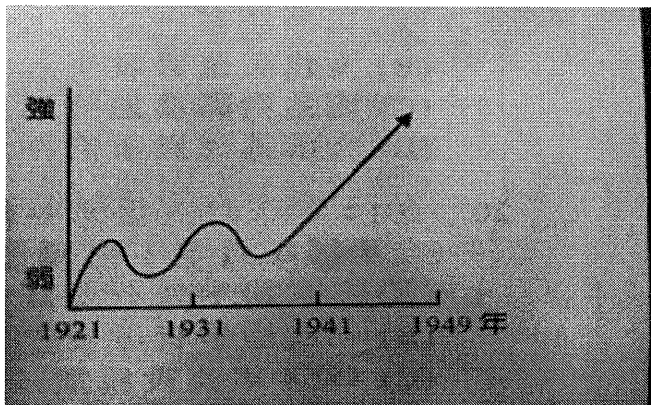
- (A) 歷史學者對重要事件的評論 (B) 官方正史對歷史人物的褒貶
(C) 政治人物對自己過往的口述 (D) 中國民間報紙對重要事件的報導

6. 某人在筆記反省自己和中國國民黨執政失敗原因共有十三條，包含：外交上，聯美拒蘇失衡；軍事上，很多將領未戰卻先思逃；黨務上，黨員紀律鬆散而內鬥；經濟上，拋售黃金誤國；對待政敵，不應與其談民主；個性上，自己輕浮躁急，剛愎自用武斷；行政上：官員幹部自私，也沒能大力宣揚民生主義優點等等。請問：這是此人在反省何事？

- (A) 中日戰爭 (B) 國共內戰 (C) 剿共戰爭 (D) 中原大戰

7. 從圖（三）曲線圖表現中共自成立到取得政權期間勢力的消長，以下敘述何者「錯誤」？

- (A) 1921 年中共成立時不過數十人，中國國民黨的「容共」使之壯大
(B) 1921~1931 年中國國民黨發動五次大圍剿，使得中共勢力下降不少
(C) 1921~1931 年波谷是指中共「反右派運動」後「長征」亡命於陝北
(D) 1941~1949 年是指中日戰爭時期，共產黨於華北東北發展，不斷壯大自己的勢力



圖（三）

8. 以下是第二次世界大戰期間臺灣商人在三個地區所遭遇的狀況：甲地——不太敢表明自己的身分，但如果日軍來了，卻可藉此拓展商機；乙地——積極推銷物美價廉的農產品，但執政當局卻有許多管制規定，致使利潤有限；丙地——母國在此有計畫性的經營，但當地華僑出現抵制運動，發展受到衝擊。請問甲、乙、丙依序應該是哪裡？

- (A) 甲：華南、乙：日本、丙：南洋 (B) 甲：華南、乙：南洋、丙：日本
(C) 甲：東北、乙：日本、丙：南洋 (D) 甲：南洋、乙：華南、丙：東北

9. 中華人民共和國成立後，中國又再度建立了牢固的中央集權，其與以往帝國統治最大的差別在於？

- (A) 傳統帝國專制獨裁，中華人民共和國推動民主政治
(B) 傳統帝國打壓地主，中共則致力爭取地主支持
(C) 傳統帝國是資本主義社會，中共則是共產主義社會
(D) 傳統帝國「縣」以下的地方社會，有相當大的自主空間；中共以「鎮壓反革命」為口號，將鄉村社會納入掌控

10. 張藝謀拍攝的中國電影《活著》，故事主角徐福貴歷經中國近現代多個不同時代，從中華民國政府統治中國末期到文化大革命時期，歷經家國磨難坎坷，政治波動，父親、母親、兒子、女兒相繼離開人世，而始終頑強的活著，見證中國近代的巨變。電影有一個經典對白如下：「雞養大了就變成鵝，鵝養大了就變成羊，羊再養大了就變成牛啦！牛以後呢？牛以後就是共產主義啦！天天吃餃子，天天吃肉啦！」這部電影的時代背景最有可能為時？

- (A) 1940 年代末期 (B) 1950 年代末期 (C) 1960 年代末期 (D) 1970 年代末期


11. 資料一：本黨遭到大規模的破壞，幾個月前還有 5 萬多名黨員，現在只剩 7 千多名。左翼的國民黨人士不是銷聲匿跡就是被迫流亡。湖南、廣東的大部分農民運動領袖不是犧牲，便是被捕下獄。
- 資料二：1927 年 4 月 12 日，中國國民黨在上海進行了血腥大屠殺，同一時間江蘇、廣州等地也發生了大屠殺，許多著名共產黨員都在這一時間被捕、犧牲了。其後，中國國民黨在南京另立國民政府，與武漢的國民政府對抗，史稱「四一二政變」。

關於這兩段資料的解讀，下列何者最為合理？

- (A) 兩則資料都是敘述中國國民黨清黨的結果
 (B) 資料一和資料二的政治立場明顯不同
 (C) 呈現國軍五次圍剿中國共產黨的成就
 (D) 資料一是中國共產黨的立場，資料二是中國國民黨的立場

12. 圖（四）為存在於中國某一時期政權國旗，國旗上面的文字為「和平反共建國」，下列關於這此一政權及其旗幟的敘述，何者正確？

- (A) 這是國民革命軍北伐初期使用的旗幟
 (B) 這是清黨前夕武漢國民政府使用的旗幟
 (C) 此一政權主導了西安事件的發生
 (D) 此一政權受到日本政府的扶植



圖（四）

13. 「中共之所以能夠從廣大的農村動員人山人海的民伕，使用最原始落後的運輸工具，卻能保證前方軍人糧食和彈藥不虞匱乏，則不能不歸功於土地革命的配合。」請問以下敘述，何者最符合這個論點？

- (A) 同樣性質的土地改革中國國民黨雖無法在中國實施，卻在退守臺灣後成功推動
 (B) 「前方軍人」指的是對日軍作戰的共軍
 (C) 這是中共「農村包圍城市」策略奏效的重要因素
 (D) 土地革命實施地區包括湖南、四川、雲南等省分

14. 1930 年代，某部中國寓言小說描述一位太空旅人飛抵外星，發現貓人國遭遇矮兵襲擊，貓人國因政治紛爭無法團結抵禦外侮，最後貓族在矮兵眾目睽睽下自相殘殺至死。這個政治寓言故事諷刺了當時中國的政治社會現實，請問以下敘述何者正確？

- (A) 貓族後來團結抵抗矮兵是貓人國國內兩黨首度合作
 (B) 貓族最後未如小說自相殘殺至死，與西安事件有關
 (C) 貓人國的政治紛爭乃是中國國民黨左派和右派路線之爭
 (D) 「矮兵襲擊」暗指七七盧溝橋事件日本入侵中國

15. 有一文件記載：「我三大盟國此次進行戰爭之目的，在制止及懲罰日本之侵略，三國絕不為自己圖利，亦無拓展疆土之意思。三國之宗旨，在剝奪日本自 1914 年第一次世界大戰開始後，在太平洋上所奪得或佔領之一切島嶼，及日本在中國所竊取之領土，如東北四省臺灣澎湖列島等歸還中華民國。」上述應該是哪一個歷史文件？

- (A) 《中蘇友好同盟條約》 (B) 《雅爾達密約》 (C) 〈波茨坦宣言〉 (D) 〈開羅宣言〉

16. 中共的戰史中提到的「淮海戰役」，認為這場發生在 1948 年底至 1949 年初的戰役，使他們可以控有北京、天津，並逼使國軍撤守長江，使中國贏得決定性的勝利。請問這場「淮海戰役」指的哪一場戰爭？

- (A) 徐蚌會戰 (B) 遼瀋會戰 (C) 平津會戰 (D) 武漢會戰

- 17.在思想控制方面，毛澤東於 1942 年在延安推動 XX 運動，使其成為在黨、政、軍與思想上都不容挑戰的最高領袖。請問 XX 最有可能指的是？
 (A) 整風運動 (B) 文化大革命運動 (C) 三面紅旗運動 (D) 三反、五反運動
- 18.某個條約的簽訂，是美國基於一種軍事上的假設：美國認為德軍投降後，它要用一年半的時間才能擊敗日本。這段時間內，日本在中國東北的關東軍可以調回日本國內抵抗美軍的登陸。此時唯一能牽制關東軍的國家，就是 XX。於是美國在這個條約中得以釋放中國權利為誘因，促使 XX 與日本作戰。請問文中的某個條約和 XX 國家分別為何？
 (A) 《雅爾達密約》，英國 (B) 《雅爾達密約》，蘇聯
 (C) 〈波茨坦宣言〉，英國 (D) 〈波茨坦宣言〉，蘇聯
- 19.自中共建黨以來，國共關係非常複雜，有：甲→軍事抗共、乙→五次剿共、丙→聯俄容共、丁→聯共抗日、戊→清黨分共。這些不同關係，請按照時間先後排列應該是？
 (A) 丙戊乙丁甲 (B) 丙戊丁乙甲 (C) 丙戊乙甲丁 (D) 戊丙乙丁甲
- 20.學者評論中國現代史的某件事情，認為「毛澤東原本以為知識分子已經失去階級基礎，完全依賴國家，可以放心動員他們……沒想到知識分子的批評竟然激烈異常，毛澤東盛怒之下，硬說自己是搞陽謀，引蛇出洞，反而要黨組織進行反右運動。」引文中所謂的「動員他們」、「知識分子的批評」指的是什麼？
 (A) 雙百運動 (B) 破四舊、立四新運動 (C) 反革命運動 (D) 整風運動
- 21.全國人民代表大會，為中國現行最高國家權力機關。它由各省級單位間接選舉產生近 3000 名代表，並以國家主席為國家的最高領導人。然而，長期以來，全國人大卻被批評僅僅扮演著「橡皮圖章」和「舉手機器」的角色，其原因為何？
 (A) 國家主席將大權獨攬，人民無法有效抗衡
 (B) 大會內部的派系鬥爭嚴重，政策經常被杯葛
 (C) 在黨國體制下，黨中央才是權力的核心
 (D) 全國人民代表大會的成員由中國共產黨由直接指派，並無落實選舉機制，無法彰顯民意
- 22.2019 年 11 月上映的電影《決戰中途島》，故事在描述第二次世界大戰期間，美國和日本在太平洋的中途島展開激烈的海戰攻防，最後美國成功打贏這場戰爭，扭轉了原先頹勢的戰局。請問關於美國參戰前後，對戰局的發展，下列哪一種說法最為正確？
 (A) 美國積極援助中國，使得中國快速突破日軍的封鎖
 (B) 美國採「重歐輕亞」的戰略，自始自終沒有援助亞洲戰場
 (C) 美國的飛虎隊曾在中日戰爭期間，來中國援助亞洲戰場
 (D) 美國在蘇聯對日本宣戰後，分別在廣島跟長崎投下原子彈，迫使日本無條件投降
- 23.毛澤東在一篇〈中國人民站起來〉的開幕詞提到：「當著我們舉行的時候，中國人民已經戰勝了自己的敵人，改變中國的面貌，建立了中華人民共和國。」請問：這篇演說的時間為何時？
 (A) 1912 年 (B) 1921 年 (C) 1945 年 (D) 1949 年
- 24.這場運動的目標原本是黨政軍幹部，但隨著運動的進行，毛澤東逐漸將矛頭指向資本家，指責官員貪污來自私營工商業者的賄賂，逼使企業家爭相遞交「坦白書」。這應是中國大陸哪一時期的運動？
 (A) 1950 年代的三反五反運動 (B) 1950 年代的大躍進運動
 (C) 1950 年代的反右派運動 (D) 1950 年代思想改造運動

25.表（一）為 1927 年至 1936 年國民政府的關稅收入金額，請問選項中的相關敘述，何者正確？

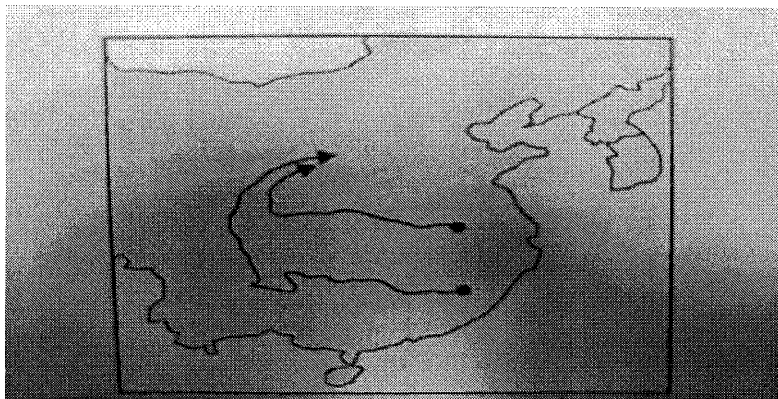
表（一）

項目	1927	1928	1929	1930	1931	1932	1933	1934	1935	1936
百萬元	12.5	179.1	275.5	313	369.7	325.5	352.4	71.2	24.2	635.9
占稅收比重	27%	69.1%	59.7%	58.5%	60.1%	55.8%	53.4%	17.1%	6.2%	60.1%

- (A) 1928 年收入大幅增加，原因是北伐完成，國民政府和歐美國家全面廢除不平等條約
- (B) 中國關稅自主權喪失於英法聯軍時簽訂的清英法《北京條約》
- (C) 日本表達善意，最先和我國訂定新約，中國獲得關稅自主
- (D) 全球的世界經濟大恐慌影響影響了 1934 年的關稅收入大幅降低

26.亮穎看到歷史課本有幅照片如圖（五）。請問這最有可能是哪個事件的路線圖？

- (A) 國共內戰時，雙方展開三次大會戰的路線圖
- (B) 中日戰爭期間，以空間換取時間的國軍撤退路線圖
- (C) 中國國民黨的北伐路線圖
- (D) 中國共產黨的「兩萬五千里的長征」路線圖



圖（五）

27.中共政權在 1979 年鄧小平執政時，宣布嚴格的人口控制政策，規定每對夫妻只能生育 1 個子女，且必須獲得官方的准生證才能合法生育。但第十八屆中央委員會第五次的全體會議於 10 月 26 日至 29 日在北京舉行。會後正式宣布一胎化政策正式解禁，全面開放可養育兩個子女。近年來鬆綁一胎化政策，其最有可能的原因為何？

- (A) 在國際人權組織施壓下而改變
- (B) 勞動力逐漸老化不利經濟發展
- (C) 經濟發展佳，許多人民已能負擔養育子女的費用
- (D) 性別比例失衡引發嚴重的社會治安問題

28.「中共將取消一竊推翻中國國民黨政府的暴動政策及次赤化政策，停止以暴力沒收地主土地的政策」、「取消現在的蘇維埃政府，實行民權政治，以期待全國政權之統一」。以上兩段正式宣言可能出現於何時？

- (A) 中日戰爭爆發後不久，中共隨即表態要與國民政府共同抗日的決心
- (B) 中日戰爭結束後，美國特使來華調停，要求國共共組聯合政府
- (C) 在蘇聯的策劃下，中共改變態度，也促使孫中山同意聯俄容共政策
- (D) 中國國民黨在上海清黨，許多中國共產黨黨員遭到整肅，迫使中共提出和解

29.此人在河北主持平民教育計畫，也成立「平民教育會」，並譽為是「中國平民教育之父」，他積極投入農民教育，希望根治傳統中國農村「貧、愚、弱、私」四大毛病。他的目的不外乎給農民一些公民教育，一些公共衛生服務、作物和牲畜育種的科學化改良。請問此人最有可能是誰？

- (A) 梁漱溟
- (B) 陶行知
- (C) 晏陽初
- (D) 胡適

30.小說家丁玲在她的作品裡有一段平實而傳神的記載：「錢地主跪在臺中央，長袍撕成了布條，腳上沒有鞋子，低著頭不敢看人。他讀道：『在過去，我在村子裡犯了欺壓好人的罪行……』」這不夠，光寫『我』是不夠的，一定要寫上『土霸錢某』。」請依歷史知識判斷，這應是中共在中國大陸實施的哪一措施？

- (A) 土地改革
- (B) 反右派運動
- (C) 鎮壓反革命運動
- (D) 新民主主義

二、多選題共 5 題，每題 5 分（占 25 分）

說明：多選題 31-35 題，每題 5 分，每題有 5 個選項，其中至少有一個是正確的選項，所有選項均答對者，得 5 分，答錯 1 個選項得 3 分；答錯 2 個選項者，得 1 分；答錯多於兩個選項或所有選項均未作答者，該題以零分計算

31. 中國國民黨完成北伐後到中日戰爭爆發前，這段期間被學者稱為「十年建設」。但這段期間地方勢力仍強，國民政府在政治、經濟、軍事上均難以有效統帥中國。為了使全國融合為一體，同時強化中央集權，國民政府推行那些政策？
- (A) 廢除釐金 (B) 縮編國軍 (C) 推行法幣 (D) 民選總統 (E) 國共合作
32. 學者指出：「光從理想來看，江青和張春橋諸人的言論基本上就是毛澤東的言論，可是這些人無論是政治上還是思想上都不足以擔任大任，對實際日常工作尤其缺乏手腕。反而老幹部這些人，實際從政經驗豐富，只是這些人除了毛澤東本人以外，無人可以駕馭；毛澤東愈來愈相信，自己百年以後，他們很可能像赫魯雪夫一樣，背離文化大革命的理念，並進而徹底否定自己思想和政治領導的正確性。然而，毛澤東的時間已經不多，在沒有解決兩派人馬的問題之前，他只能找一位忠厚踏實的幹部。」下列關於引聞的分析，有哪些是合理的？
- (A) 這位學者探討的問題應是「文化大革命的背景」
(B) 文中透露出毛澤東正打算剷除四人幫
(C) 忠厚踏實的幹部指的可能是華國鋒
(D) 引文所述的時代背景應為 1970~1975 年間
(E) 老幹部指的可能是周恩來和鄧小平等人
33. 1949 年中國大陸淪陷的背景十分複雜，五位同學發表他們的看法，哪些敘述合乎史實？
- (A) 承翰：中日戰爭所帶來的經濟崩壞和社會解體，使國民政府恢復秩序的努力終歸失敗
(B) 偉臣：中國國民黨在戰後過度依賴美國太重，後來因為美援不來，頓失信心
(C) 玢璇：中共先採游擊戰拉長國軍戰線，並用持久戰不斷消耗國軍實力，讓戰費拖垮國民政府原先就困難的財政
(D) 珮瑜：物價的飛漲與金圓券政策的失敗，摧毀了國民政府的威信，更導致人心思變
(E) 予婷：國民黨雖然一直能贏得知識青年的擁戴，卻仍不敵中共以土地改革吸引廣大農民群眾的支持
34. 資料一：1925 年 8 月 20 日，中國國民黨黨內一直被視為親共的廖仲愷被暴徒刺殺，言論猜測是中國國民黨反共份子所為，當中胡漢民被認為有重大嫌疑。
- 資料二：1926 年 3 月 18 日，海軍局長李之龍（中國共產黨黨員），令蔣校長座艦由廣州駛回黃埔，準備挾持蔣校長直駛海參崴，送往俄國。3 月 20 日，蔣校長採取斷然措施，宣布戒嚴，包圍俄國顧問住宅及共黨機關，收繳共黨分子所操縱的罷工委員會槍械，事件的起因，至今並無定論。
- 分析上述兩則歷史懸案，下列敘述何者最為合理？
- (A) 這場事件造成寧漢分裂，使得中國無法完成統一
(B) 這兩則資料充分顯示中國國民黨和中國共產黨的衝突矛盾
(C) 這兩則討論的事情應該為中原大戰的反蔣運動
(D) 這場事件結束後，汪兆銘獲得大權，擔任國民政府主席
(E) 這場事件結束後，中共勢力大幅提升，中國國民黨決定開始剿共

35.資料一：中國共產黨新聞網：人民網報導

1935年黨中央在貴州遵義召開會議，毛澤東被選為政治局常委。隨後又成立了以毛澤東為首，周恩來、王稼祥參加的三人軍事指揮小組。從此確立了毛澤東在紅軍和黨中央的領導地位。

資料二：中國大陸歷史學者在中國媒體揭露

依據1936年，紅軍總政治部在廣泛徵集材料基礎上編輯整理了《紅軍長征記》又名《二萬五千里》一書，認定遵義會議之後，毛澤東只是成為最高軍事領導三人團的一員，主要任務是幫助周恩來管軍事，因此質疑遵義會議並沒有確立毛澤東的領導地位。

請問：上述新聞材料相互參證，五位同學發表他們的想法，哪些人的說法最有歷史思維的能力？

- (A) 安杰：資料一的人民網是官網，可信度高於資料二的一般媒體
- (B) 怡萱：資料一和資料二和對比，說明毛澤東的領導地位不是一次到位
- (C) 崑弘：資料二的資料是有關長征回憶的最初形態，史料價值度高於資料一
- (D) 家臻：資料二揭發當年歷史真相，使得中共人民都不再相信毛澤東建立的領導地位
- (E) 長勳：資料一可採信的是毛澤東的領導地位在遵義會議肇始

三、閱讀素養導向題，每題3分（占6分）

說明：閱讀素養導向題36至37題，每題3分，每題有4個選項，其中只有一個是正確或最適當的選項，答錯、未作答或劃記多於一個選項者，該題以零分計算。

詳讀下列資料後，並回答36-37問題：

資料一：中共異議分子魏京生提到在文革後下放到農村的所見所聞：「我經常聽農民談到□□，他們把那一期當作『世界末日』一樣提到，流露出劫後餘生的榮幸之感。……例如農民談到1959-1960年代的共產風使得豐收的稻子沒有人收割，因為農民們都餓得動不了，眼看稻子被風吹落到田裡而餓死的就有不少人。……有一次，我和一位親戚到幾里外一個村莊去作客，走過一個沒有人的村子，村裡的房子都沒有屋頂，只剩了土牆。親戚說：『……共產風時，這村的人都餓得死光了。』……這時我在人家酒席上聽到的交換吃小孩的情景，好像從土牆中的野草裡浮現出來。……是誰讓他們把無論如何也救不活的孩子們送給別人吃掉呢？是誰讓他們伴著其他父母的眼淚與辛酸咽下從來也不敢夢想去嚐一嚐的人肉呢？……是毛澤東及其追隨者用他們的罪惡制度和罪惡政策，逼使這些餓得失去理智的父母把自己的骨肉送去給別人吃，以便自己可以拿別人的親骨肉來充饑。」

資料二：當時幹部寧可讓你餓死在家中，也不准外出逃荒。公共汽車站、火車站都要公社證明，才能買到票。有個村子有戶三兄弟，其中一個拿著白紙在公社辦公室外面轉，等著章子的人出去時，溜進去在紙上蓋個印就跑。然後寫上幾個字，算是搞到了證明。他流浪到江西一處山溝裡，給人打短工謀生。幾年後帶著老婆孩子回來，發現兩個兄弟早已餓死了。

36.請問這兩則資料共同在探討哪一個主題？

- (A) 三面紅旗政策
- (B) 新民主主義
- (C) 土地改革
- (D) 第一個五年計畫

37.根據你的歷史知識判斷，這兩則資料的解讀，何者最為合理？

- (A) 這是一場人為因素的災難，死傷人數超過千萬人
- (B) 這是一場自然因素的災難，造成許多省分出現大饑荒
- (C) 這是一場人為因素的災難，毛澤東辭去國家主席職位，改由華國鋒接任，進行一系列改革
- (D) 這是一場自然因素的災難，政府決定改採統購統銷，以控制糧食的分配

四、非選擇題（占9分）

說明：本部分共有三大題，為 38-42 題，每大題包含若干子題。各題請應在「答案卷」所標示大題號區域內作答，並標明子題號，違者不予給分。作答時務必使用筆尖較粗之黑色或藍色墨水的筆書寫，且不得使用鉛筆。每一小題配分標於題末。

- 一、38.圖（六）是第二次世界大戰結束後，開始標誌於包裝上的標籤，用於標示運往歐洲的物資，該標籤上以美國國旗為基礎，設計成如同盾牌狀紋章一般。這個將美國運資運送往歐洲計劃的人，也曾經在國共內戰期間來中國調停，最後促成哪一場會議的召開？（2分）



圖（六）

- 二、39.40 題請閱讀以下三則資料並回答問題：

資料一：事件後，日軍將領松垣征四郎說：「對俄戰爭，滿州是主要戰場。對美作戰，滿州是補給的源頭。事實上，在美、俄的任何一場戰爭，滿州都具最大關係。」

資料二：某學者評論說：「世界的局勢和中國內部的危機，使日本軍方做出判斷，認為可以輕易對中國發動侵略。」

資料三：「中華民國領導人對這次事件，鄭重呼籲國人說：「我國民此刻必須上下一心，先以公理對強權，以和平對野蠻，忍痛含憤，暫取逆來順受之態度，靜待國際公理之判斷。」

請問：

39.這三段資料所評論的最有可能是哪一場事件？（1分）

40.資料二所述之「中國內部危機」最有可能指哪一件事情？（2分）

- 三、41-42 題請閱讀以下為三段有關某一歷史事件發生後，三方領導勢力的意見或公開決議。請根據下列資料回答問題：

資料一：某甲日記：「頃又聞已占領我瀋陽與長春，並占領牛庄消息，是其欲乘此粵逆叛亂，內部分裂之機會，據有我之東三省矣！內亂不止，叛逆毫無悔悟之心，國民亦無愛國之心，社會無組織，政府不健全，如此民族，以情而論，絕無能力存於今日世界之道。」

資料二：某乙訪談回憶：「是我們東北軍自己選擇不抵抗的。……我沒認清他們的侵略意圖，所以盡量避免刺激……不給他們擴大戰事的藉口。『打不還手，罵不還口。』是我下令的指令與『某甲』無關。」又說：「我作為一個封疆大吏，我要負這個責任。」

資料三：某丙的會議決議：「加緊的組織領導發展群眾反帝國主義運動，大膽地驚醒群眾的民族自覺，而引導他們到堅決的無情的革命鬥爭上來。……反對帝國主義的奴役和侵略，反對進攻蘇聯和蘇區，擁護蘇維埃，武裝保衛蘇聯，反帝國主義的強盜而爭鬥。」

請問：

41.資料一和資料二的某甲和某乙，分別指的是應為何人？（2分）（選對一個人給一分）

42.資料丙的政治的立場或主張最有可能是什麼？（2分）

新北市立三民高級中學 108 學年度第一學期高中部二年級

歷史科第二次段考自然組非選擇題答案卷

班級：_____

姓名：_____

座號：_____

一、38. _____

二、39. _____

40. _____

三、41. _____

42. _____