

※請用 2B 鉛筆將答案清楚畫記在答案卡上

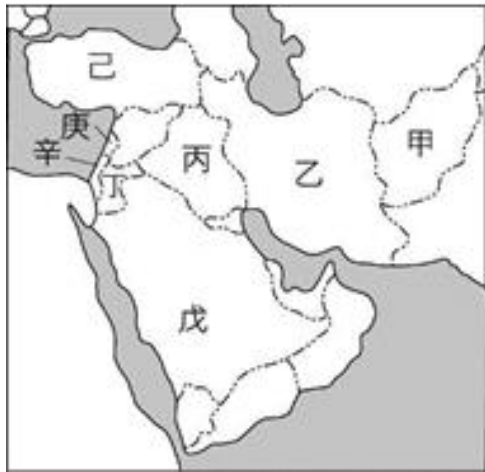
※地理：第 1~16 題；歷史：第 17~33 題；公民：第 34~50 題

※每題 2 分，共 100 分

第一部分：地理科(32%)

- () 1. 全球氣候類型多樣，下列哪些氣候類型的特徵為「全年有雨」？(甲)熱帶雨林氣候 (乙)熱帶莽原氣候 (丙)溫帶海洋性氣候 (丁)溫帶地中海型氣候 (戊)溫帶大陸性氣候
(A)甲乙 (B)乙戊 (C)甲丙 (D)丁戊。

- () 2. 小瑄陪著里中國際志工 Ilay 參加聚會，認識了來自西亞的朋友們，大家看著右圖西亞國家的分布圖，紛紛介紹起自己的國家，請問下列何者正確？



- (A) Ilay：我家在圖中的戊區，有歐亞陸橋之稱，葡萄葉捲飯是我們的國民美食
(B) Home：我來自圖中的己區，位於兩河流域，是西亞古文明的發源地
(C) SP：我家住在乙區，麥加是我們穆斯林的聖地，每年都有眾多信徒前來朝聖
(D) Rita：我來自辛區，是猶太人組成的國家，常因族群、宗教和附近國家發生衝突。

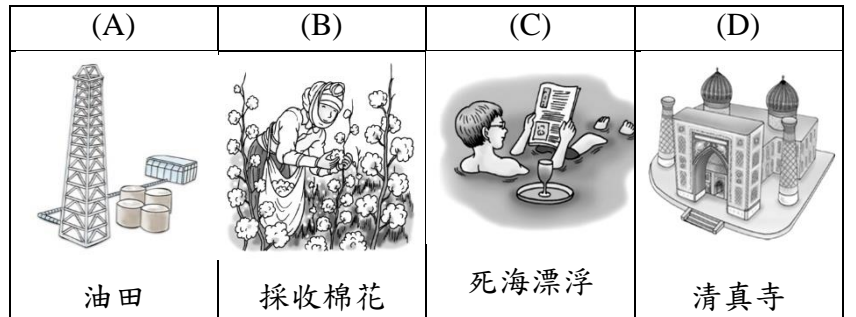
- () 3. 杜拜馬拉松為了提升知名度，有全世界最高的冠軍獎金，也設立破紀錄獎金 100 萬美元的獎勵，吸引眾多好手參加，然而就自然條件而言，杜拜其並不是跑馬拉松的好選擇，這個建在沙漠的城市，大部分的時間都是酷熱難耐，夏天甚至逼近攝氏 50 度。請問當地沙漠形成的原因為何？
(A)高大山脈阻擋，易出現乾燥焚風
(B)涼流經過，不易成雲致雨
(C)副熱帶高壓籠罩，氣流下沉增溫
(D)距海遙遠，水氣難以深入。

- () 4. 早在公元 3000 年前，美索不達米亞地區的人就懂得汲取了一種從縫裂處滲到地表的黑色黏液作為建築醫療、美容等用途。時至今日，該黏液—石油，成了重要能源。下列哪一個國際組織是為制定油價、維護產油國家的利潤而成立？
(A)APEC (B)OPEC (C)WTO (D)ASEAN。

- () 5. 人口問題可呈現出一地區的社會經濟狀況，目前歐洲所出現的人口問題最主要為下列何者？
(A)人口分布不均 (B)人口出生率高
(C)人口素質不佳 (D)人口成長停滯。

- () 6. 電影《神力女超人》開出亮眼票房，女主角蓋兒·加朵的武打動作讓人驚豔，因為她曾在以色列國防軍服役過兩年，當兵是以色列公民義務，只要年滿十八歲，不管男女都要服兵役，主因是以色列與周圍阿拉伯國家的關係極為敏感，戰爭可能一觸即發。請問以阿衝突的導火線與下列何者較無關？
(A)領土糾紛 (B)石油爭奪
(C)水源搶奪 (D)宗教差異。

- () 7. 小瑜來到中亞地區旅遊，用素描紀錄了當地的風景，回國後加以整理。請問：她哪一張放錯了？

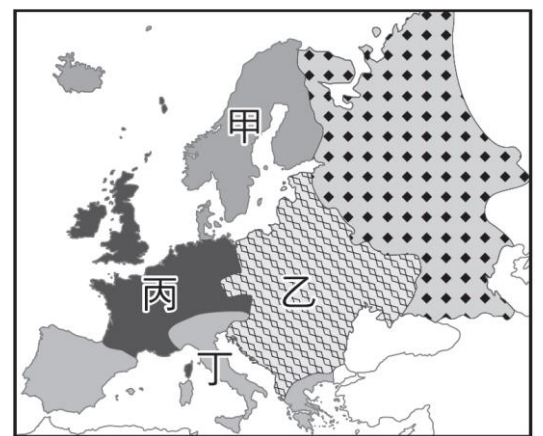


- () 8. 承上題，下列是小瑜回國後對朋友描述旅程的所見所聞。請問：她那一項又說錯了？
(A)當地信奉印度教，牛肉為當地禁忌食物
(B)因過度引水灌溉，使得鹹海面積極快速縮小
(C)中亞是一個內陸盆地，河流多為內流河
(D)裏海及其周圍地區富藏石油礦產資源。

- () 9. 右圖為西亞某城市的舊城區示意圖。此城市在希伯來語為「和平之城」之意，它也是世界三大宗教的聖地，每年吸引眾多信徒前來朝聖。請問：上述所指的城市為何？
(A)耶路撒冷 (B)麥加
(C)伊斯坦堡 (D)梵蒂岡。

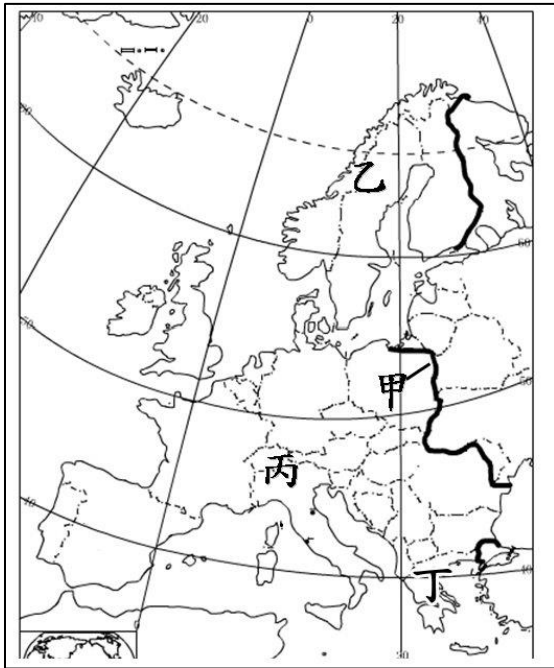


- () 10. 歐洲自然與人文發展受海洋影響，自然環境更孕育了豐富的人文景觀。根據右圖，下列對於歐洲各區特色的敘述，何者最正確？



- (A)甲：平原廣大，為俄羅斯的精華區所在
(B)乙：昔日受共產主義影響，經濟發展緩慢
(C)丙：因板塊擠壓，多火山、石灰岩地形
(D)丁：緯度較高，氣候冷濕，冰河地形發達。

- ()11. 歐洲最高山脈—阿爾卑斯山，其中有 128 座海拔超過 4000 公尺的山峰。其地勢雖高，卻不足以造成阻擋南北往來的交通，是因為阿爾卑斯山擁有一些寬而平的「天然孔道」。請問這些天然孔道所指為何？
 (A)冰河作用形成 U 型谷 (B)冰河作用形成峽灣
 (C)河水侵蝕形成峽谷 (D)斷層作用形成裂谷。
- ()12. 下圖為歐洲地圖，請問：關於圖中甲、乙、丙、丁的敘述何者**錯誤**？



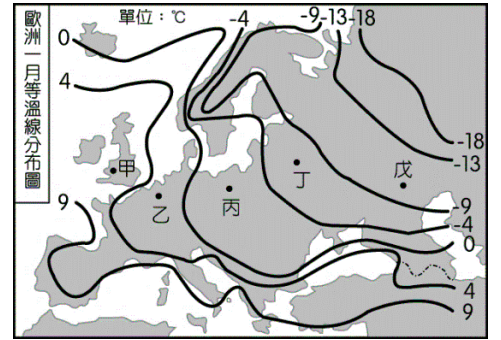
- (A)甲線為歐亞兩洲的分界線
 (B)乙處海岸線以雄偉壯麗的峽灣奇景著稱
 (C)丙處分布著歐洲屋脊-阿爾卑斯山
 (D)丁為巴爾幹半島，擁有谷灣式海岸利於航運發展。

- ()13. 下圖是歐洲氣候分布圖。老師請同學針對圖中的氣候特徵進行說明，其中何者最為**正確**？



- (A)小啟：甲區氣候隨高度呈垂直變化
 (B)小鋒：乙區受西風吹拂，全年有雨
 (C)小賢：丙區因風帶季移影響，呈現夏乾冬雨特徵
 (D)小謙：丁區距海較遠，夏雨冬乾、年溫差大。

- ()14. 歐洲冬季的氣溫分布特色如右圖所示，影響該地區氣溫分布的因素除了緯度外，還包括下列何者？
 (A)地表植被影響 (B)沿海暖流經過
 (C)高低氣壓不同 (D)終年西風吹拂。



【題組】段考將至，認真的湯湯拿出下列的西亞地理分區圖準備複習工作，請幫助她回答下列問題：



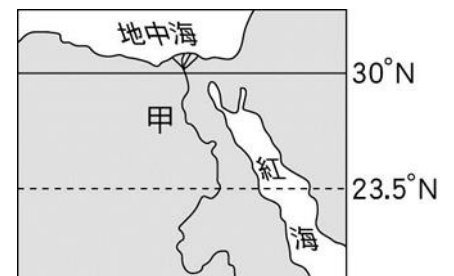
- ()15. 湯湯根據上圖將西亞地理區的特色整理成下列表格。請問：表格中的資料何者完全**正確**？
 (A)甲 (B)乙 (C)丙 (D)丁。

| | 地形名稱 | 成因 | 特色 | 灌溉水源 |
|---|----------|------|--------|-------|
| 甲 | 安納托利亞高原 | 河流沖積 | 農業發達 | 河水 |
| 乙 | 伊朗高原 | 板塊擠壓 | 連接歐亞兩洲 | 雨水 |
| 丙 | 美索不達米亞平原 | 板塊擠壓 | 多地震 | 雪水 |
| 丁 | 阿拉伯高原 | 古老陸塊 | 平坦堅硬 | 深層地下水 |

- ()16. 西亞石油蘊藏量約占全球的三分之二，為世界主要生產及輸出區域，請問西亞的石油主要集中於上圖的哪個海域附近？
 (A)ㄅ (B)ㄆ (C)ㄇ (D)ㄏ。

第二部分：歷史科(34%)

- ()17. 電影男主角山姆意外發現蘊藏神秘能量的隕石掉落在圖中的甲處，在前往尋找該隕石時，與邪惡組織發生爭奪戰。」影片中有下列四個場景，其中哪一個場景的設計較符合隕石掉落處的地理環境？
 (A)場景一：山姆搭乘的直昇機降落在幼發拉底河畔
 (B)場景二：從空中俯瞰地面的阿利安人驅趕著牛群
 (C)場景三：山姆秘密潛入帕德嫩廟遭邪惡組織偷襲
 (D)場景四：支援山姆的軍隊遇上了強烈的沙漠風暴



請翻頁繼續作答

- () 18. 網紅星座專家唐立淇常直播解析星座運勢因而大受歡迎，綜觀西洋的天文曆法發展久遠，以下是相關列表：

| 相關人物 | 內容 |
|------|--------------------------------|
| ◎ | 制定陽曆，崇敬太陽神。 |
| ⊙ | 八月的英文「August」源自於他。 |
| ☆ | 定一週七天制，臺灣於日治時期採用此制度。 |
| ◇ | 使用陰曆，將一年分為十二個月，已有六十進位法，一直沿用至今。 |

請問◎、⊙、☆、◇分別是哪一民族或人物？

- (A)蘇美人、凱撒、巴比倫人、埃及人
 (B)蘇美人、屋大維、腓尼基人、埃及人
 (C)埃及人、凱撒、加爾底亞人、蘇美人
 (D)埃及人、屋大維、加爾底亞人、蘇美人。
- () 19. 2017 世界神明聯誼會在高雄隆重舉辦，各宗教代表更將在愛與和平祈福音樂會上，獻唱各教聖歌、吟詩及梵唱。儘管大家會因不同的宗教信仰，而產生不同的主張和訴求，但宗教人士之間彼此尊重包容與對話交流如下：

| | |
|----------------|--|
| (甲) <u>康芮</u> | 「世界上最早的一神教是我的先祖所發明的。」 |
| (乙) <u>潭美</u> | 「我崇拜光明與火，當『善念』進入我的腦際喚醒了我，必將我心中『惡念』 掃除，戰勝惡神。」 |
| (丙) <u>山竹</u> | 「我常遇到國內的修行者啟發道：『生命萬物都是平等的，只要能拋開慾望，領悟正道，就能超脫輪迴。』對我的生觀觀念影響深遠。」 |
| (丁) <u>百里嘉</u> | 「我崇拜的神明和人類一樣都有喜怒哀樂、愛恨情仇，每四年會舉辦一次盛大的敬神祭典，用各種競賽來取悅神明。」 |

請判斷這四位國際志工分別信仰什麼宗教？

- (A)基督教、回教、印度教、希臘神祇
 (B)猶太教、祆教、佛教、希臘神祇
 (C)基督教、祆教、佛教、羅馬神祇
 (D)猶太教、景教、印度教、埃及神祇。
- () 20. 皮巴弟先生與薛曼乘著時光機回到古代羅馬帝國他們可能會有下列哪些遭遇？

- (甲)在奧林匹亞遇到盛大的敬神祭典
 (乙)看見祭司在欺壓種姓制度中地位最低的奴隸
 (丙)觀賞圓形競技場內人與獸鬥的比賽
 (丁)閱讀用拉丁文寫成的《十二銅表法》

(A)甲乙 (B)甲丙 (C)乙丁 (D)丙丁。

- () 21. 電影《貧民百萬富翁》出以來，引發各地對印度的好奇，也對印度社會至今階級觀念之重感到難以理解。這種階級觀念和古印度的種姓制度文化有關，下列關於種姓制度何者正確？
- (A)貴族的社會階級最高
 (B)只要憑個人努力，可以提升社會地位
 (C)是為了維護阿利安人的種族特性與統治地位
 (D)不同階級的身分、職業都是世襲的，但可通婚。

- () 22. 金鐘視帝吳慷仁演技了得，挑戰穿越歷史劇，表演一人分飾多角的絕活，從國君、科學家、哲學家等包羅萬象，臺詞如下：

角色甲：「神明啊！請原諒我發動這場戰爭，造成重大傷亡。為了彌補我的過錯，從今天起，我發誓不再殺生、不再狩獵、不食肉類，我也要虔誠傳播佛理，廣建佛塔、編撰佛經，減輕我的所造的罪孽。」

角色乙：「只要給我一個支點，我就能舉起地球。」

角色丙：「吾愛吾師，但吾更愛真理，我還是亞歷山大大帝的導師呢！」

角色丁：「我以十字架此記號率領部下征戰，終於贏得戰爭打敗敵人，為感謝上帝保佑，即刻宣布基督教合法化，不再迫害基督教徒。」

請問他所扮演的角色甲、乙、丙、丁分別是？

- (A)阿育王、阿基米德、亞里斯多德、君士坦丁
 (B)釋迦摩尼、阿基米德、亞里斯多德、狄奧多西
 (C)阿育王、歐幾里德、蘇格拉底、君士坦丁
 (D)凱撒、歐幾里德、蘇格拉底、狄奧多西。
- () 23. 中共國家主席習近平於 2014 年提出「一帶一路」跨國經濟帶，全名為「絲綢之路經濟帶和 21 世紀海上絲綢之路」，倡議堅持共商、共建、共享的原則，努力實現沿線區域基礎設施更加完善以形成更高水平的自由貿易區域網。其中陸路絲綢之路早在漢代已開通，有關古絲路之敘述何項正確？



- (A)絲路開通的第一人是東漢時期的班超
 (B)絲路開通的最初目的是為聯絡西域合攻匈奴
 (C)絲路路徑從長安—敦煌—西域—最遠至大秦
 (D)當時中國傳到西方的商品主要以棉織品為主。

2017年六月上映了一部由阿湯哥主演的熱門電影《神鬼傳奇》！敘述距今五千年前新王國時期的古埃及，法老王之女安瑪奈特公主本來即將接替父親的王位，但事與願違，法老王和他的第二任妻子生下了新的繼承人。覬覦王位的安瑪奈特不惜觸犯天條、求助埃及戰神賽特，其答應會幫助她並給予她一把鑲著紅寶石的神聖匕首，命令她用匕首來實施祭獻、讓賽特附身於祭獻體而重返人間。安瑪奈特屠殺了她的家人後，準備兌現和賽特的約定並祭獻掉他的愛人，卻事敗而被她父親的祭司活捉，最後被活生生包成了木乃伊、鎖進石棺中封印起來，並被埋葬於遠離家鄉之地的沙漠地區深處的墳墓中，等待千年後的甦醒復仇。(24~25題)



- () 24. 由電影中可看出此地區的信仰裡有何種精神？
 (A)善有善報，惡有惡報，人的行為會反映在來世投胎
 (B)相信宇宙由善神主導，人們必須行善才能進入天堂
 (C)對於來世抱持樂觀看法，相信通過審判者便能復活
 (D)相信宇宙有唯一真神，信仰真神的人便能獲得永生
- () 25. 新王國時期的古埃及具有下列何種生活特色？
 (A)武力強大，是版圖最廣闊的時期
 (B)對外貿易發達，以楔形文字擬定雙方契約
 (C)為計算尼羅河的氾濫期，而發展制定出陰曆
 (D)埃及法老王以尼羅河神之子的名義統治埃及。

「Spartan Race」斯巴達障礙跑於今年5月在桃園觀音濱海遊憩區登場，其中包括2008年北京奧運跆拳道國手蘇麗文和藝人黃鐙輝、曾子余等人，共有多達14國5500名勇士和1100名小勇士熱鬧參加。此路跑創立靈感來自於美國海豹突擊隊斯巴達式的魔鬼訓練，賽事中許多障礙項目更是由美國軍方參與設計，而賽事項目也列入2024年巴黎奧運賽事之一，期盼中華台北隊也能一舉奪牌。其中斯巴達一詞更是聞名遐邇，在東方帝國來襲時，斯巴達國王只率領三百名武士死守溫泉關，抵擋敵方數萬大軍，三百名最後全數陣亡，然而他們的英勇行為也感召了希臘全國上下民心士氣。(26~27題)



- () 26. 斯巴達的生活方式可能是下列何種場景？
 (A)採行民主政治，公民可以直接議決城邦事務
 (B)公民可在陶片上寫下認為該被流放者的姓名
 (C)會議成員有抽籤產生，會議主席也是抽籤決定
 (D)男孩從七歲開始必須住在軍營，接受軍事訓練。
- () 27. 斯巴達力抗的東方帝國數萬大軍，應是下列哪一民族？
 (A)雅典人 (B)波斯人 (C)羅馬人 (D)埃及人。

小安利用中秋連假到錄影帶店打算租片回家欣賞，看到一部片子簡介如下：「他是西洋史上最偉大的軍事領袖之一。由於父王被刺殺，年方二十歲的他因此繼位，上任後他不斷對外征戰，短短十三年內摧毀了當時最強盛的帝國，甚至向東發展最遠深入印度半島！將各地的文化融合成一股新的文化內涵。」(28~29題)

- () 28. 小安看到的應是下列何部影片？
 (A)亞歷山大帝 (B)凱撒傳奇
 (C)屋大維旋風 (D)漢摩拉比王。
- () 29. 在電影中他創立了橫跨歐、亞、非的大帝國，並在其征服的疆域內興建城市。右圖中的甲、乙、丙、丁，何者最可能是他所興建的城市？
 (A)甲 (B)乙 (C)丙 (D)丁。



三位女神為了讓帕里斯把金蘋果判給自己，希拉允諾他可以統治世上最富有的國家，雅典娜承諾讓他成為世界上最有智慧的人，而阿芙羅黛蒂答應把世界上最美麗的女子給他做妻子。於是帕里斯將金蘋果給了阿芙羅黛蒂。

阿芙羅黛蒂果然讓當時世界上最美麗的女子，斯巴達王后海倫與帕里斯王子陷入愛河，海倫因而拋棄丈夫及愛女，與帕里斯私奔。此事成為希臘城邦聯手攻打特洛伊城的導火線。(30~31題)

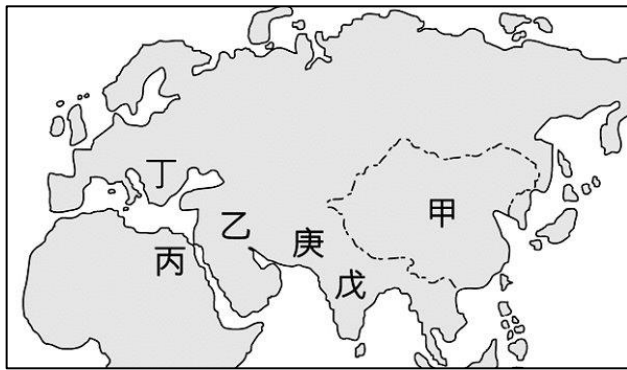


- () 30. 由故事中可知，這場金蘋果之爭最後引爆了特洛伊戰爭，若想進一步了解此戰爭的過程，應該參考下列何項資料？
 (A)《歷史》 (B)《舊約聖經》
 (C)《伊里亞德》 (D)《吠陀經》。
- () 31. 故事中有一位智慧女神雅典娜，這位女神是哪個城邦重要的守護神？
 (A)斯巴達 (B)雅典 (C)特洛伊 (D)邁錫尼。

為慶祝里中校慶，老師們各自在歌唱大賽中展現高超歌藝，歌詞如下：

- (壹)總務主任：晨曦下的少女，聽著吉他旋律，在許願池邊，巴洛克式的嘆息，少女手中的銀幣想要愛情，她的祕密，地中海湛藍色的希臘婚禮...
- (貳)學務主任：黃昏燃燒，金字塔上的雲角，人面獅身下的影子，在預兆石階上焚著油膏，在我國度裡堆積了幾個世紀的塵囂...
- (參)教務主任：我給妳的愛寫在西元前，深埋在美索不達米亞平原，用楔形文字刻下了永遠，那已風化千年的誓言，一切又重演...
- (肆)輔導主任：好像每個人都有特別氣味，聞了才發現那是咖哩作祟，恆河水、菩提樹葉、古老的情節，時間在倒迴，我們倆穿著布紗聽著梵樂，還想著是幻覺...(32~33 題)

- () 32. 以上哪位主任的歌唱內容與四大古文明無關？
 (A)總務主任 (B)學務主任
 (C)教務主任 (D)輔導主任。
- () 33. 請判斷各位主任所唱的歌在地圖上分別的代號為？
 (A)總務：丁、學務：丙、教務：乙、輔導：庚
 (B)總務：乙、學務：丙、教務：庚、輔導：戊
 (C)總務：丁、學務：丙、教務：乙、輔導：戊
 (D)總務：乙、學務：庚、教務：丙、輔導：戊。



第三部分：公民科(34%)

- () 34. 需求曲線 (D) 和供給曲線 (S) 的縱軸 P、橫軸 Q，分別代表甚麼？
 (A)價格、品質 (B)所得、品質
 (C)停車場、數量 (D)價格、數量。
- () 35. 很有名氣的泰泰小籠包，以豬肉餡聞名，老闆又再印尼開設了分店，為了配合當地的伊斯蘭教的宗教信仰，推出了雞肉小籠包，請問：根據上述，經營者主要考量哪一種生產課題？
 (A)如何生產 (B)生產什麼
 (C)何時生產 (D)為誰生產。
- () 36. 小珍：「我媽常說，萬般皆下品，唯有讀書高，她一再告誡我文憑在這個社會上的重要性。」小瑄：「與其要我取得一個好文憑，我寧願先找一份好工作或是找一個愛我的老公；但是，如果能嫁入豪門的話，我想其他對我來說，一點都不重要了。」從以上兩人的對話可知：對於小瑄而言，取得文憑的機會成本為何？
 (A)好工作 (B)愛她的老公
 (C)嫁入豪門 (D)以上皆是。

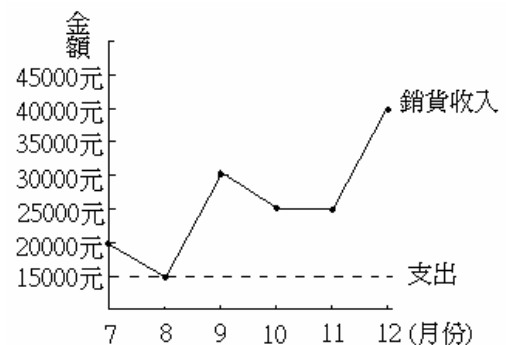
- () 37. IPHONE XS 的評價褒貶不一，開賣的前一天忠實的蘋果迷排了 91 個小時搶頭香。這些粉絲的消費行為應是基於何種因素的影響？
 (A)商品價格 (B)所得水準
 (C)預期心理 (D)個人偏好。
- () 38. 「逾期 9 年的黑心食品，騙稱有機食品賣給消費者(如下圖)」不肖業者為獲取利潤，而做出令人不恥的行為，以致消費者受害，這些不肖業者使用過期商品主要是想達到下列哪一目標？



- (A)增加銷貨收入 (B)降低生產成本
 (C)增加供給量 (D)增加需求量。
- () 39. 承上題，此黑心廠商的行為屬於“不實廣告”，將會遭到 OO 單位開罰。請問：OO 單位屬於下列何單位？
 (A)消費者文教基金會 (B)消費者服務中心
 (C)消費者保護處 (D)公平交易委員會。
- () 40. 美美畢業後積極尋找工作，最近她找了四個她有興趣的工作，她將這些工作的薪水加以比較，並整理成下表。根據表中資訊判斷，報社記者的薪水及機會成本各是多少？

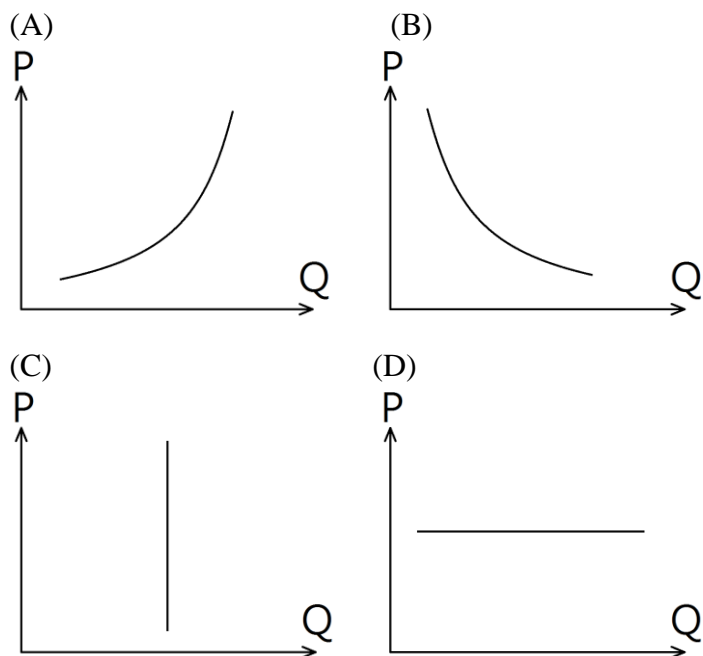
| 職稱 | 薪水(元) | 機會成本(元) |
|------|-------|---------|
| 雜誌編輯 | 24000 | 30000 |
| 副總秘書 | 30000 | 28000 |
| 業務專員 | 28000 | 30000 |
| 報社記者 | ? | ? |

- (A)薪水 26000 元，機會成本 30000 元
 (B)薪水 26000 元，機會成本 28000 元
 (C)薪水 29000 元，機會成本 30000 元
 (D)薪水 32000 元，機會成本 28000 元。
- () 41. 下圖是「老吳燒肉店」開店後 6 個月內的營業額，假設一開始購買設備和桌椅總共花了 4 萬元。請問：「老吳燒肉店」到幾月才份達到「收支平衡」的狀態？



- (A)8 月 (B)10 月 (C)11 月 (D)12 月。

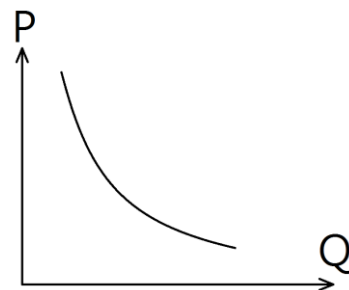
- ()42. 某鑽石公司宣布，在南非的礦區發現一顆重達 232 克拉的大鑽石，估計價值為 1000 萬英鎊(折合台幣約 5 億元)，此消息一宣布，便引起許多政商名流的關注，預計在拍賣會上，又會創下鑽石價格的新記錄。此類珠寶首飾目的在凸顯身分、地位的商品，需求曲線為下列何者？



- ()43. 王先生計畫開一間公司，附表是四種成本評估的方案(單位：萬元)。請問：下列哪一個方案花費在「資本」上的成本**最低**？

| 選項 | 原物料 | 廠房 | 工資 | 鍋爐 |
|-----|-----|----|----|----|
| (A) | 10 | 25 | 30 | 5 |
| (B) | 5 | 10 | 50 | 10 |
| (C) | 15 | 15 | 25 | 10 |
| (D) | 25 | 5 | 35 | 20 |

- ()44. 請問，下列何種敘述可以用右圖表示？
 (A) 鮭魚價格高，漁民冒著風浪去捕魚
 (B) 頂級名牌包上市，貴婦一掃而空
 (C) 跳樓大拍賣，民眾爭相購買
 (D) 穀賤傷農，農民銷毀農作物。



【題組】請閱讀下文，回答第 45~47 題

小明面臨了高中升學的抉擇時刻，以下是他有興趣的學校的相關訊息。

| 學校 | 竹圍高中 | 淡水商工 | 林口高中 | 三民高中 | 新北高中 |
|----|--------|-------|-------|-------|-------|
| 喜好 | ♥♥♥♥♥♥ | ♥♥♥ | ♥♥♥♥ | ♥♥ | ♥ |
| 距離 | 13 公里 | 19 公里 | 10 公里 | 12 公里 | 15 公里 |
| 積分 | 14.8 | 17.6 | 13.6 | 16.6 | 18.8 |

- ()45. 若他**只考慮離家最近的學校**，不考慮其他因素的情形下，哪一個才是他的最佳選擇？
 (A)竹圍高中 (B)林口高中
 (C)淡水商工 (D)新北高中。
- ()46. 若他**只依喜好程度的學校考慮**，不考慮其他因素的情形下，哪一個才是他的最佳選擇？
 (A)竹圍高中 (B)林口高中
 (C)淡水商工 (D)新北高中。
- ()47. **承上題**，此時小明選擇的機會成本為哪所學校？
 (A)竹圍高中 (B)林口高中
 (C)三民高中 (D)新北高中。

【題組】請回答第 48~50 題

- ()48. 下表是**花爸花媽**本月的銷售狀況，請計算**花爸**經營的早餐店的銷貨收入是多少？

| 項目 | 單價 | 銷售量 |
|------|------|--------|
| 冰紅茶 | 20 元 | 3000 杯 |
| 肉鬆飯糰 | 40 元 | 1000 個 |
| 冰奶茶 | 20 元 | 2000 杯 |

- (A)6 萬 (B)10 萬 (C)14 萬 (D)18 萬。
- ()49. 早餐店本月的開銷：設備費用 2 萬元、材料費 2 萬元、店面租金為 2 萬元、水電費 8 千元，雇用自己的費用為 4 萬元。請問，**花爸**和**花媽**本月的生產成本為多少？
 (A)4 萬 (B)6 萬
 (C)6 萬 8 千元 (D)10 萬 8 千元。
- ()50. 請算出**花爸**和**花媽**經營早餐店的利潤是多少？
 (A)2 萬 8 千元 (B)3 萬 2 千元
 (C)4 萬 8 千元 (D)14 萬元。

試題結束，請記得檢查哦！

※地理：第 1~16 題；歷史：第 17~33 題；公民：第 34~50 題

※每題 2 分，共 100 分

解答

| | | | | | | | | | |
|----|----|----|----|----|----|----|----|----|----|
| 1 | 2 | 3 | 4 | 5 | 6 | 7 | 8 | 9 | 10 |
| C | D | C | B | D | B | C | A | A | B |
| 11 | 12 | 13 | 14 | 15 | 16 | 17 | 18 | 19 | 20 |
| A | A | C | B | D | D | D | D | B | D |
| 21 | 22 | 23 | 24 | 25 | 26 | 27 | 28 | 29 | 30 |
| C | A | B | C | A | D | B | A | A | C |
| 31 | 32 | 33 | 34 | 35 | 36 | 37 | 38 | 39 | 40 |
| B | A | C | D | D | C | D | B | D | A |
| 41 | 42 | 43 | 44 | 45 | 46 | 47 | 48 | 49 | 50 |
| C | A | A | C | B | A | B | C | C | B |