

【地理範圍：第 1-2 章，1-16 題，每題 2 分，共 32 分】

1. 北非突尼西亞的沿海谷地種植數千萬棵橄欖樹，橄欖油產量占全球 4% 以上，橄欖樹成為該國最重要的經濟作物，與其氣候的何種特徵最有關連？

- (A) 全年高溫多雨 (B) 降水量集中夏季  
 (C) 夏乾燥冬降水 (D) 冬季嚴寒低溫。

2. 人們為了適應氣候而發展出各種不同的耕作方式；某地的原住民在播種前先砍伐、燃燒樹林，耕種一兩年，待土壤變貧瘠後，就遷移到另一塊耕地。請問：這種耕作方式最可能出現在下列哪一個地區？

- (A) 東非高原 (B) 剛果盆地  
 (C) 長江中下游平原 (D) 澳洲東南沿海平原。

3. 石油為中東地區重要的經濟來源；請問：油輪從西亞紅海開往歐洲地中海必須經過哪一條水道？

- (A) 巴拿馬運河 (B) 中央大運河  
 (C) 蘇伊士運河 (D) 京杭大運河。

4. 中國的江蘇與非洲東部的肯亞因「鄭和下西洋」屆滿 600 年，正式簽訂締結友好城市。若依「最短的航線」原則，商船從江蘇沿海出發，到達肯亞，依序會經過哪些水域？(甲)印度洋(乙)蘇伊士運河(丙)南海(丁)紅海(戊)大西洋(己)麻六甲海峽；正確的順序是？

- (A) 丙己甲 (B) 甲丁乙  
 (C) 戊丙己 (D) 丁甲乙。

5. 附圖為某島嶼的地形與風向示意圖。請根據圖中的地形與風向判斷，該島嶼最有可能位於下列何處？



- (A) 密克羅尼西亞群島  
 (B) 馬達加斯加島  
 (C) 澳洲大堡礁  
 (D) 紐西蘭南島。

6. 小軒計畫到紐西蘭「北島」從事地理考察，他會在該地觀察到哪些地形景觀？(甲)峽灣(乙)冰河(丙)地熱(丁)火山；正確的是：

- (A) 甲乙 (B) 丙丁 (C) 乙丙 (D) 甲丁。

7. 右表為臺灣目前 20 個邦交國所分布的地區及其數量，若蔡總統想訪問位於大洋洲的邦交國如帛琉、吉里巴斯、吐瓦魯等，她所搭乘的空軍一號專機從臺灣出發後，應往哪一個方向飛行？

分布地區	邦交國數量
歐洲	1
非洲	2
中南美洲	11
大洋洲	6

- (A) 東北方 (B) 西南方  
 (C) 西北方 (D) 東南方。

8. 大洋洲的三大群島為密克羅尼西亞、美拉尼西亞、玻里尼西亞，其分界線以下列何者為主？(甲)赤道(乙)本初經線(丙)北回歸線(丁)180 度經線(戊)南回歸線；正確的是：

- (A) 甲乙 (B) 丙戊 (C) 甲丁 (D) 乙戊。

9. 澳洲、紐西蘭都是世界聞名的畜牧大國，但是澳洲的牧牛區在山脈的東側，紐西蘭的牧牛區卻在山脈的西側，造成這種差異的最主要原因為何？

- (A) 盛行風向不同 (B) 面積大小不同  
 (C) 人口數量多寡 (D) 距離市場遠近。

10. 南極為地球上最冷之地區，有「地球寒極」之稱，造成這種氣候特徵，與南極的哪些因素關係最密切？

- (甲) 被歐、亞、北美三洲包圍(乙)地勢高(丙)緯度高  
 (丁) 有國際換日線經過；正確的是  
 (A) 甲乙 (B) 乙丙  
 (C) 丙丁 (D) 甲丁。

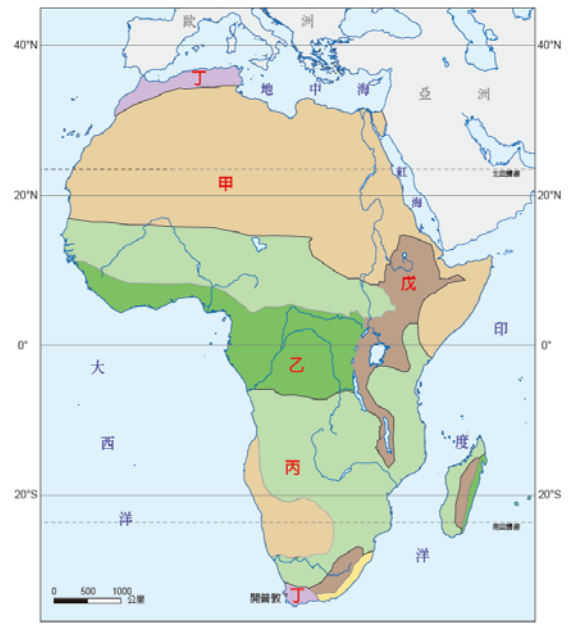
11. 下列有關非洲各國的描述，何者正確？

- (A) 奈及利亞盛產黃金和鑽石，是非洲最工業化的國家  
 (B) 埃及有豐富的石油，是 OPEC 的會員國之一  
 (C) 南非共和國為促進與鄰國的合作而成立 APEC  
 (D) 肯亞有眾多的野生動物，生態旅遊業發達。

12. 多啦 A 夢帶大雄到北極探險，並記錄在北極的所見所聞。請問他們會看到哪些現象？(甲)欣賞毛利人的戰舞(乙)終年乾冷、風勢強勁的高原(丙)夜宿因紐特人的雪屋(丁)在冰面上尋找食物的北極熊；他們的記錄有哪幾項是正確的？

- (A) 甲乙 (B) 甲丁  
 (C) 乙丙 (D) 丙丁。

◎右圖為非洲的氣候分布圖，請依圖回答問題：



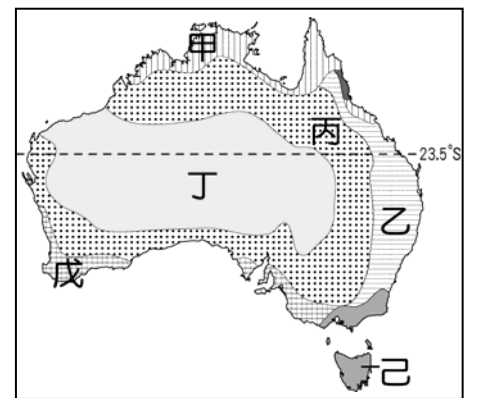
13. 圖中「甲」區有世界上最大的沙漠—撒哈拉沙漠，其形成的主要原因與下列何者「相同」？

- (A) 新疆的塔克拉瑪干沙漠  
 (B) 澳洲西部的沙漠  
 (C) 巴塔哥尼亞高原的沙漠  
 (D) 美國加州的沙漠。

14. 蔡小英想前往南部的「丁」區，到著名的觀光勝地—開普敦旅遊，並且希望「不要」遇到下雨天，她應該要幾月去最適合？(A)一月 (B)四月 (C)七月 (D)十月。

◎附圖為澳洲氣候分區示意圖，請依圖回答下列問題：

15. 圖中哪個地區因受到信風和暖流的影響，氣候暖濕，為澳洲人口最稠密的地區？



- (A) 甲 (B) 乙  
 (C) 丁 (D) 戊。

16. 臺灣進口的葡萄酒，有來自歐洲、美國、澳洲等地。其中，澳洲釀製葡萄酒的原料，最可能種植於下列哪個地區？

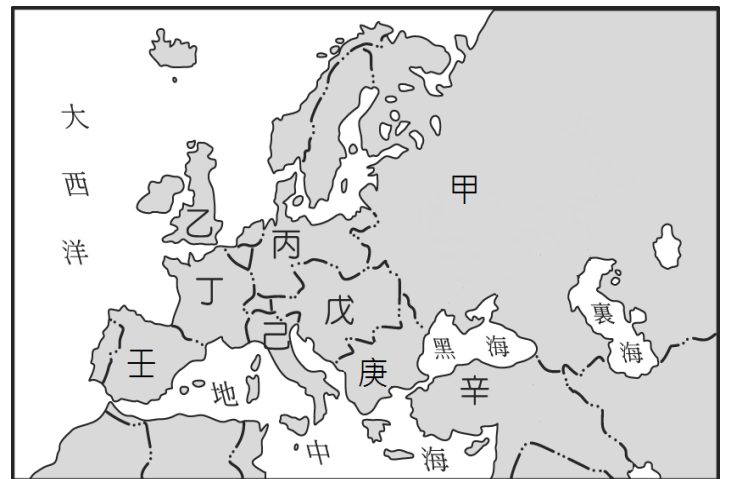
- (A) 甲 (B) 丙  
 (C) 戊 (D) 己。

【歷史科:第 1-2 章, 17-33 題, 每題 2 分; 共 34 分】

17. 「他博學而善屬文，經常穿黑衣以哀悼義大利尚未統一。他常以帶情感的文章來激勵義大利人的愛國熱情，希望青年們為國家統一奮鬥，將義大利重建成一個為人所景仰的國家。」請問此人物最有可能是何者？(A) 伊曼紐二世 (B) 馬志尼 (C) 克里蒙梭 (D) 加富爾。
18. 文森是 18 世紀在日本貿易的外國人，常常藉由當地人了解日本國內的狀況，請問以下何人提供的消息是「正確」的？(A) 太郎：「這幾年來地方諸侯頻頻造反，說什麼『尊王攘夷』，莫名其妙！」(B) 龍馬：「最近有美國的黑船到我們這裡來了，還威脅說要開港貿易，真是可怕！」(C) 有助：「天皇近日任命了新的大將軍，即將在鎌倉成立幕府呢！」(D) 新一：「有中國商人跑到京都做買賣，結果被幕府逮捕了！」。
19. 以下是某場戰爭中，不同國家的士兵對此戰爭的發言，請問哪些人屬於同一陣營？甲：「在這裡與敵方以壕溝對峙，實在消耗我方太多實力，不過幸好守住巴黎，堅持下去就是了。」乙：「我國在戰爭開打後就轉換陣營，雖然遭受不少批評，幸好還是獲得勝利。」丙：「我國原本是保持中立，但敵方卻拉攏墨西哥對付我國，忍無可忍，終於決定參戰！」丁：「為了擊敗敵方，一定要全面封鎖敵方海上的運輸及補給，所有進入敵國水域的船隻，一律擊沉。」戊：「我國數百年前曾是地跨三洲的泱泱大國，今天卻淪為戰敗的一方，真不甘心。」(A) 甲乙丙 (B) 甲乙戊 (C) 乙丙丁 (D) 丙丁戊。
20. 19 世紀初時美國總統表示，歐洲國家如果進一步對美洲的土地進行殖民，對其政權進行干預，都將視為侵略行為，美國也會介入。此項聲明對哪一位人物的事蹟影響最大？(A) 加里波底的紅衫軍收復義大利南部 (B) 拿破崙出兵橫掃歐洲 (C) 玻利瓦率領玻利維亞等國脫離西班牙控制 (D) 威爾遜拒絕簽署凡爾賽條約。
21. 某組織成立於 1920 年，於第一次世界大戰結束後組成，也是世上第一個以維護世界和平為主要任務的國際組織。成立目的包括透過集體安全及軍備控制來預防戰爭，藉由談判及仲裁來平息國際紛爭。請問有關這個組織的敘述何者「正確」？(A) 因拒絕德國加入，而埋下二戰的種子 (B) 負責主持該組織的是英法美元首，合稱三巨頭 (C) 反對女性取得投票權，導致聲望低落 (D) 因缺乏武力，未能積極解決國際衝突。
22. 下列有關巴爾幹半島的敘述何者「正確」？(甲) 中世紀以來由神聖羅馬帝國控制 (乙) 19 世紀起最早獲得獨立的國家是希臘 (丙) 因族群複雜糾紛不斷而有「黑暗大陸」之稱 (丁) 因當地斯拉夫人與土耳其人衝突頻繁而爆發一次大戰。(A) 甲 (B) 乙 (C) 丙 (D) 丁。
23. 「舊帝國主義主要通過海外貿易以富裕母國，當時歐洲各國會利用殖民地作為貿易補給站或利用殖民地生產貨品，而新帝國主義是在貿易的基礎上，加上□帶來的影響而產生的，殖民地是作為原料生產地，在母國加工後再運往他處進行傾銷。此外，歐洲各國也以○來合理化他們拓展殖民地的行為，他們認為這是給予這些落後地區機會進行文明開化。」請問上述中的□和○應分別為何者？(A) 地理大發現、白種人的負擔 (B) 工業革命、民族主義 (C) 第

一次世界大戰、社會達爾文主義 (D) 工業革命、白種人的負擔。

24. 請問根據以下四本書的內容來判斷，哪一個最有可能是狄更斯的作品？(甲) 戰爭的無情讓十九歲的保羅有如活在地獄中，戰壕內都是老鼠、虱子，傳染病威脅著每個士兵的生命。(乙) 夢是一種象徵，也就是你的潛意識，你平時壓抑、害怕、焦慮、不願承認卻仍舊影響生活的內容，都會在夢中一一浮現。(丙) 皮普是一名衣食貧乏的孤兒，他原本跟鐵匠學藝，但某天，一位律師的出現改變了皮普的生活。(丁) 狹義相對論不但是廣義相對論的基礎，也適用於除了重力現象之外的所有物理現象。(A) 甲 (B) 乙 (C) 丙 (D) 丁。
25. 下圖是第一次大戰爆發前的歐洲地圖，按著地圖所寫的筆記中，請問正確的有幾項？(一) 普法戰爭後，丁國開始積極孤立丙國 (二) 三國同盟和三國協約分別指的是丙戊己和甲乙丁 (三) 塞拉耶佛事件起源於戊國與庚國的衝突 (四) 壬國原未加入結盟，但因不滿丙國發展海軍而加入協約國 (五) 辛國因支援庚國的大斯拉夫主義而加入協約國 (六) 甲國於戰爭後期便提前退出戰場 (A) 二項 (B) 三項 (C) 四項 (D) 五項。



26. 右表是某時期歐洲國家在非洲瓜分的面積比例表，請問有關這項表格的敘述，何者為「是」？(A) 佔領非洲的時間應與荷蘭佔領臺灣同時 (B) 在東、西非尚有國家未被佔領 (C) 在 19 世紀歐洲國家才首次抵達非洲 (D) 社會達爾文主義的內容有抵制歐洲國家的侵略行動。
27. 「這是 20 世紀出現的前衛藝術，藝術家在畫面中放上垂直與平行的線條以及幾何圖形，以許多角度來描寫人物或物體，將其置於同一個畫面之中，以此來表達其最為完整的形象。」請問哪一位藝術家是此藝術風格的代表人物？(A) 貝多芬 (B) 米勒 (C) 莫內 (D) 畢卡索。

國家	佔領面積 (平方公里)	占總面積 百分比	與本土面 積比
法國	10,795,520	35.6%	大 19.6 倍
英國	8,868,020	29%	大 36.3 倍
德國	2,347,034	7.7%	大 6.6 倍
比利時	2,345,800	7.7%	大 76.9 倍
義大利	2,339,540	7.7%	大 7.8 倍
葡萄牙	2,089,089	7%	大 22.7 倍
西班牙	308,335	1%	約 60%

28. (甲)俾斯麥與奧國組成聯軍，約定戰後土地劃分，便出兵進攻丹麥(乙)戰爭開打七週後，奧國對普魯士求和，之後奧國退出日耳曼邦聯(丙)同盟規定各邦之間免除關稅，對外實施統一進口稅(丁)在普軍的攻勢下，拿破崙三世被迫投降，十萬軍隊連同皇帝都成為俘虜。請問以上描述普魯士邁向統一經過的敘述，按時間先後順序排列，應該為何者？(A)甲乙丙丁(B)乙丙甲丁(C)丙甲乙丁(D)丙乙甲丁。
29. 以下是某重要歷史文件內容：「1.廢除秘密外交。2.裁減軍備。3.重新調整各國殖民地之爭執。4.奧匈帝國及鄂圖曼土耳其帝國等國，給予其所屬各民族最自由之自決機會。5.建立一個國際組織，以保障所有國家政治獨立與領土完整。……」請問這份文件最有可能為下列何者？(A)美國總統威爾遜所提出的十四點原則(B)英國首相勞合喬治在巴黎和約提出的內容(C)斐迪南大公夫婦被暗殺後，奧國對塞國提出的要求(D)法國總理克里蒙梭在凡爾賽條約提出的要求。
30. 以下是某戰後條約的內容：「法國把亞爾薩斯省與洛林省的部分土地割讓予德國；定下德軍從法國撤出的方案；規定法國賠償五十億法郎給德國；承認普王威廉一世為德意志帝國皇帝。」請問這場戰爭造成的影響何者正確？(A)飛機、坦克等新武器的出現改變戰爭型態(B)義大利收復首都羅馬(C)連同奧匈帝國在內的四大帝國瓦解(D)普、奧等國組成日耳曼邦聯。
31. 明治維新時期，日本變革四起，各地報紙刊載的新聞頭條中，請問下列何者最為符合史實？(A)東京：「君主立憲制使天皇陛下再成傀儡！」(B)京都：「實施募兵制，百姓將成為武士階級！」(C)馬關：「打敗鄰國！首次取得殖民地臺灣！」(D)長崎：「《紅毛雜話》發行！葡人傳入的蘭學興起！」。
32. 在東歐國家波士尼亞與赫塞哥維納的首都中，有一座極富盛名的拉丁橋，舊名為普林西普橋，名稱來自一位青年，他在這座橋的北端暗殺了奧匈帝國的皇位繼承人，引發了第一次世界大戰。請問以下相關敘述何者正確？(A)這座橋所在的城市應是薩丁尼亞(B)這位青年的暗殺行動是受到了民族主義的影響(C)這位青年應來自保加利亞(D)暗殺行動顯示出此地的斯拉夫人與土耳其人之間的激烈衝突。
33. 俾斯麥在擔任普魯士首相時曾說：「當前的重大問題，不是靠演說和多數決就可以解決，要統一日耳曼，唯有鐵和血！」請問普魯士哪一項歷史事件反映了這項主張？(A)組成日耳曼邦聯(B)鼓吹關稅同盟(C)發展海外殖民地(D)擊敗奧、法兩國。

【公民範圍：第 1-2 章，34-50 題，每題 2 分，共 34 分】

34. 若曦看到下面一則新聞，依新聞內容來看，請問：這顯示當前全球化的國際社會存在何種問題？

富士康是血汗工廠

為蘋果組裝 iPad 和 iPhone 的鴻海集團旗下富士康中國廠，遭美國人權團體和媒體抨擊工人的勞動條件惡劣，根本是血汗工廠。事實上，許多大型跨國企業和生產大廠，也曾被點名為血汗工廠，旗下代工的廠商包括臺灣、中國或印度廠商。

- (A) 國際貿易對環境生態的影響 (B) 國際分工的效益與衝擊  
 (C) 資金跨國流動的益處和風險 (D) 跨國間的政治影響

35. 某新聞媒體就「是否贊成開放日本核災區食品進口台灣」議題，街訪民眾的意見，這是顯示了民眾哪項權益的展現？

- (A) 智慧財產權 (B) 媒體接近使用權 (C) 人格權 (D) 參政權

36. 郝天真同學上完公民課針對智慧財產權的法令保障，完成以下筆記，但卻有一處內容錯誤，請問應該是哪部分有錯誤？

(A)	法規名稱	專利法	著作權法	商標法
(B)	立法目的	促進產業發展	促進國家文化發展	維護市場公平競爭，促進企業正常發展
(C)	相關違法行為	販售仿冒名牌包包	非法翻錄影音資料	盜用別家公司的專利技術
(D)	規範事項範圍	非經授權不得使用他人發明	基於非營利需要可使用他人以發表之著作	侵犯他人該項權益需負擔法律責任

37. 某位知名作家曾指出，世人對阿富汗一無所知，他希望透過作品改變外界對阿富汗人妖魔化的觀點，並將阿富汗人重新人性化。請問：造成世人誤解阿富汗，最可能的原因為何？

- (A) 西方媒體採多元文化觀點  
 (B) 強勢文化擴張，弱勢文化的式微  
 (C) 伊斯蘭教國家多支持恐怖主義  
 (D) 閱聽人缺乏媒體識讀能力及媒體本身專業素養問題

38. 「我們是美國 99% 的民眾，但國家卻被 1% 的人控制。」上述是佔領華爾街運動的標語，此運動發起造成美國各地民眾的響應及許多國家類似活動的發起，請問該事件背後的原因，與下列何者最為類似？

- (A) 早期日本政府鼓勵民眾移民中南美  
 (B) 中國對台灣推動 31 項惠台措施  
 (C) 美國金融危機引發全球股災  
 (D) 學生團體不滿十二年國教課綱審議過程向教育部陳情抗議

39. 美國 CNN 的公民記者荷沃達曾在報導中將皮蛋列為最噁心的食物，引發眾多輿論的撻伐及批評，後來不得不發信道歉

以平息眾怒。請問上述內容說明我們面對不同文化時應具備何種文化精神？

- (A) 尊重不同文化的差異 (B) 善用自身文化評價其他文化  
 (C) 認同強勢文化的價值 (D) 積極保存本土文化的特色

40. 日本人結婚時多包白包表達誌慶之意，然而該行為在台灣這反而是一種不吉利的象徵，請問：造成此一對立與排斥現象的原因為何？

- (A) 文化認同危機 (B) 文化交流  
 (C) 文化創新 (D) 文化衝突

41. 因應科技發展快速造成各種可能的問題，政府制定相關法律加以防範，請問下列敘述何者是正確的選項？

- (A) 為免個人隱私權被侵犯，政府制定「個人資料保護法」保障個人人格權。  
 (B) 為保障不孕夫妻有生養子女的權利，政府制定「人工生殖法」，明定可由代理孕母生育小孩  
 (C) 為增加食物產量，可製造基因改造食品並無須標示  
 (D) 政府制定法律是透過「理念層次」來帶動社會變遷

42. 附圖兩項敘述為喬喬報告的主要內容摘要，她報告的重點應該為下列何者？

- (A) 科技發展影響未來經濟發展  
 (B) 生物科技發展潛藏的危機  
 (C) 基改對食品安全的危害  
 (D) 科技發展帶動社會器物層面的衝擊

◎經過基因改造的抗蟲害作物，可能造成生態多樣性的改變  
 ◎進行複製人類的實驗，將可能對倫理觀及現存的法律規範造成衝擊。

43. 「政黨」跟「利益團體」的比較何者為錯？

	政黨	利益團體
(A)	會提名候選人	表態支持立場一致的候選人
(B)	所提出的政策較單一面向	關注政策較多面性
(C)	成員同質性較低	成員同質性較高
(D)	成立的目的是為了執政	成立目的是為了影響公共政策

44. 附圖是有關我國政府組織的部分架構，甲單位所管轄之處、室，負責辦理各地相關業務。根據圖中內容判斷，甲單位應是隸屬於下列哪一個中央政府機關？

- ◎台北市審計處  
 ◎新北市審計處  
 ◎台南審計處

- (A) 立法院 (B) 司法院 (C) 監察院 (D) 行政院

45. 王大平為政壇老將，自23歲起至今已蟬聯當選地方七屆公職人員，依前述內容判斷，最可能是擔任下列哪一種公職人員？  
(A)新竹市市長 (B)宜蘭縣議員 (C)台北市市長  
(D)中華民國總統
46. 花輪開設一家便利商店，並以營利為目的，而他的交易所得也納入所得稅的課徵範圍。上述所得稅的課徵，是依據經濟學的何種概念而設定的？  
(A)負擔能力原則 (B)受益原則 (C)比較利益法則  
(D)供給法則
47. 小丸子想要盡個人的力量來回饋社會，於是她以參與人民團體的方式來促進公益活動。請問：下列哪一種組織最能達成這個目的？  
(A)工會 (B)同業公會 (C)登山協會 (D)消費者文教基金會
48. 開班會時，光頭強同學一直在下面大聲喧嘩，影響班會進行，此時熊大同學基於維護大家權益，可提出何種處置，請主席解決？  
(A)書面提案(B)臨時動議 (C)秩序問題 (D)權宜問題
49. 我們這一家成員包括了，花爸、花媽和他們的孩子，柚子、橘子，請根據上述中描述的內容判斷下列有關柚子家的親屬關係敘述何者正確？  
(A)柚子的家庭屬於折衷家庭 (B)花爸與花媽屬於姻親關係  
(C)柚子與父母的親屬關係屬於擬制血親 (D)柚子和橘子的親屬關係是血親關係
50. 「社區總體營造」強調居民居於社區意識的認同，產生自發性的具體行動，打造或改善社區的條件。根據上述內容判斷，下列何者最不可能屬於總體營造的項目？  
(A)進行地方政府締結國際姊妹市  
(B)推銷在地觀光資源  
(C)編寫鄉土文史教材  
(D)發展在地文化產業