

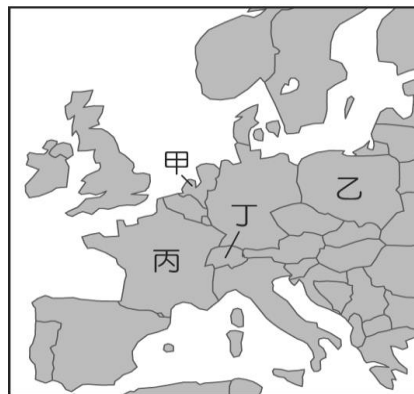
新北市立崇林國中 106 學年度第二學期九年級社會科第二次段考試題

*請仔細塗寫答案卡，若塗寫不清造成無法判讀，將扣總分 5 分。

【地理部分】第 1~20 題，每題 2 分

1. () 地球暖化使南北極冰山融化，若全球的冰山全部融化，將使海平面大幅上升，會造成附圖一中哪個地勢偏低的歐洲國家有被海水淹沒的危機？(A)甲 (B)乙 (C)丙 (D)丁。

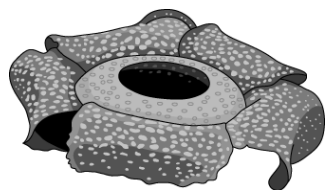
【附圖一】→



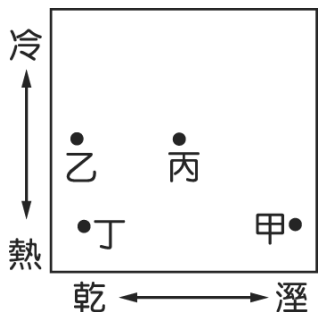
2. () 「連鎖經營的跨國企業，為了提升業績，考量在地文化特色，推出適合當地傳統的商品。」下列何者可能是麥當勞基於上述理由，在華人市場開發的產品？(A)辣味烤雞堡 (B)麥香魚堡 (C)板烤米香堡 (D)炭烤培根堡。

3. () 2017 年 6 月 1 日，美國總統川普拋出震撼彈，為了實踐競選承諾及履行保護美國及人民的嚴肅職責，宣布美國將退出《巴黎協定》。這一宣布影響巨大，震動全球世界各國紛紛擔心這使得協定內容無法落實，將對地球環境造成衝擊。上述《巴黎協定》的主要目的為下列何者？(A)放棄核武 (B)進出口貿易協定 (C)減緩全球暖化 (D)難民安置問題。

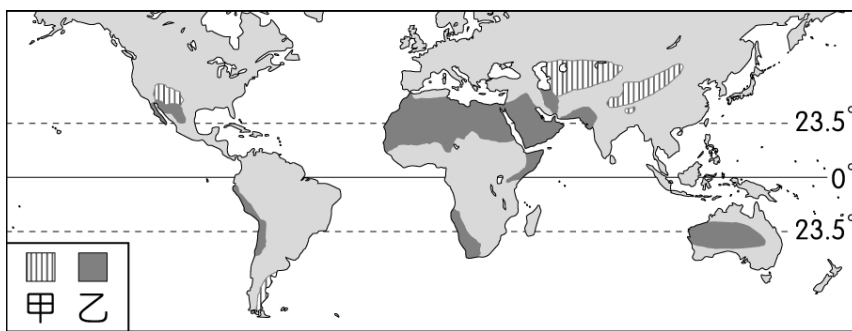
4. () 生態系統中各生物和環境的關係相當密切，附圖二為某地區的珍貴物種，它的花徑超過 1 公尺，重達 7 公斤，尺寸為花中之冠，即使只是花苞就有一顆足球那麼大了。它的花聞來像是腐肉，散發的惡臭，吸引了食腐蠅前來為它授粉，也因此又被封稱為「腐屍花」。請問其生存環境最適合於附圖三中何處？(A)甲 (B)乙 (C)丙 (D)丁。



【↑附圖二】



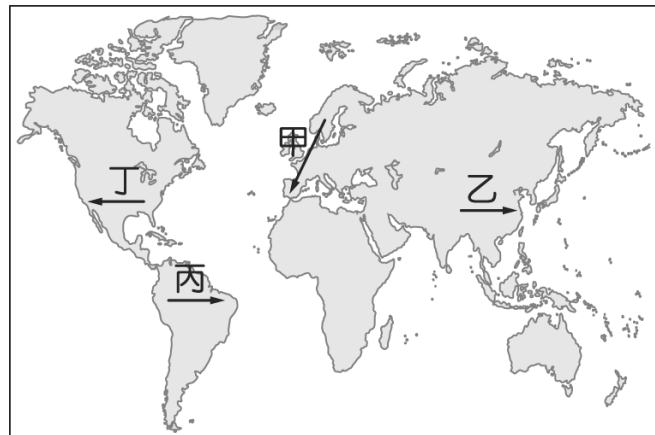
【↑附圖三】



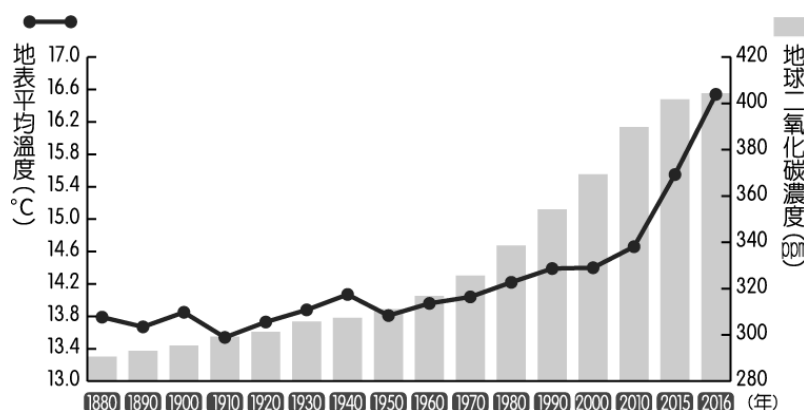
【↑附圖四】

5. () 全球環境問題相當複雜，且各地區所面臨的挑戰各不相同。依附圖四判斷，圖中甲、乙氣候類型的分布區域內，其主要面對的環境問題為何？(A)生物多樣性消失 (B)臭氧層破洞 (C)海平面上升 (D)水資源短缺。

6. () 專家學者警告：「過度伐木正造成氣候變遷，若要扭轉全球暖化問題，一定要拯救『地球之肺』」，若專家學者們想前往考察地球之肺遭受破壞的狀況，應選擇附圖五中哪一條路線最適合？(A)甲 (B)乙 (C)丙 (D)丁。



【↑附圖五】



【↑附圖六】

7. () 附圖六為地球二氧化碳濃度與地表平均溫度變化的統計資料，圖中的變化和下列何項地球環境問題的關係最小？(A)海平面上升 (B)沿海地層下陷 (C)冰川融化 (D)生物棲習地的改變。

8. () 在巴勒斯坦地區立國的以色列和周圍阿拉伯國家間紛爭不斷，其中約旦、敘利亞是為了爭奪何處的水源而引起爭端？(A)約旦河 (B)底格里斯河 (C)阿拉伯河 (D)幼發拉底河。

9. () 海平面上升是全球環境變遷重大議題，當全球海平面上升時，將對台灣造成什麼影響？(A)沿海河川泥沙搬運量增加 (B)西南沿海地層下陷減緩 (C)南部珊瑚礁島數量增加 (D)黑面琵鷺的棲息地將縮減。

10. () 沛沛的爸爸最愛的是德國製重型機車，媽媽最愛的是日本的電器水波爐，哥哥最愛的是美國 NIKE 球鞋，而沛沛最愛的則是阿根廷足球隊。從沛沛一家人的生活中，可以發現這是現代社會的哪一種現象？(A)工業化 (B)全球化 (C)流行化 (D)都市化。

11. () 《富比士》指出，2017 全球前 2,000 大上市企業中，科技領域有高達 49% 是來自美國的企業，而前 25 大科技企業，美國就佔了 15 家；如果看前 10 名，美國則是佔了 8 家，依序是蘋果、微軟、Alphabet、IBM、英特爾、Cisco、

Oracle、Facebook。由上述報導可推論美國經濟具有下列哪一特色？(A)經濟仰賴原料出口 (B)掌握技術與資金 (C)產品的附加價值低 (D)第一級產業發達。

12. () 在全球化貿易的過程中，有些國家為保護本國的企業，常採取下列哪些保護政策？(甲)提高關稅(乙)封閉港口(丙)限制進口(丁)禁止買賣 (A)甲乙 (B)丙丁 (C)甲丙 (D)乙丁。

13. () 近年來，歐盟成員國的希臘由於經濟不佳，債務問題嚴重，資產大幅貶值，連帶影響歐元走勢。請問：哪一個國際性經濟組織最可能資助希臘，搶救希臘經濟，以維持國際間金融的穩定？ (A)國際貨幣基金 (B)世界貿易組織 (C)歐洲聯盟 (D)亞太經濟合作會議。

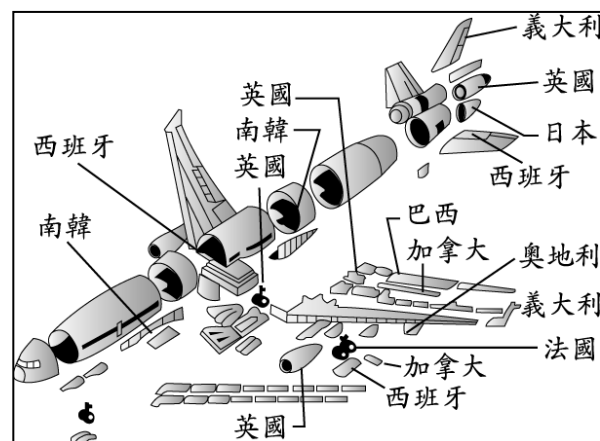
14. () 跨國勞工的移動成為全球化下的必然趨勢，如歐、美、日等國家勞動人口逐漸短缺，因此須引進其他國家的勞工補其不足。請問造成這種現象的主要原因有哪些？ (A)出生率高、人口老化 (B)貧富不均、性別失衡 (C)產業外移、出生率低 (D)工資過高、人口老化。

15. () 附圖七為某架飛機的零件供應地示意圖，請問圖中的訊息最適合表達哪一個概念？(A)工業化 (B)全球化 (C)都市化 (D)集約化。

【附圖七】→

16. () 企業在世界各地設立工廠或分公司，稱之為跨國企業。請問：這種經營型態最主要具有下列何項優勢？ (A)擴展國內市場 (B)降低生產成本 (C)節省產品包裝 (D)降低溫室效應。

17. () 下列為各地之間經常出現的現象，其中何者並非全球化所造成的？ (A)美國 911 恐怖攻擊造成全球經濟影響 (B)臺灣 921 大地震影響全球電腦零件價格 (C)歐盟境內主要會員國間統一貨幣 (D)歐債危機引發全球股市下跌。



【蘋果 iPhoneX 最大亮點，是臉孔辨識技術——Face ID，此關鍵零組件的主要供應商是台南的奇景光電，以及科技龍頭台積電。美國設計師強納生·艾夫表示，蘋果為 iPhone X 的研發準備了五年之久，iPhone X 搭載了具有劃時代特點的全螢幕、融入了臉部辨識功能、在 AR 和 AI 領域的應用也越來越成熟。首批 4.65 萬台蘋果 iPhone X 手機從中國鄭州新鄭綜合保稅區發貨，分別從新鄭機場和上海浦東機場運往荷蘭和阿拉伯聯合大公國。】

18. () 以上報導中，說明蘋果 iPhoneX 在設計、生產、行銷的過程主要是下列何種概念？ (A)國際事務 (B)市場壟斷 (C)區域整合 (D)國際分工。

19. () iPhoneX 能很快速的行銷到世界各地的原因是下列何項因素？ (A)全球暖化 (B)交通革新 (C)區域組織的統合 (D)美國總統川普的政治手段。

20. () iPhoneX 的臉部辨識技術由台灣的廠商提供，請問蘋果公司最主要是考量下列哪個工業區位？ (A)原料 (B)動力 (C)資金 (D)技術。

【公民部分】第 21-40 題，每題 1.5 分

() 21. 臺灣積極參與正式或非正式的國際組織，以爭取國際地位和權益，善盡國際社會的義務。請問：目前臺灣是下列哪些國際組織的會員？(甲)亞太經濟合作會議(乙)東南亞國協(丙)世界衛生組織(丁)世界貿易組織 (A)甲乙 (B)甲乙丙 (C)甲丙 (D)甲丁。

() 22. 歐洲聯盟與聯合國兩者，是現在國際政治中為最重要的國際組織之一，此兩者間的共同點，下列何者為兩者的正確分類方式？ (A)兩者都屬於政府的國際組織 (B)兩者都屬於全球性的國際組織 (C)兩者都屬於區域性的國際組織 (D)兩者都屬於非政府的國際組織。

() 23. 本月初，由國際佛光山東京分會和日本豐島區公所等單位合辦的第七屆「台日支援日本東北、熊本大地震重建」公益園遊會，在池袋西口廣場舉辦兩天，尤其各攤位推出的素食小吃，讓日本民眾體驗既健康又環保的台灣另類美食。請問：上述園遊會的活動內容是屬於哪一種國際互動的型態？ (A)國際援助 (B)國際合作 (C)國際交流 (D)國際衝突。

() 24. 世界衛生大會為世界衛生組織的最高權力機構，關於此兩個組織，下列何者正確？ (A)世界衛生組織關心人類身心健康，屬於 NGO (B)2009 年我國因 SARS，以中華台北名稱，獲邀出席世界衛生大會分享經驗 (C)此兩個組織都屬於區域性的國際組織 (D)目前我國已成為世界衛生組織的會員國。

() 25. 依照臺灣目前的外交處境，什麼樣的作法最能有效擴展我國在國際上的生存空間？(A) 向我國周邊國家示威，以建立我國威望 (B) 研發製造高科技毀滅性武器，提升我國的國際地位 (C) 透過政府努力與民間的力量，積極爭取我國在國際中最大曝光度 (D) 為捍衛我國主權，堅持以中華民國名稱加入所有國際組織。

() 26. 以下是小戎整理公民課中某個公民課所提的概念：「八零年代起，它的發展改變了傳統的正式外交關係，成為制定國際政策的主要場所，除了解決國際間的問題，也能促進國際間的合作，它已經成為國際生活的一部份。」根據內容判斷，此為哪個概念？(A) 國際組織 (B) 跨國企業 (C) 主權國家 (D) 恐怖組織。

() 27. 國際社會越來越重視人權問題，繼「世界人權宣言」後，聯合國大會之後又通過「兩公約」。請問：關於這些人權法典，下列解讀何者有誤？(A) 我國已立法通過兩公約施行法，作為國內法貫徹兩公約規範之法源 (B) 「兩公約」是指「經濟社會文化權利國際公約」及「公民與政治權利國際公約」(C) 我國非聯合國的成員，因此我國的兩公約施行法抵觸兩公約而無法在國內施行 (D) 兩公約之內容對我國人權保障機制有深遠影響。

() 28. 每天用來潔牙的牙膏、用來洗臉的洗面乳、磨砂去角質的日用產品，許多都含有塑膠柔珠 (microbeads)。它的體積極微小，污水處理系統難以過濾和阻攔，最終流入海洋，可能造成全球關注的某種議題。請問：此某種議題，與下列何者國際約定最不相關？(A) 生物安全議定書 (B) 生物多樣性公約 (C) 瀕臨絕種野生動植物國際貿易公約 (D) 兩公約。

() 29. 龍應台女士對於「如何成為世界公民」，她提出一套自己的看法：「選一個議題，建立一套知識，加入一個組織，從這裡開始，你就會知道，你可以做那一個黑暗房間裡的燭光。」請根據你的所學、所聞，依上文推敲，下列哪個並非她要表達的意思？

(A) 因為很難改變現狀，所以對世界、對周遭環境採取「保持距離」、「不作為」的態度即可 (B) 世界公民須具備知識、行動能力，以及品格力 (C) 改變世界前，先改變自己，相信自己的行動可以造成不同 (D) 對公平、正義有所關切，關懷人類社區的現在和未來，且這種關懷不因國界而有所隔閡。

() 30. 今年四月，台灣虎航有一名麻疹確診空服員未依規定落實檢疫防疫，於傳染期間持續出勤，並由高雄國際機場入境，致使眾多國內外接觸者暴露傳染風險，高雄市衛生局依違反傳染病防制法裁罰。請問：關於跨國疾病問題，下列敘述何者有誤？(A) 應遵守政府規定，不要攜帶疫區的水果、農產品回國 (B) 由於旅遊、貿易、移民頻繁，使得許多疾病迅速在世界各地傳播 (C) 若出國回來，出現發燒、結膜炎等疑似症狀，應配戴口罩儘速就醫，並告知醫生旅遊接觸史 (D) 各國政府由於病情不一，因此處理傳染病應由各國自行管理，效果較好。

() 31. 據報載：「41歲的臺灣籍翁姓男子於2006年因開槍殺害1名中國留學生，並造成另一名中國學生受傷，涉嫌謀殺，案情疑與幫派買賣糾紛有關；之後翁姓男子逃逸到加拿大後也涉嫌殺人，因此加拿大皇家騎警向翁男發布通緝令，加拿大警方隨即向國際刑警組織提出通緝要求，並獲登錄在案。因此當翁姓男子入境韓國時，即遭到逮捕。」請問：關於國際刑警組織的敘述，下列何者正確？(A) 屬於全球的非政府組織 (B) 致力於通緝犯的公平審判以及死刑的廢止 (C) 英文縮寫為 I C B L (D) 右圖為該組織的標誌。

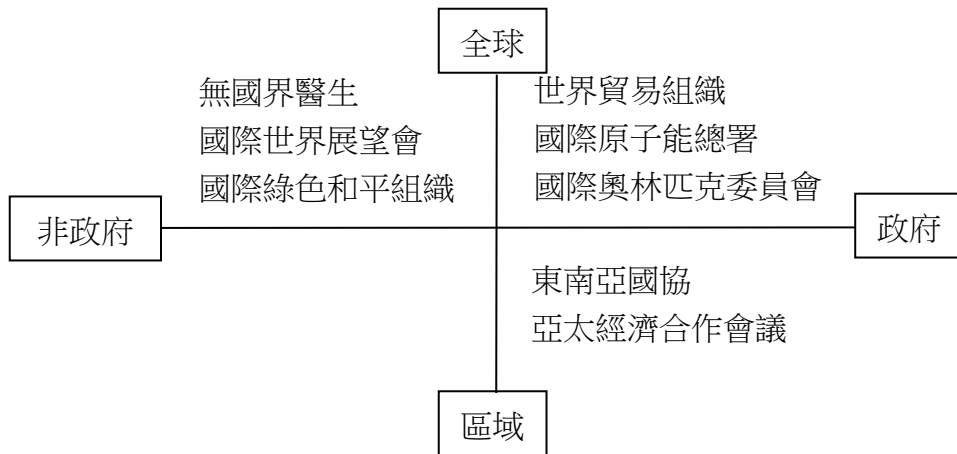


() 32. 承上題，國際組織可依「成員的分佈區域」與「成員的性質」這兩種方式分類，下列何者與國際刑警組織的分類完全相同？(A) 國際特赦組織 (B) 聯合國 (C) 東南亞國協 (D) 國際反地雷組織。

() 33. 據NBC (美國國家廣播公司) 報導：「川普在與普丁上個月通電話時，發起了軍備競賽的挑戰，並誇下海口說美國必勝。之後普丁就公布一項聲稱能超越北約導彈防禦系統的最新核武後，川普就對俄羅斯採取更強硬的路線。」請問：關於軍備競賽的敘述，下列何者錯誤？(A) 軍備競賽會造成國與國之間的不信任 (B) 軍備競賽有可能增加周邊國家緊張的氣氛 (C) 軍備競賽到最後一定會引起戰爭 (D) 軍備競賽對國家經濟與人民生計會造成相當沉重的負擔。

() 34. 承上題，普丁公布俄羅斯的最新核子武器，並聲稱可超越北約導彈防禦系統的覆蓋範圍，可能會引來相關國際組織的關注。請問：下列哪個國際組織的任務是關注核子武器發展，選出正確選項？(甲) 聯合國 (乙) 國際原子能總署 (丙) 國際綠色和平組織 (丁) 亞太經合會 (A) 甲乙丙丁 (B) 甲乙丙 (C) 甲乙 (D) 甲。

() 35. 下表是小愷將國際組織的分類做成統整表格，請幫忙他檢查哪個國際組織的分類有誤？(A) 東南亞國協 (B) 國際綠色和平組織 (C) 國際世界展望會 (D) 國際奧林匹克委員會。



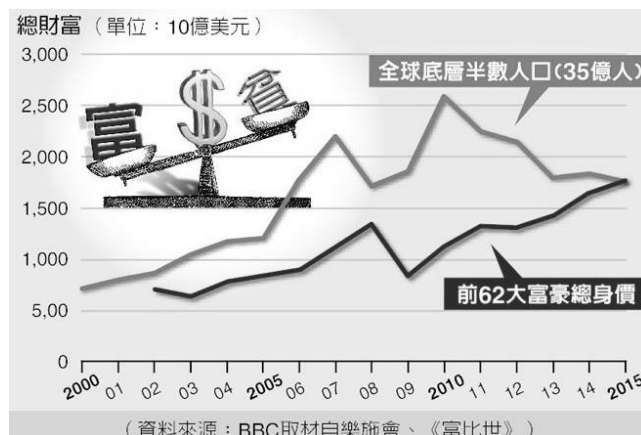
() 36. 聯合國難民署年度發表的《全球趨勢報告》指出，截至西元 2016 年底，全球有 6560 萬人被迫流離失所，成為難民。近幾年，全球難民總數每年約以百萬人增加。請根據上文所述，判斷下列敘述何者有誤？(A) 不論男女、老少、種族、階級、黨派……，都希望受到公平的對待並活得有尊嚴 (B) 從聯合國難民署的報告可知，難民人數已逐漸增加，顯示仍有國際衝突 (C) 各國基於尊重人權與人道關懷精神，提供人道賑災與災後重建，屬於國際社會互動中的國際交流 (D) 造成難民出現的原因有很多，宗教因素即為其中的一種。

() 37. 國際社會中主要的互動方式，包括國際合作、國際交流、國際援助、國際衝突，請問：下列哪項是「國際援助」的事例？(甲) 我國國際合作發展基金會協助尼加拉瓜提升菜豆優良種子產量及研發新品種，以改善貧血與孩童營養不良等問題 (乙) 古典音樂界最夢幻的組合「柏林愛樂 12 把大提琴」，其成員來自全世界地位最崇高、最頂尖的柏林愛樂管弦樂團，將於今年六月來臺演出 (丙) 我國組成行動醫療團，協助吐瓦魯建置資訊系統，並有短期醫師駐診，且幫忙整間醫院的婦幼健康中心和增添嬰幼兒醫療照護設備 (丁) 今年四月在中國南海省召開博鰲論壇，中國國家主席習近平出席並邀請相關國家，一起討論亞洲和世界經濟和社會發展，包括金融、貿易、投資及環境等領域的重要問題 (A) 甲乙 (B) 甲丙 (C) 乙丙 (D) 丙丁。

() 38. 「公平貿易」是一個以交流對談、透明化及相互尊重為基礎的貿易關係，可以為偏遠地區、落後國家的生產者及工作者提供並確保更良好的貿易條件。關於「公平貿易」，下列敘述何者有誤？(A) 「血汗巧克力」是被剝削的小農們用血汗生產出的巧克力，因此我們要多多購買、支持他們的辛苦 (B) 購買貼有公平貿易認證標章的商品，其原料透過公平貿易取得，農人及工人們將可以獲得更多的利潤，進而改善生活水準 (C) 在自由貿易體系內，讓許多農民與工人並未真正獲益，長期生活在恐懼與貧困之中，因此公平貿易更顯得重要 (D) 公平貿易組織可舉辦各類聲援生產者的活動，提升消費者對公平貿易的認知。

() 39. 去年四月，擔任國際志工服務近二十年的朱永祥出版《陪他們走一段回家的路：國際志工的微小力量》，書中提到：「或許我們沒辦法在這個世界上做什麼偉大的事情，但我們可以帶著一個偉大的愛，去做一些小事，然後相信這件微小的事情可以在你的看顧下，成就一件偉大的事。而我們就像是一群微小力量的夥伴們，期盼能喚醒自己和角落的人們看見存在的價值，成為彼此生命中無法取代的過客。」請問：藉由這本書的內容，我們可以推敲出作者的行為已實踐了下列何種世界公民的角色與責任？(A) 關心環保，投入環保 (B) 關懷弱勢，跨國服務 (C) 出國旅遊，調劑身心 (D) 擴展視野，進行交流。

() 40. 下圖所顯示的全球關注議題，可藉由下列何者方法改善或解決？



(A) 各國政府提出改善所得分配的政策，並擬出妥善的社會福利，加強孩童受教育的機會 (B) 政府加強宣導防疫、檢疫；民眾往來世界各地時，也要加強管理自我的健康 (C) 每個人應改變消費習慣、提升環保意識，從日常生活做起 (D) 國與國間加強打擊犯罪，阻止恐怖活動的可能行為。

【歷史科】(第 41~60 題，每題 1.5 分)

人物題：請從下列敘述選出最適當的人選。

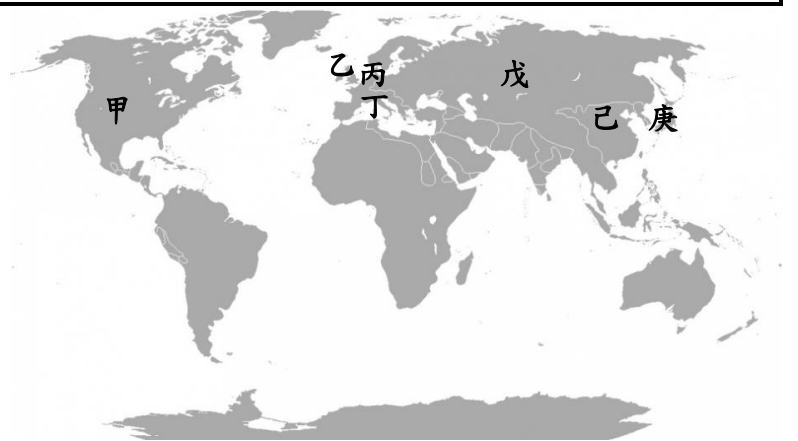
- () 41. 第一次世界大戰後，戰敗的鄂圖曼土耳其帝國面臨被列強瓜分的危機，請問：當時推動土耳其建立共和政府，促進土耳其現代化的領導人，是下列何人？(A) 凱末爾 (B) 華盛頓 (C) 邱吉爾 (D) 玻利瓦。
- () 42. 呼籲以非暴力的不合作方式，抵制英國的統治，抵制手段包括：要求印度人拒買英貨、拒絕納稅、不到法庭、不任公職…等。請問：上述人物應該是何人？(A) 希特勒 (B) 邱吉爾 (C) 甘地 (D) 墨索里尼。
- () 43. 提出：「我們的民族是世界上最優秀的！絕不能容許人類的殘渣—猶太人的存在」，提出這種極端想法的可能是下列何人？(A) 威爾遜 (B) 列寧 (C) 史達林 (D) 希特勒。
- () 44. 率領布爾什維克黨並提出：「和平土地麵包」的口號，吸引廣大民眾的支持，發動十月革命，推翻臨時政府，成立「共產國際」推廣共產主義的應該為下列何人？(A) 尼古拉二世 (B) 列寧 (C) 史達林 (D) 普丁。

判讀題：請從題目的提示判斷，選出最正確的答案。

- () 45. 西元 1950 年韓戰爆發，美國政府提供臺灣經濟及軍事援助，美國當時援助臺灣的最有可能的原因是下列何者？(A) 圍堵政策的實行 (B) 轉移經濟大恐慌焦點 (C) 持續和日本進行對抗 (D) 為了介入越南的政局。
- () 46. 承上題，美國在第二次世界大戰後，為了協助振興歐洲經濟，對歐洲各國進行經濟援助計畫，此計畫官方名稱稱為「歐洲復興計畫」，因為其提出者的關係，又被稱為什麼名稱？(A) 羅斯福新政 (B) 馬歇爾計畫 (C) 不合作運動 (D) 華沙公約組織。
- () 47. 德國著名牧師馬丁·尼莫拉的一首詩〈懺悔文—起初他們〉：「起初他們（納粹）衝向共產黨人；我沒有出聲，因為我不是共產黨人。接著他們衝向社民黨人；我沒有出聲，因為我不是社民黨人。然後他們衝向工會成員；我沒有出聲，因為我不是工會成員。後來他們衝向□□人；我沒有出聲，因為我不是□□人。現在他們向我而來；到這時，已經沒有人可以替我說話了。」此詩中提到的□□人，最有可能是下列何種人？(A) 阿利安人 (B) 斯拉夫人 (C) 日耳曼人 (D) 猶太人。
- () 48. 某人在英國下議院發表〈絕不投降〉演說：「我們將戰鬥到底。我們將在法國作戰，我們將在海洋中作戰，我們將以越來越大的信心和越來越強的力量在空中作戰，我們將不惜一切代價保衛本土，我們將在海灘作戰，我們將在敵人的登陸點作戰，我們將在田野和街頭作戰，我們將在山區作戰。我們絕不投降……。」臨危受命擔任英國首相並發表上述演說的某人應該是下列何人？(A) 邱吉爾 (B) 羅斯福 (C) 史達林 (D) 威爾遜。
- () 49. 西元 1987 年 6 月 12 日美國總統雷根在柏林布蘭登堡門前發表演說：「我們樂見改變和開放；因為我們相信自由與安全並行，人類自由的進步令我們更努力追求世界和平。蘇聯可以做一件很明顯的事，一件大幅促進自由與和平的事。○○○總書記，如果你要尋求和平，如果你要為蘇聯和東歐尋求繁榮，如果你要尋求自由：就到這扇門來吧！○○○先生，打開這扇門！○○○先生，推倒這堵牆！」請問：雷根總統大聲疾呼的對象○○○先生，應該是下列何人？(A) 墨索里尼 (B) 戈巴契夫 (C) 希特勒 (D) 史達林。

圖片題：請從各題圖片選出最適合的答案。

- () 50. 根據右圖，第二次世界大戰的亞洲戰場，「盧溝橋事變」的發生地，應該在圖中哪個位置？(A) 甲 (B) 戊 (C) 己 (D) 庚。
- () 51. 西元 1938 年併吞奧地利後接著占領捷克蘇臺德區的國家，應位於圖中何處？(A) 乙 (B) 丙 (C) 丁 (D) 戊。
- () 52. 第二次世界大戰的軸心國，應該是圖片上哪幾個國家所組成？(A) 甲乙丙 (B) 乙丙丁 (C) 丙丁戊 (D) 丙丁庚。
- () 53. 西元 2018 年 4 月 13 日，聯合國安全理事會應△△△的要求召開會議，討論美國、法國和英國對敘利亞發動空襲一事，美國、英國、法國對於敘利亞政府在本月 7 日發生疑似化學武器攻擊平民事件發動了「精準攻擊」，但是，鄰近敘利亞並且身為聯合國五強之一的△△△質疑「精準攻擊」的正當性，因此要求召開會議，請問：△△△應該是圖片上哪個國家？(A) 甲 (B) 乙 (C) 戊 (D) 己。



- () 54. 承上題，聯合國安理會中擔任常任理事國的五強，擁有什麼權利可以用以解決國際糾紛？(A)否決權 (B)獨立權 (C)管轄權 (D)求償權。
- () 55. 另外，主張接收敘利亞難民的德國總理梅克爾，在國內也面臨新一波組閣的挑戰。德國在第二次世界大戰後曾經被分區佔領，但是，在東西德統一後再次強大，請問：東西德合併是在什麼時候？(A)西元 1985 年 (B)西元 1989 年 (C)西元 1990 年 (D)西元 1991 年。

比較題：請按照題目判斷下列表格最適合的答案。

- () 56. 下列關於第一次世界大戰與第二次世界大戰的比較，「正確」的共有幾項？(A)2 項 (B)3 項 (C)4 項 (D)5 項。

項目	第一次世界大戰	第二次世界大戰
(甲)爆發時間	1914 年	亞洲戰場 1937 年
(乙)導火線	斐迪南夫婦被暗殺	盧溝橋事件
(丙)參戰陣營	協約國&同盟國	同盟國&軸心國
(丁)結束時間	1918 年	1945 年
(戊)戰後組織	國際聯盟	聯合國

【表一】第一次世界大戰與第二次世界大戰比較表

項目	國際聯盟	聯合國
(甲)成立時間	1920 年	1945 年
(乙)倡議國	美國	中美英蘇等國
(丙)發起主旨	威爾遜十四點原則	改善國聯未能達到制裁侵略情況
(丁)評價	安理會可制裁	效能不彰

【表二】國際聯盟與聯合國比較表

- () 57. 關於【表二】國際聯盟與聯合國的比較，哪個選項「錯誤」？(A)甲 (B)乙 (C)丙 (D)丁。


時序題：請將下列事件按照發生先後順序加以排序。

- () 58. 請將下列事件按照發生先後順序加以排序。(A)甲乙丙丁 (B)丙丁甲乙 (C)乙甲丁丙 (D)丙丁乙甲。



- (甲)俄國二月、十月革命 (乙)土耳其共和國成立 (丙)經濟大恐慌 (丁)第二次世界大戰爆發

- () 59. 請將下列事件按照發生先後順序加以排序。(A)甲乙丙丁 (B)甲丁丙乙 (C)丁甲丙乙 (D)乙丁甲丙。



- (甲)慕尼黑會議 (乙)第二次世界大戰結束 (丙)珍珠港事變 (丁)簽德蘇互不侵犯條約

- () 60. 請將下列事件按照發生先後順序加以排序。(A)丙丁甲乙 (B)丙甲乙丁 (C)丙乙丁甲 (D)甲乙丙丁。



- (甲)古巴危機 (乙)韓戰爆發 (丙)柏林危機 (丁)越戰爆發

【試題到此為止，請詳細檢查，預祝各位同學 會考順利!】