

# 新北市立崇林國民中學一〇八學年度第一學期第三次段考七年級 社會科 試題

班級：\_\_\_\_\_ 座號：\_\_\_\_\_ 姓名：\_\_\_\_\_

※請用 2B 鉛筆在答案卡上畫記，注意題號，班級座號畫記錯誤者，扣總分五分！

## 【公民科】題組：每題 2 分，共 36 分

文化部公布邁向第五年的一〇九年原住民村落文化發展計畫補助名單，經評審共同討論決議補助十九案。文化部表示，綜觀本次入選計畫內容，所關注的文化面向更加多元，且執行方式與主題也結合更多創新思維，包含都市、原鄉及舊部落文化尋根、青少年的文化參與、青銀協力共創、歌謠古調及樂音，還有傳統文化復振、文化空間營造，以及文化產業經營、部落文化與藝術展演的結合等，豐富且多元的計畫發想，皆能看到原住民族朋友們的文化底蘊及創新能量。【台灣新生報 2020-01-01】

- ( ) 1. 獲補助的南投縣魚池鄉邵族文化發展協會「逐鹿桃花源-邵族傳統記憶連結工作坊」，透過辦理文化培力課程，孕育新生代部落工藝師與導覽人員，將產業結合旅遊行程，推廣觀光。請問：前述計畫符合原民會公告的「107 年度原住民族部落活力計畫」哪一個目標？ (A) 復振部落傳統文化，凝聚文化主體認同 (B) 發展部落經濟產業，促進部落就業機會 (C) 回復共工共耕文化，減少貨幣依賴 (D) 落實部落會議組織，奠定原住民族自治基礎
- ( ) 2. 屏東縣泰武鄉佳平社區發展協會提出「收穫小米園、建築穀倉夢」，將小米種植過程中所涵蓋的豐富祭祀與相關禁忌，透過耆老帶領青年，攜手完成種植小米的過程，讓青年親身了解小米祭儀、習得相關專用族語，重拾小米文化及族語詞彙，對部落文化有更深刻的了解。請問：前述計畫符合原民會公告的「107 年度原住民族部落活力計畫」哪一個目標？ (A) 復振部落傳統文化，凝聚文化主體認同 (B) 發展部落經濟產業，促進部落就業機會 (C) 回復共工共耕文化，減少貨幣依賴 (D) 落實部落會議組織，奠定原住民族自治基礎
- ( ) 3. 文化部表示，今年入選之計畫，關注面向更加多元，其中關於都市、原鄉及舊部落文化尋根、青少年文化參與的計畫，其目的為何？ (A) 建立各部落的共識 (B) 提供原住民公民參與的管道 (C) 使原住民了解、認同自己的文化 (D) 促進原住民文化主流化
- ( ) 4. 屏東縣原民處長伍麗華接受民進黨徵召參選今年的山地原住民立法委員，她在政見發表時細數了擔任屏東縣原民處長時的政績，其中提到她推動產業第一所全國咖啡網路交易平台、紅藜故事館等。請問：前述政績與原民會公告的「107 年度原住民族部落活力計畫」哪一個目標相符合？ (A) 復振部落傳統文化，凝聚文化主體認同 (B) 發展部落經濟產業，促進部落就業機會 (C) 回復共工共耕文化，減少貨幣依賴 (D) 落實部落會議組織，奠定原住民族自治基礎
- ( ) 5. 承上題，伍麗華提出她長期致力於推動族群主流化，讓原住民族的藝術文化能有更多非原住民的參與，真正達到讓非原住民認識、欣賞，甚至羨慕原住民族的目標。請問：前述做法可以達成哪個目標？ (A) 維護多元文化的社會 (B) 捍衛公平正義的價值 (C) 促進公民參與 (D) 維護人性尊嚴

《難民法》從 2005 年民進黨第一次執政時，就由內政部提出送至國會審查，2008 年國民黨重新執政，也再度把《難民法》草案送進立法院，列為「優先法案」。但不論是哪一個政黨執政，這個攸關難民個案的人道及人權的法案，至今仍然過不了三讀。《難民法》草案對難民認定要件、程序及審查機制詳實規範，並對申請人在台停留期間享有法律諮詢、醫療照顧、安置、收容等各項基本權利，給予充分支援與協助。台灣不是沒有難民個案，但立法院一直沒有通過難民法，這些個案就無法獲得應有保障的法源依據。【台灣人權促進會 2020-01-03】

- ( ) 6. 難民並非我國人民，給予難民在台停留期間享有上文中畫底線的權利，是基於何種理由？ (A) 使我國能獲得國際尊重 (B) 維護多元文化的價值 (C) 遵守聯合國的規範 (D) 維護人性尊嚴
- ( ) 7. 「人生而自由，在尊嚴和權利上一律平等」是下列哪一項文件的重要主張？ (A) 中華民國憲法 (B) 世界人權宣言 (C) 經濟社會文化權利國際公約 (D) 公民與政治權利國際公約
- ( ) 8. 關於我國人民人權保障的法律依據，是規範在下列哪一項文件當中？ (A) 中華民國憲法 (B) 世界人權宣言 (C) 經濟社會文化權利國際公約 (D) 公民與政治權利國際公約
- ( ) 9. 保障身心障礙者的工作權、維護原住民公民參與的權利、改善職場性別歧視、協助新住民生活適應及提供法律資源，都是基於下列哪一項理由？ (A) 獲得國際尊重 (B) 維護多元文化的價值 (C) 遵守聯合國的規範 (D) 捍衛公平正義

距離核廢料最終處置場候選場址不遠處的南田海邊，最近蓋起綠色建築物，村民議論紛紛，不知道建築物的用途。達仁鄉南田村部落會議日前通知鄉公所和村民，20日要召開部落會議，邀請「晉陞太空科技公司」說明探測火箭發射，大家才知道這綠色建築是晉陞太空科技公司探測火箭試射場。業者原計畫於27日發射首枚太空探測火箭，當地村民認為在尚未完全取得部落同意前，不同意發射火箭。業者表示，發射計畫先暫緩，會繼續溝通。【中央廣播電台 2019-12-20】

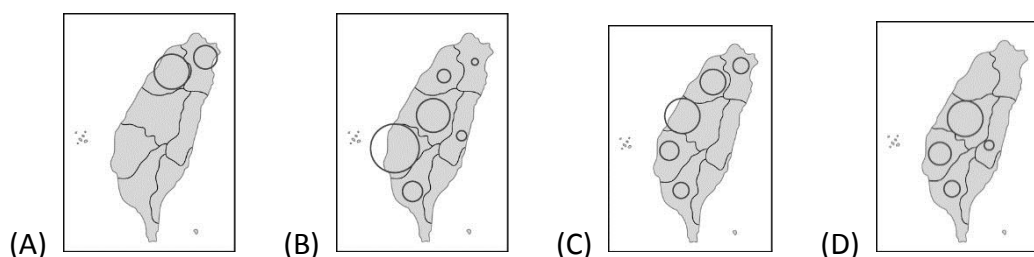
- ( ) 10. 政府或私人於原住民族土地或部落及其周邊一定範圍內之公有土地從事土地開發、資源利用、生態保育及學術研究，應諮商並取得原住民族或部落同意或參與。根據課程的介紹，前述規範應是下列哪一部法律的內容？ (A) 中華民國憲法 (B) 原住民族基本法 (C) 會議規範 (D) 原住民族自治法
- ( ) 11. 本案例中，部落居民討論是否同意設置火箭試射場，應透過下列何者產生決議？ (A) 公民投票 (B) 政府政策決定 (C) 部落會議 (D) 鄉長裁決
- ( ) 12. 關於部落對原住民的意義之敘述，何者正確？ (甲) 傳統生活空間 (乙) 連結與認同自己族群的傳統文化 (丙) 生產與分配的單位 (丁) 隨著族人往都市找工作和受教育，部落空間也隨之遷徙 (A) 甲乙丙 (B) 乙丙丁 (C) 甲乙丁 (D) 甲丙丁
- ( ) 13. 南田部落是排灣族人居住，下列關於排灣族的敘述，何者正確？ (甲) 領袖可接受族人給予的農租，領袖也有責任照顧失去親屬的老人、幼童或身障者 (乙) 強調互助合作及共享精神 (丙) 領袖產生方式是由部落長老推選 (丁) 重要歲時祭儀是矮靈祭 (A) 甲乙丙丁 (B) 甲乙丙 (C) 丙丁 (D) 甲乙

自從1972年的斯德哥爾摩宣言開始，到2015年的巴黎協議，國際社會對於環境的保護愈發重視。國際社會發現，環境破壞所造成的不可逆結果，已經嚴重影響到人類的健康生活。臭氧層的破壞導致人類皮膚病發機率增高、隨意棄置有害物質導致土地與水源無法繼續使用、近來溫室氣體所造成的氣候變遷也嚴重影響地球生態系統，更讓許多島國居民成為了實實在在的氣候難民。而環境與人權的交會也開始被討論。【自由時報電子報 2019-12-31】

- ( ) 14. 下列關於「人權」的敘述何者正確？ (甲) 生而為人與生俱有的各項權利 (乙) 需要努力爭取才能獲得 (丙) 人權保障的核心價值是維護人性尊嚴 (丁) 生命權、平等權、自由權、工作權、參政權等，都是基本人權 (A) 甲乙丙 (B) 甲丙丁 (C) 甲乙丁 (D) 乙丙丁
- ( ) 15. 因各國的民主化程度不同，各國人民所享有的權利也有差異。基於你對「人權」的認識，本題所敘述的現象是否合理？ (A) 合理，各國統治者要怎麼對待人民是各國政府的權力 (B) 合理，每個國家都是獨立的主權實體，其他國家甚至是聯合國都不得干涉 (C) 不合理，人權不應因國籍不同而有差異 (D) 不合理，所以這是民主強權國家可以去攻打其他國家的正當理由
- ( ) 16. 隨著時代的進步，我們對於人權所涵蓋的內容定義，也隨之改變，根據題組文章的敘述，下列何人的說法是正確的？ (A) 小玉：人權不應包含環境權，因為經濟發展還是比環境保育重要 (B) 小新：人權不應該包含環境權，因為憲法沒有明文寫出來 (C) 小花：人權應該包含環境權，但這只有先進國家才做得到 (D) 小民：人權應該包含環境權，環境破壞會威脅人們健康生活的權利，所以任何人都有權向國家要求
- ( ) 17. 除了環境權以外，近年來也有許多人主張尊重並維護各種不同文化的多元文化權、免於戰爭威脅的和平權，也都應納入人權的範圍，因此，人權內容不斷充實及完整。請問：以下何者不是國際公認的人權三大法典？ (A) 兒童權利公約 (B) 世界人權宣言 (C) 經濟社會文化權利國際公約 (D) 公民與政治權利國際公約
- ( ) 18. 去年底立法院三讀通過了刑事訴訟法修正案，往後對於一再反覆實施侵害人身安全、妨害居住安寧、破壞社會秩序（尤其是再犯率較高的重罪、侵害身體自主權或性自主決定權的犯罪、加重詐欺罪等）的嫌犯，將會透過羈押手段暫時將他們隔離於社會大眾之外，稱預防性羈押。然而，此預防性羈押期間法院尚未判決，嫌犯僅具有嫌疑，尚未判刑確定就被羈押在看守所，若就人權觀點來看，與「a」有一定的矛盾，應慎重為之。前述a原則應填入下列何者？ (A) 法律之前人人平等 (B) 無罪推定原則 (C) 公平正義原則 (D) 比例原則

**【歷史科】每題2分，共32分**

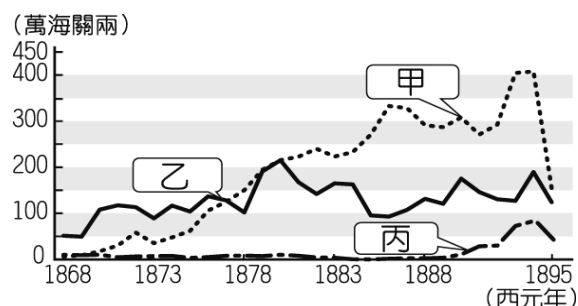
- ( ) 19. 選項(A)~(D)的圖片中，圓圈大小代表產量多寡。請問：下列哪一張圖，最可能是當時的「茶葉」產量分布圖？



◆陳榮山於清法戰爭後因家鄉大旱歉收難以維生，聽說「臺灣錢淹腳目」，決定到臺灣闖蕩。他從廣東潮州渡海來臺，至臺灣南投竹山開墾，與其他同為潮州的陳姓移民共同出資供奉他們在中國的原鄉祖先陳三，每年分春、秋兩季祭祖聚餐聯誼。請回答 20 題：

- ( ) 20. 陳榮山渡海來臺，下列那一個狀況較「不可能」發生？(A)他與同鄉的同姓移民者共同祭祀原鄉祖先，是屬於唐山祖的宗族組織。(B)他開墾有成後，可以考慮和外國洋行做生意。(C)他遇到不順心的事情可以到附近的三山國王廟拜拜，祈求心靈安定。(D)他想入山開採樟腦，卻因劃界封山禁令不被官府允許。
- ( ) 21. 左下表是臺灣三個不同時期對外貿易的主要進出口貨物。請依「先後順序」排列？(A)甲乙丙 (B)乙丙甲 (C)丙甲乙 (D)丙乙甲。

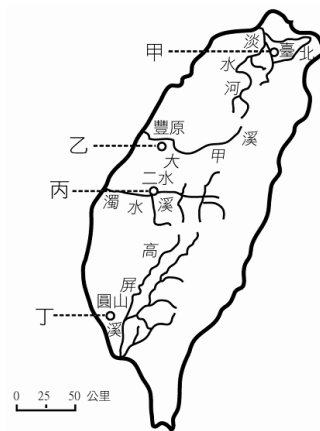
時期	出口大宗	進口大宗
(甲)	米、糖	絲綢、日用品
(乙)	糖、樟腦、茶	紡織品、鴉片、雜貨
(丙)	糖、鹿皮	布匹、武器



- ( ) 22. 右上圖是某一時期臺灣糖、茶、樟腦出口總值圖，請問：下列敘述何者「正確」？(A) 甲是糖、乙是茶、丙是樟腦。(B) 甲是樟腦，因為產量曾居世界第一，成為當時最大宗的輸出品。(C) 乙是糖，為臺灣歷史悠久的出口商品。(D) 丙是糖，受到製糖技術影響，後期才增加產量。

◆右圖為清臺灣重要水利設施分布圖，請根據地圖回答 23-24 題：

- ( ) 23. 文獻記載：「原來社番不知鑿水灌溉旱埔，致使所種五穀，歷年失敗。眾番乃議定：能出工本錢，募工鑿圳，引水灌溉者，番族願以西勢阿河巴埔地：換取十分之二圳水，.....而其餘十分之八則留漢田灌溉，規劃開發。」請問：上述文獻所敘述的水圳應為哪一條？(A) 甲 (B) 乙 (C) 丙 (D) 丁。
- ( ) 24. 有關這四條水圳的認識，何者敘述「正確」？(A) 甲一為乾隆時期修建的水圳，修建時應隸屬於淡水廳 (B) 乙一為官方主導興建的水圳 (C) 丙一為閩粵人士合作開發的水圳 (D) 丁一為清代灌溉規模最大的水圳。



◆關宏代表學校參加「台灣諺語」的比賽，榮獲國中組冠軍。其中與清代台灣歷史有關的俗諺如下，請回答 25-28 題：  
 (ㄅ) 少年若無一時愁，路邊那有有應公。(ㄆ) 唐山過台灣，心肝結歸丸。(ㄇ) 仙拚仙，拚死猴齊天。  
 (ㄋ) 一個某，卡贏三個天公祖。(ㄏ) 過番剩一半，過台灣無底看。(ㄉ) 有唐山公，無唐山媽。(ㄌ) 六死三留一回頭。

- ( ) 25. (ㄅ)~(ㄌ) 形容當時「移民渡海來臺艱辛」的諺語有幾個？(A) 一 (B) 二 (C) 三 (D) 四個。
- ( ) 26. 有關右圖「鹿港隘門」的介紹，與下列哪一句臺灣諺語所描述的情況類似？(A) 六死三留一回頭。(B) 有唐山公、無唐山媽。(C) 過番剩一半，過台灣無底看。(D) 仙拚仙，拚死猴齊天。
- ( ) 27. 有關下列諺語的說明何者「正確」？(A) 清代臺灣社會出現「有唐山公，無唐山媽」的現象，主因是因為漢番隔離政策使得漢人娶妻不易。(B) 「少年若無一時愁，路邊那有有應公」這句話反映了清代臺灣社會生存艱辛與械鬥頻繁的情況。(C) 「一個某卡贏三個天公祖」意指當時社會只重生男不生女的社會風氣，以至於「娶某」不易。(D) 「唐山過臺灣，心肝結歸丸」是形容當時移民渡臺艱辛，所以許多漢人為了祈求航海順利而信仰海龍王。
- ( ) 28. 關宏祖籍福建泉州，是關氏移民來臺的第十代子孫，家族曾在 1853 年的「頂下郊拚」失敗後從艋舺移居到大稻埕。有關其家族的敘述，何者「錯誤」？(A) 關宏家族所發生的「頂下郊拚」是因為爭奪田地而引起械鬥。(B) 關宏每年祭祀時，會從祖產中撥出部分經費來祭祀開臺祖先。(C) 關宏的祖先移居大稻埕後，極有可能從事茶業的生意。(D) 關宏是信仰很虔誠的人，他經常到附近的清水巖祖師廟拜拜。

#### 鹿港隘門

隘門——是早期臺灣為了維護治安的防禦措施，有時也用來區隔地界，並緩和各族(施、黃、許，當時鹿港三大姓氏)紛爭，白天開大門、關小門，以利人車通行；晚上則關閉大小門，只留下眼孔用以觀察門外動靜，若有晚歸之人則必須以暗語通告，始得進入。上題有「門迎後車」四字。

\*\*\*\*\*

◆時人稱「番勢李仔春」的李春生，自幼家境貧困，年少時跟隨父親到廈門經商，在當地習得英語與漢語，使他成為漢人與西方商人溝通的橋梁，因緣際會結識來自蘇格蘭的茶商約翰·陶德，協助他創出「臺灣烏龍茶」(Formosa Oolong) 品牌，享譽國際，促成北部製茶事業大為興盛，茶葉成為當時最大宗的出口商品，李春生因此有了「臺灣茶葉之父」的美稱。李春生除了經營事業以外，對於傳教更是不遺餘力，他不僅是北臺灣基督教長老教會的奠基者，更在臺灣建省後，協助劉銘傳建設大稻埕，使得各國商人在此處雲集。

- ( ) 29. 請問有關林家家族來臺的敘述，「正確」的有幾項？(ㄅ)文中提及「番勢李仔春」的「番」是指李春生熟番的身分。(ㄆ)李春生當時是從淡水出口茶業，再銷往美國。(ㄇ)李春生是北臺灣基督教長老教會的奠基者，他很有可能跟馬雅各有所來往。(ㄋ)在臺灣建省後，李春生所在的地區屬於臺北府。(A)一 (B)二 (C)三 (D)四 項。

◆下面四位主角均為「開港前」來臺的移民者，其基本資料如下，請回答 30 題：

資料一：姜大武廣東惠州人，來臺後定居新竹，曾在「金廣福」墾號工作。

資料二：黃長新福建泉州人，來臺後定居鹿港，後於原鄉往返做生意，生意興隆。

資料三：張大富福建漳州人，來臺後定居府城，經由考試進入府學讀書，準備日後考取功名為官。

資料四：王柏倫廣東潮州人，來臺後定居打狗，經過數年辛苦的開墾拓荒擁有了自己的田地。

- ( ) 30. 有關他們的敘述，何者「錯誤」？(A)姜大武工作的「金廣福」墾號，是少數由閩粵人士合資開墾的例子。(B)王柏倫開墾有成後，依地利之便，他最可能以蔗糖作為貿易商品獲利。(C)張大富所唸的府學，地點就是今天的台南市孔廟。(D)黃長新如果參與商業貿易組織，最有可能加入的是「廈郊」。
- ( ) 31. 道光年間，臺灣有句俗諺：「一府二鹿三艋舺」，請問有關下面的敘述，何者「錯誤」？(A)「艋舺」此一名稱與曾以臺北區域為活動範圍的凱達格蘭族有關，後來因河道淤積與械鬥事件而被大稻埕取代。(B)鹿港在商業繁盛時店鋪林立，而「會館」是當時為了商人辦公、聯絡方便而出現的場所。(C)清帝國初期，鹿耳門是唯一合法的港口，後因台江內海淤積而被台南安平港取代。(D)「一府二鹿三艋舺」的說法除了說明臺灣是由南向北的開發順序，也展現了開港通商後對外貿易繁榮的景象。
- ( ) 32. 有關於清帝國時期原住民的社會變遷，何者敘述「錯誤」？(A)平埔族群在漢人渡海來台後，生存空間大幅縮減，曾多次進行遷徙，至今日的宜蘭、埔里、花東一帶。(B)在沈葆楨、劉銘傳開山撫番的政策下，原住民的傳統生活領域不斷被侵擾，因而發生多次的抗官事件，其中以大甲西社事件和加禮宛事件最為有名。(C)官方透過設置社學，積極推廣漢文化，同時下令薙髮、改穿漢服，使平埔族傳統生活方式逐漸消失。(D)隨著漢人對樟腦的需求量增加，番界也不斷的向內山移動，使生番的生存空間縮小。

◆「藍張興」(墾號)—為福建水師提督藍廷珍(來台弭平朱一貴事件)申辦之墾照名，在 1724 年申請於大肚溪以北設立藍張興庄，後獲彰化縣官府同意，領取墾號「藍張興」。其開墾範圍約在今台中盆地南半部，而此墾號帶來的影響是嚴重干擾平埔族的生活空間。

- ( ) 33. 根據上文的理解，請選出敘述「正確」的選項：(A)藍廷珍申請「藍張興」墾號，獲官府同意的時間應為「康熙末年」。(B)其開墾之土地所灌溉之水源應為「八堡圳」。(C)此開墾可以說是「官方」帶頭越界開墾。(D)當地平埔族不只生活空間被干擾，也因沉重的勞役欺壓引起反抗官府的「加禮宛事件」。

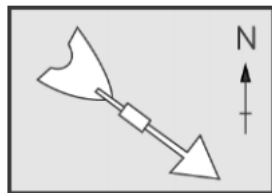
◆電影《阿罩霧風雲 I：抉擇》，演繹了臺灣五大家族之一的臺中霧峰林家的故事，讓我們看見漢人移民在清領時期的時代變遷中如何在臺灣落地生根、開枝散葉。霧峰林家的第一代林石，原籍漳州，1746 年渡海到臺灣中部定居，卻因被官方認定參與林爽文事件而被捕殺。在遺孀的帶領下，第三代子孫林甲寅開始定居阿罩霧(今霧峰)，重新展開經營。到了第五代的林文察，林家已掌控了中臺灣大量的田地，並因協助平定同治年間的臺灣民變，而獲得清廷賞賜閩、臺地區的樟腦專賣特權。第六代的林朝棟，甚至帶著 2000 多名的鄉勇，北上基隆，積極協助劉銘傳抵抗外敵，因功被賜為二品官；加上樟腦事業的發達，林家進而成為清領時期臺灣社會最具影響力的家族之一，當時與板橋林家並稱為「一天下，兩林家」。

- ( ) 34. 請問有關林家家族來臺的敘述，「正確」的有幾項？(ㄅ)林家第一代祖先移民來臺的時間應為雍正年間。(ㄆ)林家第五代林文察所協助平定的民變是戴潮春事件。(ㄇ)第六代的林朝棟協助劉銘傳抵抗的外敵是日本。(ㄋ)霧峰林家每年從祖產中撥出部分經費，祭祀林石以來等歷代祖先的祭祖方式，是屬於唐山祖的宗族組織。(A)一 (B)二 (C)三 (D)四 項。

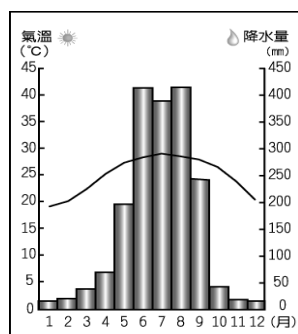


【地理科】每題2分，共32分

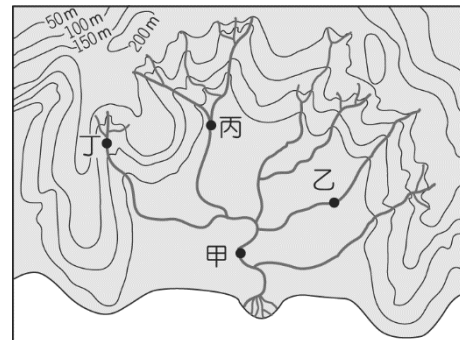
- ( )35.大雄在學校做天氣觀測，看到了如附圖一中的風向計。請問他目前觀測到的風向為下列何者？ (A)西北風 (B)東南風 (C)東北風 (D)西南風。
- ( )36.附圖二為高雄市的氣候圖，若要舉行職棒比賽，何時舉行比較不會受下雨的影響而暫停？ (A)1月 (B)5月 (C)7月 (D)9月。
- ( )37.附圖三為某一水系的分布圖，根據圖中資訊判斷，下列關於甲、乙、丙、丁四點的敘述，何者正確？ (A)甲點的集水區最大 (B)乙點是河流的分水嶺 (C)丙點位於河川下游 (D)丁點的地勢最低。



附圖一

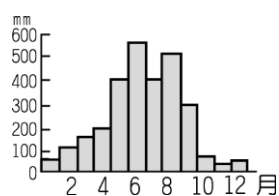


附圖二




附圖三

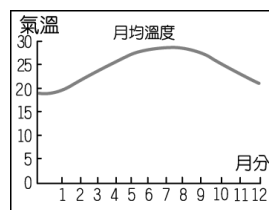
- ( )38.臺灣的河川共有 150 多條，其中很多河川型態多為「荒溪型河川」。請問：這和該地區哪一項自然環境影響關係最大？ (A)台灣地處熱帶低緯區，河水蒸發旺盛 (B)地層下陷嚴重，河水下滲明顯 (C)降水不均，乾溼季節分明 (D)降水量少，河川乾枯明顯。
- ( )39.住在臺南的阿卿老師在暑假時準備到澎湖玩，可是當她到達臺南機場的時候，發現機場暫時關閉，必須等天氣狀況較好的時候才能起飛。請問：下列哪一種狀況最有可能是機場關閉的原因？ (A)梅雨季節，水量過多淹水 (B)颱風來襲，風雨太大 (C)東北季風太強 (D)龍捲風肆虐，災情慘重。
- ( )40.台灣地區的降雨型態隨著各地環境不同而有差異。請問：下列有關台灣地區降雨特色的敘述中，何者最為正確？(A)山地雨量少於平地 (B)北部冬迎西南季風、陰雨綿綿 (C)西南部夏雨冬乾，有明顯乾季 (D)西部降雨量多於東部。
- ( )41.「未吃五月節粽，破裘不甘放。」此一氣候諺語最可能是形容何項天氣因子的變化？ (A)降水量 (B)風向 (C)氣壓 (D)氣溫。
- ( )42.靜香想要了解某地的氣候狀態，可利用圖中哪些資料去判斷？ (A)甲乙 (B)甲丙 (C)乙丙 (D)乙丁。



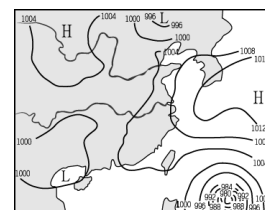
甲：年降水量圖



乙：衛星雲圖




丙：月均溫圖




丁：地面天氣圖

- ( )43.就臺灣的降水分布特色而言，下列哪一條河川在冬季的逕流量最多？ (A)屏東的高屏溪 (B)嘉義的八掌溪 (C)宜蘭的蘭陽溪 (D)臺南的曾文溪。
- ( )44.小柔今年寒假做了一份台灣水庫的專題報告，並且親自造訪了下列水庫：(甲)翡翠水庫(乙)曾文水庫(丙)日月潭水庫(丁)德基水庫，請問這些水庫由南至北依序為何？ (A)甲乙丙丁 (B)乙丙丁甲 (C)甲丁丙乙 (D)乙丁丙甲。


- ( )45.老師在黑板上講解臺灣的降水特色，並繪製如以下甲乙丙丁的示意圖，以方便同學了解其成因。請問針對降水特色，下列哪位同學的敘述正確？ (A)小夫：我12月28日到宜蘭三星鄉下田體驗拔蔥，洗蔥以及DIY製作蔥油餅的活動，當時的天氣下著雨，下田時還須穿帶雨衣，戴斗笠，此時降雨的類型如甲圖所示 (B)大雄：臺灣七、八月間最可能出現大雨災害，甚至引發山區土石流，其主要降水原因為乙 (C)胖虎：夏天的下午，我跟同學在棒球場上打球，但是常會遇到臨時性的大雨，把我們都淋成了落湯雞，這時候的降雨類型如丙所示 (D)靜香：天氣預報員說明天的天氣狀況如丁圖所示，所以我出門的時候一定要穿厚重的外套，才不會受寒了。



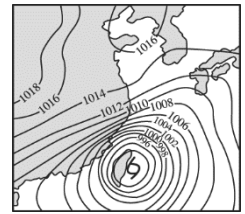
甲



乙

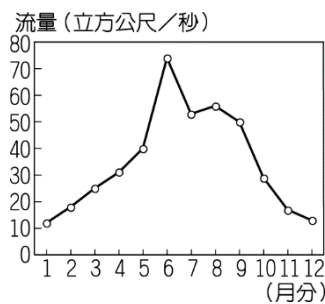


丙

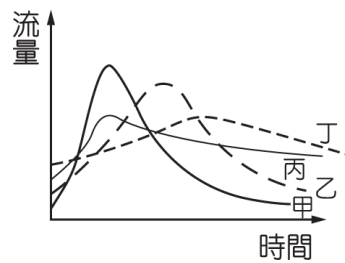


丁

- ( )46.附圖四為某河流一年中流量變化圖，由資料判斷，河川流量較高的月分，其降水的主要因素不包括下列哪一項？ (A)強勁的東北季風 (B)對流強盛的西北雨 (C)颱風帶來的豪雨 (D)梅雨。



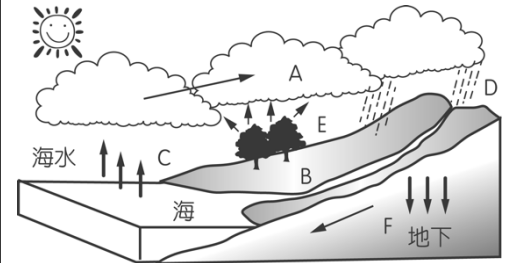
附圖四



附圖五

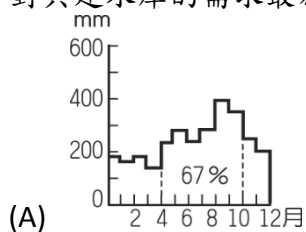


附圖六

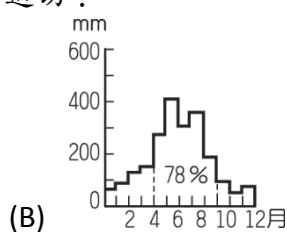


附圖七

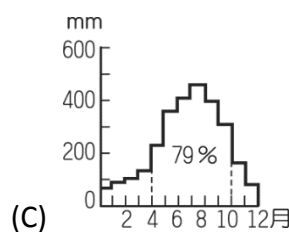
- ( )47.附圖五為四條河川的水位變化情形。請問：若這些河川皆發源自相同的集水區，則其中哪一條河川的坡度最為陡峭？ (A)甲 (B)乙 (C)丙 (D)丁。
- ( )48.小玉在撰寫臺灣河川報告時，針對台灣的河流做了以下敘述，請參考附圖六，以下敘述正確的有哪些？：①甲是臺灣最長之河川②乙是位在花蓮的立霧溪③是因為水質狀況混濁為命名的河川④丁是沖積出宜蘭平原之河川。 (A)①、③ (B)②、④ (C)①、② (D)③、④。
- ( )49.附圖七為水循環示意圖，請問圖中的C為水循環過程中的哪一步驟？ (A)逕流 (B)降水 (C)蒸發 (D)蒸散。
- ( )50.臺灣降水雖豐，但因時空分配不均，仍須建水庫以調節水源。下列為臺灣各區降水量分布圖，請問：哪一區對興建水庫的需求最為迫切？



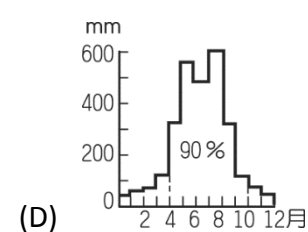
(A)



(B)



(C)



(D)