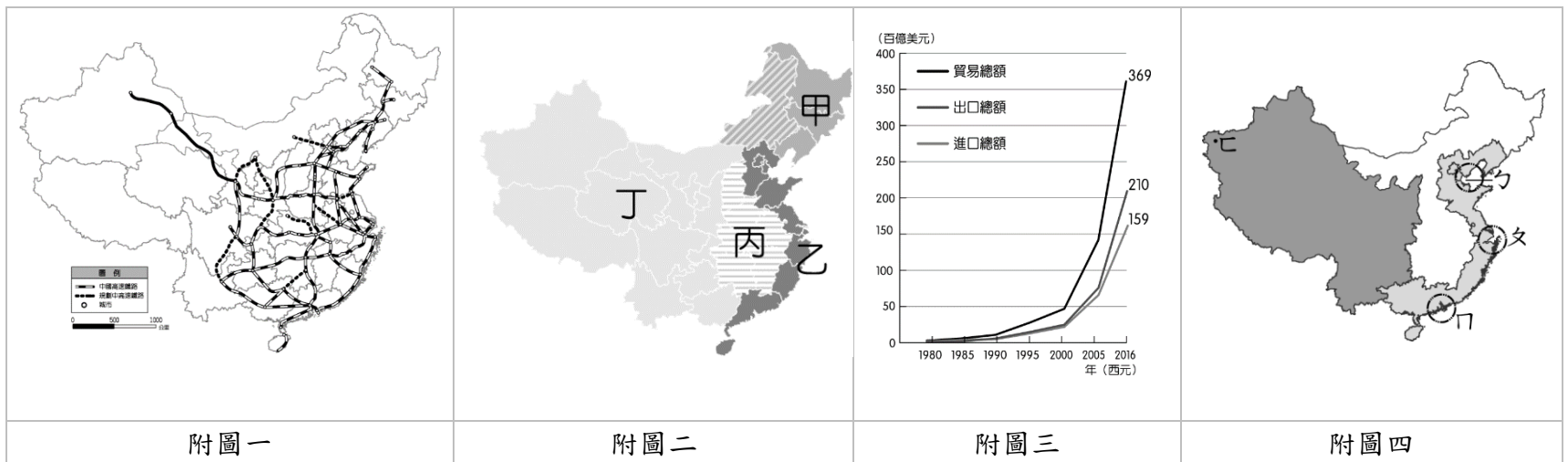


新北市立崇林國中 109 學年度第一學期八年級社會科第二次段考試題

*請仔細塗寫答案卡，若塗寫不清造成無法判讀，將扣總分 5 分。

【地理科】(第 1~20 題，每題 2 分)

- () 1. 百度地圖透過旗下 LBS 定位服務所收集到的用戶定位數據，繪製動態中國春節人口遷徙地圖「百度遷徙」。每到農曆年節，中國較進入春運高峰，每天都有數億人次在全國各個城市之間遷徙，透過行動裝置收集使用者移動數據，請問以下哪一條路線最可能為最熱門的返鄉路線？(A)深圳→重慶 (B)拉薩→上海 (C)成都→廣州 (D)南京→北京。
- () 2. 近幾年來，中國東西區域發展不平衡的現象日益顯著，國內貧富差距的問題漸趨嚴重，請問這種現象與下列哪一項措施的推行有關？(A)一胎化政策 (B)長江大壩興建 (C)實施改革開放 (D)一帶一路政策。
- () 3. 中國積極發展高鐵運輸，並承包國際高鐵工程，附圖一為中國的高鐵分布圖，請問圖中沒有高鐵分布的地區，最可能受到下列何項因素影響？(A)氣候溼熱多雨 (B)地勢高聳 (C)溶蝕地形發達 (D)黃土層侵蝕旺盛，地表崎嶇。



- () 4. 附圖二為中國四大經濟區分布圖，請問下列敘述何者錯誤？(A)甲區為中國傳統重工業中心，盛產煤礦和鐵礦 (B)乙區為中國經濟最發達地區，中國政府推動中部崛起政策，帶動其他區域的成長 (C)丙區較為內陸，具有較低廉的工資以及豐富的自然資源的優勢 (D)丁區為中國工商業發展較緩慢區域，中國政府提出的西部開發政策包含了青鐵鐵路。
- () 5. 附圖三為中國進出口貿易總額統計圖。請問：中國近年來的貿易進出口總額大幅攀升，已成為世界主要的貿易大國。請問：其有利因素不包括下列何者？(A)經濟特區的成立 (B)大量的廉價勞工 (C)北部地區有豐富的煤、鐵礦 (D)科技進步，在 2016 年已邁入 5G 時代。
- () 6. 承上題，根據附圖三，中國在 2016 年的貿易狀況如何？(A)貿易出超 (B)貿易入超 (C)貿易平衡 (D)貿易逆差。
- () 7. 根據中國官方統計資料顯示，中國的經濟已達到許多世界第一，請問：在 1980 年代所設置的經濟特區主要分布於附圖四中哪一個區域？(A)ㄅ (B)ㄆ (C)ㄇ (D)ㄊ。
- () 8. 承上題，經濟特區所具備的優越條件為下列何者？(A)礦產原料豐富又便宜 (B)鄰近東南亞，利於引進外籍勞工 (C)海運便利，廉價勞工多 (D)此區資金充足，都市化程度高。
- () 9. 黃老闆欲前往中國投資，下列有關各項產業區位的評估中，何者正確？(A)南部礦產豐富，利於興建大鋼鐵廠 (B)東北地區生長季長，全年皆可機械化耕作小麥 (C)西部地區交通發達，可降低運送成本 (D)沿海地區人口眾多，適合開設銀行提供金融服務。
- () 10. 中國東部沿海為中國經濟發達區，其中扮演區域發展火車頭的地形區，不包括下列何者？(A)華北平原 (B)東北平原 (C)長江三角洲 (D)珠江三角洲。
- () 11. 新聞報導：「中國珠三角製造業出現倒閉潮！約有一半的東莞臺資工廠結業或遷移到中國內陸、東南亞等地，當地在農曆新年前至少有上百家製鞋、紡織等大型工廠倒閉或停產。」上述新聞所報導的現象，是由於中國何項因素的改變而導致的？(A)沙塵暴嚴重 (B)勞力短缺 (C)工資上漲 (D)糧食不足。
- () 12. 美國蘋果公司總裁庫克連續三年前往中國拜訪了七次，並接受中國官媒新華社專訪，展現前所未見的誠意，庫克在專訪中表示中國已經成為蘋果公司全球最大市場。請問：中國成為蘋果公司的主力市場，與下列哪一條條件相關？(A)生產技術高超 (B)消費人口多 (C)工業生產重鎮 (D)一帶一路的成果。
- () 13. 中國企業近年來由於經濟發展快速，快速累積大量資金，因此紛紛併購國外企業，希望加速國內產業升級。在此目的下，下列哪一個企業不是中國併購的目標？(A)佳佳成衣工廠 (B)瑞典富豪(volvo)汽車 (C)芬蘭《部落衝突》手游開發商股權 (D)德國機器人公司庫卡。

- ()14. 澳門自葡萄牙回歸中國後，在中國的地位日趨重要。請問：澳門離中國哪一個經濟特區的距離最近？
 (A)深圳 (B)珠海 (C)廈門 (D)喀什。

附圖五為中國四個都市的地理位置，請回答 15-16 題

- ()15. 請問下列哪一個都市是中國的政治中心，有大量頂尖大學，近年朝向資訊科技業發展？(A)甲 (B)乙 (C)丙 (D)丁。
 ()16. 下列哪一個都市位於珠江三角洲的頂點，自古以來是中國南方的商港，今為中國南部水陸樞紐都市？(A)甲 (B)乙 (C)丙 (D)丁。
 ()17. 過年期間，阿中與家人來到上海感受中國當地的年節氣氛，請問有關上海所屬經濟帶的特徵，下列敘述何者錯誤？(A)屬於中國東部經濟帶 (B)位於圖中的乙地 (C)自然資源豐富，盛產石油 (D)人口眾多、交通便利。



附圖五

中國推出「一帶一路」發展策略，奠定其經濟地位，請回答 18-20 題

- ()18. 該計畫中的海上路線，由中國沿海航行至東南亞國家，考慮到盛行風向有助於航行的因素，請問下列哪一個時間出海航行最為適合？(A)春節 (B)端午節 (C)中秋節 (D)清明節。
 ()19. 根據附圖六中，一帶一路包含的區域並未包括哪一洲？(A)亞洲 (B)歐洲 (C)非洲 (D)北美洲。
 ()20. 一帶一路計畫的參與國家普遍經濟發展程度不高，這些國家希望藉由引入中國資金促進國內經濟發展，但卻也面臨到許多變數與問題，其中不包括以下哪一項？(A)參與國面臨龐大債務負擔 (B)中國左右參與國政治與經濟發展 (C)參與國與中國發生利益糾紛 (D)參與國引進大量國際移工。



附圖六

【公民科】(第 21~40 題，每題 1.5 分)

監察委員葉大華表示，教育部於 2011 年頒布加強輔導國民中小學教學正常化實施要點 (2013 年更名為國民中小學教學正常化實施要點)，明定課程規劃及實施、教學活動正常化，主管機關並負有督導、協助及定期調查學校落實教學正常化之責。但包括人本教育基金會、台灣少年權益與福利促進聯盟等民間團體，紛指出相關訪視政策無成效。各界已呼籲教學正常化多年，然教育部針對此一問題，是否有官方正式調查訪視報告或相關資料？又國民中小學教學正常化實施要點已實施將近 10 年，國中教育現場為何借課投訴抱怨不斷？面對這公開的祕密，教育部是否有確實掌握實際狀況？相關促進教學正常化之因應措施及策略是否有成效？監委葉大華認為確實有深入調查、檢討的必要，因此已申請自動立案調查。【2020-10-12 中時新聞網】

- ()21. 根據上文所述，督導、協助並定期調查落實學校教學正常化的主管機關應為下列何者？ (A)監察院 (B)行政院教育部 (C)國中、國小校長 (D)立法院
 ()22. 若監察委員經調查後認定該主管機關督導不周，將可依監察院職權對該機關行使□□權。請問，□□應填入什麼？ (A)彈劾 (B)糾舉 (C)糾正 (D)審計
 ()23. 監察委員與下列何者的產生方式相同？ (A)教育部長 (B)行政院長 (C)立法院副院長 (D)監察院副院長

因應國際疫情嚴峻，□□院提出「紓困 3.0」追加預算案，希望持續「顧產業、撐廠商、守就業」，對於仍受疫情衝擊影響的產業延長紓困與協助措施。全案經立法院財政、內政、經濟、教育及文化、交通、社會福利及衛生環境委員會於 9 月 28 日和 30 日舉行聯席會議審查完竣，立法院長游錫堃 10 月 21 日召集朝野黨團協商，立法院會今天完成三讀程序。【2020-10-12 中央通訊社】

- ()24. 上文中的□□應填入什麼？ (A)行政 (B)立法 (C)司法 (D)監察
 ()25. 立法院除了審查預算外，還有以下那些職權？(甲)編列預算(乙)質詢政府官員(丙)制定法律(丁)執行政策(戊)審理總統、副總統彈劾案(己)對總統提名之人事行使同意權(庚)彈劾違法失職的公務員(辛)民、刑事訴訟案件審判(壬)總統、副總統罷免案提案權 (A)甲丁 (B)戊庚辛 (C)乙丙己壬 (D)乙丙戊己壬
 ()26. 立法院長游錫堃為民進黨籍，請問：立法院長的產生方式為何？ (A)總統指派 (B)立法院最大黨黨主席出任 (C)人民選舉產生 (D)立委互選產生
 ()27. 預算執行完畢後，將由(a 機關)編列決算送交(b 機關)審核。請問，(a 機關)、(b 機關)應依序填入何者？ (A)a:行政院、b:行政院財政部 (B)a:立法院、b:監察院審計部 (C)a:行政院、b:監察院審計部 (D)a:立法院、b:行政院財政部

- ()28.由上述預算編列、審查及執行程序來看，我國中央政府各部門之間的運作，符合憲政精神中的哪一項原則？
(A)主權在民 (B)權力分立 (C)法治政治 (D)違憲審查制度

立法院會今天三讀修正通過公務員懲戒法、公務員懲戒委員會組織法，將公務員懲戒委員會更名為懲戒法院，懲戒程序也由一級一審制改為一級二審制，而公務員懲戒委員會組織法也更名為懲戒法院組織法。此外，公務員經依公務員懲戒法相關規定移送懲戒，或經主管機關送請監察院審查者，在不受懲戒、免議、不受理判決確定、懲戒處分生效或審查結束前，不得資遣或申請退休、退伍（俗稱防搶退條款），藉此強化懲戒實效。【2020-05-22 中央通訊社】

- ()29.小民在報紙上看到上文後，到全國法規資料庫查詢公務員懲戒法中公務員移送懲戒相關規定：「監察院認為公務員有違法執行職務或其他失職行為，應付懲戒者，應將□□案連同證據，移送懲戒法院審理。」請問：前述法條中的□□應填入什麼？ (A)彈劾 (B)糾舉 (C)糾正 (D)審計
- ()30.以課堂所學之各院職權，上述新聞中的懲戒法院，應隸屬於中央政府中的哪一個院？ (A)行政院 (B)司法院 (C)考試院 (D)監察院

被譽為公務人員最高殊榮的公務人員傑出貢獻獎今天公布得獎名單，衛福部疫情防治和經濟部趕工製罩等團隊都獲獎，預計12月中旬舉行表揚大會，鼓勵全國公務人員見賢思齊。今年有6名公務人員獲得個人獎殊榮、並有4組得獎團體，分別為：衛福部疾管署嚴重特殊傳染性肺炎流行疫情防治團隊；經濟部-罩亮臺灣，日夜趕工製罩的公僕；農委會防檢局；桃園市工程循環經濟導入再生再利用粒料應用計畫團隊。銓敘部指出，得獎團隊則充分運用前瞻思維，創新精進服務作為，為國人健康食安把關。【2020-11-13 中時新聞網】

- ()31.由上文判斷，公務人員傑出貢獻獎是哪個機關主辦？ (A)行政院 (B)司法院 (C)考試院 (D)監察院
- ()32.我國公務人員是由考選部透過國家考試分科選材產生，考選部除了公務人員考試外，還有辦理哪些類別的國家考試？ (甲)專門職業(乙)技術人員(丙)政務官員(丁)教育會考 (A)甲乙丙 (B)甲乙丁 (C)甲乙 (D)丙丁

《刑法》等相關法律規定，得命有再犯之虞的性侵犯關在相關處所接受強制治療，直到再犯危險顯著降低為止，法界批評這等於「治療、關押無限期」。有法官、被告因此聲請釋憲，司法院3日召開憲法法庭言詞辯論。《刑法》第91-1條規定，犯性侵害案件者，刑滿前或其他法律規定，認有再犯之虞者，「得令入相當處所，施以強制治療，至其再犯危險顯著降低為止。」法界批評這樣的規定不夠明確，由誰鑑定「再犯危險顯著降低」？若再犯危險沒有降低，是否可以無限期治療關押？法務部表示強制治療並非變相刑罰，僅針對有高度再犯風險者；且若不服可提出抗告。由於性侵犯等同部分精神犯罪一樣，很可能一輩子不會治好，因此法務部認為不應限制治療期限，否則讓高度再犯風險者在監獄外遊蕩，將危害民眾安全。【2020-11-03 ET新聞雲】

- ()33.上文中，法官及性侵犯對於刑法針對有再犯之虞的性侵犯強制治療並無限期提出質疑，且聲請釋憲，此舉符合憲政精神中的哪一項原則？ (A)主權在民 (B)權力分立 (C)法治政治 (D)違憲審查制度
- ()34.依據我國現行法律規範，解釋憲法及召開憲法法庭的成員，是下列何者所組成？ (A)法官 (B)大法官 (C)律師 (D)法務部長
- ()35.憲法法庭還可以審理以下哪些案件？ (甲)總統、副總統罷免案(乙)總統、副總統彈劾案(丙)憲法修正案(丁)領土變更案(戊)政黨違憲解散案 (A)甲乙丙丁戊 (B)甲乙戊 (C)丙丁 (D)乙戊
- ()36.上文中的法務部，隸屬於五院中的哪一院？其部長產生方式為何？請依序回答。 (A)行政院；行政院長提請總統任命 (B)司法院；司法院長提請總統任命 (C)行政院；總統提名、立法院同意後任命 (D)司法院、總統提名、立法院同意後任命

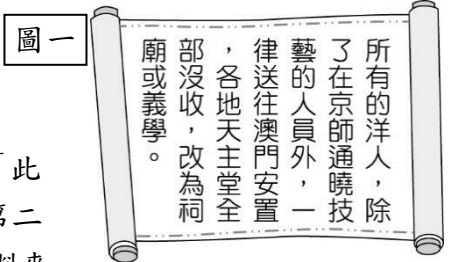
蔡政府開放含瘦肉精美豬進口引發國民黨團強力反彈，國民黨立委要求行政院長蘇貞昌公開道歉未果，內部湧現倒閣聲音，國民黨立委洪孟楷認為，蘇內閣對開放美豬的錯誤決策又不願意道歉，下週二應有更強力動作杯葛，包含提出不信任案。【2020-10-17 自由時報】

- ()37.下列關於我國憲法增修條文中，立法院可提出對行政院長的不信任案之敘述，何者**錯誤**？ (A)不信任案若通過，行政院長應辭職 (B)行政院長辭職時，得自行宣布解散立法院 (C)立法院被解散後，立法委員則須重新選舉 (D)若不信任案未通過，一年內不得再對同一行政院長提不信任案
- ()38.行政院依法必須執行立法院通過的法律與政策，但若行政院認為立法院決議之哪些案件窒礙難行時，得經總統核可，移請立法院覆議？ (甲)修憲案(乙)法律案(丙)預算案(丁)條約案 (A)甲乙丙丁 (B)甲乙丙 (C)甲乙丁 (D)乙丙丁
- ()39.我國的立法院與其他三權分立國家的立法權相較，少了部分職權。請問：國父將監察權從立法權獨立出來的原因為何？ (A)避免國會權力過大 (B)避免濫用私人 (C)要使立法權小於行政權 (D)基於洛克的權力分立主張
- ()40.關於立法委員的敘述，下列哪些選項正確？ (甲)任期四年(乙)連任次數不限(丙)是中央行政官員(丁)立法院正、副院長由人民直接選舉產生 (A)甲乙 (B)丙丁 (C)甲乙丙 (D)甲乙丙丁

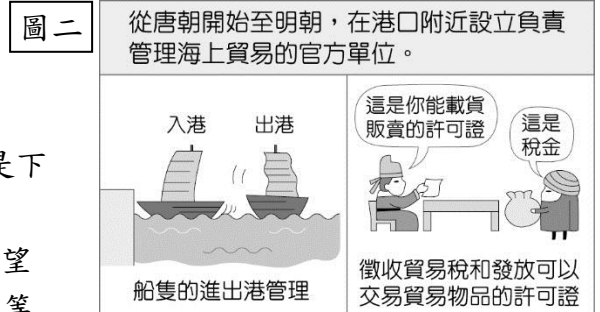
【歷史科】(第 41~60 題, 每題 1.5 分)

判讀題：根據題目的提示選出最適切的答案。

- () 41. 【圖一】是中國歷史上某一時期發生事件的相關內容, 根據內容判斷, 該事最可能是下列何者? (A) 清初時雍正禁教 (B) 朱元璋擊敗群雄 (C) 鐵木真統一蒙古 (D) 忽必烈重用色目人。




- () 42. 十七世紀, 英國學者培根 (Francis Bacon) 在他的著作《新工具》中指出：「此時有三種發明已經把全世界的面貌和情況都改變了：第一種是在學術方面，第二種是在戰爭方面，第三種是在航行方面，並由此又引起難以數計的變化。」(資料來源：阿波羅新聞網, 2011/11/14) 請問：英國學者培根所言在戰爭方面造成影響的應該是指下列何項發明? (A) 活字印刷術 (B) 指南針 (C) 造紙術 (D) 火藥。



- () 43. 【圖二】是某個機構的工作項目與內容, 請問：【圖二】最有可能是下列哪個機構組織? (A) 清真寺 (B) 驛站 (C) 會館 (D) 市舶司。

- () 44. 北宋名將岳飛曾寫《滿江紅》：「怒髮衝冠，憑欄處，瀟瀟雨歇。抬望眼，仰天長嘯，壯懷激烈。三十功名塵與土，八千里路雲和月。莫等閒，白了少年頭，空悲切。靖康恥，猶未雪；臣子恨，何時滅？駕長車，踏破賀蘭山缺。壯志飢餐胡虜肉，笑談渴飲匈奴血。待從頭，收拾舊山河，朝天闕！」詞中描述「壯志飢餐胡虜肉，笑談渴飲匈奴血。」岳飛想要打敗的「匈奴」是指下列哪個民族? (A) 契丹 (B) 女真 (C) 蒙古 (D) 高麗。

- () 45. 南宋末年張世傑、文天祥、陸秀夫三人奮力率軍抵抗外患, 因而被稱為「宋末三傑」, 當文天祥在廣東零丁洋被俘虜時, 寫下了一首七言律詩《過零丁洋》：「辛苦遭逢起一經，干戈寥落四周星。山河破碎風飄絮，身世浮沉雨打萍。惶恐灘頭說惶恐，零丁洋裡嘆零丁。人生自古誰無死，留取丹心照汗青。」請問：文天祥在南宋投降後會被歸類於【圖三】哪一個階級的人? (A) 甲 (B) 乙 (C) 丙 (D) 丁。



- () 46. 承上題, 與宋朝有關的人物：(甲)岳飛 (乙)文天祥 (丙)趙匡胤 (丁)趙恆(宋真宗), 上述四人在歷史上的出現先後順序應是下列何者? (A) 丙乙甲丁 (B) 丙丁甲乙 (C) 丁丙甲乙 (D) 丁丙乙甲。

- () 47. 從【表一】發生的事件中可以看出, 表格主要是在討論下列哪項內容? (A) 契丹族如何在東亞稱霸 (B) 阿拉伯人的版圖建立 (C) 清帝國版圖的確定 (D) 蒙古族向外擴張的過程。

時間	事件
1220 年代	擊敗花剌子模以及西夏
1230 年代	1. 消滅金國 2. 出兵攻打俄羅斯
1250 年代	征服西亞, 劫掠巴勒斯坦地區

- () 48. 十四世紀後期, 朝鮮半島上的高麗王朝君主恭愍王派遣大臣文益漸到鄰國參訪, 文益漸參訪時發現當地農民種植棉花並得到很大的經濟利益, 於是他偷偷將棉花種子藏在筆桿中帶回國內栽種, 栽種成功後被國王追贈為「富民侯」, 朝鮮後世亦尊稱他為「木棉公」。請問：文益漸拜訪的鄰國, 最有可能是下列何者? (A) 唐朝 (B) 元朝 (C) 日本 (D) 吐蕃。

- () 49. 義大利商人馬可波羅在《馬可波羅行記》中描述：「所有通至各省之要道上, 每隔二十五邁耳 (mile), 或三十邁耳, 必有一驛。無人居之地, 全無道路可通, 此類驛站, 亦必設立。……合全國驛站計之, 備馬有三十萬匹, 專門欽使之用。驛站大房有一萬餘所, 皆設備妍麗, 其華靡情形, 使人難以筆述也」。上述內容描繪馬可波羅在東方看到的驛站制度, 請問：馬可波羅應該是哪一個時代來到東方? (A) 唐朝 (B) 元朝 (C) 明朝 (D) 清朝。

- () 50. 宮廷劇《延禧攻略》結局賺人熱淚, 故事內容為女主角魏璎珞在乾隆年間為了查明姊姊死亡真相, 因此進入紫禁城當宮女, 在富察皇后弟弟富察傅恆與乾隆皇帝之間若有似無的愛情故事。請問：跟清朝有關的敘述下列「錯誤」的有幾項? (甲)清朝以少數民族入主中原, 為求管理方便, 針對不同民族採取相同的統治政策(乙)乾隆皇帝曾用文字獄將撰寫「一把心腸論濁清」的文人處死(丙)乾隆曾以菩薩化身的佛裝畫像, 展現皇帝保護和支持道教的精神(丁)清朝入關以後, 要求漢人依照滿人習俗薙髮留辮, 表示臣服(戊)康熙、雍正、乾隆三朝將蒙古、西藏、台灣、新疆等地先後納入版圖, 成就清帝國的盛世。(A) 二項 (B) 三項 (C) 四項 (D) 五項。

- () 51. 西元 2020 年 5 月 31 日《台北上河圖》正式出版, 其原稿是長達兩百公尺的畫, 配以街景、廣告招牌, 敘述著一甲子台北城的故事。《台北上河圖》作者姚任祥採用《清明上河圖》的概念, 與插畫藝術家葉子合作

描繪屬於台北城的故事。關於《清明上河圖》的敘述：(甲)《清明上河圖》作者為北宋畫家張擇端(乙)此畫完成於12世紀初，描述北宋首都臨安城內外的庶民生活與建築特色(丙)圖中城市生活的熱絡可看出當時首都的繁榮(丁)畫中可看到有漢語、阿拉伯語等外語演唱的樂團在杭州城出現。請問：上述敘述「正確」的有幾項？(A)一項(B)二項(C)三項(D)四項。

- () 52. 歌手周杰倫歌曲《青花瓷》：「……天青色等煙雨而我在等妳 炊煙裊裊升起隔江千萬里 在瓶底書漢隸仿前朝的飄逸 就當我為遇見妳伏筆 天青色等煙雨而我在等妳 月色被打撈起暈開了結局 如傳世的青花瓷自顧自美麗 妳眼帶笑意……」擁有獨特風格的青花瓷和絲綢等商品的強勁需求，帶動了明清時期工商業的發展，下列關於明清時期的商業敘述「正確」的有幾項？(甲)龐大的商業需求使得專業市鎮紛紛興起，江西景德鎮是當時重要瓷器製造中心(乙)商人組成地域性的商幫組織，以陝西和安徽最為著名(丙)商人會在各大城市建立會館，作為同鄉人士寄宿與商業往來的居所(丁)明朝中期以後，對外貿易持續出超，中國白銀流通量大增，形成白銀與銅錢並用的制度，此制度一直持續至清末。(A)一項(B)二項(C)三項(D)四項。

圖片題：請依照下列圖片選出最適切的答案。

- () 53. 睿睿在唸歷史課本時看到【圖四】這張地圖，他判斷這張圖應該是討論下列何項內容？(A)偉大的草原英雄：蒙古(B)中西交流傳遞者：傳教士(C)海上冒險航海王：鄭和(D)美洲貨幣滾滾來：白銀。
- () 54. 承上題，在【圖四】的時代曾經實施海禁政策，禁止民間船隻出海，同時也限制外國商人到中國通商，請問：當時的海禁政策是為了防範下列哪種亂象？(A)鄭氏家族(B)流寇之亂(C)蒙古入侵(D)倭寇為患。



請根據下述資料回答第55~57題

資料一：「西元十二世紀前期，生活在北方草原的○○國人民完顏辛，平日放牧羊群等待羔羊長成之後，將羊兒賣給來自南方□□國的客戶，彼此間交易的貨幣是「大觀通寶」。大觀通寶是由□□國國君所鑄造的年號錢，上面出現的文字「瘦金體」是☆☆事件被擄走皇帝的著名書法體例。

資料二：「西元1120年代，戰鼓響起完顏辛平靜生活結束，他加入國家徵召的軍隊，南下攻占□□國的首都，參與了☆☆事件擄走□□國的皇帝。」

- () 55. 請問：上述○○國應是下方【圖五】【圖六】的哪個地區？(A)甲(B)乙(C)丁(D)戊。
- () 56. 承上題，上述□□國應該是下方【圖五】【圖六】的哪個國家？(A)甲(B)乙(C)丙(D)丁。



- () 57. 承上題，從【圖五】變成【圖六】的原因跟☆☆事件有關，請問☆☆事件是指下列何者？(A)靖康之禍(B)蒙古西征(C)滿清入關(D)施琅攻台。

時序題：下列事件請依照其發生先後順序加以排序。

- () 58. (甲)南宋滅亡(乙)靖康之禍(丙)澶淵之盟(丁)蒙古西征。上述事件請依照發生先後順序加以排列。(A)丙乙丁甲(B)乙丙丁甲(C)丙丁甲乙(D)丁甲乙丙。
- () 59. (甲)美洲作物傳入(乙)朱熹《四書集注》(丙)沈括《夢溪筆談》(丁)《幾何原本》翻譯。上述事件請依照發生先後順序加以排列。(A)甲乙丙丁(B)丙乙丁甲(C)丙乙甲丁(D)乙丙丁甲。
- () 60. (甲)雍正禁教(乙)朱元璋建國(丙)鄭和下西洋(丁)李自成攻陷北京。上述事件請依照發生先後順序加以排列。(A)甲乙丙丁(B)乙甲丙丁(C)乙丙丁甲(D)丙乙丁甲。