

※考試說明：

1. 請同學務必於卡片上填寫班級、座號、姓名，並小心畫卡，有錯誤者扣社會總成績 5 分。
2. 1-18 題歷史題，19-34 地理題，35-50 公民題。
3. 把握時間作答，並預留時間點檢查。

📖歷史部分：【1-20 題，每題 2 分，共 40 分。】

資料甲：大清皇帝統治大清帝國萬世一系，承永尊戴。君上神聖尊嚴不可侵犯。法律雖經議院議決而未奉詔令批准不能見諸實行。用人之權操之君上，而大臣輔弼，議院不得干涉。

資料乙：中華民國之主權屬於國民全體。中華民國人民一律平等，無種族、階級、宗教之區別。中華民國以參議院、臨時大總統、國務院、法院行使其統治權。中華民國之立法權以參議院行之。

資料丙：中華民國基於三民主義，為民有、民治、民享之民主共和國。具有中華民國國籍者，為中華民國國民。中華民國領土，依其固有之疆域，非經國民大會之決議，不得變更之。人民有居住及遷徙之自由，人民有言論、講學、著作及出版之自由。

1. () 請問上述三項資料所代表的法條出現的時間依序為何？(A)乙甲丙 (B)甲乙丙 (C)丙乙甲 (D)乙丙甲
2. () 請問關於資料乙曾有誰試圖廢棄之？(A)段祺瑞、張勳 (B)袁世凱、段祺瑞 (C)袁世凱、孫中山 (D)梁啟超、段祺瑞
3. () 民國初年共和體制曾經多次被破壞，請問哪個不能當成體制被破壞的例子？(A)袁世凱稱帝破壞共和 (B)張勳擁護溥儀復辟 (C)梁啟超成立進步黨 (D)宋教仁被暗殺無法成為內閣領導者。

……中國數千年以來，習於君主專制體制，各地學校短缺，大多數之人民智識不甚高尚，人民更缺乏參與政治之能力，四年以前，由專制一變而為共和，此番變動太快，難望有良好結果……中國將來必因總統繼承問題「釀成禍亂」……如一時不立即撲滅禍亂，可能導致敗壞中國之獨立……中國如用君主制，較共和制為宜，此殆無可疑者也。資料來源：古德諾。共和與君主論。

4. () 請問以上文章最可能為下列何人引用，是其政治理念的展現？(A)梁啟超 (B)段祺瑞 (C)孫中山 (D)袁世凱
5. () 請問哪件事情與其理念的展現最有直接關係？(A)武昌起義成功 (B)出現洪憲帝制 (C)溥儀復辟 (D)形成南北分裂

我們從前何以從事於有組織、有系統、有紀律的奮鬥？因為未有模範，未有先例之故。現在一位好朋友鮑羅庭是從俄國來的，……蓋俄國革命之成功，一方面是因黨員積極奮鬥，二方面又有兵力幫助，故吾等欲革命成功，要學俄國組織及訓練黨員的方式，方有成功的希望。……所以我請鮑羅庭做吾黨的訓練員，使之訓練吾黨同志，鮑羅庭辦黨極有經驗，望各同志犧牲自己的成見，誠意去學他的方法。

資料來源：孫文。要靠黨員成功不專靠軍隊成功。民國 12 年 11 月 25 日在廣州大本營演講。國父全集第二冊。

題目選項

(甲)聯俄容共 (乙)南北政府分裂 (丙)武漢分共，結束與共黨的合作 (丁)寧漢分裂 (戊)北伐開始 (己)黃埔軍校成立 (庚)清黨

6. () 請問從以上文章中知道，孫中山先生是採取了甚麼作法？(A)甲 (B)乙 (C)戊 (D)庚
7. () 請問那個選項不是此作法後來所帶來的影響？(A)丁 (B)乙 (C)己 (D)庚
8. () 上述題目選項請依發生時間先後順序排列(A)乙甲丙丁戊己庚 (B)甲乙己戊庚丙丁 (C)乙甲己戊庚丁丙 (D)甲己戊丙乙丁

這是兩國在一場會議中所發表的言論內容：

甲國：日軍占領膠州灣及膠濟鐵路後，凡從前德國享有之權利，自是悉為日本占有。

乙國：膠州灣與膠濟鐵路，以及其他一切權利，應直接交還中國。青島完全為中國領土，當不容有絲毫損失。

9. () 中國之所以可以參加這場會議，下列敘述何者正確？(A) 中國為第一次世界大戰戰敗國 (B) 總統黎元洪堅持參戰 (C) 段祺瑞之後並沒有同意會議中的決議 (D) 列強秉持著公平正義的原則在解決戰後問題
10. () 若此會議的決定為「因」，何者為「果」？(A) 五四運動的展開 (B) 二十一條要求的簽訂 (C) 五三慘案的發生 (D) 辛亥革命成功

資料一：凡事總須研究，才會明白。古來時常「吃人」，我也還記得，可是不甚清楚。我翻開歷史一查，這歷史沒有年代，歪歪斜斜的每頁上都寫著「仁義道德」幾個字。我橫豎睡不著，仔細看了半夜，才從字縫裡看出字來，滿本都寫著兩個字是「吃人」！資料來源：節錄自狂人日記。

資料二：中國禮教，有「夫死不嫁」之義。男子之事二主，女子之事二夫，遂共視為失節，為奇恥大辱…人遂以家庭名譽之故，要求家中的媳婦守寡。不自由之名節，至淒慘之生涯，年年歲歲，使許多有為之婦女，身體精神被消耗殆盡，這都是孔子禮教之賜也！資料來源：陳獨秀(1916)。孔子之道與現代生活。新青年第2卷第4號。

資料三：貞操不是個人的事，乃是人對人的事，不是一方面的事，乃是雙方面的事，因為如此，男子對女子，也該有同等的態度。若男子不照這樣做，他就是不配受這種貞操的待遇。中國的男子要他們妻子替他們守貞節，他們自己卻公然嫖妓，公然納妾，……這不是最不平等的嗎？

資料四：夫普天之下，莫非王土；率土之濱，莫非王臣。呂留良於我朝食德服疇，以有其身家，育其子孫者數十年，乃不知大一統之義。

資料五：假使有人問：「何以要擁護德先生和賽先生便不能不反對國粹和舊文學呢？」答案自然是：「因為國粹和舊文學是同德賽兩位先生反對的」。又問：「何以凡同德賽兩位先生反對的東西都該反對呢？」這問題可就不是幾句擺統簡單的話所能回答的了。據我個人的觀察，新思潮的根本意義只是一種新態度。這種新態度可叫做『評判的態度』。評判的態度，簡單說來，只是凡事要重新分別一個好與不好。……而『重新估定一切價值』八個字便是評判的態度的最好解釋。這種評判的態度，在實際上表現時，有兩種趨勢。一方面是討論社會上、政治上、宗教上、文學上種種問題，一方面是介紹西洋的新思想、新學術、新文學、新信仰。前者是研究問題，後者是輸入學理。這兩項是新思潮的手段。

11. () 以台灣史來說，下列哪件事情，發生在大部分上述資料同樣的時空背景下？(A) 皇民化運動的展開 (B) 工業台灣，農業南洋 (C) 嘉南大圳的完工 (D) 民族自決思潮的盛行
12. () 以中國史來說，請問上述資料，那個不屬於同時代的思想？(A) 資料一 (B) 資料二 (C) 資料三 (D) 資料四
13. () 資料一中所說的吃人者並不是指何者？(A) 資料二中的孔子禮教 (B) 資料三中的貞節觀念 (C) 資料一中的仁義道德 (D) 資料五中的德賽先生
14. () 承上題，請問歷史上，有誰是被資料一中所指的東西「吃掉」的？(A) 慈禧 (B) 溥儀 (C) 岳飛 (D) 曹操
15. () 上述大部分的資料最不可能在何時被討論？(A) 新文化運動 (B) 白話文運動 (C) 自強運動 (D) 五四運動
16. () 請問資料一的創作者為何人？(A) 魯迅 (B) 陳獨秀 (C) 胡適 (D) 蔡元培
17. () 下圖請按時間順序排列？(A) 甲乙丙丁 (B) 乙甲丙丁 (C) 丙丁甲乙 (D) 丁乙丙甲

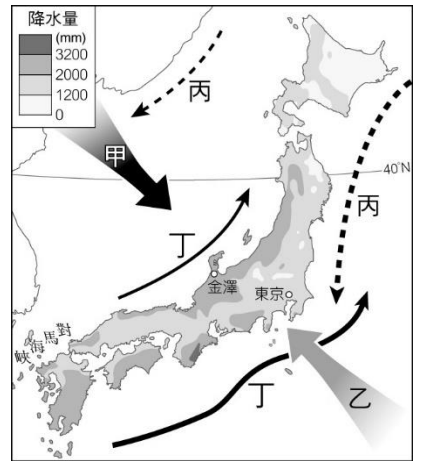


18. () 下圖請按時間順序排列？(A) 甲乙丙丁 (B) 乙甲丙丁 (C) 丙丁甲乙 (D) 丁乙丙甲



地理部分：【19-34題，每題2分，共32分。】

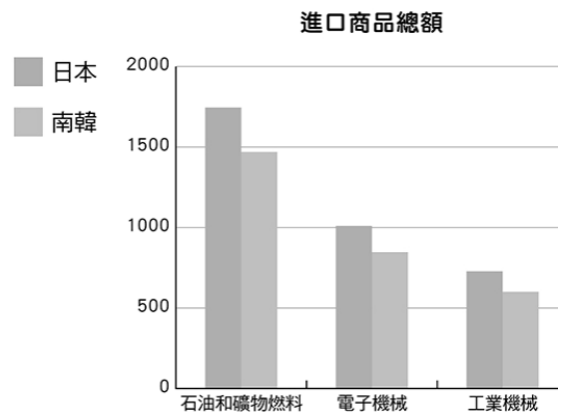
19. () 右圖為日本季風、洋流及年降水量分布圖，下列何者正確？(A) 甲為夏季季風，途經太平洋，為日本群島帶來水氣 (B) 乙為冬季季風，途經日本海，夾帶豐沛水氣，易形成大雪紛飛 (C) 丙為暖流，丁為寒流，兩洋流交會，魚群聚集，形成廣大漁場 (D) 受甲、乙季風與丁洋流的影響，日本降水豐沛，乾溼季不明顯。
20. () 朝鮮半島因其地理位置而有「東亞橋梁」之稱，是因為它位在哪兩個地區之間？(甲) 中國 (乙) 俄羅斯 (丙) 日本群島 (丁) 菲律賓群島 (A) 甲乙 (B) 乙丁 (C) 甲丙 (D) 丙丁。
21. () 日、韓兩國與中國秦嶺、淮河以北的季風氣候區同屬溫帶季風氣候，但兩國以米食為主，如壽司和石鍋拌飯；而中國此地區卻以麵食為主。造成此差異的主因為何？ (A) 緯度 (B) 地形 (C) 季風風向 (D) 降水量多寡。



22. () 「智慧型農業」是日、韓近年來針對哪一種農業困境，而導入高科技技術及無人駕駛農具機於農業生產過程中？ (A) 作物生產過剩 (B) 生產過於粗放 (C) 農業勞力短缺 (D) 生產成本過高。
23. () 關於日本及南韓的經濟產業比較，下列表格中的內容正確有幾項？(A) 一項 (B) 二項 (C) 三項 (D) 四項。

國家	(A) 東協夥伴	(B) 工業類型	(C) 礦產	(D) 與他國簽訂自由貿易協定
日本	是	汽車、造船、機器人	多	有
南韓	否	消費性電子、造船、汽車	少	有

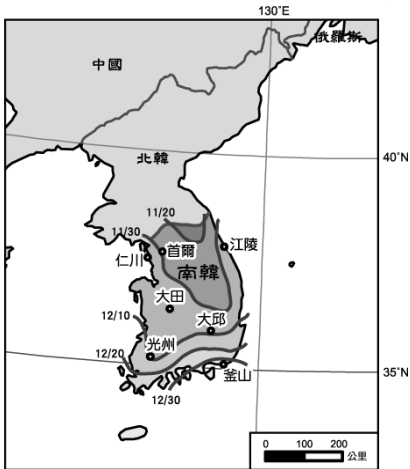
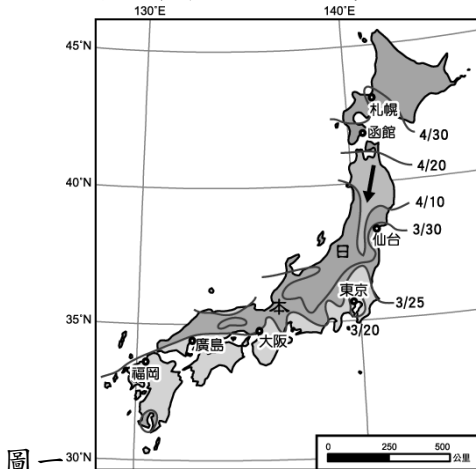
24. () 右圖為日、韓前三大進口商品總額(單位：億美元)。從圖中可知兩國產業發展受限於哪一種因素？ (A) 市場有限 (B) 原料缺乏 (C) 技術落後 (D) 勞力不足。



日本及南韓因國土南北狹長，許多自然現象及人文景觀會依照各地的氣溫差異呈現規律的空間變化。請參考下列資訊回答第 25-26 題：

圖一：日本櫻花開花時間預測地圖 (資料來源：日本氣象株式會社，2020 年)

圖二：南韓泡菜製作時間參考圖 (資料來源：153Weather，2019 年)。



25. () 觀察圖一和圖二，日本櫻花開花時間的預測線及南韓泡菜製作時間的參考線，日期變化大致呈現南北向分布。請問：該現象與哪項因素最為相關？ (A) 經度 (B) 緯度 (C) 雨量 (D) 洋流。
26. () 傳統上，南韓人民在入冬前須製作大量泡菜以儲備食物，愈早入冬的地區須愈早製作泡菜。請問：圖二何地

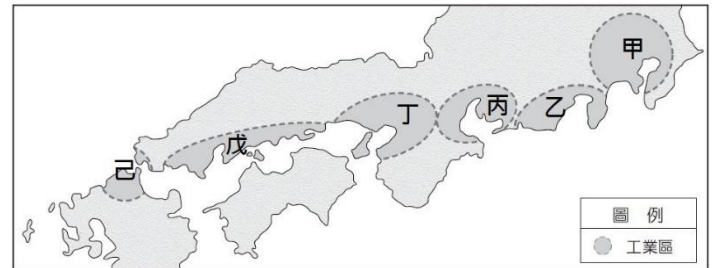
須最早製作泡菜？(A)首爾 (B)大邱 (C)光州 (D)釜山。

27. ()南韓政府近年來積極在首爾市西南方積極擴建仁川港，希望藉由和中國及其他國家的經貿往來，增加港口吞吐量。由地緣關係判斷，南韓政府宜優先考量就近與中國哪一地區合作？(A)環渤海地區 (B)新疆喀什經濟特區 (C)珠江三角洲地區 (D)長江三角洲地區。
28. ()右表為南、北韓農業發展條件的比較，請問內容正確有幾項？(A)一項 (B)二項 (C)三項 (D)四項
29. ()日本為全球重要產業分工鏈的上游，儘管過去幾年受到經濟發展條件的影響，日本企業陸續將國內製造業裝配工廠轉移到中國等海外國家，但是留在國內的工廠競爭力仍未減弱，具有全球性的影響。請問：日本近年來受到經濟發展條件的影響，陸續將國內製造業裝配工廠轉移到中國等海外國家，最主要的因素為下列何者？(A)政治不穩 (B)市場萎縮 (C)工資上漲 (D)關稅障礙。
30. ()下列關於東北亞國家的環境背景敘述中，其共同點共有幾項？(甲)屬於季風亞洲的範圍 (乙)民居建材以木材為主 (丙)受中國文化影響 (丁)以稻米為主食 (A)一項 (B)二項 (C)三項 (D)四

地區	(A) 耕地	(B) 生長季	(C) 氣候類型	(D) 收穫次數
北韓	較多	較短	溫帶季風	二穫
南韓	較少	較長	熱帶季風	一穫

右圖為日本境內重要的工業區分布圖，請依圖回答第31-32題：

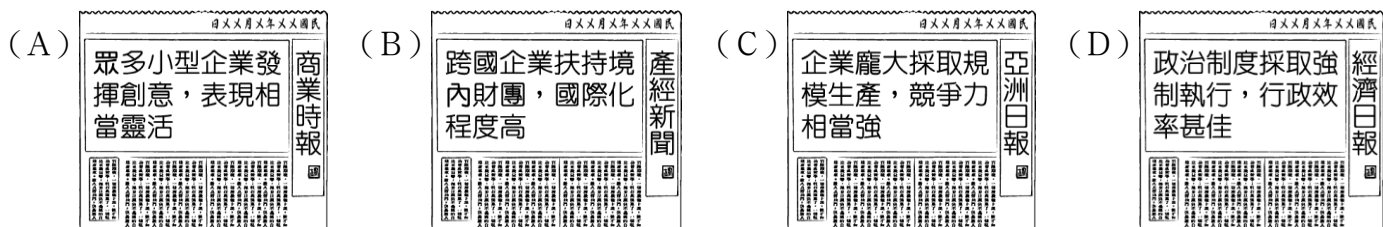
31. ()圖中的工業區多集中在沿海地區，可能與哪些因素有關？(甲)能源和原料多依賴進口(乙)日本沿海港闊水深，多天然良港(丙)依靠廉價勞力的優勢從事國際代工(丁)國內市場不夠大，需依靠輸出賺取外匯(A)甲乙丁 (B)乙丙丁 (C)甲丙丁 (D)以上皆是。
32. ()目前日本的行政中心與第一大都市——東京，位於右圖中哪一工業區範圍內？(A)甲 (B)乙 (C)丁 (D)己。



《311 東日本大地震》

2011年3月11日14時46分發生於日本東北地方外海規模9.0大型地震。震央位於宮城縣首府仙台市以東的太平洋海域，並引發最高38.9米的海嘯。此次地震是日本有觀測紀錄以來規模最大的地震，引起的海嘯也是最為嚴重的，加上其引發的火災和核洩漏事故，導致全國性的地方機能癱瘓和經濟活動停止，東北地方部份城市更遭受毀滅性破壞。

33. ()下列哪幾項日本人的生活方式與上文中所敘述之災害成因有關？(ㄅ)傳統民居之建材以木料為主 (ㄆ)以醃製、發酵方式保存食材 (ㄇ)享受溫泉泡湯成為生活習慣 (ㄋ)北方傳統民宅屋頂傾斜度大。(A)ㄅ、ㄆ (B)ㄅ、ㄇ (C)ㄆ、ㄇ (D)ㄇ、ㄋ。
34. ()1970年代的亞洲四小龍之一的南韓經濟發展相當快速，到了21世紀已成為世界重要的貿易國家。國際投資組織相當關注南韓經濟發展，下列為各財經媒體的評估報告標題，其中何者正確？



公民部分：【35-50題，每題2分，共32分。】

35. ()民主國家中，法治是重要的特色之一，與法治社會相對的是人治社會。下列有關人治與法治的敘述，哪項完全正確？【甲】人治國家的規範內容與效力，出自於統治者的好惡【乙】人治國家的決策者仍受到法律的約束【丙】法治國家的規範，須經一定程序制定、公布才生效力【丁】人治的「人」指的是多數人民【戊】從政治責任承擔的有無，可以判斷人治與法治的差別【己】從古代盛世可證明，人治比法治更重視人民的權利 (A)乙丙戊己 (B)甲丙丁戊己 (C)甲丙丁戊 (D)甲丙戊。

36. () 某日，阿舜在查詢全國法規資料庫時發現右圖所示內容。請問：根據內容，下列敘述何者正確？

- (A) 傳染病防治法施行細則又稱為「人民權利的保障書」
- (B) 其位階屬於命令，用以補充法律
- (C) 若要修改此規定，須由總統依法公布，才能施行於全國
- (D) 傳染病防治法施行細則因為是依據傳染病防治法授權制定，因此皆為狹義的法律。

法規名稱：傳染病防治法施行細則
修正日期：民國 105 年 07 月 06 日
第一條 本細則依傳染病防治法第七十六條規定訂定之。

37. () 考試院院會考量未來電腦化測驗包含測驗式及申論式題型，且線上閱卷的試卷有紙本試卷及電子試卷 2 種，紙本試卷以掃描方式產製影像檔，電子試卷影像檔則規畫於考試當日由系統自動產製，並於考試結束後匯入線上閱卷系統，《典試法施行細則》等 6 種法規配合修正相關規定，以配合國家考試增加申論式試題採線上作答的考試方式。請問：《典試法施行細則》的法律位階與下列何者**不同**？(A) 警察人員升官等考試規則 (B) 大學設置師資培育中心辦法 (C) 衛生福利部中央健康保險署處務規程 (D) 少年校正學校設置及教育實施通則。
38. () 為了使政府執法時不會侵犯人民的權利，並讓政府順利運作，因而產生行政法。請問：關於行政法的敘述，下列哪項正確？(A) 行政法為行政機關行使職權與運作時所適用的法律，因此是一部獨立或專屬的法典 (B) 行政法主要目的是為了讓政府依法行使權利、人民依法承擔義務 (C) 行政法將憲法的原則及精神具體化，因此行政法是活憲法 (D) 由行政機關所制定的各種法律和命令，皆可以稱為行政法。
39. () 士林夜市先前爆出水果一袋賣 1089 元，又爆出骰子牛 2 份 600 元的坑殺遊客事件，臺北市政府在這起事件後開始進行為期三年的攤販精進計畫。例如：針對業者稽查，對於未依規定設攤的商家，依照《道路交通管理處罰條例》開罰，對於棄置果皮汙染環境的攤商，則依《廢棄物清理法》開罰。但對於漫天喊價的狀況，市政府表示須尊重市場自由機制，目前無法可管。由於市政府增加稽查密度，已有水果攤結束營業。請問：關於此事，下列敘述何者正確？(A) 已結束營業的水果攤可向政府提出國家賠償 (B) 須有相關的法源依據，政府才可管制攤商漫天喊價，此為積極的依法行政 (C) 未依規定設攤的商家以及棄置果皮汙染環境的攤商須負起刑事責任 (D) 若被罰的攤商不服政府的處分，可向主管行政機關提請願。

名嘴陳敏鳳被前總統馬英九提告求償，判賠 60 萬元及在報紙頭版刊登道歉啟事，因民事爭訟案件被法院判決須在網路或報紙上刊登道歉啟事，審理釋憲後認定，強制媒體道歉恐侵害新聞自由，要求人民公開道歉則侵害言論及思想自由，於本月 25 日判決民法 195 條「強制道歉處分」違憲。【聯合新聞網 2022.2.26】

40. () 自從憲法訴訟法施行後，改由釋憲。請問：有關的敘述，下列何者**錯誤**？(A) 其職權之一為審理正副總統彈劾案 (B) 隸屬司法院管轄 (C) 由總統提名、立法院同意的大法官所組成 (D) 其職權之一為審理憲法修正案。
41. () 文中第一行劃底線處表示前總統馬英九行使憲法保障的基本權利，與下列何者相同？(A) 規定警察須依法定程序才能拘禁人民 (B) 取消明眼人不得從事按摩工作的限制 (C) 提出擴大就業方案以解決失業問題 (D) 舉辦是否發展博弈產業公投徵詢民意。
42. () 依據上文釋憲結果與判決理由判斷，此彰顯了憲法的何種特性？(A) 憲法的法律位階最高，法律須依照憲法制定 (B) 憲法僅針對國家重要事項做簡明扼要的規定 (C) 憲法的修改與民法相比，較為繁複 (D) 法律是立法機關依照一定程序所制定的規範。

一名黃姓男子在去年 2 月將車借給好友開，黃男友人在國道一號南下接近高雄楠梓處狂飆 222 公里被拍照舉發、開罰 2.4 萬元、牌照吊扣 3 個月。黃男認為警方沒有提前設置「測速預告警示牌」就偷拍，於是決定採取行政救濟，但未成再提行政訴訟。高雄地院法官認為：根據道路交通管理處罰條例規定，採用固定或非固定式科學儀器取得證據資料證明者，於高速公路、快速公路應於 300 公尺至 1000 公尺間明顯標示，因此判黃男原處分撤銷，可上訴。【中時新聞網 2022.3.6】

- () 43. 黃男友人在國道一號接近高雄楠梓處狂飆，此行為所需負擔的法律責任類型與下列何者相同？(A) 因感情糾紛，小美唆使阿強打傷美美 (B) 侵入他人家中並且竊取大量財物 (C) 製造噪音或深夜喧嘩妨害公眾

安寧 (D) 屋主追討租屋房客所積欠的房屋租金。

- () 44. 高雄地院法官的判決強調行政機關作為應遵守下列何者？(A) 警方執行公權力時，應縮減警察人力的配置 (B) 應積極提升政府的服務效能 (C) 應提高行政機關的權力 (D) 執行公權力時應符合法律規定，以避免濫權。
- () 45. 根據上文，以及你所學的行政法相關概念，判斷下列何者敘述**錯誤**？(A) 行政管制就是一種行政罰 (B) 政府會透過命令或禁止等方式，去排除各種違規行為 (C) 為了維護公共利益、秩序及安全，政府對人民做出規範與限制，稱為行政管制 (D) 上文畫底線處的這些行為是行政管制。

日前★推動法律人員考試四合一，現有分別進行考試的法官、檢察官、律師、法制人員將統一進行兩階段資格考試，考取並完成實務訓練即可取得律師資格，再由各司法和行政機關自行依據需求，進行法官、檢察官和法制人員甄選，期盼能以此培養國家法律人才、深化民主法治、增進司法效能，並提升公務人員依法行政之專業職能，最快由▲通過，3年後實施。

★會銜某院通過「法律專業人員資格及任用條例」草案，★院長今天舉行媒體茶敘，針對法律國考進行的大變革進行說明。此次修法主要配合司改會決議，未來民眾無論想擔任律師、法官、檢察官或法制人員，都必須先參加由★主辦的法律專業人員四合一兩階段考試，通過後參加一年的實務訓練及格，即可取得律師資格，可以到律師事務所等民間機構擔任律師。

若需進一步擔任法官、檢察官或法制人員，則由司法院、法務部和行政機關自行依需求訂出甄選辦法，由取得律師資格者分別去應考。【自由時報 2022. 2. 23】

46. () 由上文第一段內容，可知制定「法律專業人員資格及任用條例」的主要目的應該是下列何者？(A) 維護社會秩序 (B) 保障人民權利 (C) 落實社會正義 (D) 保衛國家安全。
47. () 依上文內容判斷，下列敘述何者正確？(A) 提法律草案僅能由★進行，而▲為立法院，負責制定 (B) 「法律專業人員資格及任用條例」依法律位階而言，具有細節性、補充性，實踐憲法的精神 (C) 「法律專業人員資格及任用條例」屬於狹義的法律，以位階而言，其內容不得牴觸憲法 (D) 最後一段劃底線處的意思是只要有執行上的需求即可制定，即便牴觸憲法、法律也無妨。
48. () 「法律專業人員資格及任用條例」的法律位階與下列何者相同？(A) 國家風景區管理處組織通則 (B) 法務部調查局處務規程 (C) 公務人員考試規費收費標準 (D) 民事事件委任非律師為訴訟代理人許可準則。
49. () 若此草案屆時正式上路，日後若想修改，正確的程序為？(A) 立法院提案→公民投票複決 (B) 立法院審查、三讀通過→總統公布施行 (C) 立法院提案→憲法法庭審理 (D) 行政院提案→總統同意。
50. () 就憲法保障人民的基本權利而言，參加「法律專業人員四合一兩階段考試」這項權利與下列何者屬於同一類型？(A) 投入今年年底的九合一地方選舉 (B) 國中畢業參加國中教育會考 (C) 組成政黨實現政治理想 (D) 身心障礙學生得延長考試作答時間。