

新北市立崇林國中 110 學年度第二學期九年級社會科第二次段考試題

*請仔細塗寫答案卡，若塗寫不清造成無法判讀，將扣總分 5 分。

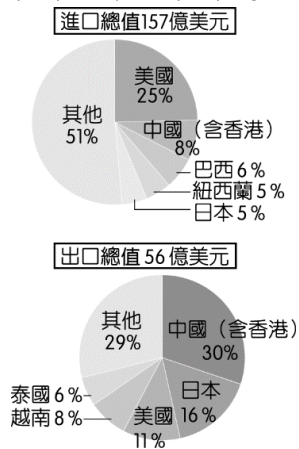
【地理科】(第 1~18 題，每題 2 分)

- () 1. 臺灣自加入世界貿易組織 (WTO) 後，對農業經營的衝擊很大，為因應此狀況，未來最適合的農業發展方向為何？ (A)大量施肥以及農藥使用，以增加農產 (B)設法開墾更多森林地，以增加耕地面積 (C)鼓勵農民種植高經濟價值作物 (D)粗放經營以降低成本。
- () 2. 臺灣農產品想提升在國際市場的知名度及外銷產值，可以透過何種方式？ (A)透過自產自銷 (B)建構農產品外銷平臺 (C)提倡減碳觀念，建議民眾購買碳足跡少的農產品 (D)推廣各地方的農民市集。
- () 3. (甲)氣候溫暖(乙)降水量充足(丙)平原廣大(丁)四面環海，上述哪些項目是臺灣發展農業的有利條件？ (A)甲乙 (B)乙丙 (C)丙丁 (D)甲丁。
- () 4. 臺灣的農業在加入世界貿易組織後，進出口的國際貿易規模漸大，成為重要的產業活動。附表一為我國主要的前五名出口的水果種類和國家，這些水果的種植生產和臺灣何項生產條件關係最大？(A)高山分布面積廣大 (B)台灣位處低緯地區 (C)台灣平原面積廣大 (D)農業機械化程度高。

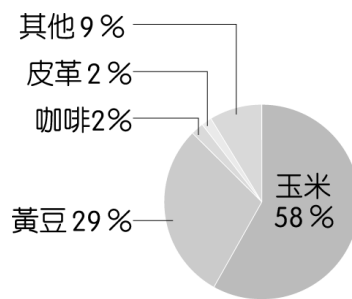
【附表一↓】

排名	種類	數量 (公噸)	價值 (千美元)	主要出口國家
1	鳳梨	52,679	67,086	中國、日本、美國
2	釋迦	14,355	39,911	中國、馬來西亞、印尼
3	柑桔	14,177	31,603	中國、南韓、新加坡
4	芒果	9,534	27,163	中國、日本、南韓
5	蓮霧	4,909	19,102	中國、新加坡、帛琉

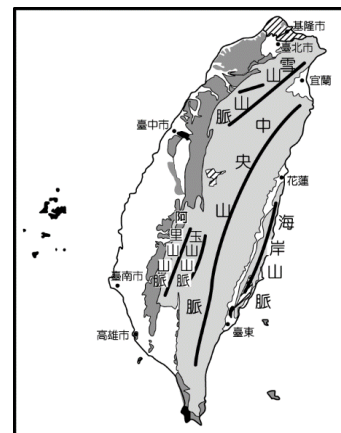
- () 5. 附圖一是臺灣進出口農產品國家統計圖，請問臺灣農產品的國際貿易中，哪一個國家呈現入超？(A)中國 (B)日本 (C)越南 (D)美國。



附圖一



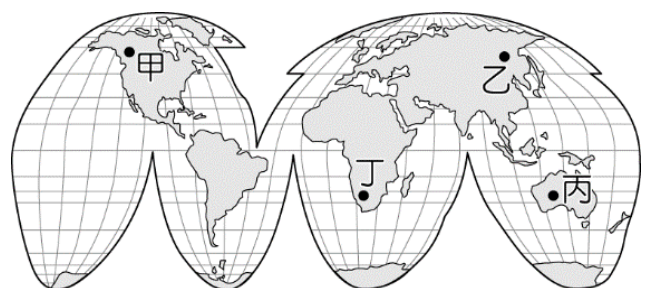
附圖二



附圖三

- () 6. 附圖二為某國家出口至臺灣的農牧產品比例圖，若依圖中相關資料加以判斷，最可能為哪一個國家？(A)巴西 (B)中國 (C)日本 (D)美國。
- () 7. 附圖三為臺灣五大地形種類的分布圖。請問：臺灣的水稻分布最常出現在圖中哪一個地區？(A) (B) (C) (D)
- () 8. 在工業區位中，麵包工廠趨向市場區位，魚罐頭工廠趨向原料區位，有關食品加工廠區位的選擇差異，主要是基於以下何種目的？(A)擴大銷售市場 (B)降低運輸成本 (C)符合市場需求 (D)增加營養價值。
- () 9. 重視永續環保的你，如果想從生活中的小細節開始節能減碳，為環境盡一份心力，下列哪項行為可行？ (A)送禮選擇包裝精美的日式禮盒 (B)購買荷蘭空運來台的鬱金香 (C)選擇在地、當季所生產的食材 (D)去好事多大量購買美國牛肉。
- () 10. 臺灣農業活動為了提高其競爭力，所以多採取多元化方式經營，如採用食品加工的方式來增加其附加價值，以獲取較高的利潤。發源自宜蘭的「仙貝」工廠，其發源主要是利用當地何種農作物來加工製成餅乾，創造極高的收益？ (A)玉米 (B)稻米 (C)大豆 (D)小麥。
- () 11. 受到全球氣候變遷和人口爆炸的因素影響，科學家推出基因改造的農作物，希望可以解決糧食不足的問題。目前黃豆等基因改造食物，主要生產的國家多位於附圖四何洲？ (A)甲 (B)乙 (C)丙 (D)丁

【附圖四→】



- ()12. 近年來，臺灣在各方面跟上國際的腳步，例如：政府推行「碳足跡標籤」計畫。請問：此項計畫，與國際上因應全球化危機的哪項行動不謀而合？ (A)各國推行文化尋根之旅 (B)召開亞太經濟合作會議 (C)聯合國峰會通過巴黎協定 (D)世界衛生組織公告傳染地區。

2020年受到新冠肺炎影響，「健康在家煮」形成一股飲食風潮，消費者不只注重健康，對於食材的選擇更加挑剔，愈來愈多人偏向購買可溯源、友善環境的食材。全聯觀察，今年具有「產銷履歷」驗證的商品，更受到消費者關注，全聯特別推廣台灣優質的產銷履歷食材以及國產優質豬肉，行政院農業委員會主委陳吉仲、農糧署署長胡忠一及全聯福利中心董事長林敏雄、總經理蔡篤昌更親身走入全聯門市，一起掃QRcode，看到農民如何用心栽種的過程，也呼籲消費者可多多購買產銷履歷可溯源的食材，吃得更放心！

國產水產品貼體包 夏日美味大推薦

漁業署表示，為鼓勵民眾多加選購在地最新鮮的美味，提升全家人的健康防護力，此次檔期活動也特別邀請金牌主廚—黃景龍師傅，選用全聯獨家濕式熟成技術的「熟成無刺虱目魚肚」，以及預先調味的「義式熟成鱸魚排」等貼體包產品，設計簡易夏日全民防疫養生兼具美味的料理食譜，如：乾煎後的虱目魚肚，搭配新鮮蔬菜淋上清香果醋就能輕爽入口的「熟成虱目魚溫沙拉」；適合夏夜小酌的臺式風味菜色「醋溜酸甜五柳鯛魚」，以及夏日健身增肌首選的「優格堅果義式鱸魚排」，皆是簡易烹調後，就能大飽口福又低負擔的美味新選擇。

【農學報導 110/7/5】

- ()13. 如上文中所述，阿卿到全聯購買玉米，可以看到上面貼有產銷履歷的標籤【如附圖五】，請問什麼是農產品產銷履歷驗證？(A)食品安全和農業環境永續生產行銷證明書 (B)使用天然素材，不使用農藥的生產歷程 (C)在生產、加工、流通、銷售各階段所經的歷程(D)降低生產過程及產品之風險的歷程紀錄。



【附圖五→】

- ()14. 文中主廚所示範的「熟成虱目魚溫沙拉」，其中的虱目魚來自台南，透過科技科學系統處理方式，產地直送，保存虱目魚的新鮮度，請問虱目魚是屬於何種漁業類型？(A)沿岸漁業 (B)近海漁業 (C)遠洋漁業 (D)養殖漁業。
- ()15. 台灣的漁業活動相當發達，除了供應國內市場外，還出口至世界各國，評價甚高。在其發展的有利條件中，下列敘述何者正確？ (A)東部沙岸養殖漁業盛行 (B)位處寒暖流交會之處，全島魚群豐富 (C)東北季風盛行 (D)西部太平洋海域廣。
- ()16. 台南市長黃偉哲強調，市府現今以中東穆斯林地區為主，積極拓展虱目魚外銷，期盼得到穆斯林認證，將虱目魚行銷至近八億人口的穆斯林市場，拓展新南海，請問所謂的穆斯林認證應為下列何者？



台灣麥當勞所使用的蔬果，優先選用地產食材，目前全年總量超過50%都 Made in Taiwan。以美生菜為例，每年11月到5月是採收季節，而種植過程中，更要遵循TGAP（台灣良好農業規範）與MGAP（麥當勞良好農業規範），控制水質、土壤、微生物等環境條件；此外，為減少農藥使用，除採用「自然防蟲法」，以性費洛蒙防治法外，並進行蟲害分析，掌握關鍵害蟲種類，標靶施藥、適量用藥，除可保護消費者，更進一步愛護土地與環境。即使是採收階段，為減少污染機會，堅持生菜不落地、直接裝箱並降溫送往加工廠，通過三道低溫水洗，去除雜質並鎖住新鮮；成品則須通過374項農藥檢測，安全有保障。

【麥當勞季報 2018年6月】

- ()17. 根據上述，麥當勞的生菜採收階段，堅持生菜不落地，直接裝箱並降溫送往加工廠，通過三道低溫水洗，去除雜質並鎖住新鮮，請問與下列何者息息相關？(A)冷鏈技術的進步 (B)降低關稅 (C)網路購物發達 (D)休閒農業興起。
- ()18. 麥當勞在台營業38年，首度推出地瓜產品，將開賣地瓜薯條，讓民眾嚐鮮，選用台灣在地品種「台農57號地瓜」，產出品質穩定，且肉色呈現金黃色澤，因而被稱為黃金地瓜。請問麥當勞此跨國企業為了滿足市場需求，銷售特定的產品，這樣的作法稱為？(A)全球化 (B)台灣化 (C)在地化 (D)西洋化。

【公民科】(第 19~34 題, 每題 2 分)

國人偏好聘用外籍看護工, 一直是本國籍居服員勞動條件難以提昇的原因之一。過去十年間, 台灣的社福外勞人數穩定上升, 至今已達 23.5 萬人。勞動部日前宣布將研議修法, 讓具有一定技術能力且在台工作達一定年資的外勞, 得以申請永久居留並能攜眷來台。【思想坦克 2022-03-29】

- () 19. 對於本國籍、外國籍勞工的工資, 不能有差別待遇, 因此我國大部分移工也受到我國基本工資的保障。請問: 這是基於下列哪一個文件的規範? (A)世界人權宣言 (B)人權兩公約 (C)兩公約施行法 (D)國際勞工公約
- () 20. 移民及移工的流動, 帶來許多不同種族相互接觸與了解的機會, 屬於何種全球化? (A)經濟上的全球化 (B)政治上的全球化 (C)文化上的全球化 (D)社會上的全球化
- () 21. 從人權角度來看, 以移民方式接納外勞, 確實較能保障勞動者權益。下列對於外籍移工以及移民的敘述, 何者正確? (A)台灣移民與移工的增加, 是全球化的影響 (B)獲得海外工作機會的國人, 大多屬於低技術勞工 (C)來台工作的外籍移工, 大多屬於高技術勞工 (D)移民與移工來台灣工作是自己的選擇, 應自行調適生活適應問題, 我國政府不需要特別重視

「抖音一響父母白養」, 這一句台灣青年世代嘲諷抖音 (TikTok) 用戶的流行語, 近日成為台灣社會討論的焦點之一。緣起於台灣彰化一名小學教師, 在臉書 (Facebook) 分享對於六年級學生普遍沉溺於抖音的現象觀察, 提出了六點提醒, 並總結為「抖音一響父母白養」, 在該名小學教師的「抖音勸世文」發表之前, 台灣媒體已陸續出現幾波關注臉書與 Instagram 已然過時、年輕人愛用小紅書的情況。甚至有台派人士撰文喊話, 要台灣社會正視中國大陸「文化入侵」, 包括使用簡體字、吃大陸零食, 並站在其台獨立場, 呼籲警惕「天然支」(天然統) 在未來可能取代「天然獨」。【聯合新聞網多維新聞 2022-03-25】

- () 22. 全球主要媒體大多來自於美國, 但近年來中國媒體竄起, 抖音在年輕世代流行, 2020 年更擠下臉書成為最多人下載的 app。請問: 上文中提到年輕人愛用小紅書、使用簡體字、吃大陸零食, 這是何種現象所產生的危機? (A)文化交流 (B)文化單一化 (C)多元文化 (D)政治上的全球化
- () 23. 承上題, 上述現象的負面影響是何者? (A)西方文化的向外擴張 (B)小學生及未來的國中生都要上母語課程 (C)在地文化的生存空間減少 (D)世界文化更加豐富
- () 24. 台派人士擔憂中國文化入侵的問題, 若兩種文化的勢力不均, 確實可能在彼此文化有所接觸時, 產生強勢文化入侵、弱勢文化逐漸式微的現象。這也印證了兩岸關係現在處於何種階段? (A)武力抗爭 (B)政治對峙 (C)兩岸交流 (D)一個中國
- () 25. 下列關於文化全球化的敘述何者**錯誤**? (A)各國人民的價值觀都容易被全球獨大的傳播媒體影響 (B)在文化全球化的潮流下, 文化交流機會逐漸減少 (C)面對文化全球化產生的負面威脅, 我國政府逐漸重視文化資產的保存與活化 (D)傳播媒體的觀點逐漸被少數國家所主導

國合會 (財團法人國際合作發展基金會) 是我國專責援外機構, 長年投入援外工作, 這樣的工作對國合會副秘書長史立軍而言有份使命感, 「援外工作就是協助夥伴國家解決發展的問題, 藉此為當地人民帶來更好的生活」。他說, 國合會在海外的知名度相當高, 每到友邦國家, 接觸到的人民都認識國合會以及我們長期提供的援助, 「那種從眼神中流露出來的真誠感謝和喜悅, 一次一次讓我們心裡非常溫暖」。國合會在海外推動開發援助型的計畫, 需透過非常多利害相關人協調、溝通, 才能研擬計畫並執行, 利益的有效整合是滿大的挑戰。他也說, 國家因為外交處境艱困, 國際參與機會不多, 而國合會讓國際援助開發社群更瞭解台灣為落實永續發展目標所做的努力與貢獻, 是接軌台灣與國際社會的重要橋樑。【自由時報 2022-04-04】

- () 26. 小丸子上網查詢「國際援助」, 做了右列筆記, 請你指出有哪一處出錯? (A)甲 (B)乙 (C)丙 (D)甲乙丙均無誤
- () 27. 國合會是外交部所屬「政府捐助之財團法人」, 長年投入援外工作, 政府另成立財團法人在國際間從事國際援助工作, 下列說法何者**錯誤**? (A)國際援助對象並不侷限於友邦國家, 以財團法人性質較不具政府色彩 (B)爭取國際活動空間 (C)是我國務實多元外交政策的落實 (D)國合會是我國參與政府間國際組織的橋樑

【國際援助】

甲、基於人權和人道精神

乙、只對於友邦國家

丙、給予經濟、物資、技術或人道賑災等協助

- () 28. 外交部公布由賑災基金會設立的援助烏克蘭捐款專戶, 專戶成立後, 總統蔡英文表示和副總統賴清德、行政院長蘇貞昌也將會分別捐出一個月所得。另外國民黨黨主席朱立倫也表示, 中央黨部的一級黨務主管將捐出一個月所得, 透過國際紅十字會支持烏克

●國際紅十字會是一個總部設於瑞士日內瓦的人道主義機構。根據《日內瓦公約》以及習慣國際法的規定, 國際社會賦予紅十字國際委員會特權和法律豁免權, 保護國內武裝衝突和國際性武裝衝突的受難者。

蘭的醫療所需。請問：從前述工作及右列說明來看，國際紅十字會屬於何種性質的組織？ (A)政府間國際組織 (B)國際非政府組織 (C)政府機關 (D)民間團體

- () 29. 承上題，台灣有許多個人及民間團體在國際上相關的作為，可以產生何種效果？ (A)參與國際社會，爭取國際活動空間 (B)使我國能加入聯合國 (C)以台灣之名參加奧運 (D)爭取更多邦交國
- () 30. 下列何種行動屬於國際援助？ (甲)我國主動捐贈口罩等防疫物資給缺乏醫療資源的國家 (乙)日本、美國在我國疫情最艱困時，捐贈疫苗給台灣 (丙)國際原子能機構派出援助隊到烏克蘭，協助確保當地核電設施安全 (丁)新北市與關島紀念醫院啟動照護醫療雲平台合作計畫，將新北科技防疫經驗協助應用在關島 (A)甲乙 (B)丙丁 (C)甲乙丙 (D)甲乙丙丁

新冠疫情進入第3年，由於Omicron病毒對已接種疫苗的族群較為溫和，住院治療人數較低，各國也逐漸重開邊境，但恐怕還不能掉以輕心。科學家正研究多種動物之間流行的新冠病毒，擔心可能傳給人類，引發新變種疫情，甚至導致全球疫情回到原點。WHO於3月30日發布「在2022年結束全球新冠緊急階段計畫」報告，針對病毒未來一年內的演變提出3種預測情境，最樂觀的預測是新變種持續溫和，人類免疫力仍維持在高水平；最悲觀的情境則是出現一種毒性更強、傳染性更強的新變種，導致疫苗效力降低，抵禦重症及死亡的能力迅速減弱，尤其是較為脆弱的族群。據悉，新冠病毒目前已在29種動物身上發現，包括倉鼠、熊、獅子、老虎、猩猩、鹿、駝鹿及水貂等。美國明尼蘇達大學研究人員也警告，若病毒能在野生動物體內存活，就會成為永遠存在的威脅，有可能再次傳染給人類，在人群中擴散。【東森新聞雲 2022-04-01】

- () 31. 全世界的新冠疫情較過去的傳染病難以控制的原因為何？ (甲)旅遊、貿易、移民的頻繁，帶來人或物的流動 (乙)醫療技術的進步 (丙)醫療資源分配不均、部分地區的疫苗施打率低落 (丁)世界衛生組織未能分享給台灣重要的疫情資訊 (A)甲丙 (B)乙丁 (C)甲乙 (D)甲丙丁
- () 32. 下列配對何者正確？ (甲)WHO在性質上屬於何種國際組織？ (乙)加入WHO的會員條件為何？ (A)甲、政府間國際組織；乙、民間團體 (B)甲、國際非政府組織；乙、民間團體 (C)甲、國際非政府組織；乙、主權國家 (D)甲、政府間國際組織；乙、主權國家
- () 33. 承上題，成員資格與WHO同類型的國際組織有哪些？ (甲)世界貿易組織 (乙)世界展望會 (丙)聯合國 (丁)國際刑警組織 (戊)公平貿易標籤組織 (A)甲乙丙丁戊 (B)甲乙丙 (C)乙丁戊 (D)甲丙丁
- () 34. 除了傳染病難以控制之外，下列何者也是全球化所帶來的隱憂？ (甲)各種交流機會增加 (乙)即時了解國際時事 (丙)與世界各地的人互動便利 (丁)跨國犯罪增加 (A)丁 (B)甲乙 (C)甲乙丙 (D)甲乙丙丁

【歷史科】(第35~50題，每題2分)

《西線無戰事》是德國作家雷馬克半自傳式的反戰小說，1929年本書出版後不久即遭到查禁。以下是本書節選：「攻擊、反攻、衝鋒、退敵—這些都只是幾個字眼，但它們代表的是何種光景！我們損失了許多弟兄，大都是新兵。援軍再度遣送到我們陣營中來。他們來自新編制的團隊，成員大都是剛徵調入伍的小伙子。他們幾乎沒受過什麼訓練，只懵懵然接受了粗略的紙上談兵，便被送上戰場。……眼看著他們往前衝，頹然倒下，真令人鼻酸。真想打他們屁股，他們真笨，真想扭住他們手臂，將他們帶離這片與他們無干的地區。他們穿著灰色外套、長褲、長靴，但大部分人的制服都太大了，鬆垮垮地垂著，他們的肩頭也太窄了，身體太瘦弱；軍服沒有童裝的尺寸。」

- () 35. 請問：《西線無戰事》被查禁可能與下列哪些德國的政策直接相關？ (甲)實施極權統治 (乙)禁止反戰思想 (丙)積極建設經濟 (丁)反對共產黨。(A)甲乙 (B)乙丙 (C)丙丁 (D)甲丙。

西元1928年美國總統候選人胡佛(Hoover)，針對貧窮問題發表演說：「今日的美國比歷史上任何一個地方都更接近永遠地戰勝貧窮。救濟院正在消失，但如果有機會繼續執行過去八年的政策，在上帝的幫助下，我們應當很快看到貧窮從這個國家中被驅逐出去的一天。」胡佛當選八個月後，1929年10月華爾街金融恐慌爆發，大蕭條期間美國無家可歸的人，用任何找得到的廢棄材料搭建成的簡陋棚屋因此被稱為〈胡佛村〉作為對胡佛總統的諷刺。

- () 36. 請問，關於經濟大恐慌的敘述下列何者「錯誤」？ (A)戰後歐洲經濟復甦加上美國農工商產品出口供過於求造成生產過剩問題 (B)美國提高關稅保護國內工商業，引起各國效仿，引發連鎖反應造成生產過剩、外銷大增，自由市場自由流動 (C)1929年紐約股票市場狂跌，引起連鎖反應，公司、銀行、工廠紛紛倒閉，失業者劇增，經濟風暴蔓延全球形成世界性經濟大恐慌 (D)1933年羅斯福總統大力推動新政保障人民生活，才逐漸改善經濟大恐慌的困境。

「戰爭罪責條款」亦即凡爾賽條約第231條款，內容如下：「基於德國及其盟國的侵略行為，協約國政府及其國民因戰爭而受害，協約國政府確認且德國接受，必須就她及其盟國導致的一切損失與破壞負責。」上述條款使得德國必須承擔發動戰爭的罪名。

- () 37. 請問：依照上述內容，德國必須承擔的是發動哪一場戰爭的罪名？ (A)德法戰爭 (B)第一次世界大戰 (C)第二次世界大戰 (D)以阿戰爭。

西元 1918 年，某領導人於戰後提出十四點原則，內容摘要如下：「1. 外交公開，廢除秘密外交。……10. 奧匈帝國所屬各民族，均給予最自由的民族自決之機會。11. 撤出羅馬尼亞、塞爾維亞及蒙特內哥羅，給予塞國自由而安全之出海口，巴爾幹各國之政治、經濟獨立與主權完整，均由國際予以保證。……14. 建立一個國際組織，制訂盟約，藉以達到共同保障所有國家政治獨立與領土完整之目的。」

() 38. 請問：提出十四點原則的領導人為下列何人？(A) 英國首相勞合喬治 (B) 法國總理克里蒙梭 (C) 義大利總理墨索里尼 (D) 美國總統威爾遜。

奧斯威辛集中營是人類歷史上最大規模的集體屠殺現場，估計有 110 至 130 萬人在那裏被殺害，其中 90% 是猶太人。學者格雷夫博士表示，納粹曾設法銷毀罪證，導致文件檔案空白，這個空白只能由倖存者及猶太特遣隊成員的回憶來填充。
資料來源：BBC 英倫網，2020 年 2 月 5 日節錄

() 39. 奧斯威辛集中營象徵納粹黨對於猶太人的迫害，關於第一次世界大戰後納粹政權的敘述，下列何者「錯誤」？
(A) 身為第一次世界大戰戰敗國，鉅額的戰爭賠償使得德國經濟更加惡化 (B) 經濟大蕭條的爆發使得共產黨崛起，造成社會動盪 (C) 取得政權的希特勒積極從事經濟建設，重整軍備並實施種族政策 (D) 希特勒以恢復秩序，遵守凡爾賽條約爭取人民支持。

冷戰時期國際間依然不斷出現區域性的危機與衝突，(甲)韓戰 (乙)越戰 (丙)柏林危機 (丁)以阿衝突 (戊)德法戰爭 (己)古巴危機 (庚)無限制潛艇政策。

() 40. 請問：上述內容屬於冷戰時的區域衝突有幾項？(A) 3 項 (B) 4 項 (C) 5 項 (D) 6 項。
() 41. 承上題，冷戰期間歐洲曾經實施過各種不同的政策，以防堵共產勢力的擴張，請問，下列哪些是歐美國家為了防堵蘇聯共產勢力擴張而實施的內容？(甲)成立北大西洋公約組織 (乙)興建柏林圍牆 (丙)實施歐洲經濟重建計畫 (丁)成立華沙公約組織 (A) 甲乙 (B) 甲丙 (C) 乙丙 (D) 丙丁。

【資料一】	西元 2022 年 2 月 24 日，俄羅斯總統 <u>普丁</u> 宣布對烏克蘭採取「特殊軍事行動」，目前已發展成第二次世界大戰以來最大規模歐洲戰爭，軍事專家普遍認為俄羅斯總統 <u>普丁</u> 試圖恢復過去蘇聯的榮耀與國土。
【資料二】	美國在聯合國安全理事會提出譴責俄羅斯入侵烏克蘭決議案，這項提案於 2 月 25 日遭具否決權的俄國否決，中國大陸、阿拉伯聯合大公國和印度棄權，其餘 11 個安理會成員國投下贊成票。3 月 2 日時交由聯合國大會 193 個成員國共同進行表決，表決結果有 141 國支持譴責俄羅斯侵略烏克蘭，俄國、白羅斯、北韓、厄利垂亞、敘利亞 5 國投下反對票，中國、印度、伊朗等 35 國選擇棄權。 資料來源：2022 年 3 月 3 日關鍵評論

() 42. 關於蘇聯與東歐共產勢力的衰微，下列敘述何者「錯誤」？(A) 共產國家忽視民生經濟，人民生活困苦，造成共產勢力衰微 (B) 1989 年，柏林圍牆倒塌象徵東歐共產政權的瓦解 (C) 1985 年，蘇聯領導人戈巴契夫推動改革，成效卓著，因此放手東歐各國自行發展 (D) 1991 年，蘇聯保守派發動政變失敗，加盟國脫離蘇聯並組成「獨立國家國協」。
() 43. 承上題，儘管聯合國大會決議不具法律約束力，但具有政治意義與分量。聯合國與國際聯盟都屬於世界大戰後出現的國際組織，請問：聯合國的組織發展與國際聯盟「不同」之處？(甲)美國加入並是創始會員國 (乙)能夠使用武力制裁 (丙)會員國須提供武力 (丁)以維護世界和平為目標 (A) 甲乙丙 (B) 乙丙丁 (C) 甲乙丁 (D) 甲丙丁。
() 44. 這個地區先後曾歷經不少政權的統治，因為統治者與被統治者民族與宗教信仰的差異，因此造成當地局勢動盪不安，有「歐洲火藥庫」之稱，20 世紀初第一次世界大戰的導火線也在此發生。請問：被稱為「歐洲火藥庫」的是【圖一】哪個地區？(A) 甲 (B) 乙 (C) 丙 (D) 丁。

【圖一】



【圖二】



- () 45. 第二次世界大戰亞洲戰場在 1937 年日本發動盧溝橋事變開始，歐洲則在美國孤立主義和英、法等國採取姑息政策的情況下，維持險峻情勢一段時間，直到德國入侵【圖二】某地後，英、法正式對德宣戰，歐洲戰場正式揭開序幕。請問：德國入侵【圖二】哪個地區，因此揭開了第二次世界大戰的歐洲戰場？(A) 甲 (B) 乙 (C) 丙 (D) 丁。
- () 46. 關於【表一】美國參加兩次世界大戰比較，內容描述「正確」的選項為下列何者？(A) 甲乙丁 (B) 乙丁戊 (C) 甲丙丁 (D) 甲丙戊。

►【表一】美國參加兩次世界大戰比較

項目	第一次世界大戰	第二次世界大戰
(甲)參戰時間	1917 年	1940 年
(乙)導火線	德國實施無限制潛艇政策及煽動墨西哥反美	日本偷襲珍珠港
(丙)加入陣營	同盟國	協約國
(丁)戰局影響	加入後展開反攻	參戰後展開反攻
(戊)戰後作為	未加入國際聯盟	加入聯合國

- () 47. 關於【表二】義大利與德國極權政治比較，內容描述「正確」的選項為下列何者？(A) 甲乙丙 (B) 甲丙丁 (C) 甲乙丁 (D) 甲丁戊。

►【表二】義大利與德國極權政治比較

項目	義大利	德國
(甲)極權者	墨索里尼	希特勒
(乙)背景	戰勝國~經濟低迷	戰敗國~經濟惡化
(丙)政黨	納粹黨	法西斯黨
(丁)口號	反共、恢復古羅馬光榮	反共、廢除凡爾賽條約
(戊)得權方式	透過選舉，獲得政權	發動政變，奪取政權

- () 48. 關於第二次世界大戰至今的政治局勢：(甲)古巴危機 (乙)盟軍佔領柏林 (丙)蘇聯解體 (丁)美國參戰援助盟軍。請依照上述事件在歷史上出現的先後順序加以排列。(A) 甲乙丙丁 (B) 丁乙丙甲 (C) 丁乙甲丙 (D) 乙丁甲丙。
- () 49. 下列四個漫畫代表不同時期領導人的主張，請依照其掌權執政與事件發展先後順序加以排列。(A) 甲乙丙丁 (B) 乙丙丁甲 (C) 丙丁乙甲 (D) 丙乙丁甲。



►俄國相關歷史事件：

- (甲)第一次世界大戰末期喊出「和平」、「土地」、「麵包」的口號，領導布爾什維克黨發動革命推翻臨時政府，順利取得政權建立「蘇維埃社會主義共和國聯邦」。
- (乙)推動計畫經濟，實施獨裁統治，全力發展國防工業，使得國家成為世界第三大工業國。
- (丙)名偵探柯南劇場版《世紀末的魔術師》內容演出怪盜基德將盜取羅曼諾夫王朝皇室密寶「記憶彩蛋」，彩蛋收藏沙皇尼古拉二世一家的照片，而歷史上沙皇最終被推翻處決。
- (丁)「共產國際」是由共產黨以共產主義思想指導的國際聯合組織，總部設於蘇聯莫斯科，成立目的顯示俄國向世界各地輸出共產主義的野心及試圖控制世界各地共產主義運動的想法。
- () 50. 請將上述俄國歷史發展相關事件按照其時間先後順序加以排列。(A) 甲乙丙丁 (B) 乙丙甲丁 (C) 丙甲丁乙 (D) 丙丁甲乙。

【試題到此結束】 祝各位同學會考順利!