

新北市立鶯江國民中學 105 學年度 第 1 學期 8 年級 地理科 第 2 次段考 題目卷

命題教師：地理教師群 日期：11 月 30 日 第 7 節 班級： 座號： 姓名：

【題組 1~4】下列為有關於中國氣溫特色的相關問題，請根據題目敘述回答問題。



圖1 中國一月等溫線圖

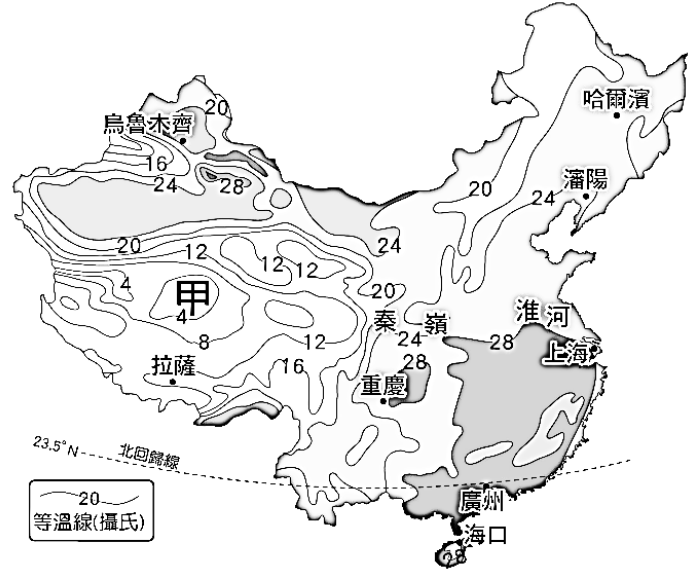
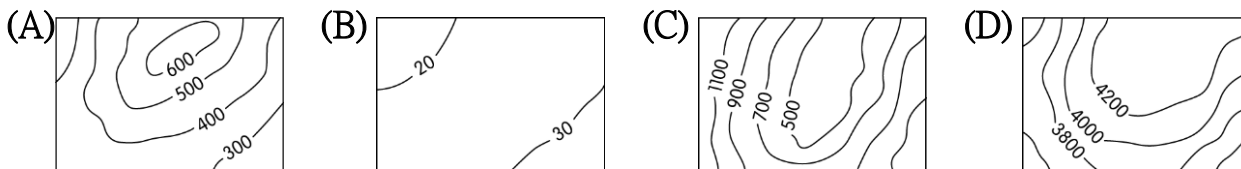
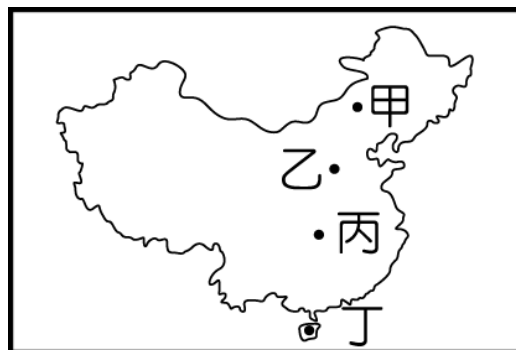


圖2 中國七月等溫線圖

1. 根據圖 1 發現中國東半部南北氣溫截然不同，冬季尤為明顯。請問和下列哪項氣候因素最有關係？  
(A) 緯度 (B) 地形 (C) 季風 (D) 距海遠近。
2. 根據圖 1 發現拉薩一月氣溫較上海低，請問和下列哪項氣候因素最有關係？ (A) 緯度 (B) 地形 (C) 季風 (D) 距海遠近。
3. 根據圖 2 發現中國夏季各地普遍高溫，但甲地氣溫卻低於其他各地。請問這和甲地為下列哪一地形有關？



4. 根據圖 1 和圖 2 發現中國各地年溫差也有所差異，請問下圖甲乙丙丁四地哪一地的年溫差最大？  
(A) 甲 (B) 乙 (C) 丙 (D) 丁。



【題組 5~11】圖 3 和圖 4 為中國某個季節的氣壓分布與風向圖，請根據題目敘述回答問題。

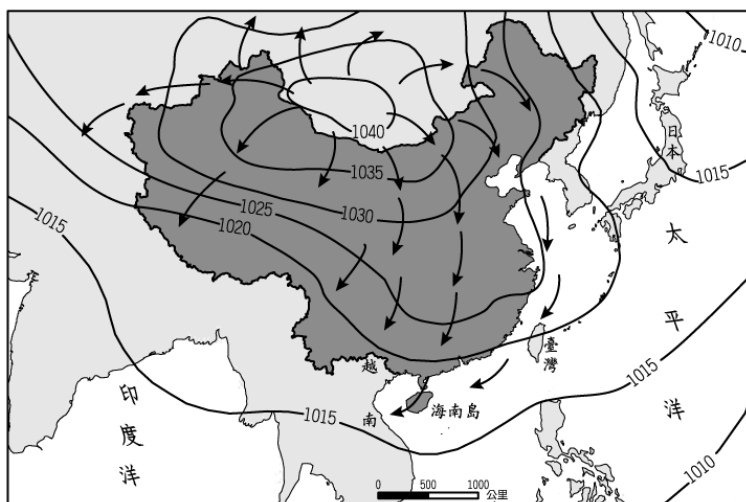


圖3

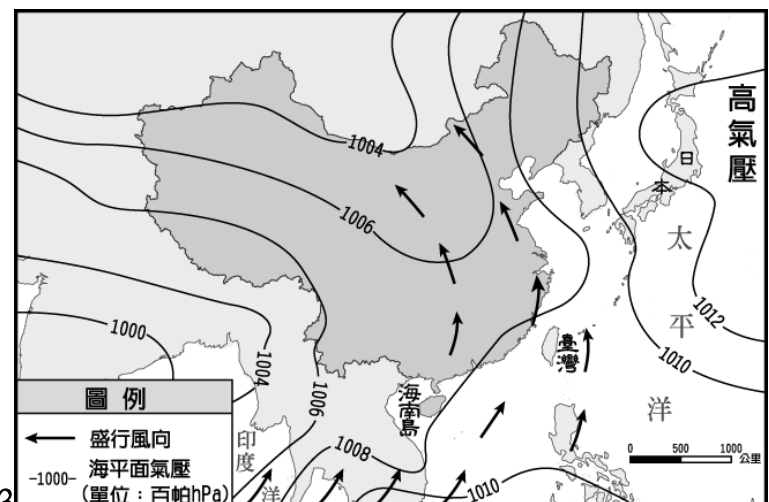
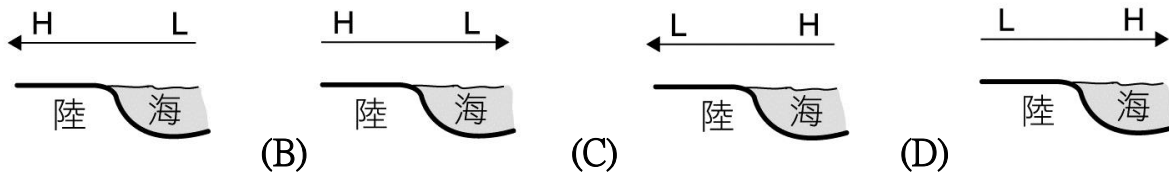


圖4

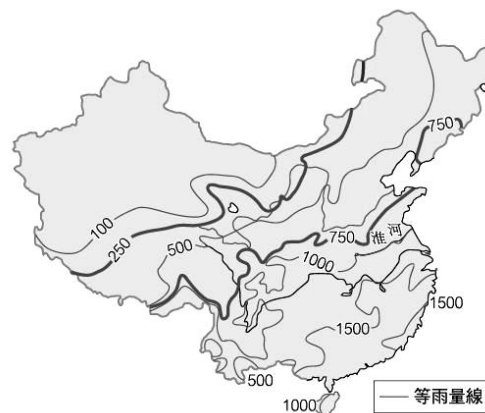
5. 中國東半部為季風氣候，請問其形成季風的主要原因和下列哪一項最有關？(A)地形高低起伏大 (B)位於中緯度 (C)有高大山脈的阻擋 (D)海陸位置分布的影響。
6. 請問圖3是哪一個季節的氣壓分布與風向圖？(A)春季 (B)夏季 (C)秋季 (D)冬季。
7. 請問圖3此時的高氣壓中心分布在哪裡？(A)蒙古 (B)印度 (C)太平洋 (D)大西洋。
8. 請問圖4此時的高低氣壓和風向分布，應為下列哪一個？



9. 請問圖4此時吹出來的季風有何特色？(A)冷乾 (B)冷溼 (C)暖乾 (D)暖溼。
10. 下表為中國冬、夏季風風向變化表。由表中可發現中國不同地區在不同季節時，風向並不相同。請問下表中甲代號正確的風向標示應為下列何者？(A)↖ (B)↙ (C)↗ (D)←。

地區	夏季	冬季
北部	↖	↙
南部	↗	甲

11. 下圖為中國年雨量分布圖，請問造成中國雨量如此分布和下列哪些因素有關？(甲)季風風向(乙)山脈走向(丙)距海遠近(丁)洋流性質(戊)緯度高低。(A)甲乙丙 (B)甲丙丁 (C)乙丙丁 (D)甲丁戊。



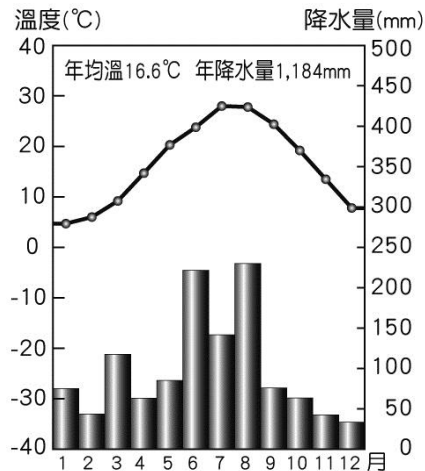
【題組12~17】圖5為中國氣候類型分布圖(甲乙丙為中國三大氣候類型，ㄅ~ㄉ為各氣候類型分區)，請利用該圖回答下列問題。



圖5

12. 請問圖5中乙和丙兩種氣候是以年雨量多少為分界？(A)100mm (B)250mm (C)500mm (D)750mm。
13. 請問圖5中丙氣候又可以依緯度高低分為熱帶、副熱帶和溫帶氣候，是依據下列哪一指標劃分出來的？(A)一月月均溫0和18°C等溫線 (B)七月月均溫10和20°C等溫線 (C)年雨量250和500mm等雨量線 (D)高度>3000公尺。

- 14.圖 5 中哪一個氣候有「一年無四季，一日見四季」和「寒漠」的特徵？ (A)甲 (B)乙 (C)丙。  
 15.承第14題，當地的居民多以「易穿脫的袍子」為傳統服飾，這和當地何種環境因素最為相關？  
 (A)氣候寒冷 (B)降雨量少 (C)日溫差大 (D)蒸發旺盛。  
 16.請問下圖有可能是圖 5 中哪一個氣候區出現的氣候圖？ (A)ㄅ (B)ㄆ (C)ㄇ (D)ㄏ。



- 17.中國氣候多樣，下列何種氣候類型有年溫差與日溫差均最大的特色？ (A)溫帶季風氣候 (B)高地氣候 (C)溫帶草原氣候 (D)溫帶沙漠氣候。

【題組18~23】圖6為中國內流區與外流區分布圖，請根據題目敘述回答問題。

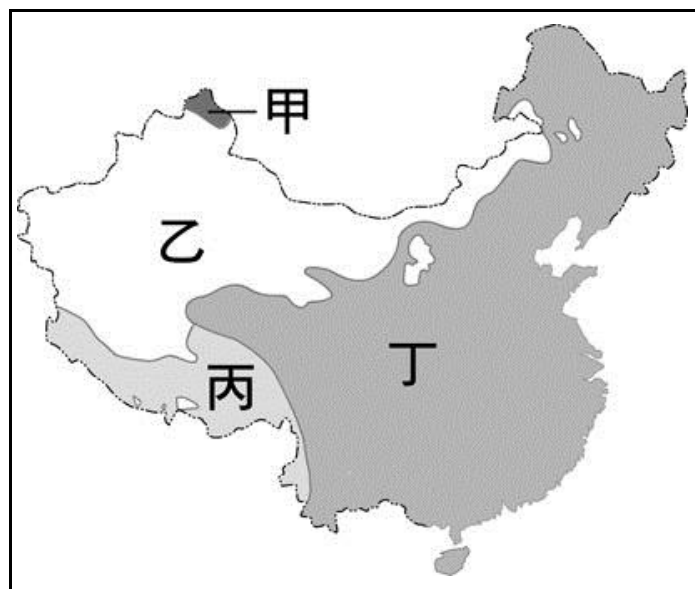


圖6

- 18.請問下列何者是造成中國水系分成內流區、外流區的原因？ (A)氣溫高低 (B)降水多寡 (C)地勢高低 (D)緯度高低。  
 19.下列關於圖6中內外流區的配對中何者錯誤？ (A)甲-北極海外流區 (B)乙-內流區 (C)丙-印度洋外流區 (D)丁-大西洋外流區。  
 20.請問下列哪一條河流是圖6中丙區的河流？ (A)長江 (B)塔里木河 (C)雅魯藏布江 (D)額爾濟斯河。  
 21.請問造成中國三大外流區中，以太平洋外流區範圍最大的主因為何？ (A)人口西少東多 (B)地勢西高東低 (C)農業西盛東衰 (D)雨量西多東少。  
 22.下表為河川和湖泊特色比較表，表中內容哪兩個敘述錯誤？ (A)甲乙 (B)乙丙 (C)丙丁 (D)丁戊。

河流	(甲)終點	(乙)氣候區	(丙)主要水源	(丁)湖泊類型	(戊)湖泊用途
外流河	注入海洋	季風氣候	高山融雪	鹹水湖	灌溉、養殖漁業
內流河	消失沙漠或內陸湖	乾燥氣候	雨水	淡水湖	產湖鹽

- 23.請問若要到中國考察該地區面積最大的鹹水湖，應該前往下列哪個湖泊進行研究？ (A)納木錯湖 (B)鄱陽湖 (C)洞庭湖 (D)青海湖。

【題組24~27】中國氣候多樣，為了適應不同氣候發展出不同生活方式，請根據題目敘述回答問題。

24.下圖為中國某傳統產業活動的分布圖，請由圖中資料判斷，甲地區的產業活動最可能為下列何者？  
 (A)麥田 (B)畜牧 (C)水田 (D)甘蔗。



25.在甲區可發現其建築多為帳篷，如蒙古族的蒙古包。請問這種居住型態和下列哪一個因素最相關？

(A)人口眾多 (B)面積狹小 (C)遷移便利 (D)缺乏建材。

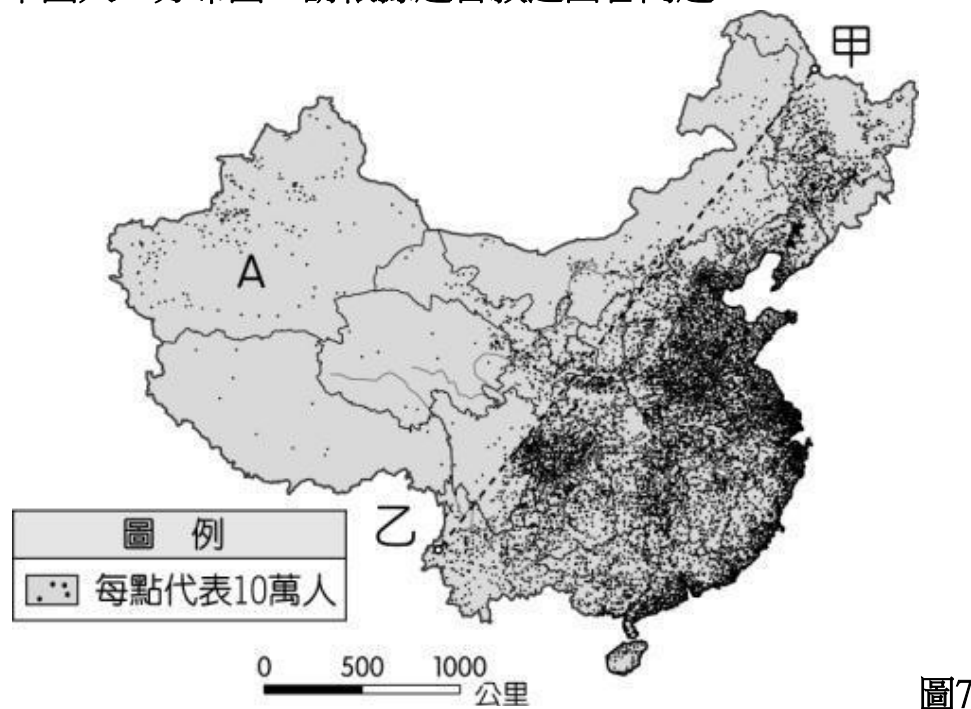
26.中國南部地區常可見到騎樓或高腳屋，請問這種建築分布和該地區何種氣候現象的關係最大？

(A)氣候炎熱 (B)多雨潮溼 (C)風向多變 (D)日溫差大。

27.秦嶺淮河是中國重要的南北分界線，請問下表關於秦嶺淮河的比較哪一項敘述錯誤？

項目	(A)主食	(B)冬季衣服	(C)交通工具	(D)氣候災害
北方	稻米	厚重	陸運為主	多水旱災
南方	小麥	輕薄	水運為主	多豪雨

【題組28~31】圖7為中國人口分布圖，請根據題目敘述回答問題。



28.中國人口分布大致以圖7中的甲和乙地連線為分界。請問圖7中的甲和乙分別是指哪兩個地方？

(A)大興安嶺--太行山 (B)秦嶺--淮河 (C)黑河--騰衝 (D)大興安嶺--秦嶺。

29.承第28題，以甲乙兩地的連線為分界可分為東西兩半部。下表為東西兩半部的特色，請問下列哪一敘述錯誤？

項目	(A)人口密度	(B)地形	(C)氣候	(D)產業
東半部	稀疏	平原較廣	季風氣候	農業為主
西半部	稠密	多山地、高原	乾燥氣候	畜牧業為主

30.中國共有55個民族，請問其中以哪一個民族所占的人口比例最高？ (A)漢族 (B)壯族 (C)滿族 (D)回族。

31.雲貴高原和橫斷山脈一帶是中國少數民族最複雜的地方。請問下列哪項是影響該地區族系多元的主要原因？ (A)氣候乾燥 (B)地形崎嶇 (C)政府政策 (D)緯度較低。

【題組32~35】圖8為為中國五個少數民族的自治區，請利用此圖回答下列問題。

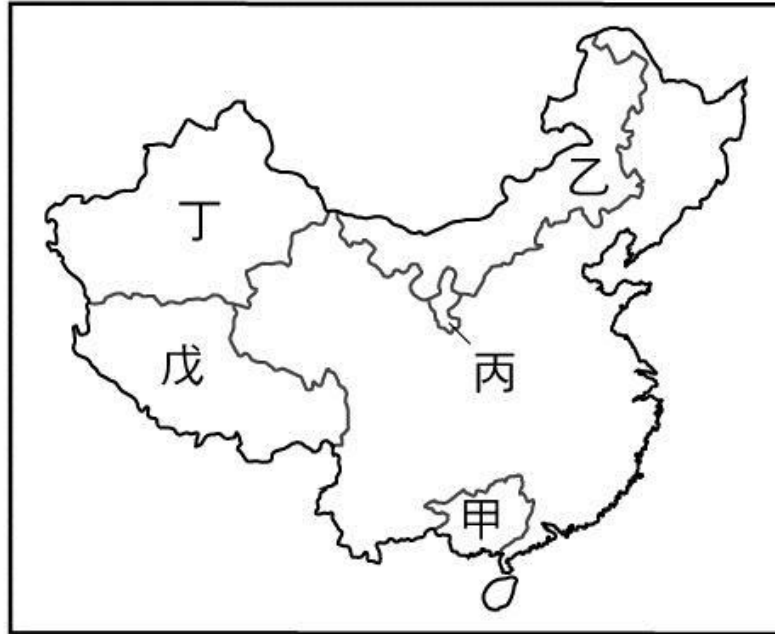


圖8

- 32.圖8中的丁自治區，族系相當複雜，文化相當多元，有民族博物館的稱號。請問造成丁地區族系複雜的原因和下列哪一個因素最相關？(A)氣候乾燥 (B)地形崎嶇 (C)地處邊疆 (D)交通不便。
- 33.請問中國少數民族中人口數量最多的民族分布於圖8中的哪裡？(A)甲 (B)乙 (C)丙 (D)丁。
- 34.在部落格上有一個中國的少數民族寫著：「我來自中國最高的高原上，當地氣候寒冷。我們以犏牛為主要馱獸，藏傳佛教是我們最高的信仰中心。」請問這是哪一個少數民族寫的？(A)蒙古族 (B)壯族 (C)藏族 (D)哈薩克族。
- 35.中國在少數民族聚居的地方設立5個自治區，但下列哪個民族聚集區至今並未設立自治區？(A)壯族 (B)滿族 (C)蒙古族 (D)回族。

【題組36~40】下列為有關於中國人口的相關問題。請根據題目敘述回答問題。

- 36.中國高達 13 億人口對其社會經濟的發展影響甚大。請問這麼多的人口對中國有何益處？(A)資源豐富 (B)糧食充足 (C)市場廣大 (D)就業機會多。
- 37.每年的11月11日是中國的『光棍節』，很多單身男人都參加「光棍節」活動，希望擺脫寂寞，甚至找到女友。請問造成中國男女性別比嚴重失衡的主要原因為何？(甲)工商業發達(乙)重男輕女觀念(丙)一胎化政策(丁)人口外移。(A)甲乙 (B)乙丙 (C)丙丁 (D)甲丁。
- 38.高齡化社會通常出現在經濟發展程度高的國家，如日本、瑞典。但中國卻在經濟正要發展時，達到高齡化社會的標準，請問這和下列何者最有關係？(A)老人社會福利完善吸引其他國家老人移入 (B)勞動人口大量流入鄰近國家 (C)實施一胎化政策 (D)經濟快速發達吸引人口移入。
- 39.「中國境內目前約有 5 千多萬的文盲人口，影響了國家的生產力。」請問若要提高人口素質，其根本方法為何？(A)改善環境品質 (B)教育資源有效分配 (C)徹底實行一胎化 (D)促進經濟發展。
- 40.每年春節中國都進行著地球上最大的人口遷徙，這是因為中國的鄉村人口大量移往沿海地區而形成。請問為何中國的鄉村人口要大量移往沿海都市，主要是因為沿海都市具有何種優勢？(A)交通便利 (B)地形平坦 (C)氣候溫暖 (D)經濟發達。

本試題卷結束，記得檢查喔!