











新北市板橋區後埔國民小學 106 學年度第一學期期末考查試題

領域	數學科	年級	年 班	座 號	姓名	命題老師	潘淑妮 老師
----	-----	----	-----	-----	----	------	--------

一、選擇題：(每題 2 分，共 12 分)

- () 小安和小年各抽 2 張牌，小安抽到的點數是 3 和 5，小年抽到的點數是 5 和 3，誰的點數合起來較多？
 ① 小安 ② 小年 ③ 一樣多
- () 小新吹泡泡，第一次吹出 3 個泡泡，第二次沒有吹出泡泡，兩次共吹出幾個泡泡？
 請選出正確的算式和答案：
 ① $3-0=3$ ② $3+0=3$ ③ $0+3=0$
- () 下面哪個物品只有彎彎的面？
 ①  ②  ③ 
- () 請選出長方形。
 ①  ②  ③ 
- () 桌上有 6 杯牛奶和 3 杯果汁，牛奶比果汁多幾杯？
 ① 9 杯 ② 3 杯 ③ 6 杯
- () 下面哪個時鐘的短針是錯的？
 ①  ②  ③ 

二、數一數，各有幾個？(1-4 題每格 2 分，第 5 題 1 分，共 9 分)



- 圓形有 () 個
- 長方形有 () 個
- 正方形有 () 個
- 三角形有 () 個
- 圈圈看，哪種形狀最多？
 (圓形，長方形，正方形，三角形)

三、填填看(每格 1 分，共 21 分)

- 媽媽買了 4 個甜甜圈，姐姐吃了 4 個，還剩下 () 個甜甜圈。
- 爸爸和哥哥套圈，爸爸套中 6 個，哥哥沒有套中，爸爸比哥哥多套中 () 個，兩人共套中 () 個。

3. 小謙從百貨公司的 2 樓向上走了 6 樓到美食街，美食街在 () 樓。

4. 樹上原有 10 隻鳥，槍聲一響，全部的鳥都飛走了，共有 () 隻鳥飛走，樹上還剩下 () 隻鳥。

5. 長針指在 ()，短針指在 () 和 () 間，是 () 點半。
 用數字寫鐘表表示是 :



6. 下面是星期天上午三點卡通播放的節目，依時間先後寫 1、2、3
 10:00 9:00 9:30
 () () ()

7. 上午 11:00，小年在希望廣場玩球，再過 1 小時就要吃午餐，所以小年在 () 午 () 點鐘吃午餐。

8. 小靜和小香跳房子，小靜第一次向前跳 4 格，第二次再向前跳 2 格，共跳了 () 格；小香第一次向前跳 3 格，第二次再向前跳 1 格，共跳了 () 格。

圈圈看：(小靜，小香) 跳得比較多格，多 () 格。

9. 現在是上午 10 點半，2 小時之前，後埔國小的小學生正在升旗，所以 () 點半。
 現在是 () 時刻。



四、畫○做做看(每題 2 分，共 8 分)

- $8-5 = ()$ 2. $9-1 = ()$
- $2+4 = ()$ 4. $7+3 = ()$

(後面還有題目)

新北市板橋區後埔國民小學 106 學年度第一學期期中考查試題

領域	數學科	年級	年 班	座 號	姓 名	命題老師	潘淑妮 老師
----	-----	----	-----	-----	-----	------	--------

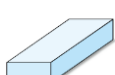
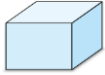
五、連連看看(每線 1 分，共 12 分)

(1)

只有平平的面

只有彎彎的面

有平平的面，也有彎彎的面



容易滾動，不能堆高

可以堆高，不容易滾動

可以堆高，也容易滾動

(2)

九點鐘

七點鐘

二點半

十二點半



12:30



7:00

六、圈圈看看(共 17 分)

1. 把答案比 5 大的算式圈起來(9 分)

9 - 3

2 + 1

6 + 1

8 - 4

5 + 5



4 - 2

7 - 1

3 + 1

4 + 4

2. 把可以堆高，不容易滾動的物圈起來(8 分)



七、把做法用算式記下來(每題 3 分，共 21 分)

1. 氣寶有 5 個氣球，開心女王又送給他 3 個，他共有幾個氣球？

算式：

() 個

2. 噴嚏蟲有 8 個氣球，不小心飛走了 2 個，他還有幾個氣球？

算式：

() 個

3. 羞羞最愛吃蛋塔，一盒蛋塔有 5 個，他買了兩盒，共有幾個蛋塔？

算式：

() 個

4. 瞌睡蟲和小迷糊去採草莓，兩人共採了 10 顆，有 4 顆是瞌睡蟲採的，小迷糊採了幾顆草莓？

算式：

() 顆

5. 開心女王邀請七寶來作客，城堡內有 4 張椅子，有 7 個人要坐，1 人坐 1 張椅子，不夠幾張椅子？

算式：

() 張

6. 開心果有 8 元，今天沒有花錢，開心果還有幾元？

算式：

() 元

7. 萬事通玩疊疊樂，原本疊了 5 根積木，再往上疊了 2 根，他共疊了幾根積木？

算式：

() 根

寫完後，要記得檢查