





新北市板橋區後埔國民小學 106 學年度第一學期期末考查試題

領域	數學科	年級	年 班	座號	姓名	命題老師	謝欣容
----	-----	----	-----	----	----	------	-----

一、填填看看：(30%，每答1分)

- (1) 在  $2 \times 7 = 14$  的算式中，積是 ( )，被乘數是 ( )，乘數是 ( )。
- (2)  $7 \times 6$  比  $7 \times 7$  少 ( ) 個 7，是少 ( )。
- (3)  $5 \times 5$  比  $5 \times 3$  多 ( ) 個 5，是多 ( )。
- (4)  $8+8+8+8=32$ ，是 8 的 ( ) 倍，用乘法算式記作 ( )  $\times$  ( ) = ( )
- (5)  $3+3+3+3+3$  ( )  $6 \times 3$  (填「 $>$ 」、「 $<$ 」或「 $=$ 」)
- (6) 2 有 5 個，再加一個 2 後，2 有 ( ) 個，是 2 的 ( ) 倍。
- (7) ①  $5 \times$  ( ) = 35    ② ( )  $\times 6 = 48$   
 ③  $8 \times 8 =$  ( )    ④ ( )  $\times 4 = 32$   
 ⑤  $7 \times 7 =$  ( )    ⑥  $6 \times$  ( ) = 42
- (8) 填填看看，時鐘上是幾點幾分？

	
① ( ) 點 ( ) 分	② ( ) 點 ( ) 分
	
③ ( ) 點 ( ) 分	④ ( ) 點 ( ) 分

- (9) 分針指在第 38 小格，時針指在 6 和 7 之間，是 ( ) 點 ( ) 分。

二、連連看：(8%，每答1分)

(1) 把意思相同的連起來。

① 9 有 6 個	•	•	ㄅ. $6 \times 3$
② 3 的 6 倍	•	•	ㄆ. 9 的 6 倍
③ $6+6+6$	•	•	ㄏ. 2 有 9 個
④ $2 \times 9$	•	•	ㄏ. $3 \times 6$

(2) 把意思相同的連起來。

① 4 的 3 倍	•	•	
② 4 是被乘數	•	•	A. $3 \times 4$
③ 4 是乘數	•	•	B. $4 \times 3$
④ $3+3+3+3$	•	•	

三、選出正確的答：(4%，每答2分)

- ( ) (1) 在天平兩邊放上不一樣的東西，比較低那邊的東西表示什麼？(①比較重②一樣重③比較輕)。
- ( ) (2) 當天平兩邊分別放上不一樣的東西，天平兩邊一樣高，下面敘述哪一個是正確的？(①數量少的一定輕②數量多的一定重③一樣重)。

四、看圖填填看：(8%，每答1分)


後埔國小二年級的小朋友要到卡司·蒂菴樂園戶外教育囉！

◎戶外教育通知單




時間：1月16日(星期二)

行程 上午 7:40 學校集合  
 上午 8:00 準時出發  
 上午 9:00~下午 2:30 卡司·蒂菴樂園  
 下午 2:30~下午 3:00 快樂回學校  
 下午 4:00 放學

- (1) 小玉起床了！現在是 ( ) 點 ( ) 分，分針再走 3 大格，是經過 ( ) 分鐘，是 ( ) 點 ( ) 分。



- (2) 上午 7:40 集合，上午 8:00 準時出發，請問分針共走了幾大格？( ) 大格
- (3) 上午 11:00 有個比薩 DIY 活動，加上午餐時間一直到下午 1:00 結束，共花了幾個小時？( ) 小時
- (4) 全體二年級小朋友大約下午 3 點多到達學校。請選出正確時刻，並在 ( ) 中打  $\checkmark$  (1分)






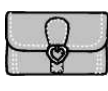
		
( )	( )	( )

後面還有題目喔！

新北市板橋區後埔國民小學 106 學年度第一學期期末考查試題





領域	數學科	年級	年 班	座號	姓名	命題老師	謝欣容
----	-----	----	-----	----	----	------	-----

五、下面物品，哪些是容器？是容器的在( )裡打√，不是的打×：(12%，每答2分)

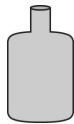

		
① ( )	② ( )	③ ( )
		
④ ( )	⑤ ( )	⑥ ( )

六、哪一個容器的容量較多？在( )裡打√：(4%)

(1) (2分)


	
	
牛奶 ( )	果汁 ( )

(2) (2分)

	
( )	( )


七、比比看：(10%，每答2分)

(1) 將下面三種水果，由重到輕在□中填入1、2、3：



蘋果	橘子	檸檬
□	□	□

(2) 比較輕的在□打√，比較重的畫○。



□

□

八、把做法用加法算式記下來：(3%，每答3分)

◎ 一隻蝴蝶有6隻腳，4隻蝴蝶共有幾隻腳？

( ) 隻

九、把做法用乘法算式記下來：(21%，每答3分)

(1) 一盒巧克力餅乾有5塊，媽媽買了6盒，共有幾塊餅乾？

( ) 塊

(2) 一串香蕉有8根，奶奶買了7串，共買了幾根香蕉？

( ) 根

(3) 小明拿了3束氣球，一束有7顆，共拿了幾顆氣球？

( ) 顆

(4) 小華的錢是9元的4倍，小華有幾元？

( ) 元

(5) 教室裡每一排有六張桌子，共排了5排，共有幾張桌子？

( ) 張

(6) 一盒布丁有3個

① 爸爸買了8盒準備送給小朋友，共有幾個？

( ) 個

② 承①題，到了教室後，爸爸發現不夠全班小朋友分，又去買了一盒，爸爸最後共買了幾個布丁？

( ) 個

小朋友，寫完要仔細的檢查喔！

