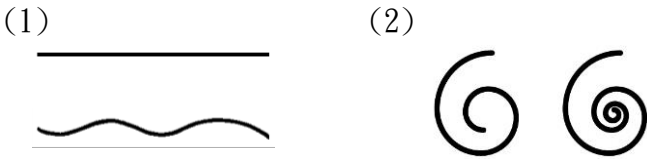


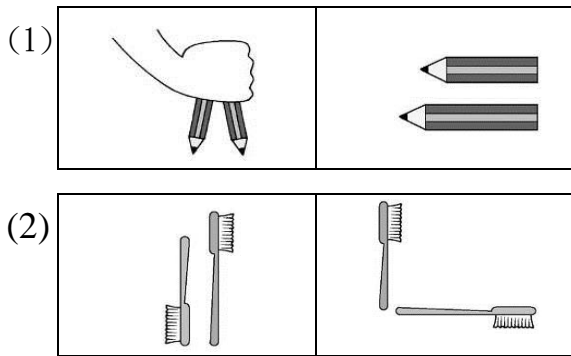
一、圈圈看看：(每個答案 2 分，共 10 分)

1. 比一比，把比較短的圈起來。



2. 什麼比長短才是對的？

把對的圈起來。



3. 小丑把 9 頂帽子分給 6 個小朋友，
一人 1 頂，帽子夠嗎？(夠，不夠)

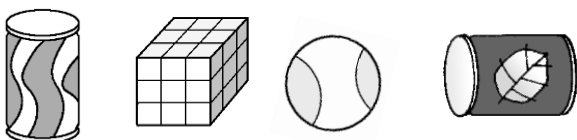
二、填填看看：

(3.4 題每個答案 3 分，其餘每格 2 分，共 63 分)

1. 下面勺、叉、刀、匕 四個物品中，

- (1) 只有平平的面的是：()
- (2) 只有彎彎的面的是：()
- (3) 有彎彎的面也有平平的面是哪些物品？()

勺 叉 刀 匕



2. 按照順序填入正確的數字：


- (1) $10 \rightarrow \square \rightarrow 8 \rightarrow \square \rightarrow \square$
- (2) $\square \rightarrow \square \rightarrow 28 \rightarrow 29 \rightarrow \square$

第一學期一年級第二次定期考查試卷

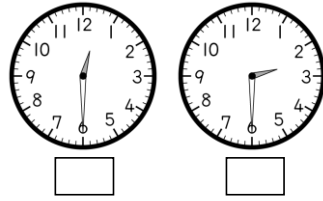
姓名：_____ 分數：_____

3. 在正確答案的 \square 裡打 \checkmark 。

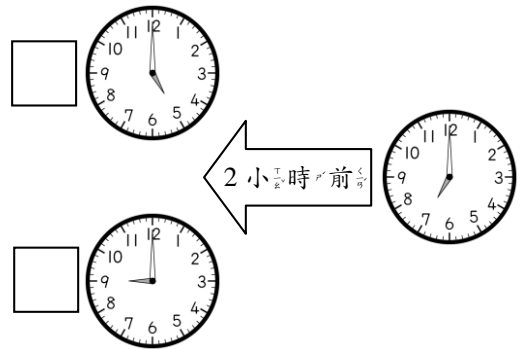
(1) 爸爸早上 7 點鐘出門上班。



(2) 小瑜下午 2 點半上舞蹈課。




(3)




4.

() 點半 () 點鐘



5. 第一個



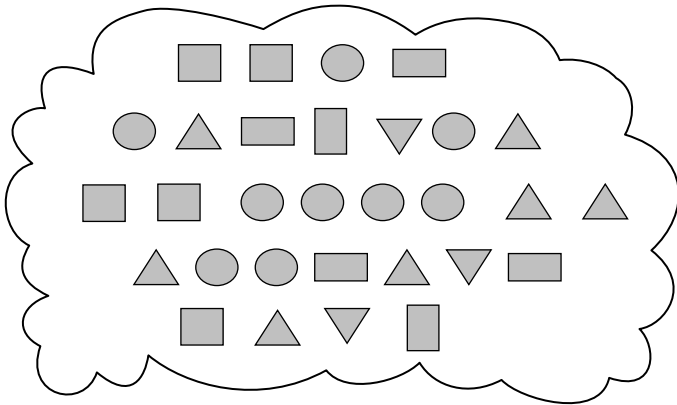
虎 兔 龍 蛇 馬 猴 羊 雞 狗 豬

- (1) 馬排在羊的(前後面，後後面)
- (2) 排在蛇後面第 3 隻是()。
- (3) 狗排在第()個位子，排在牠前面的動物共有()隻。

6. 全部有 9 個 ○，請問奇奇用 遮住了幾個 ○？

- (1) ○○○○ ()
- (2) ○○ ()
- (3) ○○○○○○○○ ()

7.



每種形狀各有幾個？先用「正」字記記看，再回答問題。

(1) 是 (三角、正方形、長方形)

(2) 哪一種形狀的數量最多？

(, , ,)

(3) 比 少 () 個。

(4) 比 多 () 個。

三、連連看：(9分)

請你把答案一樣的一樣連起來。

8-3 9-7 3+7

7-5 8+2 1+4

四、塗塗看：(6分)

1. 請你從左邊開始數，塗塗看。

	左	右
前面 4 個	○ ○ ○ ○ ○ ○ ○ ○ ○ ○	
第 7 個	○ ○ ○ ○ ○ ○ ○ ○ ○ ○	

五、應用題：(每題4分，共12分)

先用算式記記看，再作答。

1. 桌上有 10 塊餅乾，姐姐吃了 2 塊餅乾，妹妹吃了 7 塊餅乾，一共吃了幾塊餅乾？

(塊)

2. 盤子裡原本有一些果凍，吃掉 6 個後，還剩下 3 個在盤子裡，原來有幾個果凍？

(個)

3. 書架上本來有 10 本書，小凱借走 3 本之後，書架上還剩下幾本書？

(本)