

數學領域 _____ 年 _____ 班 _____ 號

姓名：_____ 分數：_____

一、 填填看看(1~7 題每格 1 分， 8~10 題每格 2 分， 共 38 分)

- 一條繩子剪成十小條，重量會改變嗎？(會，不會)。
- 一顆西瓜 75 元，一瓶鮮奶 38 元，弟弟身上有 120 元，夠不夠買一顆西瓜和一瓶鮮奶？(夠，不夠)。
- $9+9+9+9+9+9 = 9 \times (\quad) = (\quad)$ 。
- 5 的 6 倍是 (\quad) ，6 的 7 倍是 (\quad) 。
 - 5×5 比 5×3 多 (\quad) 個 5，是多 (\quad) 。
 - 「4 的 7 倍」比「4 的 9 倍」少 (\quad) 。
 - 「10 的 4 倍」比「10 的 2 倍」多 (\quad) 。
 - 7 的 5 倍是 $(\quad) \times (\quad) = (\quad)$ 。
 - $2 \times 8 = 16$ ，被乘數是 (\quad) ，乘數 (\quad) ，積是 (\quad) 。

7. 哪一個數最接近正確答案圈起來？

(1) $31 + 71 = ?$

90 100 110

(2) $83 - 42 = ?$

40 50 60


(3) $91 - 52 = ?$

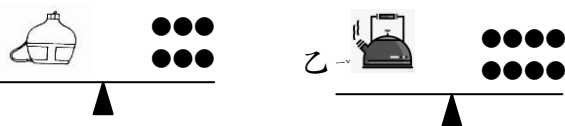
20 30 40

(4) $69 + 69 = ?$

120 130 140


8. 
- 一層熊貓有三隻疊在一起，6 層熊貓共有 (\quad) 隻疊在一起。
 - 用連加算式記成 (\quad) 。
 - 用乘法算式記成 (\quad) 。

9. 
- 一隻章魚 8 隻腳，五隻章魚共有 (\quad) 隻腳。
 - 用連加算式記成 (\quad) 。
 - 用乘法算式記成 (\quad) 。


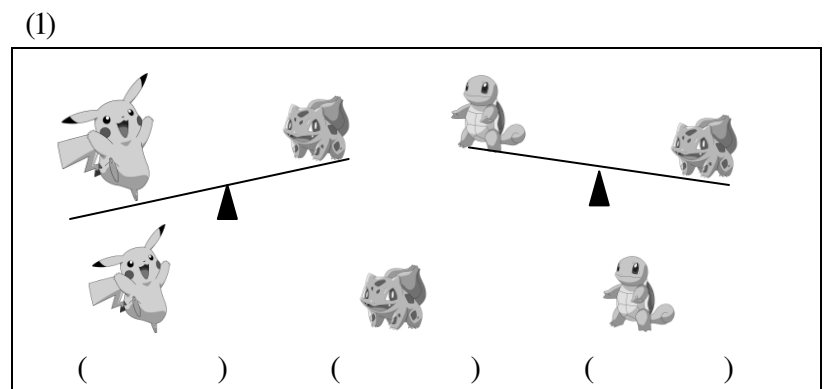
10. 
- 甲容器和乙容器誰比較重？ (\quad) 。
 - 甲和乙合起來共有 (\quad) 個 \bullet 。
 - 甲和乙相差 (\quad) 個 \bullet 。

二、 比比看看(每小題 2 分， 共 18 分)

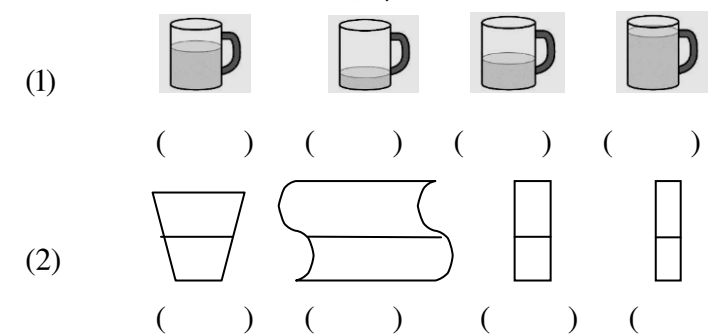
1. 重的打 \checkmark



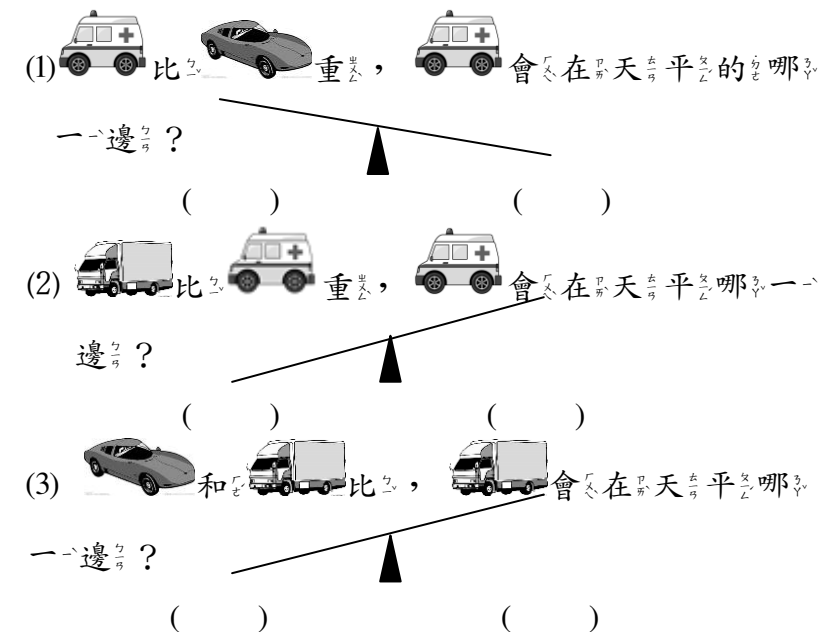
2. 最重的打 \checkmark ，最輕的打 \times 。



3. 按照杯子裡的水量，由少到多寫出 1、2、3、4 的順序。



4. 想一想，在正確 (\quad) 裡打 \checkmark 。



三、把正確的答案連起來(每答2分, 共8分)

$7+7+7+7+7+7$
$5+5+5+5$
$6+6$
$2+2+2+2+2+2$

6的2倍
5的4倍
2的6倍
7的6倍

四、應用題(每答3分, 共15分)

* 下面是沙崙漢堡店的價目表, 看圖算算看。



15元



32元



22元



55元



28元

1. 小徐買了一個 和一杯 、一個 ，一共要付多少錢？

答: _____元

2. 阿蔡帶了100元去買一包 和一個 ，還剩下多少錢？

答: _____元

3. 老余帶了80元去買2包 ，可以找回多少錢？

答: _____元

4. 琪琪帶了60元去買一個 ，後來爸爸又給他55元，琪琪現在有多少元？

答: _____元

5. 賢賢身上只有40元想買一個 和一個 ，還不夠多少錢？

答: _____元

五、用乘法算式記記看(每答3分, 共21分)

1. 一盒巧克力有9顆，慶宜買了8盒，一共有幾顆巧克力？

答: _____顆

2. 一輛汽車可以坐5人，6輛汽車可以坐多少人？

答: _____人

3. 一艘碰碰船可以坐7位大人和4位小孩，兒童樂園內共有3艘碰碰船。

(1) 兒童樂園內所有的碰碰船可以載幾位大人？

答: _____位

(2) 兒童樂園內所有的碰碰船可以載幾位小孩？

答: _____位

4. 美均有3本故事書，思營的是美的6倍，思營有幾本故事書？

答: _____本

5. 請先畫圖表示 2×4 ，再根據圖畫內容用文字把乘法題目記下來。

(1) 圖畫:

(2) 乘法題目: