


新北市鶯歌國小106學年度第一學期期末定期評量一年級數學科試題

一年級 班 號 姓名：

一、圈圈看看：每題3分，共30分

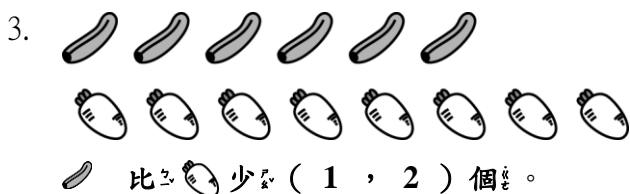
1. 做哪一件事花的時間比較長？




(①上課課, ②下課課)

2. 從1開始順著數，哪一個數會先數到？

(20, 10, 15)

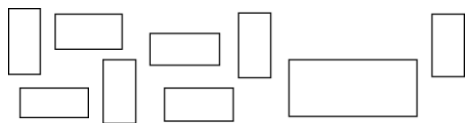


4. 圈出正確的時刻。



- ① 3點
- ② 3點半
- ③ 4點半

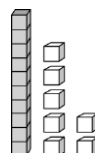
5. 圈出不一樣大小小的形狀。



6. 從23開始，順著數6個數，會數到 (28, 29, 30)。

7. 從20開始倒著數，哪一個數會先數到？
(17, 18)

8. 圈出積木代表的數。



(17, 16, 15)

9. 哪一個圖形是三角形？



10. 圈出最大的數。



二、填填看看：每格2分，共30分

1. 2條和 () 個，是26。



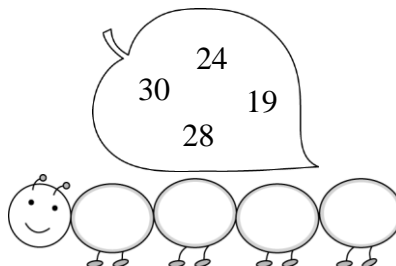
2. 10和3合起來是 ()。

3. 10和 () 合起來是20。

4. () 和2合起來是22。

5. 依照由小到大的順序，排

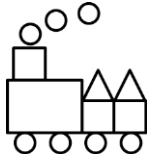
下面各數。



6. 按照數字順序填填看。



7. 數數看，各有幾個？



○	△	□	▭

三、算算看：每題 4 分，共 20 分

1. 先畫○再畫掉，做做看。

$$6 - 5 = (\quad)$$

2. 先畫○再畫掉，做做看。

$$9 - 2 = (\quad)$$

3. 先畫○再畫掉，做做看。

$$10 - 7 = (\quad)$$

4. 用向下的數減減看。

$$9 - 4 = (\quad)$$

?
?
?
?
9

-1
-1
-1
-1

5. 用向下的數減減看。

$$10 - 3 = (\quad)$$

$$\begin{array}{ccccccc}
 ? & & ? & & ? & & 10 \\
 \curvearrowright & & \curvearrowright & & \curvearrowright & & \\
 -1 & & -1 & & -1 & &
 \end{array}$$

四、寫出算式做做看：每題 4 分，共 20 分

1. 真真原有 7 隻快樂鳥，媽媽又買給她 3 隻，真真現在有幾隻快樂鳥？

算式：

有 () 隻

2. 小英有 5 元，大華有 4 元，兩人合起來共有幾元？

算式：

有 () 元

3. 一盒雞蛋可以放 10 顆，已經放了 6 顆，還可以再放幾顆？

算式：

再放 () 顆

4. 動物園裡有 5 隻猴子和 2 隻兔子，猴子比兔子多幾隻？

算式：

多 () 隻

5. 一條線串了 8 顆珠子，小珍弄掉了 3 顆，剩下幾顆？

算式：

剩下 () 顆