

領域	數學	班級	一年 班	座號		姓名		成績	
----	----	----	------	----	--	----	--	----	--

一. 填填看看: 共 24 分

1. 按照數的順序填填看看。

① $13 \rightarrow () \rightarrow 15 \rightarrow () \rightarrow () \rightarrow 18$

② $() \rightarrow 29 \rightarrow () \rightarrow 27 \rightarrow () \rightarrow 25$

2. 比比看，把比 15 大的打 \checkmark ，

比 15 小的畫 \bigcirc

8 29 20 12 19

() () () () ()

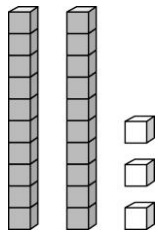
3. 依照由小到大的順序排出下面

各數。 6、24、10、18

() \rightarrow () \rightarrow () \rightarrow ()

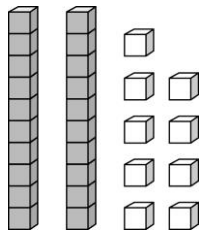
4. 在 () 中寫出積木代表的數。

①



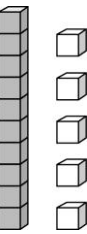
()

②



()

③



()

5. 算算看下面心算卡的答案是多

① $10 - 10 = ()$ ② $7 - 6 = ()$

③ $8 - 2 = ()$ ④ $4 + 4 = ()$


⑤ $9 + 0 = ()$ ⑥ $1 + 7 = ()$

二. 看圖做做看看: 共 20 分

1. 數一數，填一填，再圈出正


確的答案。

① 小欣



() 個

② 菲比




() 個

(小欣, 菲比) 的愛心比較少

2. 把 10 個、10 個圈起來，再看

圖做做看看。



① 有 () 個甜甜圈。

② 放進了 1 個後，有 () 個甜甜圈。

③ 再放進 1 個，有 () 個甜甜圈。

3. 先寫出正確的時間，再圈圈看看。

<p>小華上床睡覺</p> <p>下午 () 點</p>	<p>小玉上床睡覺</p> <p>下午 () 點半</p>
-------------------------------	--------------------------------

(小華, 小玉) 比較早上床睡覺。

三. 畫○做做看看: 共 18 分

① $5 + 0 = ()$ ② $3 + 7 = ()$

③ $4 + 2 = ()$ ④ $9 - 4 = ()$

⑤ $7 - 3 = ()$ ⑥ $10 - 1 = ()$

【背面還有題目呵!】

四. 配合題: 共 8 分

下面各題要如何算出答案?

選出正確的算式, 填入代號。

ㄅ $3+4=7$	ㄆ $6-4=2$
ㄇ $7+2=9$	ㄏ $9-6=3$

- 魚缸裡有 6 條魚, 送給朋友 4 條後, 還剩下多少條? ()
- 弟弟有 9 枝棒棒糖, 吃掉 6 枝, 還剩下多少枝棒棒糖? ()
- 公園裡有 3 個人在溜滑梯, 4 個人在玩翹翹板, 合起來有幾個人? ()
- 教室裡有 7 個女生在掃地, 2 個男生在擦窗戶, 合起來有幾個人? ()

五. 勾選題: 共 14 分

- 哪些鐘面上上的時刻在 10 點到 11 點之間, 請在 () 中打 \checkmark

①



()

②



()

③



()

④



()

- 做哪一件事花的時間比較短? 比較短的打 \checkmark

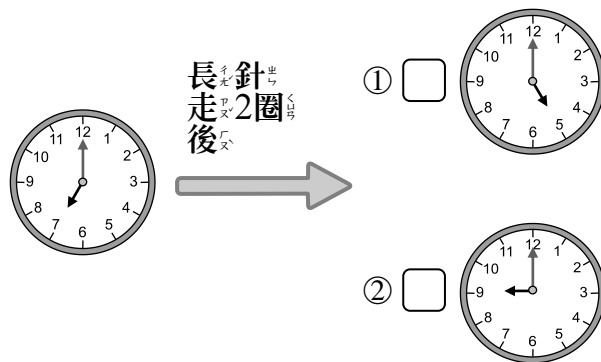
①吃午餐

()

②喝水

()

3. 把正確的時間打 \checkmark (2 分)



六. 寫出算式做做看: 共 16 分

- 小明有 8 片餅乾, 他分給 8 個同學, 每個人 1 片餅乾, 還剩下幾片餅乾?

算式:

剩下 () 片餅乾

- 桌上有 9 枝鉛筆, 小莉拿走 5 枝鉛筆, 桌上還剩下幾枝鉛筆?

算式:

剩下 () 枝鉛筆

- 柵欄裡有 5 隻黑羊, 3 隻白羊, 共有幾隻羊?

算式:

有 () 隻羊

- 樹上有 4 隻瓢蟲, 再飛來 6 隻瓢蟲, 現在樹上有幾隻瓢蟲?

算式:

有 () 隻瓢蟲

【恭喜你完成了, 要仔細檢查呵!】