

領域	數學	班級	二年 班	座號		姓名		成績	
----	----	----	------	----	--	----	--	----	--

一、選出正確的答案：共14分
(每題2分)

1. () 圖中是每個小朋友早上到校的時間，誰在7時45分以後才到學校？



- ① 小美 ② 小花 ③ 小宣

2. () 圖中的時間，在數字鐘上會怎麼顯示？



- ① 00:12 ② 12:00 ③ 12:12

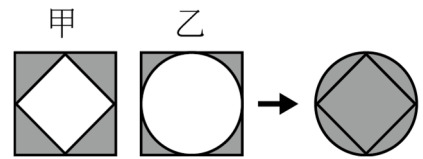
3. () 比一比，下面選項中，哪一個的面積最小？

- ① 運動服上的名牌
② 一張圖畫紙
③ 聯絡簿的一頁

4. () $3\square 3\square 3 = 3\square 3$ ， \square 中應該分別填入什麼符號，才能成為正確的算式？

- ① \times 、 $+$ 、 \times ② \times 、 $+$ 、 $+$
③ $+$ 、 $+$ 、 \times

5. () 在大、小相同的正方形紙上，剪下不一樣大的圖形，哪一張剩下的面積比較大？



- ① 甲 ② 乙 ③ 一樣大

6. () $\square \times 8 = 48$ ， \square 裡應該填入什麼數字？

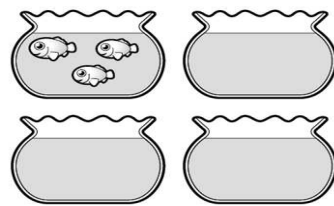
- ① 7 ② 6 ③ 5

7. () 每個紅包放2張100元，媽媽要準備4個紅包，需要幾張100元？乘法算式可以寫成：

- ① $2 + 4 = 6$ ② $2 \times 4 = 8$
③ $4 \times 2 = 8$

二、畫畫看看，並填填看看。共4分(乘法算式2分)

一個魚缸裡有3條魚，



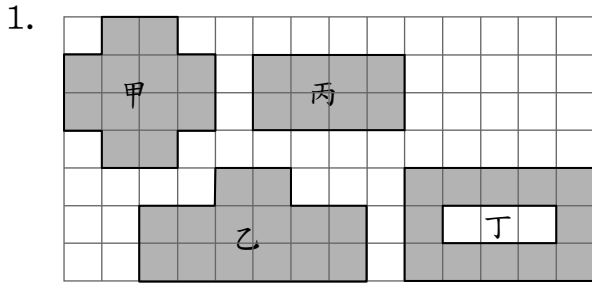
4個魚缸裡有()條魚。

用乘法算式記記看看：

()

三、填填看看： 共 31 分 (1~8 小題每題

格 1 分， 第 9 小題 2 分)



(1) 上面圖形的各和幾個合起來一樣大?

甲： () 個

乙： () 個

丙： () 個

丁： () 個

(2) 哪一個圖形的面積最大?

()

(3) 哪一個圖形的面積最小?

()

(4) 圖形()和圖形()

() 的面積一樣大。

2. 「水果奶奶說故事」的節目，

從下午 5 時 30 分開始播

放 1 小時，會在下午幾

時幾分結束?

下午 () 時 () 分

3. 從上午 10 時到中午 12

時，時針走了 () 大

格，是 () 小時。

4. 1 盒雞蛋有 4 個，3 盒蛋

共有 () 個；再加 1 盒

後，現在有 () 盒，

共有 () 個雞蛋。

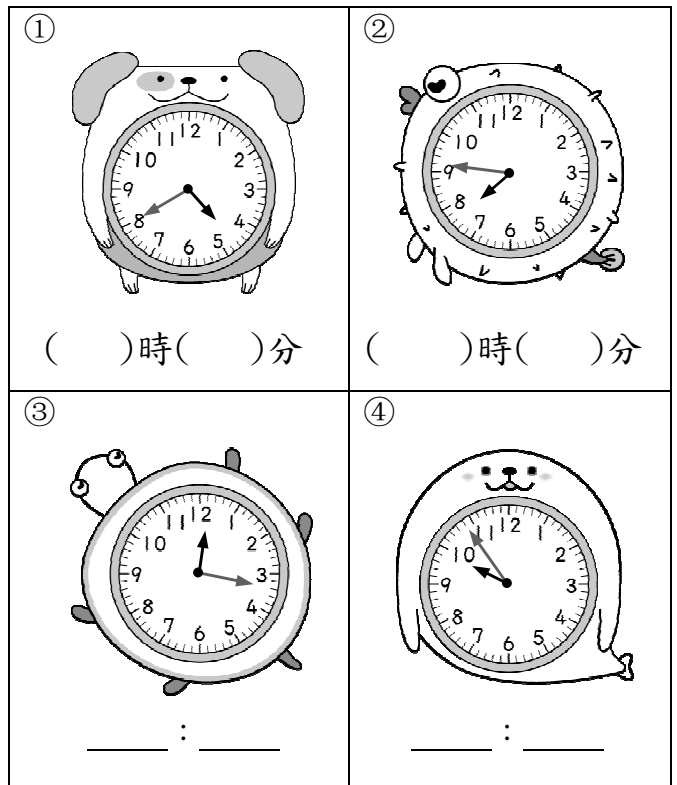
5. 「8 + 8 + 8 + 8」也可以表示成 () 的 () 倍。

6. 7×6 比 7×4 多 () 個 7，是多了 ()。

7. 4 個 6 連加，也可以寫成：

() \times () = 24。

8. 下面鐘面各是幾點幾分?






9. 媽媽下午 5 點多出門接小叮噹回家，把正確時刻的鐘面在 () 裡打 \checkmark 。

①

②

③



()

()

()

領域	數學	班級	二年 班	座號		姓名			
----	----	----	------	----	--	----	--	--	--

四、連連看：共6分(每題1分)

1.

$$\begin{array}{r} 9 \\ \times 2 \\ \hline 18 \end{array}$$

• 積
• 被乘數
• 乘數

2. 下列各題要用哪一個算式計算？連連看。

白花8朵，紅花2朵，共有多少朵？

• •

姐姐有8支鉛筆，弟弟比姐姐少2支，弟弟有幾支鉛筆？

• •

足球隊一組有8個人，2組共有多少個人？

• •

五、寫出算式和答案：共20分(每題4分)

1. 小明吃早餐花了25元，吃午餐花了48元，還剩下7元，小明原有多少元？

答：()元

2. 文具店有99本畫冊，昨天賣出13本，今天賣出25本，還剩下多少本？

答：()本

3. 水果店昨天買進36個西瓜，賣出19個，今天買進26個，現在水果店的西瓜有幾個？

答：()元

4. 麵包一個27元，咖啡一瓶35元，兩個一起買只要付49元，比原來的價便宜多少元？

答：()元

5. 農場上有35隻雞，雞比鵝多15隻，雞和鵝一共有幾隻？

答：()隻

六、圈出圈出看看：共10分(每題2分)

1. 哪一種顏色的面積比較小？把它圈起來。



(灰色, 白色)的面積比較小。

2. 一個漢堡 59 元，一個麵包 18 元，老師身上有一百元，夠不夠買麵包 2 個和漢堡 1 個？

(夠, 不夠)


3. 現在是 2 時 55 分，分針再走幾小格是 3 時？
(15 小格, 5 小格)

4. 甲, 乙, 丙

哪一個圖案的面積最大？

(甲, 乙, 丙)

5. 哪些東西有平平的面？
把它們圈起來。



七、用乘法算式做看看：共15分(每題3分)

1. 這首詩共有幾個字？

春眠不覺曉，
處處聞啼鳥。
夜來風雨聲，
花落知多少。

答：()個字

2. 池塘裡有 8 隻青蛙，一隻青蛙 4 條腿，請問 8 隻青蛙共有幾條腿？

答：()條腿

3. 蛋糕師傅做水果蛋糕，一個水果蛋糕上放了 7 顆草莓和 6 顆葡萄，請問 5 個水果蛋糕一共有幾顆草莓？

答：()顆

4. 1 把尺和 3 塊橡皮擦接起來一樣長，1 塊橡皮擦長 9 公分，尺長幾公分？

答：()公分

5. 一個盤子裡有 8 個蘋果，6 個盤子裡共有幾個蘋果？

答：()個

☺恭喜你寫完了！
要記得檢查喔！