

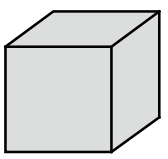
新北市汐止區北港國民小學 106 學年度第二學期期末學業評量試題

科目	數學	年級	二年	班	座號	姓名	成績	家長簽名	
----	----	----	----	---	----	----	----	------	--

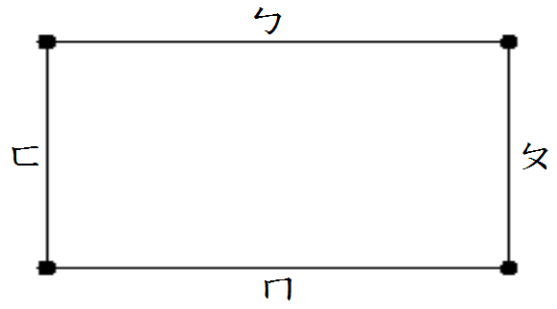
一、選擇題：每題 2 分、共 6 分

- () 1. 爸爸出差 3 星期，也就是幾天？
 ① 15 天 ② 21 天 ③ 30 天
- () 2. 1 個麵包賣 18 元，小瑋買 5 個，小凱買 3 個，小瑋比小凱需多付幾元？
 ① 90 元 ② 54 元 ③ 36 元
- () 3. 小斌把甲、乙兩張不同樣大的色紙疊在一起，
甲疊在乙的上面，結果兩張色紙的四個邊都能看得到，甲、乙兩張色紙，哪一張色紙的面比較大？
 ① 甲色紙 ② 乙色紙
 ③ 無法比較

二、看圖填填看：每格 2 分、共 16 分



1. 上圖是正方體，有 () 個面，() 個一樣長的邊，和 () 個頂點。
2. ㄅ、ㄆ、ㄇ、ㄊ 是長方形的一邊，看圖回答下面問題，並將正確答案填入 () 裡：



- (1) 哪一個邊和 ㄇ 平行？
答：()
- (2) 哪些邊和 ㄆ 垂直？
答：() 和 ()
- (3) ㄅ 和 ㄆ 的關係是平行還是垂直？
答：()
- (4) ㄆ 和 ㄆ 的關係是平行還是垂直？
答：()

三、看圖做做看：每格 2 分、共 25 分

1. 下面圖是小恩 7 月的行事曆，看圖回答問題：

2018 年 7 月 民國 107 年						
星期日	星期一	星期二	星期三	星期四	星期五	星期六
1 暑假開始	2	3	4	5 放風箏	6	7
8 生日	9	10	11	12 放風箏	13 阿姨出國	14
15	16	17	18	19 放風箏	20 阿姨回國	21
22	23	24	25	26 放風箏	27	28

- (1) 小恩 在 () 月 () 日開始放暑假。

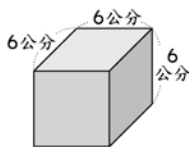
(2) 阿丫姨 () 月 () 日 出 國 ,
 () 月 () 日 回 國 ; 阿丫
 姨 共 出 國 () 天 。

(3) 小 恩 每 個 星 期 () 去 放
 風 箏 。

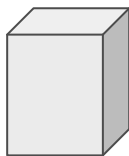
(4) 小 恩 的 生 日 是 () 月
 () 日 。

2. 下 面 有 五 個 形 體 :

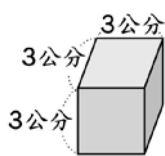
ㄅ.



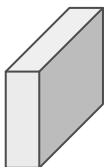
ㄆ.




ㄇ.



ㄏ.



ㄏ.



① 是 正 方 體 的 ()

② 是 長 方 體 的 () (3分)

四、動動腦時間：每格1分、共9分

阿丫仁 和 小 晴 進 行 趣 味 競 賽 , 共 有 四 關 , 獲 勝 者 可 得 到 豐 富 的 獎 品 。

第一關 堆積木比賽

1 個 積 木 高 3 公 分 , 阿丫仁 堆 8
 個 , 小 晴 堆 的 積 木 高 30 公
 分 , 小 晴 堆 的 積 木 比 阿丫仁
 堆 的 高 幾 公 分 ?

答 : 高 () 公 分 , 這 一 關
 獲 勝 的 是 () 。

第二關 套圈比賽

套 進 1 個 圈 得 10 分 , 阿丫仁
 套 進 5 個 , 小 晴 比 阿丫仁 少 套
 進 2 個 , 小 晴 得 幾 分 ?

答 : 得 () 分 , 這 一 關
 獲 勝 的 是 () 。

第三關 跳繩比賽

阿丫仁 跳 繩 跳 了 5 下 , 小 晴 跳
 了 阿丫仁 的 4 倍 多 3 下 , 小 晴
 跳 繩 跳 了 幾 下 ?

答 : () 下 , 這 一 關 獲
 勝 的 是 () 。

第四關 摺紙鶴比賽

6 隻 紙 鶴 綁 成 1 串 , 阿丫仁 摺
 了 3 串 , 小 晴 摺 了 4 串 , 兩
 人 共 摺 了 幾 隻 紙 鶴 ?

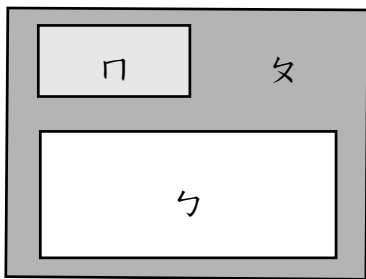
答 : () 隻 , 這 一 關 獲
 勝 的 是 () 。

頒獎

本 次 趣 味 競 賽 中 , 獲 得 較
 多 次 勝 利 的 是 () 。

五、比比看：每格2分、共6分

1. 下 圖 是 分 別 將 三 張 色 紙 疊
 在 一 起 , 將 色 紙 的 面 , 由 大 到
 小 依 序 填 入 () 裡 :



() > () > ()

六、連連看：每答3分、共18分

1. 12顆櫻桃平均分5分放在6個蛋糕上表面，1個蛋糕上表面有幾顆櫻桃？

小岩用乘法算式記成：

$$2 \times 6 = 12$$

算式中各數字各表示什麼意思？

(1) 2 表示

(2) 6 表示

(3) 12 表示

ㄣ. 每個蛋糕上表面有2顆櫻桃

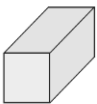
ㄨ. 每個蛋糕上表面有6顆櫻桃

ㄩ. 全部有12顆櫻桃

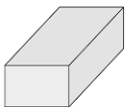
ㄩ. 有6個蛋糕

2. 下面圖的形體可以描出哪一組平面圖？連連看：

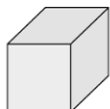
(1)



(2)



(3)



七、應用題：要寫算式每題4分、共20分

1. 小薰原有13元，姐姐再給她7個5元的錢幣，現在小薰共有幾元？

答：() 元

2. 1盒麻糬有8個，雯雯買花生和紅豆口味的麻糬各3盒，雯雯共買了幾個麻糬？

答：() 個

3. 一盒蛋塔有6個，每個賣25元，特價時每個只賣18元，亭亭買一盒可便宜幾元？

答：() 元

4. 電視的保固時間是18個月，也可以說是幾年幾個月？

答：() 年 () 個月

5. 蛋捲的保存期限是25天，也可以說是幾星期又幾天？

答：() 星期又 () 天