

新莊區昌隆國小 106 學年度第二學期第二次成績考查二年級試題
 領域：數學
 二年 班 號姓名：

一、選擇題 (每題 2 分) 10 分

(1) () 哪一種說法較合理？

- ①哥哥的頭髮長約 20 公尺
- ②教室的桌子寬約 60 公分
- ③繞一圈操場約 200 公分

(2) () 下列有哪幾樣東西比 1 公尺長？

大門的高、教室桌子的高、床的長、
書包的寬、籃球架的高

- ①2 樣 ②3 樣 ③4 樣


(3) () 小名有一條長 36 公分的彩帶，下列哪一種分法能平分完所有的彩帶？

- ①每一條 6 公分 ②每一條 8 公分 ③每一條 7 公分

(4) () 用一條繩子圍一個每邊長 10 公尺的正三角形，問需要多長的繩子？

- ①100 公尺 ②40 公尺 ③30 公尺

(5) () 下列哪一個算式不能算出下圖有多少個笑臉？ ① 7×3 ② 7×7 ③ 3×7



二、敘述正確的畫○，錯誤的畫× (每題 2 分) 12 分

- (1) () 正三角形又叫做等邊三角形。
- (2) () 正方體有 12 個頂點，6 個邊，8 個面
- (3) () 所有長方體的 6 個面一定都是長方形
- (4) () 三角形兩條邊所夾的地方叫作頂點。
- (5) () 正方體的每個面都一樣大，且每條邊都一樣長。
- (6) () 長方形的上下左右四條邊都一樣長。

三、填填看 (每格 2 分) 42 分

- (1) 612 公分 = () 公尺 () 公分
- (2) 4 公尺 9 公分 = () 公分

(3) 由長到短，按照順序把下面的長度排列出來。(填代號)

ㄅ：1 公尺 ㄆ：1 公尺 5 公分
 ㄇ：150cm ㄇ：95 公分

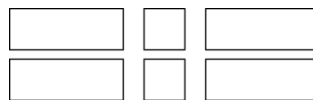
() > () > () > ()

(4) 小明用三條繩子量一間教室走廊的長約是「300 公分+300 公分+300 公分」，請問教室走廊長約是 () 公尺。

(5) 小文有 18 顆糖：

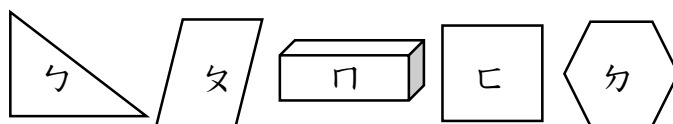
- ①分成 2 盤，每盤有 () 顆。
- ②每一盤分 6 顆，可分成 () 盤。
- ③如果將 18 顆糖分給小文和他的爸爸、媽媽及姐姐，能平分嗎？()
- ④若小文先吃掉 3 顆糖，再將剩下的糖平分給爸爸、媽媽及姐姐，請問一人可分得幾顆糖？ () 顆

(6) 下面的圖形可以組成一個 () 體



(7) 將 5 條長 2 公尺的繩子接起來是 () 公尺，也是 () 公分。

(8) 看圖回答問題



- ①圖ㄅ和圖ㄇ共有多少條邊？() 條
 - ②圖ㄆ和圖ㄆ共有多少個頂點？() 個
 - ③圖ㄅ是 () 形。
 - ④哪幾個圖形有四個角，四個頂點？()。
- (填代號)

(9) 題目：把 42 顆草莓平分給 7 個人，一個人分到幾顆？

算式： $6 \times 7 = 42$

算式中的數字各是代表什麼意思？（填代號）

勺：草莓總數 夕：每個人分到的草莓數量
冂：平分的人數

6 代表（ ），42 代表（ ）

四、應用題（每題 4 分）36 分

(1) 一瓶飲料 9 元，特價期間買 3 瓶可便宜 5 元，媽媽買了 3 瓶飲料，請問要付多少元？

答（ ）

(2) 一枝冰棒 6 元，強強買 5 枝冰棒，美美買 3 枝冰棒，請問兩人共花多少元？

答（ ）

(3) 有 35 條斑馬魚，要平分給 5 個班級，請問每班可分到幾條魚？（請用乘法算式找出答案）

答（ ）

(4) 露營帳篷一頂可睡 4 人，二年甲班有 24 個人，請問需要幾頂帳篷？（請用乘法算式找出答案）

答（ ）

(5) 爺爺的年紀是弟弟的 9 倍少 3 歲，弟弟今年 8 歲，請問爺爺今年幾歲？

答（ ）

(6) 一包色紙有 8 張，大力有 3 包，小明有 7 包，請問大力比小明少幾張色紙？

答（ ）

(7) 小山家到學校的距離是 75 公尺，比小山家到圖書館的距離多 28 公尺，請問小山家到圖書館的距離是多少公尺？

答（ ）

(8) 看圖做做看：



15 元



10 元



7 元



29 元

① 小寶想買 2 瓶膠水和一把剪刀，請問共要付多少錢？

答（ ）

② 買 9 枝自動筆比買 9 本筆記本貴幾元？

答（ ）

寫完記得檢查喔！