

新北市 土城區		安和國民小學		107學年度 第一學期		第二次定期考查試題		100分____人 99-90分____人 89-80分____人 79-70分____人 69-60分____人 60分以下____人	家長 請簽名
科目	數學	年級	二年 班	座號		姓名			

一、選擇題:10分

1、( )宸宸有44元，他想買每瓶8元的養樂多，最多可以買幾瓶？  
(①4瓶②3瓶③5瓶④6瓶)

2、( )被乘數都是5，乘數減少1時，積就會(①增加5②增加1③減少5④減少4)

3、( )把兩瓶一樣的牛奶分別倒入甲、乙兩個杯子裡，哪個杯子裡的牛奶比較多？(①甲②乙③一樣多④無法比較)



甲



乙

4、( )在靜止的狀態下，水平線會是什麼樣子？



5、( )一個10元可以射3個氣球，50元可以射幾個氣球？(①6個②9個③12個④15個)

二、請將正確的答案填入( )中:34分

1、有7個3，再加一個3後，有( )個3，是多少？( )

2、 $9 \times 8$ 比 $9 \times 4$ 多( )個9，是多( )。

3、6的2倍比6的5倍少( )。

4、文具店的筆記本原價每本15元，今日特價每本12元，小寧買了7本，可以省下( )元。

3、下圖共有幾顆九子？



(1)連加的算式為:

( )

(2)乘法的算式為:

( )

(3)根據上圖寫出的算式是( )個5也可以說是( )的( )倍。

6、

49	78	11	22
----	----	----	----

哪兩個數相減，結果最接近40？

( ) ( )

7、① $4 \times ( ) = 32$  ② $( ) \times 6 = 48$

③ $7 \times 9 = ( )$  ④ $9 \times ( ) = 54$

三、連連看，並回答問題:12分

(1)每個人有4顆糖，5個人共有幾顆糖？	(2)校外教學分組，每組有5個人，4組共有幾個人？
----------------------	---------------------------

.

.

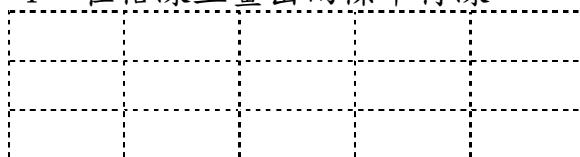
.

.

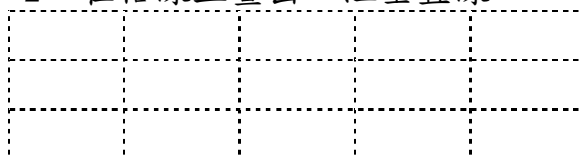
(1) $5+5+5+5=( )$ 算式中的5表示什麼？ ( )	(2) $4+4+4+4+4=( )$ 算式中的4表示什麼？ ( )
--	--

四、用尺畫畫看:4分

1、在格線上畫出兩條平行線

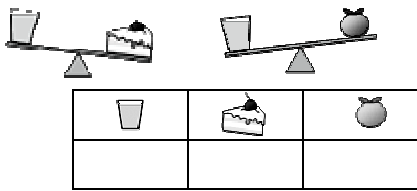


2、在格線上畫出一組垂直線



五、看圖回答問題:6分

1、將下面三種物品，由重排到輕，在( )中填入1、2、3(一格1分)



2、有三杯原本一樣滿的汽水，喝到剩如下圖，請依照喝掉的水量，由多到少，填入1、2、3(一格1分)



六、連連看，把答案最接近的連起來:8分

99-48	•	•	150
28+99	•	•	20
61+88	•	•	50
51-29	•	•	130

七、寫出算法及答案

◆安和國小二年級去小人國校外教學◆

(1) 遊園小火車一節車廂可以坐8個人，一列火車有9節車廂，遊園小火車一趟可以載多少人?(3分)

答:( )人

(2) 動感樂園內最多可容納90個小朋友，二年1班有19位小朋友進入，二年9班有24個小朋友進入，還可以再容納幾個小朋友?(3分)

答:( )個

(3) 小昀有95元，買了三枝冰棒請同學吃，每枝冰棒要9元，小昀還剩下多少元?(3分)

答:( )元

(4) 一包小龍分享包有5個果凍和4枝棒棒糖，李阿姨一買了6包。

①李阿姨共買了幾個果凍?(3分)

答:( )個

②李阿姨共買了幾枝棒棒糖?(3分)

答:( )枝

(5) 一把妮妮公主造型傘要95元，一個環遊世界東口袋比造型傘便宜30元。

①小昕各買一個帶回家作紀念，共要付多少元?(3分)

答:( )元

②小昕給老闆4個50元，可以找回多少元?(3分)

答:( )元

(6) 小葶烤了54片餅乾要跟同學分享，媽媽比小葶多烤了19片餅乾，兩個人一共烤了幾片餅乾?(3分)

答:( )片

(7) 歐洲城堡舞台有55張藍椅子及37張黃椅子，64位觀眾一人坐一張椅子，還剩下幾張椅子沒人坐?(2分)

答:( )張