

科目	數學	年級	年 班	座號	姓名	
----	----	----	-----	----	----	--

一、 照順序填看： 每格 2 分 12%


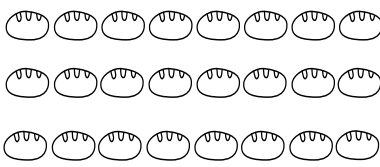
1.

25			28	29	
----	--	--	----	----	--

2.

23		21		19	
----	--	----	--	----	--

二、 先 10 個、10 個圈起來，再寫出有多少個。 每題 4 分 8%

1.  ( ) 個	2.  ( ) 個
---	---



三、 把比較大的數圈起來：  
每格 1 分 4%

1. ( 19, 26 )	2. ( 29, 23 )
3. ( 13, 23 )	4. ( 20, 16 )

四、 算算看： 每格 2 分 12%




1. $8-5=( )$	2. $7+3=( )$
3. $4+3=( )$	4. $9-3=( )$
5. $5+4=( )$	6. $3-0=( )$

五、 填填看： 每格 2 分 4%

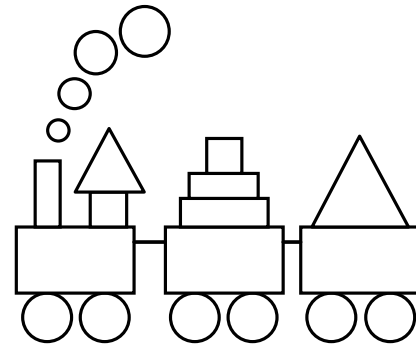
 ( ) 點半	 ( ) 點
---	--

六、 用 1、2、3 表示事情發生的順序

序： 每格 2 分 6%

① 上學  ( )	② 刷牙  ( )	③ 起床  ( )
---	---	---




七、 看圖數數： 每格 2 分 8%



1. 正方形有 ( ) 個。
2. 長方形有 ( ) 個。
3. 三角形有 ( ) 個。
4. 圓形有 ( ) 個。




八、 最長的打✓，最短的打✗：


每格 2 分 6%

	( )
	( )
	( )

九、 最高的打✓，最矮的打✗：



每格 2 分 6%

		
( )	( )	( )

十、畫○做做看看，4隻比8隻




少多多少少？：每題2分5 6%

4隻 	
8隻 	

1. 請寫出算式： $( ) - ( ) = ( )$

2. 4比8少( )

十一、看圖回答問題：每題2分5 8%



1. 品萱排在第13個，她的前面排了( )個小朋友。

2. 彥凱排在第( )個，他前面一個是第( )個。

3. 誰排在第15個？請把他圈起來。

十二、用算式記記看看：每題4分5 20%

1. 妹妹只有6張貼紙，姊姊又送她2張貼紙，妹妹現在有幾張貼紙？

算式： $_____$

答：( )張

2. 冰箱裡有6個布丁，小玉和小丸子各拿了1個，冰箱裡還有幾個布丁？

算式： $_____$

答：( )個

3. 公車上有9位乘客，到站後9位都下車，車上還有幾位乘客？

算式： $_____$

答：( )位

4. 弟弟早上吃了5顆糖果，晚上也吃了5顆糖果，弟弟今天共吃了幾顆糖果？

算式： $_____$

答：( )顆

5. 大雄有2顆巧克力，胖虎有7顆巧克力，胖虎比大雄多幾顆巧克力？

算式： $_____$

答：( )顆

【寫完一定要再仔細檢查喔！】

