

桃園市立文昌國民中學 109 學年度第一學期九年級第二次段考 社會科

教科書版本：翰林 範圍：公民、歷史、地理 ch3-ch4

零、畫卡題：(畫錯扣 5 分，畫對不得分)

文昌國中舉辦考試，採用電腦閱卷，請依序於答案卡上填入年級、班級、座號、姓名及科目，並利用 2B 鉛筆於班級(十位及個位)及座號(十位及個位)欄位正確畫記。

※畫記範例如下圖：804 班 8 號-張君雅-自然科(注意：年級請畫 789；班級及座號 1~9 十位記得畫 0)

電腦閱卷答案卡

年級	8	班級	4	座號	8	姓名	張君雅	科目名稱	自然
----	---	----	---	----	---	----	-----	------	----

年級	①	②	③	④	⑤	⑥	⑦	●	⑨
班級	十	●	①	②	③	④	⑤	⑥	⑦
	個	⑧	⑨	⑩	①	②	●	④	⑤
座號	十	●	①	②	③	④	⑤	⑥	⑦
	個	⑧	⑨	⑩	①	②	③	●	⑤

畫記說明

- 請使用2B鉛筆作答。
- 畫線要粗黑，清晰，不可出格，擦拭要清潔，若劃線過輕或污損不清，不為機器所接受，考生自行負責。
- 答案卡須修改答案，請用橡皮擦，切勿使用立可白或其他修正液。

正確 → ●
錯誤 → ○ ⊖ ⊕ ⊗

壹、每題為單選題，14-15、27-30、42-45 題每題 3 分，其餘每題 2 分，滿分共 100 分。

【公民試題】

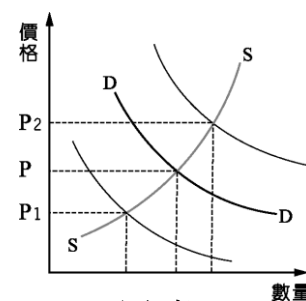
1. 身處國際社會，台灣簽署多項自由貿易協定，與他國進行經濟互動。根據附圖中對話，下列敘述何者正確？



(A)台灣偏向市場經濟制度，生產者必須適時創新與調整以滿足消費者(B)依循比較利益法則，台灣應全面放棄生產農產品(C)為保護國內農業，政府會伸出「看不見的手」(D)我國生產農產品機會成本較低。

2. 國際分工已是世界的趨勢，國與國之間透過產業分工，以專業化方式生產。臺灣先前有許多廠商結束國內廠房，工廠外移到工資較低廉的國家，例如中國、印度、越南。根據上述，下列敘述何者正確？(A)中國、印度、越南在勞動力上具有比較利益(B)臺灣的勞動力具有比較利益(C)各國會選擇自己的絕對利益來專業化生產(D)台灣在資本和技術密集產業上具有絕對利益

3. 附圖(壹)是台灣雞肉的供給曲線 SS 和需求曲線 DD。蔡英文總統宣布美豬美牛進口鬆綁，引發國內熱議，多數國人對萊克多巴胺對人體造成的影響存疑，於是經濟學學者認為，消費者可能轉而購買雞肉替代豬肉、牛肉。根據上述內容判斷，在其他條件不變的情況下，此時雞肉的價格 P 最可能發生何種變化？(A)移往 P₁ 方向 (B)移往 P₂ 方向 (C)維持在 P (D)無法預測



圖(壹)

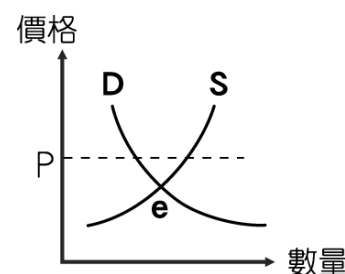
4. 「鬼怪咖啡」所屬的桃園店及台中店，依據市場供需狀況而調整店內咖啡的價格，其中桃園店調漲，而台中店調降。若以「★」代表 100 杯商品數量，則這兩家店於價格調整前的咖啡供需情況，最可能為下列何者？

	需求	供給		需求	供給		需求	供給		需求	供給
(A)	★★	★★★★	(B)	★	★★	(C)	★★	★	(D)	★★★★	★★
	桃園店			桃園店			桃園店			桃園店	
	台中店			台中店			台中店			台中店	

5. 報導指出：在這個國家當中，政府是全國唯一的資本所有者、唯一的土地所有者。基本都是國有經濟，或者是「小國有」（地方國營、集體所有制），個人從事的經濟活動被視為非法，會處以「投機倒把罪」。對於新聞內容提及的該國經濟制度，下列說明何者正確？(A)又稱為「自由經濟制度」(B)政府的作為像是一隻「看得見的手」(C)市場機能主導經濟活動(D)所得分配不均為其缺點。

6. 在台灣，下列何者是由「看不見的手」所推動？(A)全民健保保險費 (B)菸品健康福利捐 (C)國際黃金金價 (D)愛心募款總收入。

7. 右圖(貳)為市場上椪餅的供需圖，小歐店內椪餅的價格為 P，則小歐應該如何做，才能達到市場均衡？(A)將椪餅價格提高 (B) 購入雙倍的椪餅原料(C)增加椪餅的產量(D)舉辦買一送一的活動。



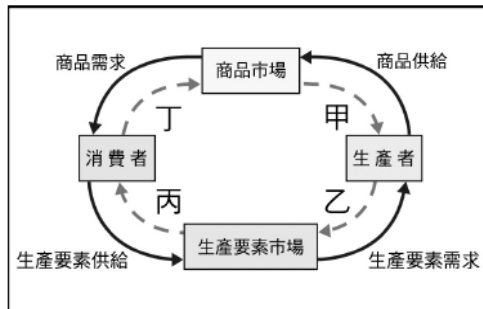
圖(貳)

8. 右圖(貳)中的 e 點的描述，下列何者錯誤？(A)此時椪餅在市場上供給與需求相等(B)此時椪餅的價格，消費者願意買，生產者也願意賣(C)此時稱為市場均衡(D)此時對應的數量為均衡數量

9-10 題為題組題

新聞報導：台積電內部發出公告，表示為留下人才明年將調薪 20%，創公司成立以來最大幅度。對此公司也出面證實，表示「同仁是公司最重要的資產！」未來會繼續善盡企業社會公民的責任，兼顧股東利益下，提供員工優質薪酬。而據《自由時報》報導，從台積電企業社會責任報告書指出，台積電去年全球員工平均年薪約 163 萬元，不含退休金及福利，整體薪酬約有 26 個月本薪。

9. 請問：台積電員工與台積電之間的「僱傭關係」，發生的市場與下列何者相同？(A)水煎包老闆買材料的菜市場(B)爸爸買晚餐的便當店(C)王老闆買汽水喝的便利商店(D)麥克買派對食材的肯德基
10. 請問：在經濟循環圖中，台積電員工薪資提升，是發生在圖中的哪個部分？(A)甲(B)乙(C)丙(D)丁



11-13 題為題組題

11. 附表是近年來文昌國的消費物價指數統計表，該表格反映人民的生活成本，也就是人民購買某物品所需支付的貨幣多寡。根據表中內容判斷，下列何者所言正確？(A)大美：國內人民貧富差距越拉越大(B)海秀：此時文昌國國民會開始存錢(C)宰烈：此時文昌國貨幣貶值(D)一哥：此時文昌國適合進口外國商品。

年度	消費物價指數
2017	100
2018	110
2019	130
2020	165

12. 文昌國國內維持貨幣匯率、控制貨幣數量，維持物價的穩定的單位為中央銀行，面對文昌國現在的狀況，央行可以用何種政策解決國內問題？(A)調降存款利率(B)提高銀行法定準備率(C)徵收土地收歸國有(D)提高關稅
13. 文昌國於 2017 年兌換美元的匯率是 20:1，即 20 元文昌幣可以兌換 1 元美金。請問：2020 年，文昌國的商人們可能會有下列何種做法？(A)趁機會大量銷售國內商品到國外(B)趁機會帶員工到國外旅遊(C)趁機會大量兌換美元(D)趁機會大量進口原物料

14-15 題為題組題

14. 附表列出「珍賀齋」漢餅店內四位員工每小時可製作大餅及鳳梨酥的數量。若以機會成本的觀念來比較每位員工製作大餅或鳳梨酥的數量，在不考慮其他條件的情形下，哪一位員工生產「鳳梨酥」的機會成本最高？(A)秉忠 (B)秉孝 (C)秉仁 (D)秉愛。
15. 承上題，關於「珍賀齋」員工的敘述，下列何者**正確**？(A)做鳳梨酥方面，秉孝具有絕對利益(B)做大餅方面，秉忠具有絕對利益(C)做鳳梨酥方面，秉愛具有比較利益(D)做大餅方面，秉仁具有比較利益

【歷史試題】

16. 右圖為某一個橫跨歐亞非三洲大帝國的疆域圖，請問關於這個帝國的描述，下列何者正確？
- (A) 此帝國歷經王政、共和、帝國三個發展階段，屋大維被封為奧古斯都後正式進入帝國時期，其疆域也在此同時橫跨歐亞非三洲
- (B) 西元 395 年君士坦丁大帝營建東都，正式將帝國分為東西二部
- (C) 羅馬重視實用精神，建造圓形競技場、引水道等許多公共工程
- (D) 屋大維以後減少征戰，締造出羅馬和平時期，與當時中國的唐朝遙相輝映，中國絲路亦可通往羅馬帝國，中國人稱之為大食帝國
17. 商人揚帆東行來到中國東南沿海，多在廣州登陸，或北上揚州。他們運來香貨（乳香、蘇木、龍腦、龍涎香、胡椒、沉香等）、珠寶（象牙、犀角、玳瑁、珍珠、瑪瑙、珊瑚、琥珀等）、藥物（沒藥、丁香、葫蘆巴等）、玻璃製品等數百種商品；運回中國的陶瓷、絲綢、茶葉、麝香等聞名遐邇的特產。請問上述的市場交易可能出現在下列何處？
- (A) 西元六世紀的拜占庭 (B) 西元九世紀的巴格達 (C) 西元十三世紀的威尼斯 (D) 西元十六世紀的墨西哥
18. 歷史分期即試圖將歷史進行劃分，然後得到一個描述性的抽象概念，主要在於揭示歷史過程中不同時期或階段之間的差別。世界通史一般被劃分為上古、中世紀（中古）、近代和現代四個時期。關於世界史歷史分期的定義下列何者正確？
- (A) 西元 476 年東羅馬帝國滅亡，歐洲進入中世紀
- (B) 14-16 世紀文藝復興盛行，代表著中世紀的結束進入近代歐洲
- (C) 凱撒、屋大維、君士坦丁、查士丁尼與查理曼，皆為上古時期的羅馬皇帝
- (D) 近代歐洲由於商業復甦才建立出兩種教堂建築風格：羅馬式與哥德式

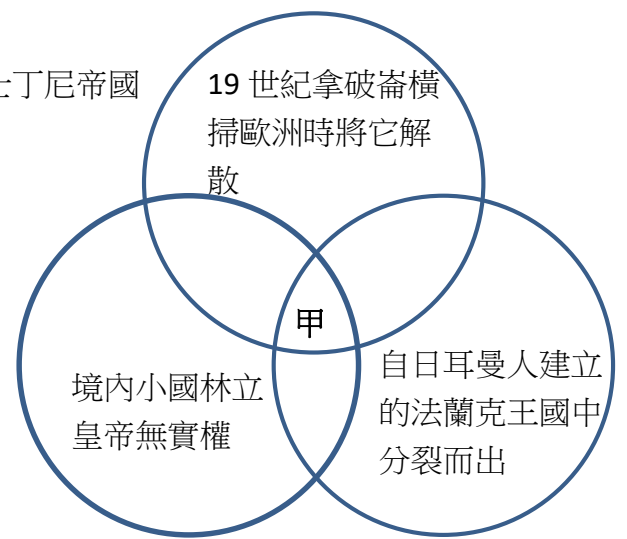


19. 請根據右圖判斷甲應為下列哪一個政權？

- (A) 查理曼帝國 (B) 汪達爾王國 (C) 神聖羅馬帝國 (D) 查士丁尼帝國

20. 歷史上有一時期的農民是主要的勞動力來源，必須負擔力役與實物租稅，其自由受到限制，不能任意遷徙或從事其他行業。耕種時由地主提供農具、種子和牲畜，農民無法自行決定作物的種類，也不得任意在地主的池塘中捕魚或在森林中打獵。它們只要履行義務就可以世代耕作土地，遇困難時領主亦有義務協助他們。請問上文所述應為何時何地的生活情景？

- (A) 西元一世紀的羅馬城 (B) 西元八世紀的巴黎
(C) 西元十一世紀的耶路撒冷 (D) 西元十四世紀的威尼斯



※ 閱讀題 閱讀下列選文，回答 21-24 題

郎世寧是義大利畫家，十九歲在熱那亞加入教會，1714 年被派往海外傳播福音，於康熙 54 年抵達中國，以藝術家的身分被召入宮中，成為宮廷畫家。雍正即位時，傳教士受到禁教令的影響，一一離開中國，他則因擁有超高畫技而未遭驅逐。郎世寧將歐洲油畫的技術引入清朝宮廷，創造了中西合璧的宮廷畫新體，技巧性地融合了東西方文化。他於乾隆 31 年病逝中國，乾隆皇帝諭令加恩賞給「侍郎」銜。

21. 根據此文描述來判斷，郎世寧對於宗教的主張，應與下列何者相同？

- (A) 主張透過閱讀聖經，就可以直接與上帝溝通，不須購買贖罪券即可得救
(B) 國王因為婚姻問題與教宗決裂，主張擁有英國國內的宗教領導權
(C) 主張預選說，信徒透過努力工作來榮耀上帝，深受工商業者歡迎
(D) 絕對效忠羅馬教宗，重視神學教育，由羅耀拉創立嚴格的組織來教育教士

22. 此篇文章呈現出西方傳教士來到中國之後，與中國朝廷的互動。在歷史上西方傳教士在中國與台灣非常活躍，也深深影響著當時社會的變遷，請問關於歷史上的傳教士下列敘述何者正確？

- (甲) 唐代時教義源自基督教的景教傳入中國，從大秦景教流行中國碑中可見景教在唐代流傳情況
(乙) 元末天主教傳教士利瑪竇至中國傳教，與徐光啟合譯幾何原本上半部
(丙) 荷治時期，傳教士至台南新港社宣傳新教並建立新港文翻譯聖經
(丁) 康熙皇帝命傳教士繪製《皇輿全覽圖》是中國第一部畫有經緯線的地圖
(戊) 開港後來台傳教士以基督教路德教派長老教會最為重要，例如馬偕在南部傳教並建立第一間西醫醫館。
(A) 甲乙丙 (B) 乙丙戊 (C) 乙丁戊 (D) 甲丙丁

此政權的幅員遼闊，東達日本海與高麗，北達貝加爾湖，南與南宋對峙，西達東歐、黑海與今伊拉克一帶。由於統治領土相當廣大，境內人口組成也十分複雜，包含漢人、契丹人、女真人、高麗人、西夏人及西域各族群的人民。後來在統治者的領導下，此政權攻滅南宋，成為第一個統一中國的草原民族。

23. 根據文章中政權擴張的敘述，應與下列哪一史實有關？

- (A) 西元十三世紀經過了三次西征行動後，在歐亞大陸建立了四大汗國
(B) 迫使北匈奴向西遷徙，壓迫日耳曼人生存空間，間接導致日耳曼人於西元 476 年消滅西羅馬帝國
(C) 鐵木真因親自帶領三次西征行動，締造橫跨歐亞大帝國，因而被尊稱為成吉思汗
(D) 蒙古西征除了軍事武力的擴張，也將東亞的指南針、印刷術與紙幣等發明傳至歐洲，有助於文藝復興運動的展開

24. 上述政權因幅員廣大，接觸到歐亞大陸上諸多族群，除了透過政權的建立，商業活動亦可增加歐亞間的互動。例如阿拉伯商人透過商業貿易，增添了歐亞間的交流與互動，請問關於中世紀歐亞之間互動的敘述下列何者正確？

- (A) 元世祖時義大利商人馬可波羅東來，受到元朝政府的重用，屬於種族政策中的色目人
(B) 宋代風氣胡漢融合兼容並蓄，伊斯蘭教透過西域回紇人與漢人的互動傳入中國，故在中國稱為回教
(C) 唐代阿拉伯商人自海路到中國貿易，宋元時期延續這樣的貿易模式，因而首度於廣州設置市舶司
(D) 唐玄宗時與大秦帝國爆發怛羅斯之役，唐代戰敗，透過此戰役也意外地將中國造紙術西傳

※ 時事題 閱讀下列選文，回答 25-26 題

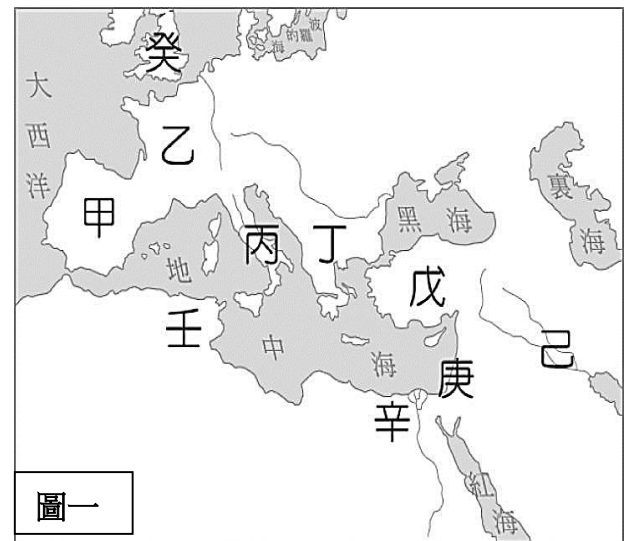
1935 年土耳其國父凱末爾決定西化政策，將聖索菲亞清真寺以博物館的名義對外開放。2020 年 7 月 10 日，土耳其總統宣布將位於伊斯坦堡的聖索菲亞大教堂，從博物館再改回清真寺，供穆斯林祈禱之用。此舉導致土耳其國內意見分歧，國際上亦有譴責的聲音，定位變更也讓原本博物館的世界遺產地位產生疑慮。

遠觀眺望，聳立於伊斯坦堡境內的聖索菲亞大教堂是一棟外型美輪美奐的拜占庭建築，千百年來記載著帝國的更迭與興衰，並在一千五百年歷史長河中交織出蘊含基督教、東正教及伊斯蘭教的文明色彩，因其價值珍貴，1985 年聯合國教科文組織將其列入世界文化遺產。

25. 關於聖索菲亞大教堂的興建與建築風格描述，下列敘述何者正確？
 (A) 教堂為圓頂造型，內部運用有色的大理石鑲成馬賽克畫，尤其是充滿基督教色彩的雕刻與壁畫
 (B) 西元六世紀，查理曼大帝下令修建聖索菲亞大教堂，鞏固其政教合一的領導者地位
 (C) 聖索菲亞大教堂興建完成後，成為東歐羅馬公教信徒的信仰中心
 (D) 1453 年塞爾柱土耳其人攻陷拜占庭，將聖索菲亞大教堂改為清真寺，並於四周建立尖塔
26. 文中提及的三大宗教—基督教、東正教與伊斯蘭教的敘述，下列何者正確？
 (A) 羅馬帝國時期，君士坦丁頒布米蘭詔書，宣布基督教成為羅馬人的國教
 (B) 基督教於西元 1054 年第一次分裂，分裂為羅馬公教與希臘正教
 (C) 基督教會的腐敗，使得喀爾文頒布 95 條論證批評之，導致基督教第二次分裂
 (D) 伊斯蘭教創立於西元前六世紀，穆罕默德宣稱自己為最後的先知，信奉唯一真神阿拉，聖地為麥地那。

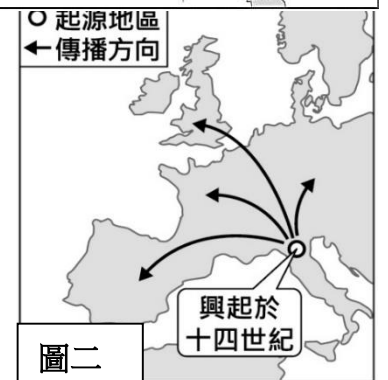
※ 地圖題 請參考地圖上的編號，回答 27-30 題

27. 中古後期，十字軍東征與蒙古西征皆帶來東西文化的交流，請問十字軍東征的終點，應是圖一中何處？
 (A) 戊 (B) 己 (C) 庚 (D) 辛
28. 十字軍東征的展況慘烈，意外讓西歐許多強大的封建貴族勢力瓦解，提升了王權也讓西歐社會產生民族主義思想，有助於西歐王權國家地出現，請問圖一中哪些地區在 14-16 世紀時建立起王權國家？
 (A) 甲乙癸 (B) 乙丙丁 (C) 丙丁戊 (D) 甲丙丁
29. 根據圖二所呈現的內容，應是歐洲史上一場重大的變革，請問針對這一運動地敘述何者正確？



圖一

- (A) 其文學藝術的來源有賴於東歐教士抄寫古籍、查理曼帝國的學者與阿拉伯帝國的智慧館，保存古希臘羅馬文獻
 (B) 這場運動的興盛讓義大利半島北部商業市鎮興起，中世紀末的佛羅倫斯港口可以購買到來自東方的香料、絲綢等，而城市中的市民階級成為推動國家發展的主力
 (C) 歐洲人由神本立場，逐漸走向人文主義，重視人的價值與尊嚴，作品充滿崇尚自然、豐富的情感等特色，放棄了中世紀的迷信主義，也因而結束中世紀進入了近代歐洲。
 (D) 運動的本義是「再生」，意味著古典文化的復興，因此從作品中我們看出當時藝術家像古希臘羅馬文藝致敬，神乎其技的仿作是當時流行的作品。



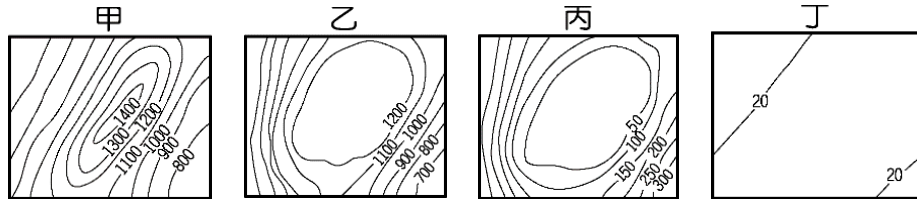
圖二

30. 請問關於圖二時空下的政治學者、藝術家與其作品，下列哪些敘述正確？
 (甲)米開朗基羅重要作品包括西斯汀教堂天籟壁畫、聖彼得大教堂圓頂，以及無數的雕刻。雕刻主要代表作有《大衛像》、《聖殤》和《摩西》等。
 (乙)馬基維利：國家的利益高於一切，我們可以用盡一切手段來維持政治權力與國家的利益，道德與宗教規範都是不切實際的
 (丙)義大利詩人佩脫拉克曾說：「我自己是凡人，我只要求凡人的幸福。」，其作品神曲是方言文學的重要代表
 (丁)《唐吉訶德》作者薄伽丘在序言中申明「這部書只不過是對於騎士文學的一種諷刺」目的在於把騎士文學地盤完全摧毀
 (戊)「To be or not to be, that is the question」這句名言出自文藝復興時期英國著名劇作家莎士比亞的作品《哈姆雷特》的對白，主要訴說的是對於人生的無奈與矛盾。
 (A)乙丙戊 (B)甲乙丙 (C)丙丁戊 (D)甲乙戊

【地理試題】

31. 西元 2004 年後歐盟東擴，愛沙尼亞、拉脫維亞、立陶宛、波蘭、捷克、斯洛伐克、匈牙利、斯洛維尼亞、羅馬尼亞、保加利亞等相繼加入歐盟。請問：從「歐洲整體」的尺度來看，文中國家在歐盟扮演的角色為何？ (A) 跨國投資的資金供應者 (B) 工業主要原料供應地 (C) 工業零組件的生產地 (D) 高消費力的新興市場。
32. 下列關於俄羅斯人文環境的敘述，何者最正確？ (A) 居民以拉丁民族為主，多信奉希臘正教，又稱東正教 (B) 昔日施行共產主義，直到一九九〇年代後才朝向市場經濟發展 (C) 首都莫斯科位於西伯利亞平原中央，為全國放射狀鐵路網的中心 (D) 氣候寒冷，大部份地區人口稀少，只有西伯利亞地區較為稠密。
33. 歐洲有不少國家因擁有豐富的寒帶針葉林，而衍生出許多相關特色產品或傳統產業，試問：下列哪一現象和此事無關？ (A) 厚重的木鞋是荷蘭人的傳統服飾之一 (B) 俄羅斯娃娃是來到俄羅斯旅遊必買的紀念品 (C) 芬蘭傳統造紙、木材業發達 (D) 林業、家具業是瑞典的重要產業。
34. 一段歷史古書上記載：「被流放到西伯利亞的罪犯們，要面對的不只是渺無人煙的空曠土地、稀少的水氣，更是從攝氏 20° 到零下 50° 的嚴峻考驗……。」西伯利亞地區的氣候整體而言又冷又乾，主要原因為何？ (A) 距海遙遠，使東南季風水氣至此已不足 (B) 西風自北極海吹來的水氣受到高原阻擋 (C) 太平洋水氣受到烏拉山、高加索山阻擋 (D) 緯度高、氣溫低、蒸發弱，因而降水少。

35. 韓國 tvN 電視台的綜藝節目，節目主軸是 5 位身為好友至親的韓國男演員一起搭乘全世界最長，同時也是列入旅行者們的「遺願清單」裡的「西伯利亞列車」，穿越西伯利亞體驗受苦旅行真人秀。從太平洋岸的符拉迪渥斯托克(海參崴港)出發，一路搭乘西伯利亞鐵路向東前進，直到莫斯科。請問：他們在沿途所見到的地形種類依次排列是哪些？



(A)甲乙丁丁 (C)甲丁乙丙 (B)乙丙丁甲 (D)丁乙甲丁。

36. 東歐和西亞地區皆因長期紛爭而多戰亂，請問：這兩個地區的紛爭問題，其共同的地理背景最可能是下列哪些？(甲)爭奪水資源 (乙)交通、戰略地位重要 (丙)族群、宗教複雜 (丁)盛產石油 (A)甲丁 (B)甲乙 (C)乙丙 (D)丙丁。
37. 昔日號稱「日不落國」的英國，為工業革命發源地，早期工業區集中在【X】 豐富的本寧山的兩側，而近代於傳統工業漸趨沒落之際，幸於北海發現【Y】，現今運用其收入，轉投資在高科技產業的發展。請問文中【X】、【Y】各應為何種礦產？(A)【X】：鐵礦、【Y】：天然氣 (B)【X】：石油、【Y】：鋁礦 (C)【X】：煤礦、【Y】：石油 (D)【X】：天然氣、【Y】：鐵礦。

38. 中國廣西一帶屬於石灰岩地形，風光綺麗，擁有絕佳的觀光資源。因溶蝕作用形成的洞穴中，有石柱、石筍、鐘乳石等奇岩怪石，附圖為東歐簡圖，上述中所描述的洞穴最可能位於圖(一)中何地？(A)甲 (B)乙 (C)丙 (D)丁。



圖(一)

39. 花輪利用假期到歐洲旅遊時，參觀了當地的特色景點，並將每個國家與景點記錄下來。請問：他所做的配對中，哪項紀錄有誤？(A)丹麥—哥本哈根的小美人魚銅像 (B)波蘭—格但斯克的造船工藝 (C)烏克蘭—布拉格城區塔式建築與廣場 (D)羅馬尼亞—多瑙河三角洲溼地生態。
40. 「藍色多瑙河」是小約翰史特勞斯著名的圓舞曲，悠揚的曲調一直傳頌至今，也讓世人了解多瑙河在歐洲人心目中的地位。請問：下列有關多瑙河的敘述何者最為正確？

- (A)多瑙河的航運價值遠不如萊茵河重要，其主要原因為流經國家較少。
 (B)為提升多瑙河航運價值，歐洲人將多瑙河上游修運河連接塞納河入北海。
 (C)若自奧地利維也納沿多瑙河順流而下，可以見到匈牙利布達佩斯的鏈橋。
 (D)多瑙河主流大致由東向西流，其沿岸的沖積平原是東歐農業精華區。

41. 下表為歐洲三個城市的位置與氣候資料，請問下列敘述何者正確？

- (A)受海洋的調節，近海城市年溫差較大 (B)受北大西洋暖流影響，基輔夏溫較高
 (C)受緯度位置影響，布魯塞爾冬溫較高 (D)受西風吹拂影響，越內陸年雨量越少

城市名稱	布魯塞爾	布拉格	基輔
位置	(4°E, 50°N)	(14°E, 50°N)	(30°E, 50°N)
七月月均溫(°C)	17.2	17.1	19.3
一月月均溫(°C)	2.5	-2.0	-5.6
年雨量(MM)	821	696	610

42. 歐洲各國地形和土地利用深受冰河作用所影響。請問：下列何者與冰河作用「無關」？(A)瑞士的寬廣谷地是重要運輸通道 (B)瑞典首都的峽灣地形，為天然良港 (C)芬蘭有「千湖國」之稱，有利觀光 (D)荷蘭有「低地國」之稱，多圩田。
43. 俄羅斯西伯利亞地區三大河川分別為：鄂畢河、葉尼塞河、勒那河。此三大河的長度、流量都很大，但航運價值卻不大，以下原因中哪些正確：(甲)流量差異大 (乙)氣候寒冷 (丙)流向不佳 (丁)容易淤積 (戊)沿途人口少 (己)均為內流河。(A)甲乙丙 (B)丁戊己 (C)甲丁己 (D)乙丙戊。
44. 順口溜往往可反映一個區域的地理特色，並令人會心一笑，請問下文中的○○是指哪個國家？「到了○○，才知道太陽，也會賴床睡懶覺。到了瑞士，才知道開個帳戶，沒百萬美金會被人恥笑。到了奧地利，才知道連個乞丐，都能彈上一曲小調。」(A)丹麥 (B)波蘭 (C)挪威 (D)英國
45. 歐洲工業發達，其中瑞士的鐘錶、德國的汽車、冰島的煉鋁工業皆非常發達，請問以上三個國家發展工業的區位條件分別為何？

- (A)瑞士—技術；德國—原料；冰島—動力 (B)瑞士—原料；德國—勞工；冰島—交通
 (C)瑞士—市場；德國—交通；冰島—原料 (D)瑞士—技術；德國—市場；冰島—原料。

桃園市立文昌國民中學 109 學年度第一學期九年級第二次段考 社會科解答

1.A 2.A 3.B 4.D 5.B 6.C 7.D 8.A 9.A 10.C 11.C 12.B 13.A 14.C 15.D
16.C 17.B 18.B 19.C 20.B 21.D 22.D 23.A 24.A 25.A 26.B 27.C 28.A 29.C 30.D
31.C 32.B 33.A 34.A 35.A 36.C 37.C 38.B 39.C 40.C 41.B 42.D 43.D 44.C 45.A

桃園市立文昌國民中學 109 學年度第一學期九年級第二次段考 社會科解答

1.A 2.A 3.B 4.D 5.B 6.C 7.D 8.A 9.A 10.C 11.C 12.B 13.A 14.C 15.D
16.C 17.B 18.B 19.C 20.B 21.D 22.D 23.A 24.A 25.A 26.B 27.C 28.A 29.C 30.D
31.C 32.B 33.A 34.A 35.A 36.C 37.C 38.B 39.C 40.C 41.B 42.D 43.D 44.C 45.A