

桃園市立文昌國民中學 112 學年度第 1 學期 9 年級社會科第 1 次段考考卷

考試範圍：公民第 1-2 單元、歷史第 1-2 單元、地理第 1-2-1 單元 班級： 座號： 姓名：

畫卡題：(畫錯扣 5 分，畫對不得分)

文昌國中舉辦考試，採用電腦閱卷，請依序於答案卡上填入年級、班級、座號、姓名及科目，並利用 2B 鉛筆於年級、班級(十位及個位)及座號(十位及個位)欄位正確畫記。

※畫記範例如下圖：804 班 8 號-張君雅-自然科(注意：請依年級畫 7 或 8 或 9；班級及座號 1~9 者十位記得畫 0)

選擇題：1-13、16-26、31-41 題每題 2 分，14-15、27-30、42-45 題每題 3 分。

電腦閱卷答案卡

年級	8	班級	4	座號	8	姓名	張君雅	科目	自然
----	---	----	---	----	---	----	-----	----	----

年級	①	②	③	④	⑤	⑥	⑦	●	⑨		
班級	十	●	①	②	③	④	⑤	⑥	⑦	⑧	⑨
座號	十	●	①	②	③	④	⑤	⑥	⑦	⑧	⑨
	個	①	②	③	④	⑤	⑥	⑦	⑧	⑨	●

畫記說明

- 請使用 2B 鉛筆作答。
- 畫線要粗黑，清晰，不可出格，擦拭要清潔，若劃線過輕或污損不清，不為機器所接受，考生自行負責。
- 答案卡須修改答案，請用橡皮擦，切勿使用立可白或其他修正液。

正確 → ●
錯誤 → ⊗ ⊙ ⊖ ⊕

1. 圖一文昌國中晨讀計畫推廣的一本書籍：《國家地理希臘神話故事》，書中的眾神包括天神宙斯、太陽神阿波羅、智慧女神雅典娜、戰神阿瑞斯等。請問關於希臘古典文化的敘述何者正確？

- (A) 相信冥界之神將審判死者的靈魂，並宣判死者是否重生，通過審判即可復活
- (B) 古希臘人在建築藝術上重視均衡、實用，例如公共澡堂和佛塔
- (C) 希臘神話中強調因果報應和靈魂輪迴，人們對眾神皆有神聖不可侵犯之感
- (D) 古希臘人信仰多神，每四年在奧林匹亞舉行一次敬神祭典

2. 西亞古文明中，有一民族所信奉的宗教戒律中寫著：「除我之外不可信別的神」、「不可崇拜偶像」這個民族應是下列何者？

- (A) 腓尼基人 (B) 蘇美人 (C) 希伯來人 (D) 巴比倫人

3. 「他們以軍國主義著稱，一生幾乎與軍事離不開關係，因此武力強大，甚至認為如果士兵一旦沉迷於讀書，勢必會產生諸多疑問，而費心思考的結果將不利於軍事化的管理，他們認為勇猛、服從、愛國才是美德。他們要求絕對服從、重視體格訓練，忽略知識文化學習的教育」請問他們應是下列哪一民族？

- (A) 雅典 (B) 斯巴達 (C) 波斯 (D) 腓尼基


4. 下列三位哲學家，擅於探討人生意義與倫理道德，如果想要對於三人的生平及言論有更深入的了解，可以在哪本歷史書籍中，找到他們的相關資料？

- 蘇格拉底：「知道的愈多，才知知道的愈少。」
- 柏拉圖：「聰明人說話，是因為有些話要說；蠢人說話，則因為要說些話。」
- 亞里斯多德：「吾愛吾師，吾更愛真理。」

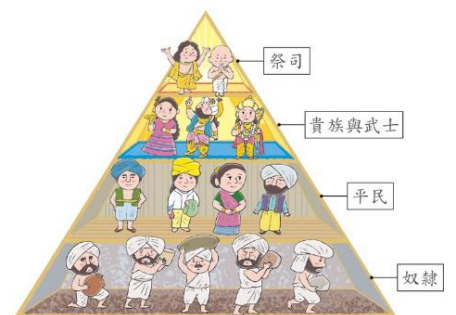
- (A) 《埃及人的故事》 (B) 《如歌歲月：閱讀古希臘文明》 (C) 《亞歷山大帝國》 (D) 《大漠風流：波斯文明探幽》

5. 有一門歷史悠久的宗教，曾這樣描寫人類的起源：「神創造宇宙時，以原人的口，創造了婆羅門。他的臂，創造了刹帝利。他的腿，創造了吠舍。他的腳創造了首陀羅。階級不能變動，正如同手腳不能倒置。」(如圖二)，請問關於這個宗教制度的相關敘述何者正確？

- (A) 婆羅門教是由來自北方的波斯人所創建
- (B) 婆羅門教相信藉由修行可以脫離生死輪迴
- (C) 依據婆羅門教的教義發展出階級森嚴的種姓制度
- (D) 種姓制度的身分職業世襲，不同階級間可通婚



【圖一】



【圖二】

※ 題組題 請閱讀短文後回答 6-7 題

圖坦卡門是古埃及新王國時期第十八王朝的一位法老，九歲登基，十九歲便駕崩。圖坦卡門為現代人熟知是因為他位於國王谷的墳墓在三千年的時間內從未被盜，直到 1922 年才由英國人霍華德·卡特發現，挖掘出近五千件珍貴陪葬品，震驚了西方世界。由於有幾個最早進入墳墓的人早死，被媒體大肆渲染成「法老的詛咒」，圖坦卡門的名字在西方更為家喻戶曉。對於這種「詛咒」，有一解釋是陵墓長期密封，滋生了不少細菌，致使最初進入的人員因此患病。

根據近期研究，圖坦卡門死時年僅 19 歲，由於圖坦卡門突然逝世，未能有充足時間建立金字塔，年輕法老王最後的安息地點就位於埃及的帝王谷裡。墓室極為隱秘，多年未受到盜賊的侵襲，因此 1922 年考古學家發現時，法老王的木乃伊以及陪葬品皆保存的十分完整。

6. 上文關於木乃伊與金字塔的描述，我們可推估埃及在哪一些學術上有高度的成就？

甲. 建築學 乙. 解剖學 丙. 哲學 丁. 史詩 戊. 幾何學

(A) 甲乙丙 (B) 丙丁戊 (C) 乙丙丁 (D) 甲乙戊

7. 從圖坦卡門的陪葬品可見埃及人相信人死後得以復生，請問下列那些宗教與埃及文明一樣皆為多神信仰？

甲. 佛教 乙. 猶太教 丙. 婆羅門教 丁. 伊斯蘭教 戊. 印度教

(A) 甲乙丙 (B) 丙丁戊 (C) 乙丙丁 (D) 甲丙戊

※ 題組題 請閱讀短文後回答 8-11 題

資料一：距今六千多年前，此地區的人們觀察到，大約每隔 365 天，天狼星在拂曉的時候，和太陽同時位於東方的地平線上。因此他們定 365 天為一年，每年分為 12 個月，每月 30 天，年末加上 5 天。這種遵循太陽週期的曆法，依自然現象將一年分為『阿赫特』、『佩雷特』、『夏矛』三個季節，有別於同時期兩河流域的月亮週期曆法。



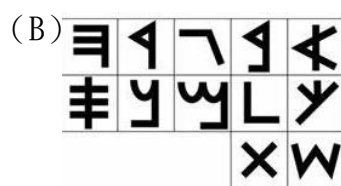
資料二：在文字被創造之前，當地的神話通過口耳相傳的形式傳播。目前發現的最早傳說是吉爾伽美什史詩，該作品就是記錄於泥石板上的，文字最早只是用於保存文件，直到王朝末期宗教文本才大規模出現，主要是神殿、頌歌和符咒。承載文字的原材料除了粘土，還有石頭，而書寫工具往往是小蘆葦杆。

資料三：摩亨佐達羅，亦有「死亡之丘」之稱，是印度河流域文明的重要城市。摩亨約達羅是人類文明發展史上主要的早期古代城市，相當於古印度河流域文明的大都會。學者多認為它是在 00 人入侵之前由古印度的達羅毗荼人所締造的都市文明。

8. 請問根據資料一所提供的素材判斷，他有可能是下列哪一個文明的特色？

(A) 北非的埃及古文明 (B) 兩河流域的巴比倫帝國 (C) 伊朗高原上的波斯帝國 (D) 愛琴海文明

9. 資料二所描述的應該是下列哪一種古老文字？



10. 根據資料三的內容中所說入侵印度古文明的侵略者是下列哪一支族群？

(A) 巴比倫人 (B) 阿利安人 (C) 希臘城邦 (D) 波斯人

11. 請將上述三則資料所代表的古文明，由西向東排列，請問下列何者排序正確？

(A) 資料一→資料二→資料三 (B) 資料三→資料一→資料二
(C) 資料二→資料一→資料三 (D) 資料三→資料二→資料一

※ 題組題 請閱讀短文後回答 12-13 題

雅典以雅典娜女神命名，傳說雅典娜女神和海神波塞頓爭奪此處，兩位分別提供能給於此地居民的東西，讓當地居民決定比較屬意哪個誰就獲勝，波賽頓用三叉戟敲岩石，岩石裡面跑出一匹戰馬，有戰爭的意思；而雅典娜用長矛擊向岩石，石頭上長出一株橄欖樹，象徵和平與豐收，於是人們選擇了雅典娜，並以她的名字為雅典命名。

原文網址：[雅典必去景點 走進夢幻希臘神話世界](#)

12. 關於雅典城邦的敘述下列何者正確？

- (A) 以民主政治聞名，不分性別成年公民均可以參與政治活動
- (B) 以民選的方式選出官員，民主精神被後世仿效，成為西方民主制度的源頭
- (C) 領導希臘諸城邦參與波希戰爭後，在希臘城邦內戰中戰勝馬其頓，成為全希臘的學校
- (D) 雅典城中的帕德嫩神廟為希臘建築藝術的代表，講求均衡與對稱

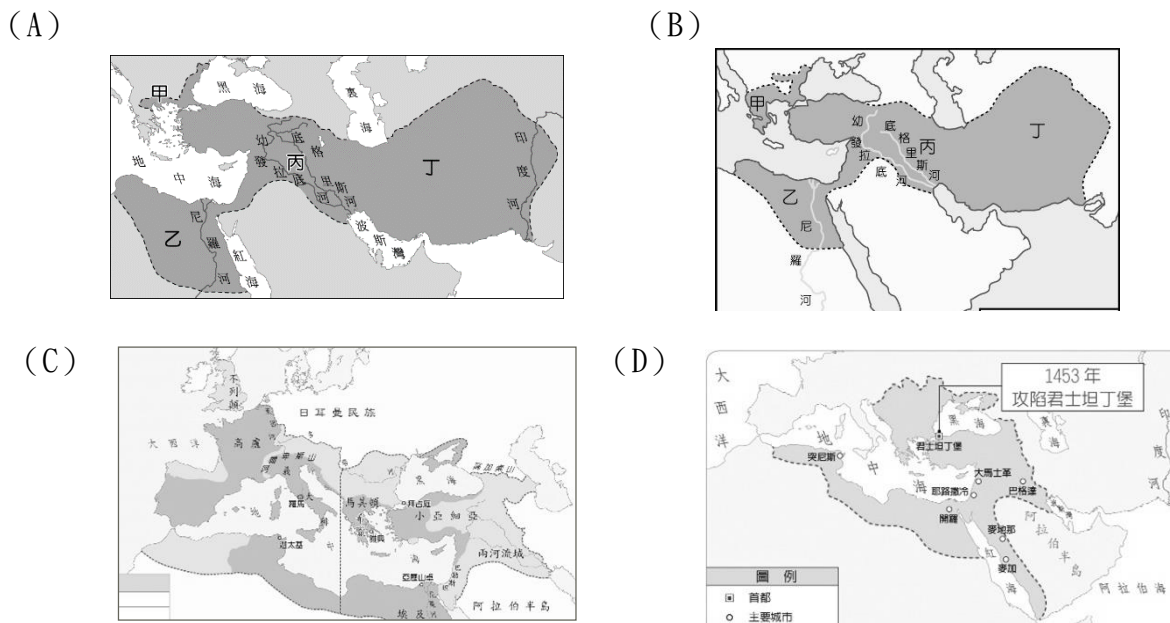
13. 請問下列哪一個古文明出土的遺址，其功能與宗教信仰無關？

- (A) 印度東北的摩訶菩提寺
- (B) 雅典城中的帕德嫩神廟
- (C) 古印度城市摩亨佐達羅
- (D) 埃及金字塔與木乃伊

14. 朱昱老師上課時描述一位君王：「在二十歲時從他的父王腓力二世手上繼承馬其頓王位，他的統治期間幾乎都在進行大型軍事征服活動。直到他三十歲時他已經建立了疆域最大的帝國之一，他在戰場上從未被擊敗，且被認為是歷史上最偉大的將軍之一。」，請問關於這個帝國的相關敘述何者正確？

- (A) 這位君王在位期間嚴禁各民族通婚，讓各地保有自己的文化
- (B) 這個帝國的疆域最遠達到印度河東岸
- (C) 著名的荷馬史詩「伊里亞德」結合神話紀錄了這場知名的戰役
- (D) 此帝國最後被後來崛起的波斯帝國所滅

15. 承上題，請問下列哪一張地圖最有可能是該帝國的疆域圖？



16. 南歐居民自古便擅長海上活動，西班牙與葡萄牙都曾是海權時代的強國。請問：南歐發展航運最有利的條件為何？

- (A) 港口冬天不結冰
- (B) 常年有西風吹拂
- (C) 海岸曲折多灣澳
- (D) 人民性格冒險犯難

17. 北歐國家經濟發展的關鍵往往來自環境資源，下表為北歐部分國家的經濟發展資料，下表中打●者為各國主要的產業或資源。請問：何者最可能為挪威的資料？ (A)甲 (B)乙 (C)丙 (D)丁。

項目	農牧業	漁業	林業	航運	石油	水資源	鐵礦	地熱
(甲)		●		●	●			
(乙)			●				●	
(丙)	●			●				
(丁)		●						●

18. 下表為歐洲兩條重要河川，萊因河與多瑙河的比較，何者錯誤？

	(A)經濟價值	(B)航運價值	(C)氣候環境	(D)注入海洋
萊因河	流經工業區	歐洲第一	溫帶大陸性氣候	北海
多瑙河	流經農業區	因運河串連而提升	溫帶海洋性氣候	黑海

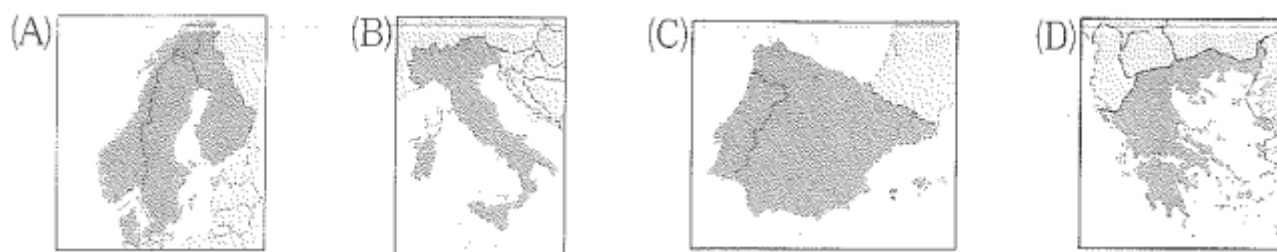
19. 全球知名的西班牙番茄節，每年都在「布尼奧爾鎮」熱鬧開戰，近兩萬人拿著大會提供的 130 噸番茄瘋狂互砸。今日西班牙所種植的番茄等蔬菜水果，不但大量銷往歐洲各地，其蔬果的出口總值也榮登西班牙主要外銷產品之一。請問：相較於歐洲其他區域。西班牙等南歐各國的農業發展優勢為何？

- (A) 地形平坦
- (B) 暖流流經
- (C) 夏乾冬雨
- (D) 緯度較低。

20. 歐洲三面環海且海岸曲折，海洋深入內陸，具「海中有海，灣中有灣」特色，下列哪種優點與此項因素有密切關係？

- (A) 平原廣闊，利於農業發展
- (B) 氣候溫和溼潤，適合人類居住
- (C) 地形平坦，海陸交通便利
- (D) 利於民族融合，形成相似文化

21. 台灣也曾經有冰河地形，知名高山湖泊「雪山翠池」其實就是個冰蝕湖，雪山與南湖山區也可見到U型谷，這都證明台灣的高山地區曾經被冰河侵蝕過。但台灣沒有冰河地形中的峽灣景灣，若想實地考察此海岸地形，應前往歐洲哪一個半島？



22. 文昌國中上地理課時，老師分別針對歐洲聯盟的運作及影響力進行分析說明，請問：下列哪一說明出現錯誤？

- (A) 所有歐盟國家皆使用歐元，目的是可以避免貨幣交易損失匯差
- (B) 歐盟國進出口貨物，彼此可免除關稅，降低成本
- (C) 許多工業產品的規格統一，方便產品行銷歐洲各國
- (D) 會員國的合作，已由經濟擴展到外交、司法層面

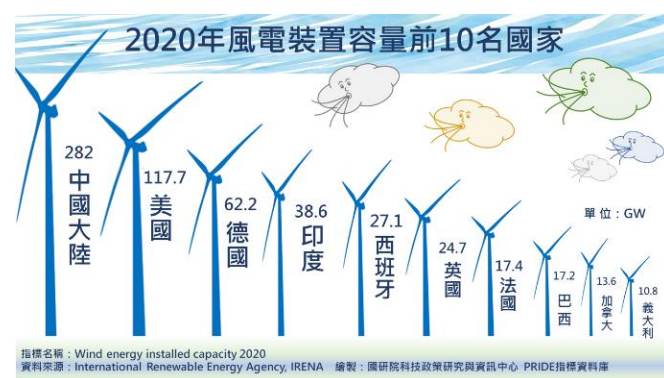
23. 捷克為台灣在歐洲的第四大投資國，投資規模僅次於德國、荷蘭與英國，國內代工大廠鴻海集團自2000年起即開始在捷克投資設立據點，並選定為歐洲集團總部所在地，下列何者為此國的優勢條件？

- (A) 濱臨北海，交通運輸方便
- (B) 石油豐富，具工業區位優勢
- (C) 勞工成本低於多數歐盟成員國
- (D) 高科技人才眾多且精通英語

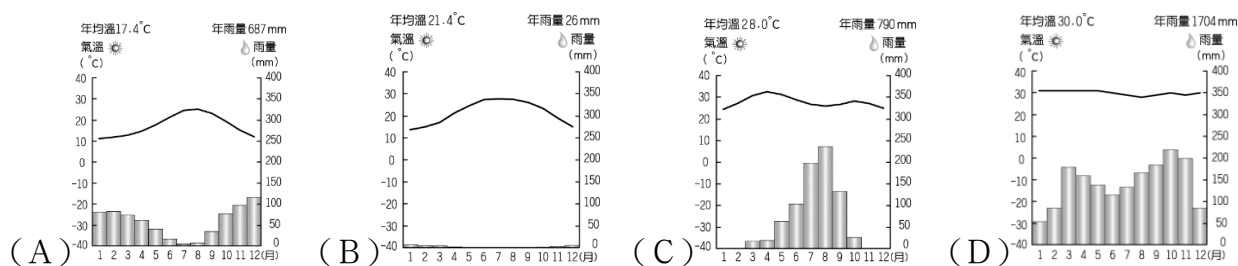
24. 風力發電起源自歐洲，目前為全球廣泛使用的綠能發電方式，【圖1】為統計全球風力發電瓦數前十名的國家，其中位於歐洲的國家，有何共同環境特色？

- (A) 皆位於歐洲西半部
- (B) 皆直接瀕臨大西洋
- (C) 皆以平原地形為主
- (D) 皆屬於溫帶海洋性氣候

【圖1】



25. 2022年七月開始，歐洲多國森林大火頻傳，已經延燒希臘、土耳其、西班牙、葡萄牙及法國南部。另外，隨全球暖化趨勢估計，此情形發生機率未來將增加64%~77%，這些容易發生森林大火的地區，主要為下列哪一種氣候？



26. 世界各國的人口成長率如下表所示，請從下表中資料加以判斷，造成歐洲國家死亡率較高的主要原因為何？

- (A) 國民自殺比率高
- (B) 老年人口比例高
- (C) 冬季寒冷易猝死
- (D) 新生兒人口數少。

(單位：‰)

國家	出生率	死亡率	自然增加率	社會增加率
德國	8.5	11.6	-3.1	1.5
義大利	8.7	10.3	-1.6	3.9
瑞典	12.0	9.4	2.6	5.4
英國	12.1	9.4	2.7	2.5
美國	12.5	8.2	4.3	3.9
印度	19.3	7.3	12.0	0
臺灣	8.4	7.3	1.1	0.9

27. 歐盟跨區合作概念是根據問題性質界定區域範圍與組織合作團隊，藉由國際或區域間資料、人員的整合以達成目標。下列哪些例子能充分反映此區域合作計畫概念？(A) 甲乙丙 (B) 乙丁戊 (C) 丙丁戊 (D) 甲丙丁。

- (甲) 義大利威尼斯城水患防治計畫
- (乙) 萊茵河流域水質整治計畫
- (丙) 倫敦工業區再造計畫
- (丁) 地中海環境汙染行動計畫
- (戊) 阿爾卑斯山區生態資源整合計畫。

28. 文昌貿易公司跟【圖 2】的西歐國家訂購訂購貨品，但其中有一張訂單出了差錯，請問是下列哪一選項呢？

- (A) 丙國：相機鏡頭 5000 個 (B) 丁國：鬱金香 10 萬朵
(C) 己國：葡萄酒 2000 箱 (D) 庚國：橄欖油 300 箱



【圖 2】

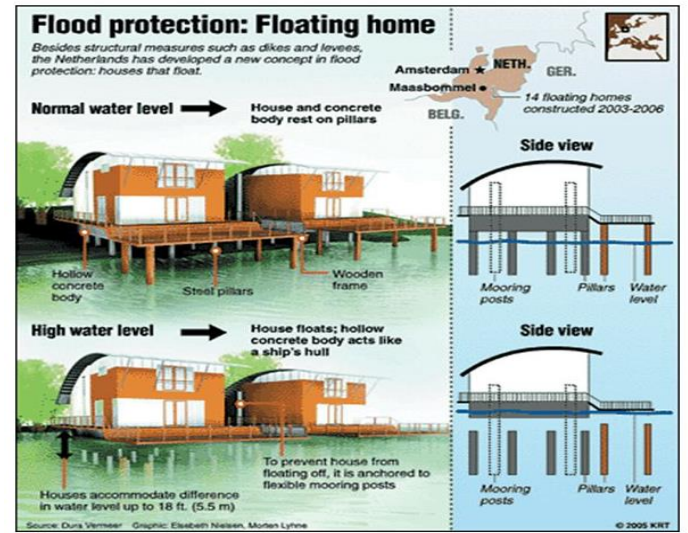
題組，請回答 29-30 題

※下文是有關水上漂浮屋的報導，請依題意選出正確的答案：

過去荷蘭政府因為過剩的人口填海造陸，因為需要不斷的抽取海水，耗費了許多能源以及排放大量溫室氣體，對環境造成不小衝擊，引起環衛人士的反彈，也因此逐漸有建築師開始研究水上住宅的可能性，發展至今荷蘭已經有數十個水上漂浮社區。

漂浮住宅的室內使用空間分為兩層，一層面積約 20 至 30 坪不等，下層通常設置一至兩個臥室，上層則為客廳、餐廳以及頂樓。就荷蘭大部分的浮動住宅而言，下層會有三分之二位於水面下，暴露於水面上的另外三分之一用來設置窗戶，利用私有船往返陸地與住家之間。

從永續發展的觀點而言，荷蘭在漂浮建築的技術是相當好的教科書，而這股風潮也帶動像是美國西雅圖、泰國曼谷等地效法荷蘭發展水上建築，因此相信在未来幾十年會有更多國家導入這項技術，在不破壞生態環境的前提下去規劃新的住宅區。



29. 荷蘭之所以著手設計漂浮屋，是為了因應下列哪一項變遷？

- (A) 人口增加 (B) 用水短缺 (C) 海洋汙染 (D) 冰山消融。

30. 根據漂浮屋的建造方式，若不考慮其他因素影響之下，下列哪一個國家也適合運用漂浮屋的設計，以因應將來可能面臨的洪水災害？ (A) 馬爾地夫 (B) 南非 (C) 奧地利 (D) 希臘

31. 下列何者所說的話，含有「機會成本」的概念？(A) 大雄：打不倒你的，都將使你更強 (B) 胖虎：世界越快，心則慢 (C) 小夫：不要為了一棵樹，放棄一座森林 (D) 靜香：不要一直偷看我洗澡。

32. 胖虎開了一家親子遊樂中心，裡面有夾娃娃機 10 台，投籃機 10 台，電子遊樂器 6 台，旋轉木馬一台(3 人座)。當某天小丸子一家四口到這玩的時候，發現遊樂中心都沒有其他遊客，但哪項設施還是可能會出現「稀少性」的問題？(A) 夾娃娃機 (B) 投籃機 (C) 電子遊樂器 (D) 旋轉木馬

33. 仲伯迷上一款神奇寶貝遊戲，遊戲中，突然同時出現三隻神奇寶貝，但他只剩下一個道具，只能選擇一隻抓取(如圖壹)。在不考慮其他因素的情形下，他決定單以「攻擊技巧」做為衡量標準，欲抓取「攻擊技巧」較高的神奇寶貝。根據附圖，下列敘述何者正確？(A) 毛蟲怪應是仲伯的最佳選擇 (B) 金魚怪應是仲伯的最佳選擇 (C) 選擇大角怪的機會成本最低 (D) 選擇大角怪和選擇金魚怪的機會成本相同。

圖壹

	大角怪 能力值：★ 攻擊技巧：★★★★
	毛蟲怪 能力值：★★ 攻擊技巧：★
	金魚怪 能力值：★★★★ 攻擊技巧：★★

34. 嘉宇在逛全國法規資料庫時，發現了這條法律(見圖貳)。其中的場所包括車站、百貨公司、醫院、遊樂場等，都看的到婦幼車位。請問該法條所設立的原則，下列何者敘述正確？(A) 冠辰：追求最大利潤 (B) 冠庭：多數消費者的需求 (C) 里長伯：多數生產者的要求 (D) 潤發：追求公平正義

兒童及少年福利與權益保障法第 33-1 條：下列場所附設之公共停車場，應保留百分之二之汽車停車位，作為孕婦、育有六歲以下兒童者之停車位；汽車停車位未滿五十個之公共停車場，至少應保留一個孕婦、育有六歲以下兒童者之停車位。

圖貳

35-45 題為題組題

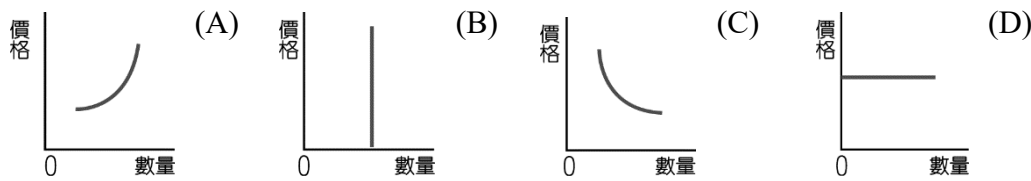
35. 流星槌開了一家文昌大雞排，相關資料如表壹。若在其他條件不變的情況下，每天文昌大雞排商品皆銷售一空，經過考量後可以增加一項商品的銷售數量，根據「供給法則」，應該增加何項商品的銷售數量，獲利方可極大化？

- (A) 炸雞排 (B) 薯條 (C) 甜不辣 (D) 花枝丸

商品	炸雞排	薯條	甜不辣	花枝丸
售價(元/份)	90	30	20	30
成本(元/份)	50	10	10	10
每日銷售量(份)	100	150	180	100

表壹

36. 承上題，下列哪個圖可以表示流星槌對於生產商品的心理？

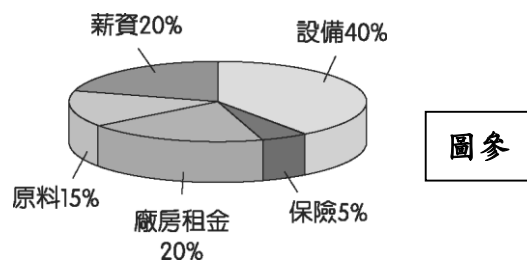


37. 流星槌決定使用「集點卡」來增加該項商品的銷售數量，該集點卡使用方法如下：來店消費任一商品(除炸雞排外)一份即累積一點，兩份則累積兩點，以此類推；而購買「炸雞排」則一份給予兩點，兩份給予四點，以此類推，集點卡累積 20 點則可獲得老闆「好感度+100。」請問，該集點卡對於討厭流星槌的人們來說，屬於何種誘因？(A) 正向金錢誘因 (B) 正向非金錢誘因 (C) 負向金錢誘因 (D) 負向非金錢誘因。

38. 文昌大雞排攤位中，花枝丸和炸雞排每日銷售量差不多，足以反映影響消費者選擇商品的因素，除了價格外，還有下列哪一項？(A) 收入 (B) 偏好 (C) 預期心理 (D) 天氣

39. 「文昌大雞排」每日的銷貨收入約有多少錢？(A) 9300 元 (B) 20100 元 (C) 10800 元 (D) 8000 元

40. 圖參是文昌大雞排各項生產成本的比例圓餅圖。請問：在圖中可以看出，流星槌付出的成本，以何項為最高？(A) 薪資 (B) 利潤 (C) 地租 (D) 利息。



41. 國內發生禽流感時，流星槌打算將炸雞排的「價格下修」，他的目的應該是為了下列何者？(A) 降低生產成本 (B) 增加利息 (C) 維持利潤 (D) 防止疫情擴散

42. 流星槌調整價格的方法，主要是希望利用何種原理達成目的？(A) 需求法則 (B) 供給法則 (C) 稀少性 (D) 公平原則

43. 某日，庭宜向 Emily 抱怨道：「文昌大雞排真的賣得太好，萬人空巷，多人搶購，但偏偏只有現場購買跟線上預約登記兩種方式，那一排隊要至少一個小時耶!!預約登記也至少半個小時...好想吃雞排喔...。」請問，若庭宜的個性是個節儉、也不喜歡麻煩別人的人，學校放學後也不用補習的情況下，Emily 建議的何種方法，對庭宜來說效益最高？(A) 放學立刻衝去排隊 (B) 線上登記預約雞排 (C) 叫松諭放學去幫她買 (D) 以更高價格向已經買到的人購買雞排

44. 一日，文昌大雞排因為熱銷在網路上漸漸炒起熱度，記者們也紛紛來採訪流星槌，以下是他們的對話：

記者 A 提問：「請問，文昌大雞排每日銷售量如此驚人，到底有什麼成功的秘訣？」

流星槌：「秘訣？我沒有什麼秘訣，我只是每天都在想如何讓學生們吃得更滿意，看到他們滿足的笑容我就會感到很高興。」

由上述對話可以推知，流星槌在思考的是生產者的哪個課題？(A) What (B) How (C) Who (D) 看來他沒有在思考

45. 承上題，推動流星槌持續經營文昌大雞排的誘因，屬於何種誘因？(A) 正向金錢誘因 (B) 正向非金錢誘因 (C) 負向金錢誘因 (D) 負向非金錢誘因。

試題結束