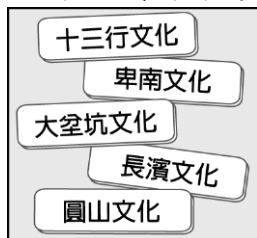


一、單一選擇題 (1-20 題一題 3 分，21-30 題一題 4 分)

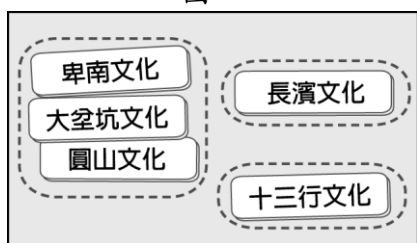
1. ( ) 1626 年，西班牙人占領臺灣作為赴日貿易的據點，但卻有始無終，只留少數兵力在臺灣，最後被荷蘭人逐出臺灣。請問西班牙人為何要減少在台灣的兵力？ (A) 日本推動改革開放 (B) 日本實施海禁政策 (C) 日本實施鎖國政策 (D) 日本與荷蘭共同協商抵制西班牙。
2. ( ) 承上題，請問西班牙在台灣的據點是在台灣的哪一個區域？ (A) 南部 (B) 東部 (C) 北部 (D) 西部。
3. ( ) 荷蘭東印度公司總督曾說：「臺灣真是一頭好乳牛。」這句話表示臺灣為他們公司帶來相當大的利益。這是因為荷蘭人積極經營輸出下列哪些臺灣的特產？甲、蔗糖；乙、稻米；丙、鹿皮；丁、香料。(A) 甲乙丙 (B) 乙丙丁 (C) 甲丙丁 (D) 甲乙丁(習作題)。



4. ( ) 承上題，請問荷蘭人來台灣後的活動據點為何？ (A) 基隆 (B) 台南 (C) 淡水 (D) 宜蘭。
5. ( ) 順吉將圖一中的五張卡片分為圖二中的三類，其分類的依據最可能是下列何者？(A) 居住區域的位置 (B) 文字發展的程度 (C) 製作器物的技術 (D) 使用貨幣的類型。〔習作題，107.會考〕



圖一



圖二

6. ( ) 附圖是鄭氏時期臺灣的建置圖，圖中顯示的地名可反映出下列何事？(A) 倭寇、海商的勢力分布 (B) 軍人擁兵自重，形成割據局面 (C) 荷蘭統治的勢力範圍 (D) 鄭氏父子分派軍隊駐紮屯墾之地。



7. ( ) 請問下列何者不是卑南文化的重要特徵？ (A) 磨製石器 (B) 打製石器 (C) 石棺 (D) 玉器。

8. ( ) 請閱讀資料並回答問題：「近日毛利青少年來臺尋根，從臺北到花蓮、臺東，走訪原住民部落，其中毛利人的老祖宗和臺東卑南文化遺址最有淵源。毛利女孩喜歡配戴玉器項鍊，男孩身上也隨身帶著玉器，有些玉器和卑南文化遺址出土的幾乎一模一樣。玉器是臺灣史前人類很重要的陪葬品，這次毛利青少年訪問團小團長說，玉器在紐西蘭傳統文化中有很特殊的意義，有的是傳家寶，有的是長輩因特殊原因送給晚輩，他身上的玉器是長輩送的，希望他傳承毛利文化。」請問為何遠在紐西蘭的毛利人要到臺灣「尋根」，並走訪原住民族部落？ (A) 因為毛利人屬於南島語族 (B) 因為毛利人希望移民到臺灣 (C) 因為他們希望能多採購一些玉器 (D) 因為毛利人需要臺灣原住民的協助。(習作題)

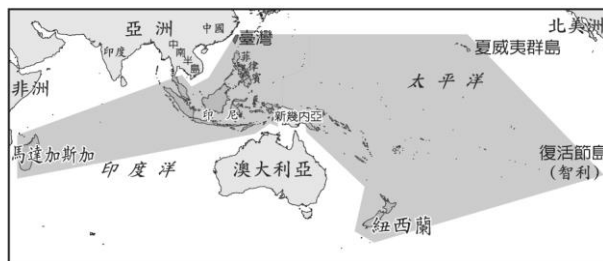
9. ( ) 請閱讀以下短文並回答問題：1697 年（康熙 36 年），郁永河奉命來臺採集硫磺，他帶領工人由府城安平沿岸北上。他觀察到此處少壯未婚的男子都居住在一間比較大的住屋，叫做「公廨」，這是村民們平常議事的場所。郁永河歷經艱苦後終於抵達目的地—現今的北投地區，他僱用當地原住民，讓原住民以獨木舟載運硫土到他的工寮換取布匹，再由漢人工人展開提煉硫磺工作。郁永河記錄的臺灣西南地區原住民習俗，最可能與下列哪一原住民有關？ (A) 西拉雅族 (B) 凱達格蘭族 (C) 阿美族 (D) 排灣族。(習作題)

10. ( ) 承上題，請問郁永河所僱用採集、運送硫土的原住民，應為下列何者？ (A) 西拉雅族 (B) 凱達格蘭族 (C) 阿美族 (D) 排灣族。(習作題)

11. ( ) 歷史老師請同學以長濱文化為題，進行分組討論。以下是該組四位同學的意見，何者的看法較為正確？源源：「長濱文化是臺灣新石器時代的文化類型。」玲玲：「長濱文化位於臺灣的西部，屬於南島語族文化的一部分。」正正：「自長濱文化出土後，迄今臺灣的石器文化遺址都是在海邊的洞穴出土。」仁仁：「從長濱文化遺存可知，他們以採集、漁獵為主要的維生方式。」(A) 源源 (B) 玲玲 (C) 正正 (D) 仁仁。(習作題)

12. ( ) 秉鈞在寫臺灣史報告時，老師曾建議她參考一份歷史文獻，名為《巴達維亞日記》。請問：這份歷史報告的題目最可能是下列何者？ (A) 荷蘭統治時期的臺灣 (B) 鄭氏時期的臺灣 (C) 史前時代的臺灣 (D) 西班牙時期的臺灣。

13. ( ) 家春在歷史課本上看到一張地圖，灰色的部分也包含了台灣，請問灰色部分最有可能是什麼的分布圖？(A) 南島語族 (B) 客家語系 (C) 閩南語系 (D) 佛教文化。



14. ( ) 承上題，根據學者研究，該分佈圖與哪一種植物的分布是一致的？ (A) 台灣欒樹 (B) 構樹 (C) 蒲公英 (D) 樟樹。

15. ( ) 臺灣的高山族群並非全住在高山地區，下列哪一族群就是典型的海洋民族？ (A) 達悟族 (B) 賽夏族 (C) 泰雅族 (D) 邵族。

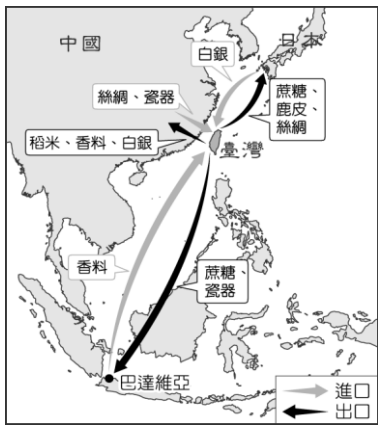
16. ( ) 臺灣史前人類最早懂得用火熟食的可能是下列哪一代表文化？ (A) 長濱文化 (B) 圓山文化

(C)卑南文化 (D)十三行文化。


- 17.( ) 附圖呈現古代人類的幾種生活樣貌，臺灣的大坌坑文化應涵蓋其中哪些活動？(A)甲乙丁戊 (B)甲丙丁戊 (C)乙丁戊己 (D)丙丁戊己。〔109.會考〕



- 18.( ) 附圖為一幅臺灣對外貿易圖，此時臺灣成為列強貿易的轉運站，被納入當時的國際貿易體系中。請問：這是下列哪一時期的臺灣貿易圖？(A)西班牙時期 (B)荷蘭在臺期間 (C)鄭氏政權 (D)史前時代。



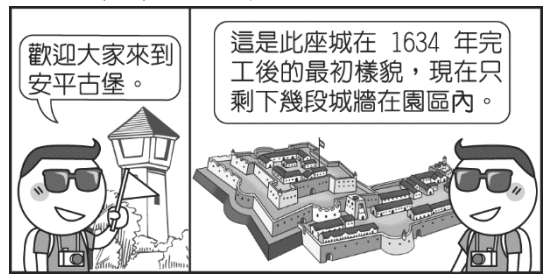
- 19.( ) 附圖代表臺灣北部三個分布區域相同的考古遺址，依據圖片上的說明及排列順序，最上層的應該是哪一考古遺址？(A)卑南文化 (B)長濱文化 (C)圓山文化 (D)十三行文化。



- 20.( ) 承上題，最上層應該是臺灣哪一時期的史前文化？(A)舊時期時代 (B)新石器時代 (C)金屬器時代(D)文字時代。
- 21.( ) 清初聖祖康熙下令：「不准任何船隻下海，嚴禁任何糧食闖關，凡是違反禁令者，一律連坐處死，務必使海上那批人，在糧盡援絕以後做鳥獸散。」上文中的「海上那批人」所指為何？(A)倭寇 (B)西班牙人 (C)荷蘭人 (D)臺灣鄭氏。
- 22.( ) 住在桃園的韻綺，暑假時和爸媽去復興區的拉拉山出遊，一路上看到很多原住民圖騰的裝飾，請問根據臺灣原住民的族群分佈，韻綺看到的最可能是哪一族原住民的圖騰？(A)泰雅族 (B)賽夏族 (C)達悟族 (D)凱達格蘭族。
- 23.( ) 阿美族是臺灣原住民族群中人數最多的一族。請問：阿美族大約分布在附圖中的哪一區域？(A)甲 (B)乙 (C)丙 (D)丁。



- 24.( ) 承上題，請問十七世紀時為什麼不同國家的人紛紛選擇來台活動？(A)台灣擁有豐富的史前文化 (B)台灣風景優美適合居留 (C)台灣是西太平洋的交通樞紐 (D)台灣有多樣的原住民族群。
- 25.( ) 十七世紀開始，來自不同國家的勢力開始來台灣島上活動，請問其中不包括哪一個國家的勢力？(A)西班牙 (B)日本 (C)荷蘭 (D)葡萄牙。
- 26.( ) 微凱參加社區舉辦的臺南古蹟之旅，附圖為她參觀某一古蹟時導遊的解說。請問：這座古蹟最初的名稱為何？(A)熱蘭遮城 (B)普羅民遮城 (C)天后宮 (D)紅毛城。



- 27.( ) 上歷史課時，宋老師告訴大家，史前時代與歷史時代的區別，是以XX的發明為分界點，請問XX指的是什麼？(A)陶器 (B)石器 (C)鐵器 (D)文字。
- 28.( ) 下表是某一組織的重要事件整理，根據內容判斷，下列何者最適合放入表中的「？」處？(A)從印尼輸出大量瓷器販賣至中國 (B)以白銀吸引中國商人至馬尼拉交易 (C)以澳門為據點，推動亞洲傳教事業 (D)設亞洲總部於巴達維亞，統籌經營。〔習作題，105.會考改編〕

重要事件
★成立於十七世紀初
★ ?
★曾在臺灣、南非好望角等地建立殖民地
★在日本鎖國時期，獲准與日本貿易

- 29.( ) 英德坐著時光機回到了台灣新石器時代的圓山，請問下列何者不是英德會看到的景象？(A)食用台北湖裡的貝類後，將貝類的殼丟棄在住家旁空地形成貝塚 (B)挖取陶土燒製陶器 (C)會飼養家畜和種植作物食用(D)煉鐵並與東南亞貿易。
- 30.( ) 請問關於下列國家在亞洲的貿易據點，何者錯誤？(A)西班牙-菲律賓馬尼拉 (B)荷蘭-台灣(C)荷蘭-印尼巴達維亞(D)葡萄牙-澎湖。