

桃園市立大成國中 107 學年度第一學期第一次定期評量七年級地理科試卷

範圍：台灣地理 單元 1-2 班級： 座號： 姓名：

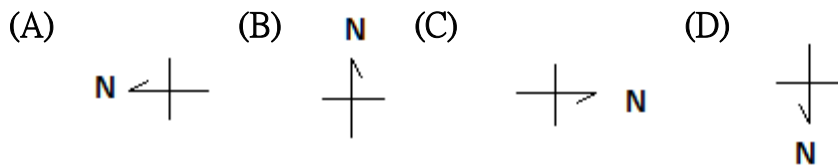
【測驗說明】試卷採雙面印刷，共 4 頁。本次測驗總分共 100 分，有 33 題。

選擇題： 1--32 題，每題 3 分； 第 33 題，每題 4 分

【畫卡說明】答案卡資料請確實填妥及劃記正確，以免造成讀卡困擾。

一.選擇題

1. 小謙謙是大成國中的新生，上到地理位置表示法—相對位置時，因為方位搞不清楚相當困擾，請你發揮同學愛，好好教他一下吧？
請問：圖(一)中：當太陽初昇，大樹在房屋的哪一邊？



2. 『大豐收號』漁船在海上進行捕魚工作，其位置如圖(二)所示。請問：由圖中資料判斷，目前該船隻作業地點 甲 大致位於台灣本島的何處？

(A) 東北方 (B) 西北方 (C) 西南方 (D) 東南方

3. 還記得開學前，台灣由於受到西南氣流發威，『水炸彈』連日砲轟南部，雨下不停，氣象局發布 18 縣市豪雨特報的『雨』神同行繼續加映的情景嗎？

當時新聞報導：『熱帶性低氣壓 T.D 目前位置在高屏沿岸，由於受到西南氣流影響，在熱力作用加乘下，連日大雨或豪雨，雖然沒有升級成颱風，但威力十分驚人，災情特別嚴重，家園成了汪洋一片，適逢大潮期間，透過空拍鏡頭，只見有些臨海地區淹了 4 天，幾乎面目全非，農漁畜災情嚴重難以估計。

請問：當時報導的 T.D 的位置最有可能位於圖(三)中的何處？

(A) 甲 (B) 乙 (C) 丙 (D) 丁

4. 卡爾老師帶領新生們在大成國中進行校園認識，為了對照現場地理環境，卡爾老師請同學在地圖上圈出『A1, D2』，以找出大成樓、圖書館、活動中心等地標，此種位置表示法稱為下列何項？

(A) 網格座標 (B) 經緯度位置 (C) 相對位置

(D) 比較位置

5. 圖(四)是蔡總統專機出訪南太平洋之三友邦的路線圖。請問：專機的航行往返方向依序為何？

(A) 東北---西南 (B) 東南---西北

(C) 西南---東北 (D) 西北---東南

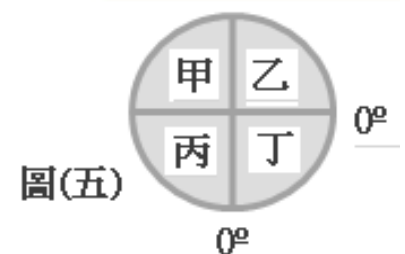
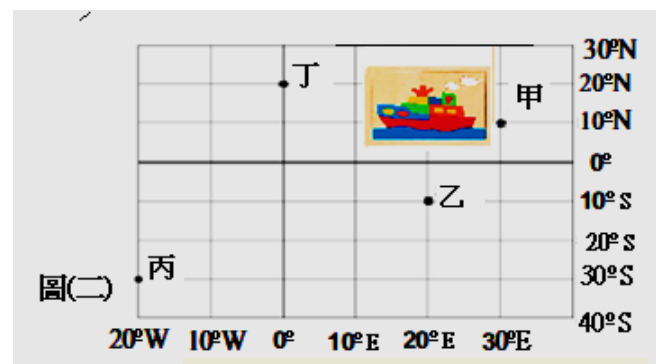
6. 潘朵拉 看了一部科幻災難電影《地心毀滅》後開始幻想，是否有一天有可能穿越貫通地球的無底洞？她想像著--從台灣某一點開始，挖一條隧道鑽入地面，直通地心，再由地球另一端鑽出來。

請問：潘朵拉 貫通地心的另一端地點在圖(五)中的哪個地區？

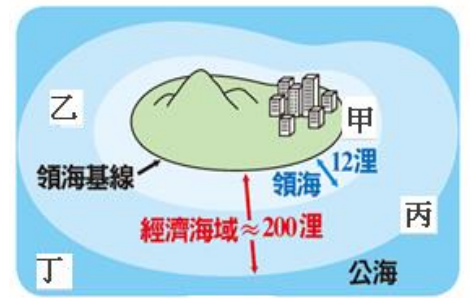
(A) 甲 (B) 乙 (C) 丙 (D) 丁

7. 一地區的經緯度位置對氣候環境有顯著的影響，附表是四個假想島嶼的經緯度的位置。請問：其中哪一個島嶼的冬季氣溫可能最高？

地區	(A) ㄅ島	(B) ㄆ島	(C) ㄇ島	(D) ㄊ島
經度	135°E	30°W	90°E	10°W
緯度	80°S	30°N	5°N	66.5°S



8. 日本今年天災不斷，從年初的暴雪、6月的6.1強震、7月豪雨，9月4日更出現日本25年來最強的燕子颱風，災情頻傳。在台灣(東經 120°E)的柚子，於晚間 7 點新聞中看到日本(東經 135°E)的 SNG 連線正在報導超級颱風的災情，非常擔心，急著打電話連繫花媽。請問：當時日本的時間為何？
 (A) 9月4日晚間 7 點 (B) 9月4日晚間 6 點 (C) 9月4日晚間 9 點
 (D) 9月4日晚間 8 點



圖(六)

9. 圖(六)為海域範圍示意圖。根據聯合國『海洋法公約』的規定，當船隻航行到何處時，會因為侵犯沿海國家領土主權而遭到驅逐？
 (A) 甲 (B) 乙 (C) 丙 (D) 丁
10. 「2018 年第 18 屆雅加達-巨港亞洲運動會」，在印尼(東經 105°E) 舉行。今年的亞洲運動會從 8 月 10 日開始有賽事，並在 18 日舉辦開幕典禮後，一路激戰至 9 月 2 日；這次亞運會的賽事項目多達 36 種，甚至連電競賽事也都有！熱血的 鄭小燦 則飛往雅加達為中華隊選手們加油！為了配合目的地所在國家的時間，他應該將手錶時間做下列何種調整？
 (A) 調快 1 小時 (B) 調慢 1 小時 (C) 調快 2 小時 (D) 沒有時差
11. 露亞和波音聽說『八德埤塘生態公園』有著花蓮雲山水與羅東運動公園般的美景，決定來個『桃園遊趣』。她們從台中開車一路北上，開車的露亞詢問手拿地圖的波音到目的地尚有多長的距離？波音看著比例尺 1：200,000 的地圖回答：『圖上的距離 5 公分，實際距離是…』請幫忙波音試算，實際距離是多少公里？
 (A) 1 公里 (B) 10 公里 (C) 20 公里 (D) 50 公里

12. 【天下雜誌】舉辦了『微笑台灣 319 鄉』鄉鎮護照活動，鼓勵全國民眾到各鄉鎮觀光旅遊，發現在地之美。吳小憲 也響應這個活動，他決定先探尋--位於全島中央有地理中心碑的行政區，做一深度旅遊。請問：他應該前往圖(七)中的哪個縣市？
 (A) 丙—台中 (B) 戊—台南 (C) 壬—花蓮 (D) 丁—南投



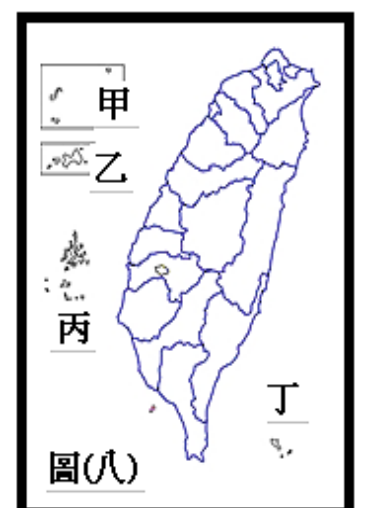
圖(七)

13. 『蘇花公路』是台灣最美的公路，全長 118 公里，沿路可見峭壁山色與海洋的壯麗景觀。請由圖(七)判斷，該公路的起迄點分別為哪兩個縣市？
 (A) 乙、壬 (B) 甲、乙 (C) 丙、庚 (D) 丁、壬
14. 2018 是『大地震之年』嗎？天搖地動、地牛翻身，從日本的大阪、印尼龍目島、再到現在日本北海道的強震，全球強震一個接一個。2018 年至今已經發生過 10 次規模 7 以上強震，規模 6 以上的也有 69 次，次數高過往年。請問：強震可能跟何項因素有關？
 (A) 風力侵蝕 (B) 潮汐作用 (C) 板塊運動 (D) 冰河消融
15. 郡郡老師在教比例尺時，在黑板貼了兩張圖幅大小相同的地圖，請全班同學觀察完地圖後整理出表格，其中這是呆萌 整理出來的附表，請問：何者錯誤？

圖名	(A)比例尺	(B)資料內容	(C)涵蓋範圍	(D)縮小程度
八德區全圖	小	較詳細	小	小
桃園市全圖	大	較簡略	大	大

16. 郡郡老師又在黑板上貼了四張圖幅大小相同的地圖，想要考考你。請問：聰明的你是否找得出來，哪一張地圖的比例尺最大？
 (A) 亞洲國家分布圖 (B) 桃園宮廟分布圖 (C) 台灣行政區圖 (D) 世界七大洲分布圖

17. 馬祖的『藍眼淚』是因為海水中的渦鞭毛藻，受到海浪的擾動，發出藍光，在海面上閃閃發光好似海洋精靈跳躍一樣，每年四到六月便是藍眼淚的季節，若要欣賞『藍眼淚』之美，請問：應前往圖(八)何處？
 (A) 甲 (B) 乙 (C) 丙 (D) 丁



圖(八)

18. 喜愛自助旅行的小瑜利用中秋節連假，造訪台灣的離島縣--臺灣海峽最閃耀的明珠，九十座島嶼上累積著歷史人文的智慧結晶；其島嶼結構為特殊的玄武岩地質，大自然鬼斧神工的多樣雕琢，令中外地質學者觀後為之驚嘆，讚譽為『上帝的石雕公園』。若要欣賞該縣之美，請問：應前往圖(八)何處？
 (A) 甲 (B) 乙 (C) 丙 (D) 丁

19. 桃園有「千塘之鄉」美名，已故導演齊柏林生前從高空俯瞰，形容「宛如散落一地的水晶，閃閃發光」；「埤塘不只是埤塘」，桃園埤塘與水圳網絡綿密，除具灌溉、防洪等水利功能，也間接帶動周邊聚落、產業發展，還有獨特生態價值，是環境教育好場所；同時也是鄰近居民凝聚在地情感的基地，有濃濃人情味。

你知道桃園的「埤塘系統」是因受到○○地形和水文環境的限制，而發展出來的嗎？

- (A) 盆地 (B) 丘陵 (C) 平原 (D) 台地

20. 感受台灣茶文化！喝茶也是一種藝術美學！茶是一種古老且文明的飲料，現今茶已成為世界三大飲料(茶、咖啡、可可)之一。台灣各地產有不同的茶葉，各有不同的特色，○○地區以『東方美人茶』聞名。你知道應前往何處購買？

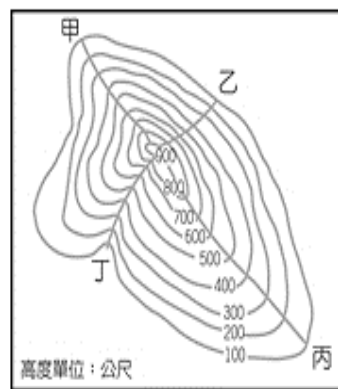
- (A) 台中盆地 (B) 宜蘭平原 (C) 龜山島 (D) 竹苗丘陵

21. 德國有一條中世紀風情的浪漫大道(Romantische Strasse)，台灣桃竹苗有一條客家風情的客家浪漫大道(Hakka Romantic Avauue)台三線，北接新北市，南連大台中市。讓我們一起搭高鐵、暢遊…【浪漫台三線】。請問：搭高鐵沿途不會經過下列哪個地區？

- (A) 盆地 (B) 丘陵 (C) 台地 (D) 縱谷平原

22. 2018 台鐵最新推出悠遊台灣--「郵輪式列車旅遊行程」！不用自行開車，還可以在專人導覽下遊歷台灣各地美景的火車套裝行程。趁著難得的假期，讓我們開始展開一段西部鐵道的輕旅行吧！請問該路線不包含下列何者？

停靠站	行程
(A) 宜蘭	冬山生態綠舟
(B) 彰化	扇形車庫
(C) 苗栗	魚藤坪斷橋
(D) 台中	高美濕地



圖(九)

23. 『重陽節』陪伴是最長情的告白。「九九重陽」又稱「登高節」，所以有重九祭祖，敬老崇孝之傳統。貼心的小丸子要陪爺爺奶奶到南崁郊山的『羊稠坑步道』，看高鐵穿越隧道，看飛機起降，看漁船入港，陸海空三景！請問：圖(九)中哪一條登山路線最適合老人家行走，較為輕鬆？

- (A) 甲 (B) 乙 (C) 丙 (D) 丁

二.題組

※【從一條河的溯溪之旅，體驗台灣土地的真實感動—天下雜誌 2018.07.15】

新竹光武國中每年都會從一條河開始，帶著孩子看見台灣、感受家鄉土地的美好。與土地真實的接觸，大自然是最佳的教育實踐場地，教室以外的學習，擁有飽滿的感受與體驗。

24. 依據圖(十)等高線推論，甲 的山頂高度約為多少？

- (A) 850 m (B) 950m (C) 1,000m (D) 1,100m

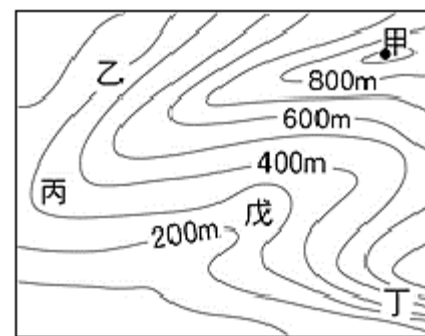
25. 請問：由圖(十)判斷，哪點是溯溪所在的地方？

- (A) 乙 (B) 丙 (C) 丁 (D) 戊

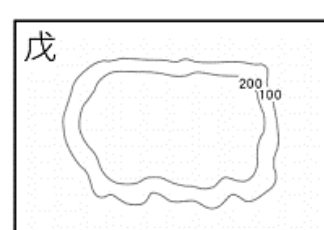
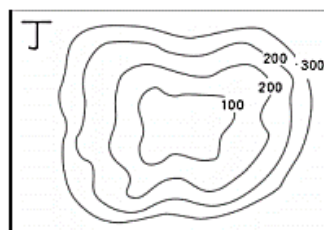
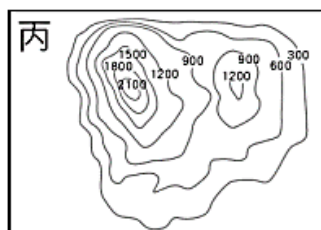
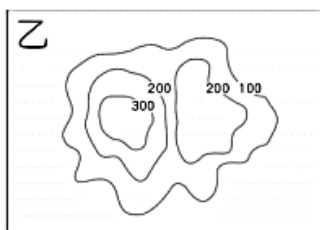
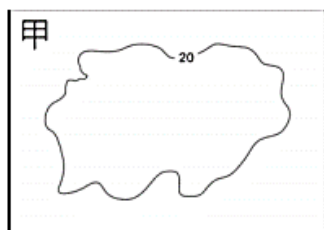
26. 請問：該條河流的流向？

- (A) 向東北流 (B) 向西南流 (C) 向西北流 (D) 向東南流

※下列為常見的等高線地形圖。



圖(十)



27. 台灣面積雖小，但地形卻十分複雜。請問：台灣的五種地形以何者所佔面積最大？

- (A) 甲 (B) 乙 (C) 丙 (D) 丁

28. 哪些地形是台灣居民主要生活空間的分布地？

- (A) 甲、丁 (B) 乙、戊 (C) 乙、丙 (D) 丙、戊

29. 『921』地震災情嚴重的埔里，主要位於哪種地形上？

- (A) 乙 (B) 丁 (C) 丙 (D) 戊

※圖(十一)是台灣主要山脈簡圖。

30. 『台9線』為全台最長的公路，全長476公里，其中池上到台東市的這段花東縱谷公路（南段），建於狹長的縱谷平原上，全線可見山巒，又被稱為「綠色公路」。這條如茵似夢的道路，有著鹿野熱氣球、池上金城武大道、電光稻浪，還有花東縱谷平原孕育出的農產品瑰寶。請問：『台9線』位於圖(十一)哪兩座山之間？
(A) 甲、乙 (B) 乙、丙 (C) 丙、丁 (D) 丙、戊
31. 阿里山五奇之美--鐵道、日出、雲海、晚霞、神木，吸引著各國旅客爭相前往朝聖，而鄒族原住民人文資源更增其觀光魅力。奮起湖老街不只是海拔高度最高的老街，亦被稱為南台灣的九份，擁有古色古香的街道風貌，最不能錯過的便是奮起湖便當，搭乘阿里山小火車千萬不能錯過！
請問：阿里山的代號為何？(A) 甲 (B) 乙 (C) 丙 (D) 戊
32. 宜蘭平原的舊稱為噶瑪蘭平原、蘭陽平原，是台灣東部最早開發的地區；介於兩山脈間形成一獨立的地理區域，東面濱臨太平洋，美景盡收眼底，壯觀的景緻令人心曠神怡。
請問：『台北後花園的宜蘭』位於圖(十一)哪兩座山之間？
(A) 甲、乙 (B) 乙、丙 (C) 丙、丁 (D) 丙、戊
33. 作家劉克襄形容屏東的火車是「解憂的火車」，指的是全台僅存的藍皮普通車。這列枋寮到台東的「藍皮火車」車上沒有冷氣，只有電風扇外加可以打開的窗戶，而且站站都停；南迴鐵路全長98.248公里，是目前環島鐵路沒有電氣化的一段，要經過十七座車站，大、小橋梁快二百座，因為行駛速度「慢」，沿路台灣鐵路之美盡在其中。如果要以一句話形容南迴鐵路，那就是馳聘於山海之間。從枋寮到枋山間，鐵路的一側是○○山脈，另一側則是台灣海峽。
請問：上文描述可以知道，南迴鐵路需要穿越哪個山脈的南部，才能到達台東縣？
(A) 雪山山脈 (B) 中央山脈 (C) 阿里山山脈 (D) 玉山山脈



※作答結束，請再次檢查畫卡之班級、座號、姓名、答案劃記是否正確 ※



桃園市立大成國中 107 學年度第一學期第一次定期評量七年級地理科解答

◎ 範圍：第 1、2 章 ◎ 說明：試卷共 2 張，4 頁 ◎ 班級： 座號： 姓名：

配分：單一選擇題 第 1—32 題，每題 3 分；第 33 題，每題 4 分，滿分 100 分

1	2	3	4	5	6	7	8	9	10
A	C	D	A	B	C	C	D	A	B
11	12	13	14	15	16	17	18	19	20
B	D	A	C	A	B	A	C	D	D
21	22	23	24	25	26	27	28	29	30
D	A	C	B	D	B	C	A	B	C
31	32	33							
A	D	B							