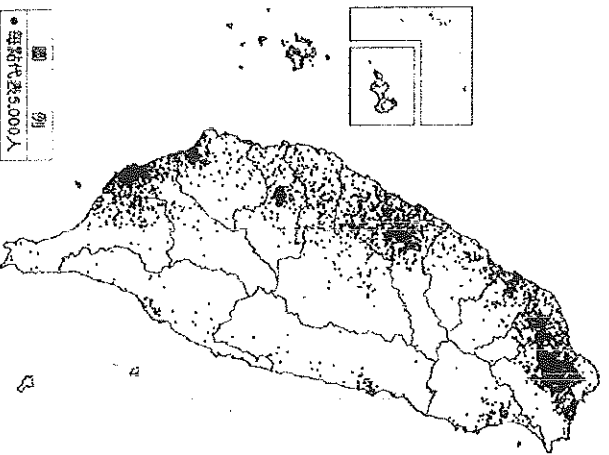
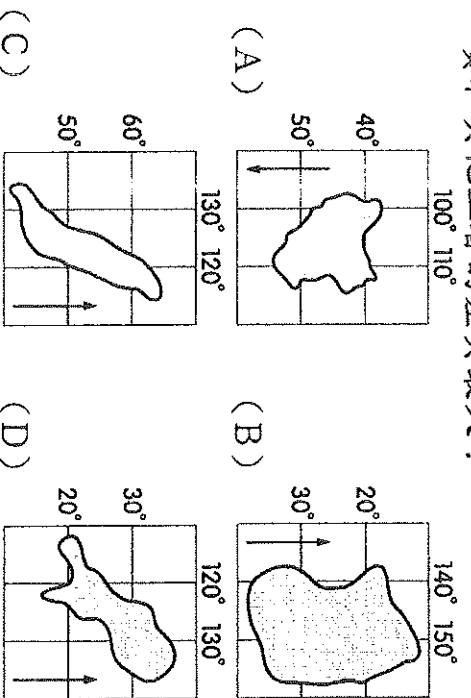


※配分：41~60題-每題3分，61~80題-每題2分，共100分

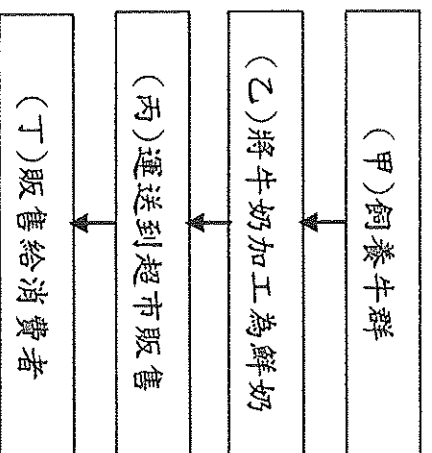
41. 從一地的人口金字塔圖，可以大略推估下列哪些數據？  
 (甲)死亡率 (乙)全國總人口 (丙)扶養比  
 (丁)壯年人口比例 (戊)性別比
42. 四個學生對臺灣的三級產業變化，分別提出他們的看法，其中何者的說法最正確？  
 (A) 甲生：第三級產業就業人口數逐年減少  
 (B) 乙生：今日第二級產業就業人口比例最高  
 (C) 丙生：近年來，農業人口的比例逐年增加  
 (D) 丁生：臺灣已轉型為工、服務業為主的社會
43. 「小信是一個小學三年級的學生，他和他的同學們平常最喜歡吃的食物就是炸雞、薯條以及漢堡，他們對臺灣傳統的主食『米飯』完全不感興趣。」上述國民飲食習慣改變的現象，對臺灣農業造成的最大影響為何？  
 (A) 稻米產量供過於求 (B) 稻米單位面積產量大增 (C) 稻米外銷量大增 (D) 稻米價格上升。
44. (甲)氣候多雨 (乙)交通便利 (丙)地形多山 (丁)人口稀少。上述哪些是造成臺灣森林資源豐富的「自然因素」？  
 (A) 甲乙 (B) 甲丙 (C) 甲丁 (D) 丙丁。
45. 臺灣的瑞穗、初鹿等牧場，牛群都是被柵欄圍起來的。臺灣的畜牧業多以這種欄牧方式為主，其主要因素為何？  
 (A) 工資昂貴 (B) 氣候溼熱 (C) 土地有限 (D) 技術有限。
46. 附圖表示近年來臺灣的人口分布狀況。由圖中資料可知，影響臺灣人口分布的原因，與下列何者最相關？  
 (A) 距海遠近 (B) 氣候變化 (C) 工商業發展 (D) 政府政策。



47. 小信一家七口的組成分子為：  
 (甲) 爺爺：67 歲，退休人士  
 (乙) 奶奶：64 歲，醫院志工  
 (丙) 爸爸：42 歲，公司財務長  
 (丁) 媽媽：41 歲，家庭主婦  
 (戊) 哥哥：17 歲，高二生  
 (己) 姊姊：15 歲，國三生  
 (庚) 筱婷：13 歲，國一生。  
 請問：小信家中共有幾個人屬於壯年人口？  
 (A) 7 人 (B) 6 人 (C) 5 人 (D) 4 人。
48. 洋流經常帶來重要魚群，因此對於沿海漁業活動的影響相當明顯。請問：下列何者的洋流性質和其他三者的差異最大？



49. 附圖為鮮奶的產銷流程圖，圖中哪個階段屬於第二級產業？  
 (A) 甲 (B) 乙 (C) 丙 (D) 丁。



50. 《臺北市政府推出「助妳好孕」專案，從民國 100 年 1 月起，發放每胎 2 萬元的生育獎勵金，同時給予 5 歲以下孩童每個月 2,500 元的育兒津貼。透過這些政策，政府主要是希望能達成何種目標？  
 (A) 提高生育率 (B) 降低死亡率 (C) 提高都市人口移出率 (D) 降低都市人口移入率。
51. 有一段廣告歌詞是這樣唱的：「啊！勞動兄弟，經濟要靠你；啊！無名英雄，建設要靠你……」臺灣早期經濟發展的主力「加工與

製造業」，是屬於第幾級產業？

- (A)第一級 (B)第二級 (C)第三級 (D)第四級。

52. 人口遷移的因素很多，大致可分為推力與拉力兩類。請問：下列哪些屬於「推力」？

(甲)就業機會多 (乙)政治自由 (丙)人口稠密 (丁)醫療不足

- (A)甲乙 (B)乙丙 (C)乙丁 (D)丙丁。

53. 頂客族(DINK, double income no kids)是指

夫婦倆人都有工作，但是沒有小孩的雙薪家庭，這類族群的人口比例若持續增加，可能會對社會帶來哪些衝擊？(甲)人口逐漸老化 (乙)扶養比逐年增加 (丙)少子化現象加劇 (丁)外籍配偶人數持續增加

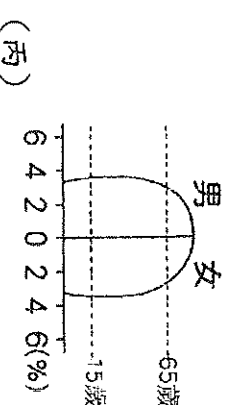
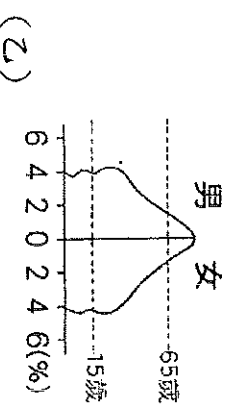
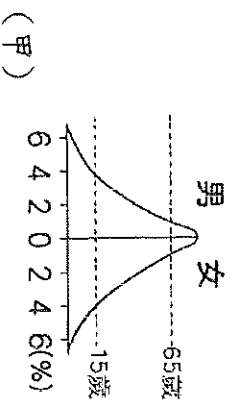
- (A)甲乙丙 (B)甲乙丁 (C)甲丙丁 (D)乙丙丁。

54. 石中國人口總數為 110 萬人，其中男性總數為 60 萬人，女性總數為 50 萬人。請問：該國性別比為何？

- (A) 120 (B) 100 (C) 102 (D) 80。

55. 若將附圖中甲、乙、丙三種人口金字塔類型，依國家經濟發展程度高到低排列，順序應為下列何者？

- (A)甲乙丙 (B)甲丙乙 (C)乙甲丙 (D)丙乙甲。



56. 觀光果園、林場、牧場結合民宿、餐飲與遊樂設施，成為近年來臺灣熱門的旅遊方式。此現象主要反映臺灣農業活動具有何項特色？

- (A)農業技術先進 (B)農村勞力老化  
(C)集約耕作方式 (D)休閒農業興起。

57. 安安在一本關於臺灣史的書籍中看到一段文字：「在鄭氏時期，有數萬軍民從中國來臺灣……由此段敘述可知，下列何者最有可能

是當時臺灣人口成長的主要原因？

- (A)社會增加 (B)自然增加 (C)醫療進步 (D)死亡率降低。

58. 臺灣有許多地名與甘蔗製糖的舊式製糖廠

「糖廊」有關，如「廊子」、「廊後仔」……等。由臺灣甘蔗分布的地理環境來推論，下列哪一地區會出現最多這類的地名？

- (A)臺北盆地 (B)桃園台地 (C)嘉南平原 (D)宜蘭平原。

59. 下列有關臺灣各漁業類型的敘述，何者錯誤？

(A)近海漁業是指在海岸基線外 12~200 浬內從事漁業 (B)養殖漁業為臺灣最大的漁業產值來源 (C)遠洋漁業遍及三大洋 (D)虱目魚、牡蠣及黑鮪魚皆屬養殖漁業。

60. 附表是甲、乙、丙、丁四個國家的人口組成比例。就人口組成而言，哪國的扶養負擔最沉重？

- (A)甲國 (B)乙國 (C)丙國 (D)丁國。

年齡	14歲以下	15~64歲	65歲以上
甲	24	66	10
乙	21	66	13
丙	29	65	6
丁	20	67	13

61. 電影《賽德克巴萊》中，賽德克族人為了生計，被迫砍下樹木，從山上扛下山賣易品。林木外銷雖然一度為臺灣賺進巨額的外匯收入，但是消失就難以復原。目前，政府已調整林業政策，並以下列何種作法為主要方向？(A)適度砍伐一些普通天然林樹種 (B)全面禁止人民進入森林區 (C)加強造林與保育林地 (D)移植國外稀有樹種。

62. 臺灣是個水果天堂，令人垂涎的鳳梨釋迦、蘋果芒果、黑金剛蓮霧等農特產品，都是和下列哪項農業經營特色有關？

- (A)休閒農業興起 (B)經營集約度高  
(C)農業勞力老化 (D)農業技術先進。

63. 小雯一家人居住在雲林縣臺西鄉沿海地區，由於生活困苦，全家決定遷移到工作機會較多的臺中謀生。對小雯一家人而言，他們的遷移較符合下列何種人口現象？

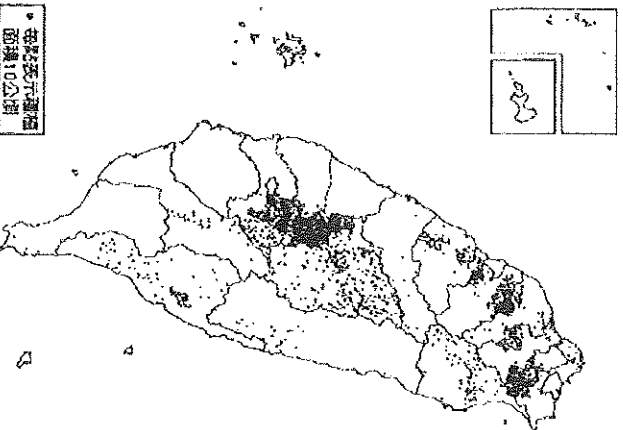
- (A)國內遷移、移入地拉力 (B)國際遷移、移出地拉力 (C)國際遷移、移出地推力 (D)國內遷移、移入地推力。

64. 臺灣加入世界貿易組織(WTO)之後，許多農產品皆由國外輸入。下列哪項產品，最不易被由國外進口的產品所取代？

- (A)稻米 (B)鮮乳 (C)漁貨 (D)葡萄酒。

65. 附圖是臺灣某種農作物的分布圖。由該作物分布的地區判斷，該作物可能為何？

- (A) 稻米 (B) 甘蔗 (C) 花卉 (D) 茶樹。



66. 承上題，根據此種作物分布的範圍推判，適合生長的環境主要在哪種地形區內？

- (A) 丘陵 (B) 盆地 (C) 平原 (D) 高原。

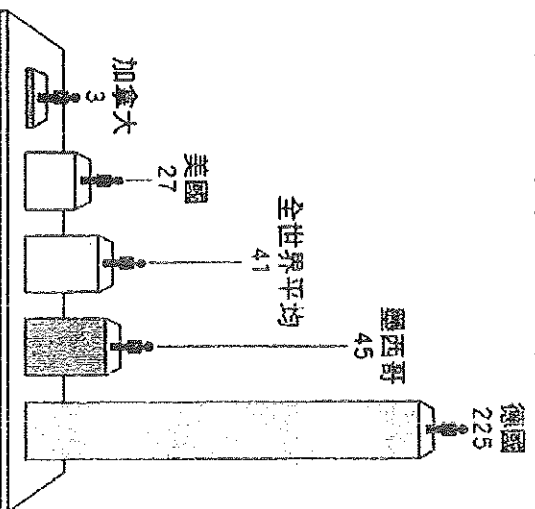
67. 臺灣的傳統習俗中，當新生嬰兒滿足月時，家人便會準備禮物送給親友。如果是男嬰，就會準備油飯；若是女嬰，就會準備蛋糕。請問：附表是四個里的滿月禮物統計表，其中以哪個里的新生兒性別比最高？

- (A) 吉祥里 (B) 如意里 (C) 百年里 (D) 好合里。

地區 種類	吉祥里	如意里	百年里	好合里
油飯	110	120	115	120
蛋糕	120	110	120	115

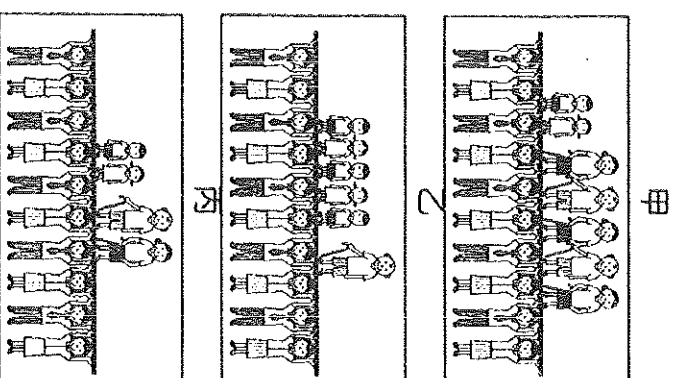
(單位：個)

68. 附圖顯示某年數個國家的人口密度與全世界平均值的比較，圖上的數字為每平方公里的人口數。由圖中資訊可以得到下列何項結論？ (A) 加拿大土地面積較美國小 (B) 德國人力資源在四國中最高 (C) 墨西哥都市化程度較世界平均值高 (D) 德國每人可分配到的土地較其他三國少。



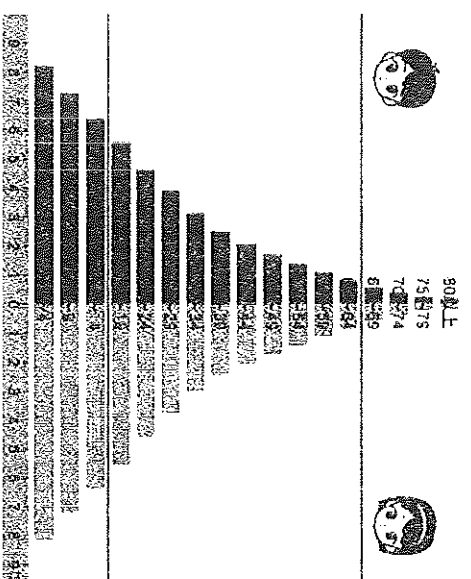
69. 附圖為臺灣 1980 年、2010 年及推估 2040 年的扶養比示意圖，依據年代先後順序排列應為下列何者？

- (A) 甲乙丙 (B) 甲丙乙 (C) 乙甲丙 (D) 乙丙甲。

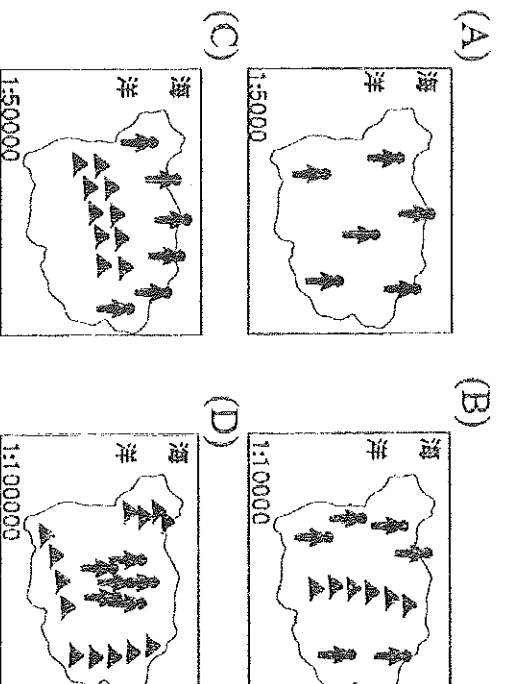


70. 附圖為樂樂國的人口金字塔圖。有關樂樂國的人口組成敘述，下列何者正確？

- (A) 平均壽命長 (B) 出生率較高 (C) 死亡率較低 (D) 教育水準相當高。



71. 下列為四個島國的人口分布示意圖，每張圖的圖紙大小相同，但比例尺都不同。依此判斷，哪一個島國的人口密度最大？



72. 一地的農業若為集約方式經營，表示其農業發展具有下列何種特徵？

(A) 每人平均耕地面積大 (B) 投入的勞力少

(C) 農業機械化程度高 (D) 單位面積產量高。

73. 隨著漁業資源逐漸枯竭，許多環保團體紛紛提倡魚源保育，希望能將資源留給後代子孫。關於魚源保育，下列哪些是具體可行的作法？

(甲) 拒吃、拒買體型過小尚未長大的魚

(乙) 縮小魚網的格子大小

(丙) 控管漁船數量

(丁) 只捕撈單一魚種

(A) 甲乙 (B) 甲丙 (C) 乙丙 (D) 乙丁。

◎臺灣加入世界貿易組織(WTO)後，對農業的衝擊很大。請回答第 74-75 題：

74. 加入 WTO 對臺灣農業的衝擊最大，其基本原因為何？

(A) 農村勞動力老化 (B) 農業生產成本太高

(C) 政府對農業補助太少 (D) 農業過度依賴

人力。

75. 農產品市場開放後，臺灣未來最適宜的農業發展方向為何？

(A) 開發坡地，增加耕地面積 (B) 推廣農業機械化，採粗放式經營，降低成本 (C) 全面休

耕，全力朝向發展高科技產業 (D) 協助農民

轉種高經濟價值農作物。

◎臺灣漁業的經營方式可分為：(甲)養殖漁業

(乙)沿岸漁業 (丙)近海漁業 (丁)遠洋漁

業。請回答第 76-78 題：

76. 乙、丙、丁三種漁業類型是以何種條件作為區分？

(A) 漁獲重量 (B) 魚群種類 (C) 作業距離

(D) 出海季節。

77. 小伊爸爸的漁業船隊以前往大西洋捕捉鮭魚為主，常常一出海就是好幾個月。這種經營方式是屬於下列何者？

(A) 甲 (B) 乙 (C) 丙 (D) 丁。

78. 針對台灣捕撈漁業的狀況，請問以下敘述何者正確？

(A) 台灣東岸太平洋海域大陸棚最為廣大

(B) 大陸棚指的是離海岸 200 公尺遠的海域

(C) 每年 4-6 月黑鯨魚伴隨親潮來台灣東部海域

(D) 每年冬季烏魚伴隨中國沿岸流南下至台灣海峽。

◎臺灣的虱目魚產來源，大多來自魚塢。虱目魚

是熱帶性魚種，主要食物是仰賴陽光培育的藻類，喜溫暖且平淺的水域，若冬季時溫度低於 14℃ 即可能死亡，而目前一般多採用抽取地下水等方式，以恆定水溫。請回答第 79-80 題：

79. 從文中敘述判斷，下列哪個區域範圍最適合培育虱目魚？

(A) 嘉南沿海 (B) 基隆海岸 (C) 南投山區

(D) 花東海岸。

80. 若過度抽取地下水，將可能造成下列何種自然災害？

(A) 土壤流失 (B) 地層下陷 (C) 海洋汙染

(D) 水庫淤積。