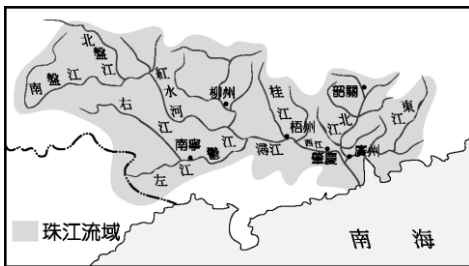


(41-60 每題 2 分，61-80 每題 3 分)

41. 中國南部地區，大部分屬於哪兩大流域？
 (A)長江、珠江 (B)淮河、黃河
 (C)長江、黃河 (D)圖們江、鴨綠江
42. 華北地區的氣候特徵不包括下列哪一個項目？
 (A)大多屬於溫帶季風氣候 (B)一月月均溫 $<0^{\circ}\text{C}$
 (C)年雨量變率大 (D)夏季盛行西南季風
43. 下圖為珠江流域的河川分布圖，請問：該地區呈現何種水系類型？
 (A)樹枝狀 (B)平行狀 (C)向心狀 (D)放射狀



44. 下列四個地形區中，何者不屬於南部地區？ (A)東南丘陵 (B)山東丘陵 (C)四川盆地 (D)雲貴高原
45. 衛生福利部疾病管制署曾於 11/6 發布以下警示訊息，請問圖中雲南省、江西省、廣東省於中國哪個地區？
 (A)南部地區 (B)北部地區
 (C)西部地區 (D)離島地區

第一級:注意(Watch)警示:注意:登革熱 (2019/11/6)

中國大陸 / 雲南省,江西省,廣東省登革熱 警示範圍,提醒遵守當地的一般預防措施

46. 「故人西辭黃鶴樓，煙花三月下揚州。孤帆遠影碧山盡，唯見長江天際流。」依此詩判斷，黃鶴樓應該位在下列何處？
 (A)廣州 (B)天津 (C)武漢 (D)哈爾濱
47. 因應新型冠狀病毒疫情，中國在各省市陸續宣布封省、封城後，深圳也宣布實施「封閉」措施。消息傳出後，開始有大批民眾湧入鄰近的 。請問上述可能為哪一個都市？
 (A)香港 (B)上海 (C)青島 (D)哈爾濱
48. 講到大陸城市排名，很多人直覺反應是「北上廣深」，也就是北京、上海、廣州和深圳，請問上述哪兩個城市位於珠江三角洲？ (A)北京、上海 (B)上海、深圳 (C)深圳、廣州 (D)北京、廣州
49. 「湖廣熟，天下足」，意指若湖南、湖北兩省豐收，

則中國糧食不虞匱乏。請問：該地區主要的糧食作物為何？ (A)水稻 (B)小麥 (C)玉米 (D)甜菜

50. 下圖所呈現的海岸地形與傳統建築，皆可在中國哪一個行政區見到？ (A)福建省 (B)河北省 (C)海南省 (D)上海市



51. 天津港為華北第一大港，但由於港口本身自然條件的何種限制，使得中國政府選擇在出海口外建立天津新港？ (A)暗礁廣布，易觸礁 (B)泥沙堆積，冬季結冰 (C)風浪過大，難避風 (D)丘陵廣布，腹地小
52. 下列有關香港和澳門的敘述，哪一項是正確的？
 (A)香港位於珠江口西側；澳門位於珠江口東側 (B)香港曾由法國管轄；澳門曾由西班牙管轄 (C)香港北方有珠海經濟特區；澳門北方有深圳經濟特區 (D)香港是條件優越的深水港，是世界重要的轉口港；澳門致力於發展旅遊及博奕業
53. 下列地理區為長江所流貫，請從河川上游依序排到下游，正確的是？
 (A)鄱陽盆地→兩湖盆地→四川盆地→長江三角洲
 (B)四川盆地→兩湖盆地→鄱陽盆地→長江三角洲
 (C)兩湖盆地→鄱陽盆地→四川盆地→長江三角洲
 (D)四川盆地→鄱陽盆地→兩湖盆地→長江三角洲
54. 下列哪兩個工業區位於中國北部？(甲)長三角(乙)京津唐(丙)遼中南(丁)珠三角。
 (A)甲丁 (B)乙丙 (C)甲乙 (D)丙丁
55. 東北地區是中國比較完整的地理區域，形容此區最適當的詞句是？
 (A)山環水繞，平原遼闊 (B)河道縱橫，水鄉澤國
 (C)紅色盆地，天府之國 (D)山丘廣布，人口外移
56. 以下關於中國北部都市的敘述，何者錯誤？ (A)北京現為中國首都，是政治、文化、交通中心 (B)西安古稱長安，是歷史上絲路的起點 (C)瀋陽位在東北 T 字型鐵路的交會點，每年舉辦的冰雪節，吸引許多遊客 (D)大連位於遼東半島，港闊水深，是東北貨物的進出港

57. 傳統中國北部區域與南部區域的發展差異性很大，以下敘述何者為「非」？

- (A)工業類型：南重北輕 (B)交通發展：南船北馬
(C)糧食作物：南稻北麥 (D)糖類作物：南蔗北甜

58. 中國在發展工業的過程中，水資源的多寡已成為影響發展的重要因素。請問：目前中國所實施的「南水北調」主要是指下列哪兩條河川的互補利用？

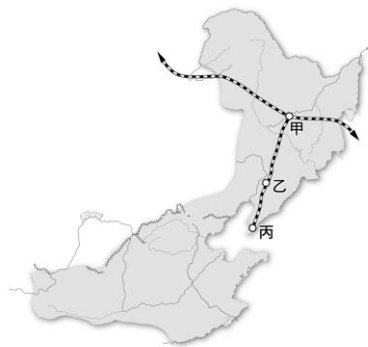
- (A)長江、珠江 (B)黃河、海河
(C)黃河、松花江 (D)長江、黃河

59. 承上題，此「南水北調」工程，最主要是為了解決哪一個地區的缺水問題？

- (A)華南 (B)華中 (C)華北 (D)東北

60. 中國北部地區的鐵路網密集，許多工業區位於鐵路沿線，如長春、瀋陽、鞍山、大連。請問：哪一條鐵路聯繫了右圖中的甲乙丙三個城市？

- (A)蘭新鐵路 (B)京廣鐵路 (C)京滬鐵路 (D)哈大鐵路



61. 有關東北平原的敘述，下列敘述何者有誤？

- (A)具有肥沃的黑土層 (B)採集約耕作
(C)是中國面積最大的平原 (D)因緯度高，年僅一穫

62. 下表為華中、華南地區的特色比較，請問：表中何項敘述錯誤？

	(A)主要地形	(B)氣候	(C)一月月均溫	(D)沿海都市
華中地區	盆地、平原	副熱帶季風	0度以下	上海
華南地區	山地、高原、丘陵	熱帶季風	18度以上	廣州

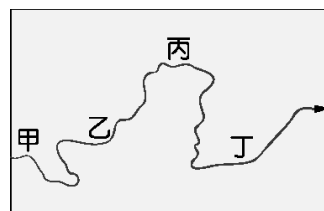
63. 使三江平原從昔日沼澤地變成今日的「北大倉」，其最主要的原因為何？

- (A)南水北調政策 (B)改善排水設施 (C)氣候異常變遷 (D)發展休閒農業
64. 上海舊港區，具有泥沙淤積、水位太淺的缺點，因此在杭州灣口建設外港，此外港 15 年前只不過是個普通小島，居民以捕魚為生，如今竟成為 1000 多個足球場大小的現代化深水港。請問：上述的港口為何？

- (A)香港 (B)天津新港 (C)洋山港 (D)大連

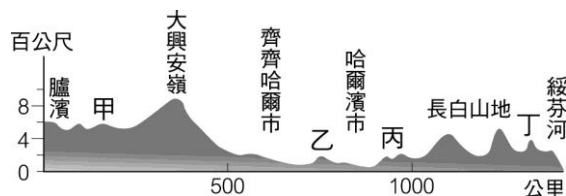
65. 「此地的林相，從熱帶雨林到寒帶森林。在緯度上要向北方飛幾千里才有的氣候，在海拔上只要幾里路就可以抵達。」請問：中國哪一地區最有可能見到類似文中所描述的景觀？

- (A)長白山地 (B)黃土高原 (C)山東丘陵 (D)橫斷山脈
66. 下圖是黃河主流流路的示意圖。其中哪一段由於泥沙大量淤積，使河床高出兩側地面，形成地上「懸河」？



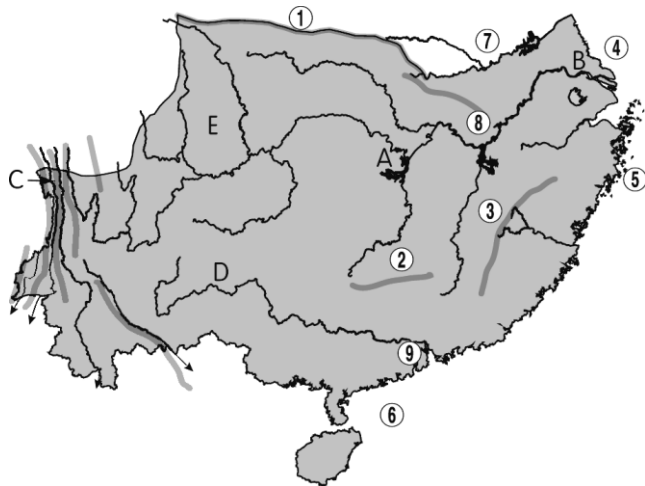
67. 東北地區的降水量分布主要受夏季季風的影響，以此推斷下圖中哪個地點附近的降水量最多？

- (A)甲 (B)乙 (C)丙 (D)丁



題組

◎下圖為中國南部地區簡圖，請問：



68. 「天府之國」、「紅盆地」、愛吃麻辣鍋、是哪個區域的特色？

- (A)A (B)B (C)E (D)D

69. 「魚米之鄉」、「水鄉澤國」是哪個區域的特色？

- (A)A (B)B (C)E (D)D

70. 「溜索」、平行狀水系、水力豐富是哪個區域的特色？

- (A)A (B)B (C)C (D)D

71. ①、②為哪兩座山脈？

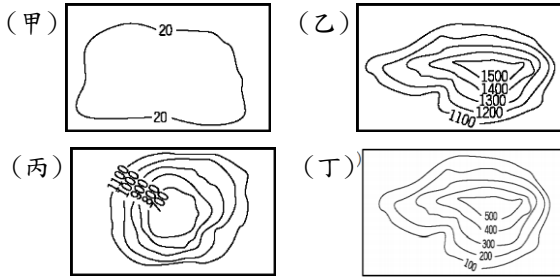
- (A)太行山、泰山 (B)秦嶺、南嶺 (C)怒山、武夷山 (D)小興安嶺、長白山

◎中視《大陸尋奇》主題曲

風雨千年路 江山萬里心
 秦關月 楚天雲 無處不是故園情
 紫塞三春猶飛雪 嶺南四季花似錦
 九曲黃河怒洶湧 長江三峽一舟輕
 更有那桂林山水 恰似人間仙境
 敦煌月泉外 沙漠起駝鈴

72. 「桂林山水甲天下，陽朔堪稱甲桂林，群峰倒影山浮水，無水無山不入神」，上述石灰岩地形的景色，最可能是何種原因所形成的？ (A)火山作用 (B)冰蝕作用 (C)風蝕作用 (D)溶蝕作用
73. 歌詞中嶺南四季花似錦，可能是因為什麼原因？ (A)緯度低 (B)地勢高 (C)土壤肥沃 (D)降水量少

◎下圖為四種地形的等高線圖



74. 四川、江西、湖南三省氣候上皆屬副熱帶季風，但夏季都較其他省分溼熱，是由於這三省均屬於下列何種地形？ (A)甲 (B)乙 (C)丙 (D)丁
75. 雲貴高原上人口集中的精華區，當地人稱為「壩子」，主要位於高原上的哪一種地形？ (A)甲 (B)乙 (C)丙 (D)丁
76. 阿寶趁著暑假福建省遊玩，在當地最常見到下列哪一種地形？ (A)甲 (B)乙 (C)丙 (D)丁

◎下圖為華北地區簡圖，甲、乙、丙分別代表不同華北地形代號



77. 中國境內太行山以西的山西及陝西省境內，多為哪一個地形區的範圍？ (A)華北平原 (B)東北平原 (C)內蒙古高原 (D)黃土高原
78. 孔子登泰山而小天下，依泰山的地理位置推測，登上頂峰後，便能俯瞰哪個平原？ (A)華北平原 (B)東北平原 (C)長江三角洲 (D)珠江三角洲
79. 甲地以風積黃土為主，土壤主要來源地是下列哪個地理區？ (A)塔克拉瑪干沙漠 (B)蒙古高原 (C)青藏高原 (D)雲貴高原
80. 何處煤礦儲量最豐富？ (A)甲 (B)乙 (C)丙

---- 試題結束 ----