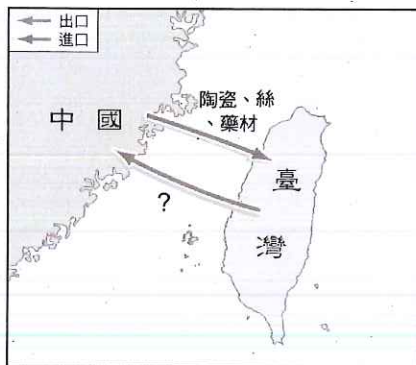


桃園市立石門國民中學 109 學年度第一學期第三次段考七年級社會歷史科試卷

班級： 座號： 姓名：

一、選擇題 (1~20 題，每題 2 分；21~31 題，每題 3 分)

- () 1. 佑寬是清帝國統治前期，居住在臺灣臺中一帶的農夫。如果他要取用灌溉農地的水源，應該使用哪一個水圳會比較方便？ (A)曹公圳 (B)八堡圳 (C)瑠公圳 (D)貓霧揀圳。
- () 2. 清帝國統治時期，原住民與政府之間曾有多次武力衝突。請問下列何者是當時高山原住民與清廷之間的衝突事件？ (A)加禮宛事件 (B)大甲西社事件 (C)麻豆社之役 (D)大肚王事件。
- () 3. 清帝國統治前期，臺灣興建數個大規模的水利設施，結合臺灣地理知識，請問當時水圳各自所引用的水源，下列敘述配對正確的是？ (A)曹公圳：大甲溪 (B)瑠公圳：淡水河 (C)八堡圳：濁水溪 (D)貓霧揀圳：高屏溪。
- () 4. 清帝國統治前期，最初臺灣與中國大陸之間唯一合法的進出港口，是下列哪一個口岸？ (A)艋舺 (B)鹿港 (C)鹿耳門 (D)打狗。
- () 5. 清帝國領臺初期，臺灣有「一府二鹿三艋舺」的俗諺，請問現今下列哪一個地區，不包括在此諺語中？ (A)臺南 (B)鹿港 (C)萬華 (D)基隆。
- () 6. 清帝國統治領前期，賢宇是前往泉州販賣白米的臺南商人，那麼他最可能會加入下列哪些「郊」的組織？ (甲)泉郊(乙)廈郊(丙)米郊(丁)糖郊 (A)甲丙 (B)乙丁 (C)甲丁 (D)乙丙。
- () 7. 清帝國統治後期，北部客家人的地位有所提升，這主要是受到哪一個因素的影響？ (A)居住地區多生產茶葉、樟腦，藉此而累積財富 (B)居住地區有很多地主與郊商出現，成為社會領導階層 (C)清政府多在客家人居住地區，增設教育機構 (D)居住地區多生產蔗糖，藉此而累積財富。
- () 8. 清帝國統治前期約 18 世紀末，率先帶領漢人往東北部開拓，進入宜蘭地區開墾，被稱為「開蘭第一人」、「開蘭始祖」的是誰？ (A)施琅 (B)吳沙 (C)顏思齊 (D)鄭芝龍。
- () 9. 觀察臺灣的歷史發展，下列哪一項作物，從荷蘭時期到清帝國統治時期，一直都是臺灣農業生產的重心和出口貿易的重要商品？ (A)鹿皮 (B)藥材 (C)茶葉 (D)蔗糖。
- () 10. 下圖為清帝國統治前期，中國大陸與臺灣之間的貿易簡圖，其中臺灣商人輸往中國大陸的農產品，主要為何者？ (A)水果、藥材 (B)稻米、蔗糖 (C)鹿皮、稻米 (D)茶葉、蔗糖。



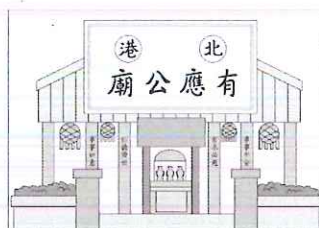
- () 11. 馬偕醫院是為了紀念 19 世紀西方傳教士來臺，當中最具代表性的馬偕牧師。小捷上網查了有關馬偕的事蹟，卻發現有項資料是錯誤的，請問是下列何者？ (A)馬偕在傳教的同時，也將西方醫學和新式教育帶入臺灣 (B)馬偕設立理學堂大書院 (C)馬偕是屬於基督教長老教會的傳教士 (D)馬偕主要在臺南一帶傳教。
- () 12. 清帝國統治前期，臺灣有建造大型水利設施，請問當中規模最大的是？ (A)曹公圳 (B)八堡圳 (C)瑠公圳 (D)貓霧揀圳。

- () 13. 康熙四十八年，泉州人陳逢春、賴永和、陳天章等，合股成立「陳賴章」墾號，向清朝政府申請開墾臺北大佳臘地區，並曾以豬、酒及花紅等物，向當地原住民換取一大片土地，淡水河流域才開始有漢人居住，由此可顯現清領臺灣地區當時開墾的情形。根據上述，下列描述的情形，哪一種是錯誤的？(A)當時漢人取得「番地」的方式，可向原住民承租 (B)清領前期，尚不需向官府申請墾照 (C)普遍採行合資開墾的方式 (D)開墾時為取得灌溉水源，多以合資方式興建水利設施。

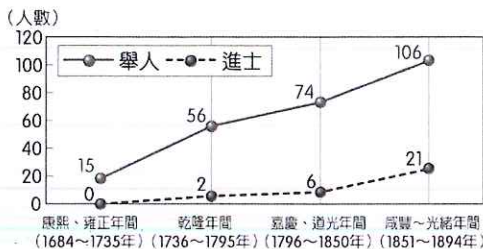
- () 14. 附圖是小安與同學對於歷史課的討論內容。請問對話中所提到的出口商品，最可能是下列何者？



- (A) 稻米、蔗糖 (B) 香料、鴉片 (C) 茶葉、樟腦 (D) 鹿皮、紡織品。
- () 15. 清帝國統治後期約1878年後，臺灣國際貿易的發展情形為何？(A)國際貿易成長速度減慢，由出超轉為入超 (B)國際貿易成長速度快，由入超轉為出超 (C)維持開港前的情形 (D)因戰爭頻繁，國際貿易中斷。
- () 16. 臺灣俗諺「輸人不輸陣，輸陣歹看面」，最早主要是用來形容清帝國時期，臺灣何種社會現象？(A)當時土地開墾困難 (B)當時移民來臺艱辛 (C)當時商業繁榮的景象 (D)當時械鬥頻繁的情形。
- () 17. 仁娜在一次出遊中，發現鄉間路旁有一座廟宇，如附圖。請問這座廟宇最有可能是為了祭拜下列何者而設立的？



- (A) 未出嫁而死亡的女性 (B) 鄭氏渡臺時戰死的士兵 (C) 勇敢抗清的臺灣民眾 (D) 因民變、械鬥而死的無主孤魂。
- () 18. 清帝國統治前期，住在臺灣開墾的小禾，原本來自福建泉州府，請問當時他最不可能供奉的神明是下列何者？(A)土地公 (B)媽祖 (C)清水祖師 (D)開漳聖王。
- () 19. 附圖為清帝國統治時期臺灣舉人、進士人數統計表，從圖中人數的改變可知臺灣文風的轉變。請問造成這種改變的最主要原因，包括下列何者？



- (A) 施琅建議各地興建孔廟 (B) 荷蘭傳教士來臺成立學校 (C) 人民的經濟生活逐漸改善 (D) 馬偕來臺從事文教活動。
- () 20. 以客家山歌形式寫成的《渡臺悲歌》中提到：「勸君切莫過臺灣，臺灣恰似鬼門關，千個人去無人轉，知生知死都是難。」請問以上所言，主要是表達哪一時期臺灣的社會情況？(A)荷西時期 (B)鄭氏治臺時期 (C)清帝國時期 (D)日治時期。
- () 21. 歷史課上，同學們在討論馬雅各的事蹟。其中哪一位同學的發言正確？

- (A) 建立了臺灣第一間西醫醫館。
- (B) 設立牛津學堂。
- (C) 以羅馬拼音為原住民創造文字。
- (D) 於臺灣北部傳播基督教信仰。

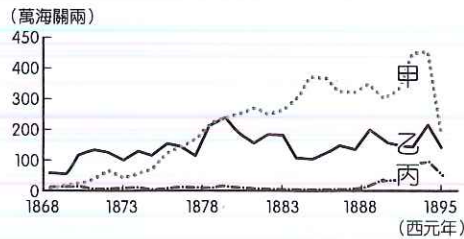
- () 22. 臺灣古蹟介紹的書籍中，有下圖的「全臺首學」，象徵儒家文化在臺灣的奠基，也代表著整個社會重視教育的一種表現。關於此古蹟的敘述，下列何者錯誤？ (A)位於現今臺南市 (B)興建於鄭氏治臺時期 (C)荷蘭時期改建為臺灣府學，故稱為全臺首學 (D)可說是全臺灣第一座孔廟。



- () 23. 清帝國統治前期，臺灣社會移民衝突事件頻繁，原因在於羅漢腳過多，他們無家室、無恆產、無固定工作，隻身一人在臺謀生，於夾縫中求生存。請問造成這種社會現象的主要原因為何？ (A)實施開山撫番政策 (B)實施渡臺禁令 (C)實施劃界封山政策 (D)實施海禁政策。
- () 24. 清帝國統治時期，原住民的社會文化有所改變。請問下列何者不是平埔族群，在當時所面對的處境？ (A)族群分布長久未變，使得各族的區隔明顯 (B)土地的流失 (C)傳統文化的改變 (D)官府的壓迫。
- () 25. 鄰近龍潭的大溪，舊名「大嵙崁」，其興起的原因與清帝國統治時期，哪些商品的最有相關？ (A)稻米、蔗糖 (B)蔗糖、鹿皮 (C)鴉片、紡織品 (D)茶葉、樟腦。
- () 26. 清帝國統治時期，原住民與政府之間曾有多次武力衝突。請問下列何者是當時平埔族群與清廷之間的衝突事件？ (A)加禮宛事件 (B)大甲西社事件 (C)麻豆社之役 (D)大肚王事件。
- () 27. 若要寫一份「清帝國治臺初期的商業貿易」為主題的報告，內容包括當時臺灣商業組織與貿易重心、區域發展…等。請問報告中，最有可能出現下列哪一項敘述？ (A)泉郊主要是由在臺南的貿易商人組成 (B)當時出口商品以茶、糖、樟腦為主 (C)當時貿易對象主要是美國、東南亞 (D)商人們為避免惡性競爭而設立「郊」。
- () 28. 撒奇萊雅族自正名後，開始舉辦「火神祭」，追悼因清帝國統治時期某歷史事件犧牲的祖靈，以凝聚族群精神與文化傳承。請問當時撒奇萊雅族遭遇的，是下列哪一個歷史事件？ (A)新港社事件 (B)大甲西社事件 (C)麻豆社事件 (D)加禮宛事件。
- () 29. 李春生是清代臺灣著名的買辦，他家貧自幼失學，但因緣際會受洗為基督徒後，就開始學習漢文、英文，遂成為與外國商人貿易的溝通橋樑，後來自行創業，而成為當時臺灣三大富豪之一。請問他最初最有可能是經營出口何種商品而致富的？ (A)茶葉 (B)鴉片 (C)蔗糖 (D)樟腦。
- () 30. 承上題，李春生得以藉由貿易致富，主要是受益於下列哪一個事件？ (A)郊商的興起 (B)臺灣開港通商 (C)實施開山撫番 (D)廢除劃界封山。
- () 31. 清帝國統治時期，官方逐漸增設教育機構，其中主要設置在原住民部落，推廣漢人文化的是下列何者？ (A)社學 (B)書院 (C)牛津學堂 (D)府學。

二、題組題 (32~40 題，每題 3 分)：

(一)附圖為清帝國統治時期，臺灣開港通商後的出口值統計表，表中這三項商品的出口，對臺灣社會發展有著重大的影響。請問：

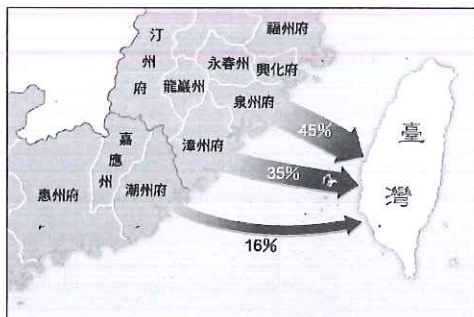


- () 32. 清帝國統治時期，表中有哪一項商品的產量，曾經達到世界第一？ (A)甲 (B)乙 (C)丙 (D)都沒有。
- () 33. 清帝國統治時期，表中的甲商品通常由下列哪一個港口出口？ (A)打狗 (B)安平 (C)淡水 (D)鹿港。
- () 34. 清帝國統治時期，表中有哪一項商品，曾經風靡海外市場，為最大宗的輸出品？ (A)甲 (B)乙 (C)丙 (D)都沒有。

(二)早期不同祖籍的移民來到臺灣後，彼此之間往往因為各種矛盾和衝突而引發許多集體武裝暴力事件，即所謂的「分類械鬥」，而分類械鬥主要發生在臺灣清帝國統治時期。請依據上段敘述，回答下列問題：

- () 35. 不同祖籍的分類械鬥，除了閩、粵械鬥之外，還有哪一類械鬥最為激烈？ (A)福、泉械鬥 (B)漳、泉械鬥 (C)福、漳械鬥 (D)潮、惠械鬥
- () 36. 下列哪一項因素，較不可能是「分類械鬥」發生的原因？ (A)為了爭奪田地或水源 (B)因彼此語言隔閡或生活習性不同 (C)為了爭奪科舉名次 (D)因爭奪商業利益。

(三)附圖為清代漢人移民來臺示意圖，請依據此圖回答下列問題：



- () 37. 從此圖可得知，當時臺灣的移民主要來自中國大陸的哪兩個省份？ (A)浙江、廣東 (B)福建、廣東 (C)廣東、廣西 (D)福建、江西。
- () 38. 移民冒險橫渡有「黑水溝」之稱的臺灣海峽，可說是充滿風險。下列哪一個俗諺，最可以反映當時渡海來臺時，移民的心情？ (A)有唐山公，無唐山媽 (B)一個某卡贏三個天公祖 (C)唐山過台灣，心肝結歸丸 (D)仙拚仙，拚死猴齊天。

(四)王大發於清乾隆末年從泉州府同安縣來臺，與父老定居於鳳山地區，他在當地墾荒拓殖，農暇之餘，便到廟宇祈福。育有六子，死後留下公產三甲地作為祭祀公業，由六房輪流耕作，輪值耕作公田者，負責該年祭祀祖先的費用。每年清明前後，擇日祭拜，使其能慎終追遠。請依據上段敘述，回答下列問題：

- () 39. 王大發一家所屬的宗族祭祀組織，應該是下列何者？ (A)開臺祖 (B)三山國王 (C)唐山祖 (D)王爺。
- () 40. 王大發的子孫，可能就近引用哪一水圳來灌溉農田？ (A)曹公圳 (B)瑠公圳 (C)八堡圳 (D)貓霧揀圳。