

(41-60 每題 3 分，61-80 每題 2 分)。

41. 下列關於沙岸的地形特色中，何者正確？□。

- (A) 多發展養殖漁業 □ (B) 海水深度較深 □  
(C) 多良港 □ (D) 海岸線曲折。

42. 下列有關台灣本島地形的特色，何者錯誤？□。

- (A) 平原多位於西部 □ (B) 山多平原少 □ (C) 主要山脈  
成南北走向 □ (D) 人口主要分布在山地與丘陵。

43. 桃園東南山區主要為哪一座山脈？□ (A) 中央山脈 □

- (B) 霧山山脈 □ (C) 玉山山脈 □ (D) 海岸山脈。

44. 「桃園台地是大漢溪早期在流出山地時①堆積成的廣大沖積扇，後來受②造山運動影響，地殼慢慢抬升而形成現今的地形」。請問上述中形塑地表作用力依序為何？□ (A) 內營力、內營力 □ (B) 外營力、外營力 □ (C)  
內營力、外營力 □ (D) 外營力、內營力。

45. 林口台地(新北市)、八卦台地(彰化縣)、大肚台地(台中市)和桃園台地，請由北向南依序排列。

- (A) 林口台地→桃園台地→大肚台地→八卦台地 □  
(B) 八卦台地→大肚台地→桃園台地→林口台地 □  
(C) 桃園台地→林口台地→大肚台地→八卦台地 □  
(D) 大肚台地→桃園台地→八卦台地→林口台地。

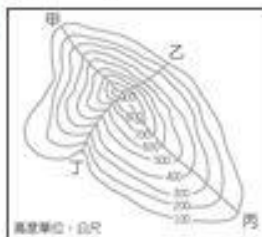
46. 下圖是「右側斷崖」的警告標誌。依據台灣海岸的分布特性，在下列哪段海岸的公路駕駛時，最容易看到此標誌？。

- (A) 西部海岸，北上方向 □  
(B) 西部海岸，南下方向 □  
(C) 東部海岸，北上方向 □  
(D) 東部海岸，南下方向。



47. 小新和同學到去加薇列島上溯溪，下圖為去加薇列島的等高線地形圖。根據圖中的資料判斷，小新應該選擇哪條路線，才符合他們溯溪的活動目標？。

- (A) 甲 □ (B) 乙 □  
(C) 丙 □ (D) 丁。



48. 承上題，小新的爸爸張之介想在午後來個登山行經，請問他應該選擇哪一條路徑較為輕鬆、合適？□。

- (A) 甲 □ (B) 乙 □ (C) 丙 □ (D) 丁。

49. 台灣位在哪兩個板塊的交界處，屬於地震十分頻繁的地區？□。

- (A) 太平洋板塊、菲律賓海板塊 □  
(B) 歐亞板塊、太平洋板塊 □  
(C) 歐亞板塊、菲律賓海板塊 □  
(D) 印澳板塊、菲律賓海板塊。

50. 有關等高線地形圖的繪製原則，下列敘述何者錯誤？

- (A) 同一條線的高度間距相同 □ (B) 同一條線各點的高度相同 □ (C) 圖上的線段為閉合的曲線 (D) 等高線會有相互交錯的情形。

51. 分層設色圖是以不同的顏色表示不同的高度，河川沖積平原的地形，在分層設色圖上通常塗成什麼顏色？□

- (A) 黃色 □ (B) 綠色 □ (C) 藍色 □ (D) 紅色。

52. 明代有一文人航行於某海域時，作詩一首：「平島巖已遠，鯨魚機安在，花瓶像不深，釣魚沉墨袋」。從詩的內容判斷，該文人當時應航行於何處海域？□。

- (A) 台灣東北方 □ (B) 菲律賓西北方 □  
(C) 台灣東南方 □ (D) 東沙群島南方。

53. 下列關於台灣離島的敘述，何者錯誤？□。

- (A) 依島嶼的成因，可分為大陸島、火山島、珊瑚礁島 □  
(B) 大多不利農業發展 □ (C) 人口較少 □ (D) 水源豐富。

54. 右圖為蔣渭水高速公路路線圖，其中甲路段經過的地形主要為下列何者？□。

- (A) 台地 □ (B) 平原 □  
(C) 丘陵 □ (D) 盆地。



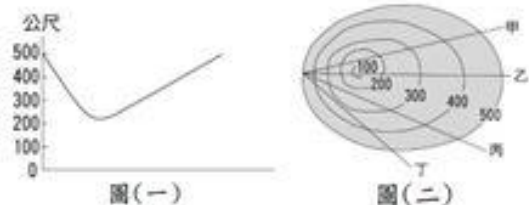
55. 下列關於綠島、蘭嶼兩離島的敘述，何者正確？

- (A) 皆屬於珊瑚礁島 □ (B) 皆於台東縣管轄 □  
(C) 綠島位於台灣西方的台灣海峽上 □  
(D) 綠島的坡度較蘭嶼低。

56. 蘇花公路連接宜蘭縣的蘇澳與花蓮市，沿途臨山面海，多急彎陡坡，每遇颶風、豪雨，道路時常坍方中斷，嚴重影響用路人之安全，因此地方人士紛紛提出興建蘇花高速公路的訴求。請問：蘇花公路緊鄰哪一座山脈？□。

- (A) 霧山山脈 □ (B) 中央山脈 □  
(C) 海岸山脈 □ (D) 玉山山脈。

57. 下圖(一)為某盆地的地形剖面圖，此一剖面圖可能是沿圖(二)中的哪一條線繪製而成的？  
 (A)甲  (B)乙  (C)丙  (D)丁



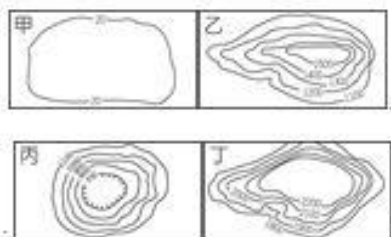
58. 下圖為沿北回綫繪製而成的地形剖面圖，請問下列敘述何者正確？  
 (A)甲為阿里山山脈  (B)乙為台灣最高峰雪山山脈   
 (C)丙地為宜蘭平原  (D)丁為屏東平原



59. 下圖為某處海岸的示意圖，圖中露出海面的小島嶼，在島嶼分類上屬於哪種類型？  
 (A)大陸島  (B)沙洲島  (C)火山島  (D)珊瑚礁島



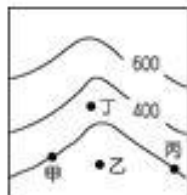
60. 下列的等高線圖，哪一個最能代表盆地地形？  
 (A)甲  (B)乙  (C)丙  (D)丁



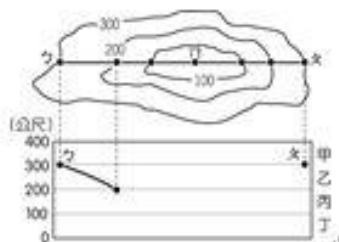
61. 承上題圖，台灣沒有哪一種地形？  
 (A)甲  (B)乙  (C)丙  (D)丁
62. 台灣因山林面積廣大、巡邏不易，出現許多違法開發山林資源的事件，政府機關若要快速比對不同時間的地表狀況，找出可能遭到大範圍違法伐林的地點，使用下列哪一種地圖最為適合？  
 (A)分層設色圖  (B)地形剖面圖  (C)衛星影像圖  (D)等高線地形圖
63. 「烏來鄉位於臺北縣南端（現為新北市烏來區），境內山溪谷深，當地原住民族多為泰雅族人，相傳三百多

年前，該族族人狩獵至此，發現山溪深處熱水與經煙，齊呼「Iraikiroful」，意為冒煙的熱水，這就是烏來地名的由來。近年因泡湯文化盛行，各式溫泉旅館在此林立。」文中所述「冒出熱水與經煙」的溪流應源自下列哪一山脈？  
 (A)中央山脈  (B)雪山山脈   (C)玉山山脈  (D)阿里山山脈

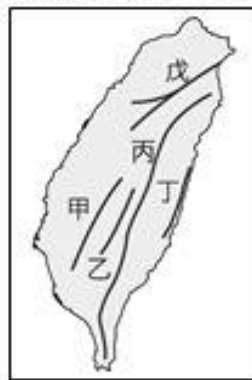
64. 右圖為河谷地區的等高線地形圖，請問：地勢最低的地點是在圖中何處？  
 (A)甲  (B)乙  (C)丙  (D)丁



65. 承上題，請問甲、丙的海拔高度為何？  
 (A)600  (B)400  (C)300  (D)200  公尺
66. 下圖中甲區間(300-400公尺)、乙區間(200-300公尺)、丙區間(100-200公尺)、丁區間(0-100公尺)，請問：剖面圖中的□點應該繪製在哪一個區間？  
 (A)甲  (B)乙  (C)丙  (D)丁



67. 下圖是台灣五大山脈地形圖，請回答下列問題：



67. 下列關於台灣五大山脈敘述，何者錯誤？  
 (A)甲山脈以森林、日出、雲海、小火車等特色著名。  
 (B)乙山脈為台灣的第一高山。  
 (C)丙山脈為台灣多數河川的分水嶺。  
 (D)丁山脈屬於歐亞大陸板塊。
68. 橄欖球隊從桃園搭車經台北、宜蘭到臺東集訓，途中經過北宜高速公路，接著他們穿越亞洲最長的公路隧道，請問這條隧道最可能位於圖中的哪座山脈？  
 (A)甲  (B)乙  (C)丙  (D)戊

69. 承上題，從宜蘭到臺東集訓路途中，有一段景色是左右兩側都是山脈，請問：當時車子可能行駛在哪兩座山之間？□。

- (A) 甲—乙 □ (B) 乙—丙 □ (C) 丙—丁 □ (D) 戊—丙 □

◎ 下圖為台灣離島分布圖，請回答下列問題：



70. 圖中「乙」為澎湖群島，請問下列離島中何者也是澎湖群島？□。

- (A) 龜山島 □ (B) 綠島 □ (C) 太平島 □ (D) 釣魚台列嶼 □

71. 「」位於台灣本島屏東縣西南方大海上，前往島上方式為自東港港口搭乘交通船，船行時間約 25-30 分鐘即可抵達。」，請問文中描述的是哪一個島嶼？□ (A) 丙 □ (B) 乙 □ (C) 丁 □ (D) 戊 □

72. 「」是台灣第二大島，首稱紅頭嶼，島上居住唯一的海洋民族達悟族人，其生活方式與傳統文化建築飛魚文化。」，請問文中描述的是哪一個島嶼？□ (A) 甲 □ (B) 丙 □ (C) 丁 □ (D) 戊 □

73. 2014 年 6 月「南方四島國家公園」正式掛牌成為台灣第九座國家公園，島上擁有台灣最古老的柱狀玄武岩地形，請問文中描述的是哪一個島嶼？□ (A) 甲 □ (B) 乙 □ (C) 丙 □ (D) 丁 □

74. 甲和乙因為我國重要戰略前線，因軍事管制而發展受限，請問兩者屬於何種類型的島嶼？□ (A) 大陸島 □ (B) 火山島 □ (C) 珊瑚礁島 □ (D) 人工島 □

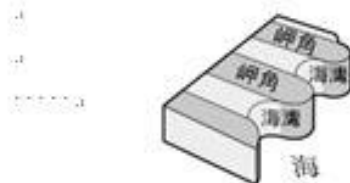
◎ 下圖為台灣海岸分段圖，請回答下列問題：



75. 希臘籍貨輪阿新瑪號在台灣附近海域擱淺，露出的漏油嚴重污染縱坑生態保護區的海岸，該區特殊的珊瑚礁海岸地形，導致油污清除困難，請問：漏油地點位在圖中哪一段？□ (A) 甲 □ (B) 乙 □ (C) 丙 □ (D) 丁 □

76. 「平原上河道分佈，沿海漁塭遍布，將種以挖牡蠣為主。」，請問上述內容位在圖中哪一段？□ (A) 甲 □ (B) 乙 □ (C) 丙 □ (D) 丁 □

77. 下圖為台灣某段海岸的示意圖，請問此海岸位在圖中哪一段？□ (A) 甲 □ (B) 乙 □ (C) 丙 □ (D) 丁 □



◎ 下圖為清康熙時台灣府的古地圖，請回答下列問題：



78. 圖中的「臺江內海」一帶是指下列哪一種海岸景觀？ (A) 沙丘 □ (B) 岬角 □ (C) 潟湖 □ (D) 沙洲 □

79. 圖中沿海一帶的「銀鏡」是指下列哪一種海岸景觀？ (A) 沙洲 □ (B) 潟湖 □ (C) 岬角 □ (D) 海灣 □

80. 該處海岸可能出現的重大問題是什麼？ (A) 泥沙淤積嚴重使船隻擱淺 □ (B) 溫度過高加速珊瑚礁白化 □ (C) 崎嶇凹凸的礁岩使船底受損 □ (D) 鹽度太高使貨物裝卸不便 □

試題結束