

單一選擇題 【41~60 每題 2 分；61~80 每題 3 分】

41. 政治權力不能集中在同一群人手中，以免權力被濫用，而侵害人民的權利。請問：會造成上述問題最主要的因素，可用哪一句名言形容？ (A)天生我材必有用 (B)羊毛出在羊身上 (C)絕對的權力，絕對的腐化 (D)兩權相害取其輕。
42. 美國政府體制的設計具有權力分立精神，由以下新聞中可觀察到哪兩權的互動關係？
(A)立法權、行政權 (B)司法權、立法權 (C)考試權、司法權 (D)監察權、考試權。

國際新聞

2020 年 10 月 21 日，美國國務院通知國會已批准三項可能向台灣出售武器的方案。其中一批武器包括 11 個 M142 高機動火箭炮系統 (HIMARS) 及相關設備，據估計價值為 4 億 3 千 610 萬美元。另一批武器包括 135 枚 AGM-84H 增程型防區外對地攻擊飛彈及相關設備，據估計價值逾 10 億美元。第三批武器包括六個用於 F-16 戰鬥機的 MS-110 偵查吊艙及相關設備，據估計價值為 3 億 6 千 720 萬美元。【國務院相當於台灣的外交部】

43. 右圖影集劇情影射某國的政治現況，但不會在台灣發生，這是因為台灣的中央政府體制採用何種做法？ (A)將行政權從監察權中獨立出來 (B)將考試權從行政權中獨立出來 (C)將立法權從司法權中獨立出來 (D)將監察權從立法權中獨立出來。




44. 以下對話中的弊端，是因為在三權分立體制中有何制度設計？

甲：「修法通過薪給和特別津貼的法案一通過，對大家都有好處。」
乙：「別人會不會說我們濫用職權？」
甲：「別擔心，反正沒有人可以監督我們。」

- (A)立法權兼行政權 (B)行政權兼考試權
(C)行政權兼監察權 (D)立法權兼監察權。

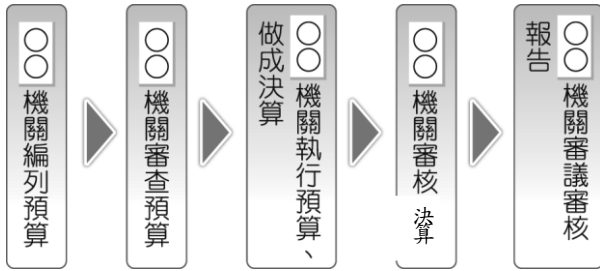
45. 右圖報導內容提到「法官審理任何案件，均必須依照法律規定，做出公正判決」，這最符合哪一項憲政精神的基本原則？(A)主權在民 (B)法治政治 (C)權力分立 (D)違憲審查制度。



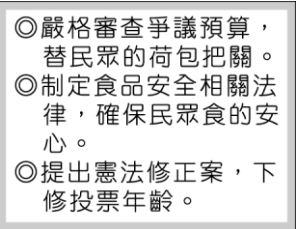
46. 安安¹的職位是由總統提名，經立法院同意後由總統任命。請問：安安的職位最可能為下列何者？ (A)財政部部長 (B)行政院院長 (C)地方法院法官 (D)審計長。
47. 美國總統、副總統選舉結束，年滿 78 歲的民主黨候選人，喬·拜登 (Joe Biden)，可能當選為第 46 任美國總統。請問：人民透過定期選舉制度，決定治理國家的人選，此為何種精神的表現？ (A)權力分立 (B)無限政府 (C)人治政治 (D)主權在民。
48. 珍珍通過國家考試，他即將要去的機關是負責主管公務人員的銓敘、撫卹、退休及其任免等事項。請問：珍珍考上的機關應該是下列何者？ (A)監察院 (B)考試院 (C)立法院 (D)行政院。
49. 新聞報導：衛福部臺北醫院今天再傳火警，3 樓手術室第七房因氣體柱設備失火，疏散 45 名病患、員工，事發之際，院方廣播全棟病患、家屬待命疏散，造成病患、住戶驚恐；立委吳琪銘、吳秉叡接獲民眾陳情，認為臺北醫院 2018 年因護理之家大火釀成 15 死悲劇，監察院也因院方未管制用電安全等原因將要求衛福部加強督導、改善，避免再釀傷亡。」上述情況是屬於監察院對行政院衛服部所行使的哪一項職權？(A)糾正權 (B)糾舉權 (C)同意權 (D)彈劾權。
50. 公民老師正在整理歸納中央政府組織各職權範圍，她流覽到以下新聞提要，當中提及的政府單位應與下列何者隸屬同一主管機關管轄？【新聞提要：衛生福利部疾病管制署將「嚴重特殊傳染性肺炎」列為法定傳染病。】(A)銓敘部 (B)審計部 (C)教育部 (D)考選部。
51. 東澤上網瀏覽司法院的網頁時，下列哪些單位會出現在網頁中？

- 甲. 桃園市地方法院 乙. 懲戒法院 (舊稱：公務員懲戒委員會) 丙. 法務部 丁. 憲法法庭 (A)甲乙丙 (B)乙丙丁 (C)甲丙丁 (D)甲乙丁。

52. 公民老師欲製作海報說明政府預算、決算的流程，但不小心將各機關的貼條混淆了，附圖中若由左至右依序貼上機關的名稱，下列何者正確？



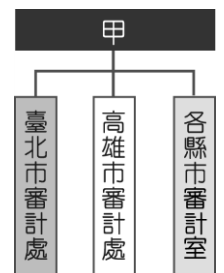
- (A)行政、立法、行政、審計、立法 (B)行政、審計、立法、行政、立法 (C)立法、行政、行政、審計、立法 (D)行政、審計、行政、審計、立法。
53. 右圖是某位參選人的政見。請根據政見內容判斷，這次選舉要選出的公職人員應為下列何者？(A)總統 (B)立法委員 (C)監察委員 (D)行政院院長。
54. 為了解五院的職權，公民老師請同學扮演五院院長，請問：哪位同學扮演的角色是「監察院院長」？ (A)甲生：本院擁有《憲法》修正案的提案權 (B)乙生：本院設有懲戒法院（舊稱：公務員懲戒委員會） (C)丙生：本院類似於古代御史一職可對違法或失職的公務人員提出彈劾 (D)丁生：本院類似古代科舉制度，辦理國家考試為國舉才。
55. 老師利用公民課時間，帶領同學到監察院參觀，並聽取介紹監察院職權的簡報，下列何者可能會出現在簡報的說明中？ (A)審理法律是否違反《憲法》 (B)糾正行政機關的不當施政 (C)代表人民質詢政府官員 (D)掌理公務人員的退休事宜。
56. 在 921 大地震緊急命令中，李登輝當時針對了財政、公有財產、區域管制、醫護與國軍調度、都市計劃、緊急徵用空地空房與車船或航空器、進用醫護人員、兵役等面向，做出了 11 項必要處置。另外，當時的緊急命令同時也包括針對囤積或哄抬物價等行為做出了處罰規定：「因本次災害而有妨害救災、囤積居奇、哄抬物價之行為者，處一年以上七年以下有期徒刑，得併科新臺幣五百萬元以下罰金」、「以詐欺、侵占、竊盜、恐嚇、搶奪、強盜或其他不正當之方法，取得賑災款項、物品或災民之財物者，按刑法或特別刑法之規定，加重其刑至二分之一。」請問有關上述緊急命令的規定何者正確？ (A)由行政院長發布 (B)總統府議決 (C)發布後由立法院十日內追認 (D)平時可以任意發布。
57. 我國中央政府的組織職權規定在哪一部法律內容中？(A)民法 (B)刑法 (C)中華民國憲法與憲法增修條文 (D)社會秩序維護法。
58. 若以下新聞的總統彈劾案發生在台灣，依照法定程序，中央政府五院之間的互動關係為何？



2019-09-25 外電新聞

眾議院提出對川普的兩項彈劾條文，第一項條文「濫權」、第二項條文「妨礙國會調查」，皆以過半以上票數過關，這使川普成為美國史上第三位遭到彈劾的總統，但最後因參議院表決未獲通過，而告終。

- (A)由立法院提出並通過，司法院負責審理 (B)由監察院通過，司法院負責審理 (C)由行政院提出，立法院負責表決 (D)由監察院提出，行政院負責表決。
59. 同學討論我國「不信任案」制度，下列哪位同學的認知最正確？ (A)小送：此不信任案是由監察院提出 (B)小琪：若不信任案通過，行政院院長即可自行解散立法院 (C)小量：未經總統同意，不信任案將無法成立 (D)小晨：未獲通過時，一年之內不得對同一行政院院長再提不信任案。
60. 新聞曾報導：「日本因加稅問題導致國會議員有意對內閣首相提出不信任案，最後可能導致國會解散。」若與我國不信任案做比較，日本國會議員與我國立法委員立場相同，則日本的內閣首相應類似於我國政府的哪一位官員？ (A)監察院院長 (B)考試院院長 (C)立法院院長 (D)行政院院長。
61. 右圖是有關我國政府組織的部分架構，甲單位所管轄之處、室，是其設置於各地辦理相關業務的機關。根據圖中內容判斷，甲單位應是隸屬於下列哪一個中央政府機關？(A)立法院 (B)行政院 (C)司法院 (D)監察院。



62. 小菜收到朋友傳來的一則line訊息，如下所示，(甲)、(乙)應為中央政府的哪兩個機關？

我參加(甲)舉辦的國家考試，順利考上了，馬上就要去(乙)下設的考選部上班囉！

(A)考試院、考試院 (B)行政院、立法院 (C)考試院、監察院 (D)行政院、司法院

63. 行政院為因應社會上日益嚴重的犯罪問題，舉辦跨領域的研討會，與會代表建議中央各院依其職權可採行的改善方案，如附表所示。根據表中內容判斷，哪一機關還具有「提出《憲法》修正案」的職權？

機關	改善方案
甲	加速審判，伸張社會正義
乙	修改法律，加重犯罪刑罰
丙	糾正辦案不力的警政機關
丁	招考維護治安的警察人員

(A)甲 (B)乙 (C)丙 (D)丁。

64. 下列有關總統與五院之職權敘述何者正確？ (A)總統

：負責國家政策的規劃與法案執行 (B)行政院：下轄普通法院及行政法院 (C)立法院：制定法律 (D)考試院：彈劾違法失職的公務員。

65. 2017年由土耳其總統主導的修憲公投通過，總統不再只有象徵性政治權力，而是握有實質行政權，且總統可以不用經過國會批准發布法令，並有權力解散國會。憲法法院雖然可以審判總統，但15席最高法院大法官有12人是由總統任命。有關土耳其修憲後的制度，下列敘述何者正確？ (A)總統權力缺乏監督，恐使人權無法受到完整保障。 (B)土耳其權力運作模式，符合憲政主義精神 (C)總統雖然權力集中，大法官仍可防止其濫權 (D)土耳其透過分權制衡的方式落實有限政府。

66. 同學們彼此分享至各國當交換學生的所見所聞，下列哪一位同學的觀察顯示該國政府體制具備民主憲政精神的「主權在民」原則？ (A)甲生：即將舉辦四年一次立委選舉，民眾紛紛替支持的候選人拉票 (B)乙生：政府公布醫療計畫，預備研發疫苗，以降低新冠肺炎威脅 (C)丙生：城市和鄉村建設均很完善，前往各個地方交通運輸十分便利 (D)丁生：國家設有十二年國民教育，符合就讀資格的學生可申請入學。

67. 2009年大法官會議解釋「限制明眼人不得從事按摩的法規」違憲，因此無效。若以民主國家的憲政精神理解上述案件，下列說明何者正確？ (A)有限政府的設計即是要求人民必須受到法律限制 (B)政府按法律裁決公共事務，此為權力分立原則 (C)違憲審查制度可確保政府施政符合《憲法》要求 (D)《憲法》無法約束人民，因國家主權在人民手中。

68. 下列表格為小可愛上課時所抄寫的筆記，因為一時不察，將某些部分寫錯而被老師扣分。請問：她是哪部分寫錯而被老師扣分？ (A)甲 (B)乙 (C)丙 (D)丁。

若(甲)行政院覺得(乙)立法院決議的議案窒礙難行時，得經(丙)行政院長核可，移請立法院覆議，由(丁)立法委員以投票方式決定，維持或否決原決議。

69. 承上題，請問上述的議案最可能是下列何者？ (A)預算案 (B)領土變更案 (C)憲法修正案 (D)不信任案。

70. 阿春對領隊和導遊工作非常有興趣，因此想報考相關執照，請問下圖是阿春到哪個政府網站搜尋的報名資訊？ (A)交通部觀光局 (B)銓敘部 (C)考選部 (D)外交部。

公告事項：

一、考試等級及類科：本考試均為普通考試，設4類科，分為：

(一)外語導遊人員(英語、日語、法語、德語、西班牙語、韓語、泰語、阿拉伯語、俄語、義大利語、越南語、印尼語、馬來語、土耳其語)。經外語導遊人員或華語導遊人員類科考試及格，領有各該類科考試及格證書，報考外語導遊人員類科考試者，第一試筆試外國語以外科目得予免試。

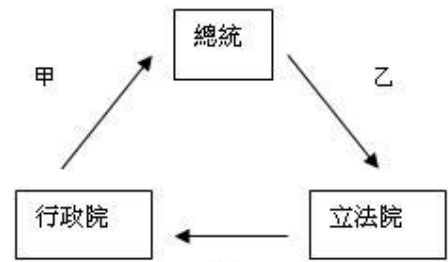
(二)華語導遊人員。

(三)外語領隊人員(英語、日語、法語、德語、西班牙語)。經外語領隊人員或華語領隊人員類科考試及格，領有各該類科考試及格證書，報考外語領隊人員類科考試者，筆試外國語以外科目得予免試。

(四)華語領隊人員。

71. 關於中央政府重要官員與其產生方式之配對，下列何者正確？(A)行政院院長：由總統提名，經立法院同意後任命 (B)監察委員：人民直接選舉 (C)大法官：總統任命 (D)考試委員：由總統提名，經立法院同意後任命。

72. 右圖是「不信任案與解散制度」圖，下列何者敘述「錯誤」？(A) 甲為行政院院長得在不信任案通過，並提出辭職後，呈請總統解散立法院 (B) 乙為總統主動解散國會 (C) 丙為立法院向行政院院長提出不信任案 (D) 圖中說明立法與行政的制衡關係。



73. 尾哥為了製作「我國中央政府組織」的相關報告，便上網搜尋資訊，而進入了某個網站，如右圖所示。請問：此網站最可能為哪一個中央政府單位的網站？(A) 行政院 (B) 監察院 (C) 立法院 (D) 司法院



74. 有關三權分立與五權分立的比較，下列何者是正確的？

	(A) 倡導者	(B) 學理背景	(C) 主張	(D) 發展
三權分立	孟德斯鳩	融合西方與中國的制度	主張行政、監察、立法三權分立	現代民主國家多將其理念納入憲法
五權分立	孫運璿	以中國古代的政治制度為背景	分別從行政、司法權中將考試、監察權獨立出來	成為中華民國中央政府組織形成的重要依據

75. 「權力使人腐化，絕對的權力，絕對的腐化」是哪一位學者所提出的政治理論？(A) 孫中山先生 (B) 艾克頓爵士 (C) 孟德斯鳩 (D) 蘇格拉底。
76. 以下是中央政府重要官員的自述，下列何者身分是「立法委員」？(A) 我是由總統直接任命，任期不一定，隨時都要準備找下份工作 (B) 我是由人民直接選出來的，只要能獲得選民支持，可以一直續任下去，沒有任期限制 (C) 我是由人民直接選出來的，最多一次可任職8年 (D) 我是由一樣職務的同僚互相選出來的。
77. 下列關於總統的職務敘述，何者「錯誤」？(A) 三軍統帥 (B) 直接任命外交部長 (C) 國家元首 (D) 公布法律。
78. 下表是山菜的公民課筆記，內容是立法院各項提案和議決方式，當天由於她精神不濟，因此議決方式抄錯，請幫他找出他抄錯的地方？

事由	提案者	議決方式
憲法修正案	立法院	(A) 公民投票複決
領土變更案	立法院	(B) 公民投票複決
正副總統彈劾案	立法院	(C) 公民投票決定
正副總統罷免案	立法院	(D) 公民投票決定

79. 將三權分立理念放入美國憲法中，奠定美國的憲政體制，且被稱為美國憲法之父的人是？(A) 麥迪遜 (B) 威爾遜 (C) 華盛頓 (D) 林肯。
80. 請問：文化部、科技部、農業部隸屬於中央政府哪一個單位？(A) 行政院 (B) 司法院 (C) 總統府 (D) 考試院

41	42	43	44	45	46	47	48	49	50
C	A	B	D	B	D	D	B	A	C
51	52	53	54	55	56	57	58	59	60
D	A	B	C	B	C	C	A	D	D
61	62	63	64	65	66	67	68	69	70
D	A	B	C	A	A	C	C	A	C
71	72	73	74	75	76	77	78	79	80
D	B	D	D	B	B	B	C	A	A