

桃園市立石門國中 109 學年度 第二學期 第二次段考 八年級 地理科試卷

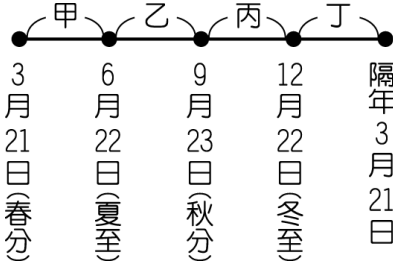
班級：\_\_\_\_\_ 座號：\_\_\_\_\_ 姓名：\_\_\_\_\_

※配分：01~20題-每題3分，21~40題-每題2分，共100分

01. 如附圖，日本擬在克拉地峽開鑿運河，往來於歐洲與亞洲的船隻約可縮短一千多公里的航程。若此一計畫實現，哪一個城市將大幅降低其重要性？  
(A)曼谷 (B)仰光 (C)新加坡 (D)胡志明市。



02. 印度的氣候類型受到季風轉換的影響而形成不同的氣候特色，共分為涼季、熱季、雨季三類。請問：這些季節的分布現象，若從年初1月開始一直到當年的12月年底，依各季節分布的時間加以排列，其先後順序應該為下列何者？  
(A)熱季、涼季、雨季、熱季 (B)熱季、雨季、涼季、熱季 (C)涼季、熱季、雨季、涼季 (D)涼季、雨季、熱季、涼季。
03. 陳先生想帶一家人到國外跨年，體驗異國風情，順便可以遠離臺北溼冷的天氣，享受陽光、藍天。請問：他參加下列哪一個旅行團最適合？  
(A)日本京都風情 (B)南韓冬季戀歌 (C)泰國美食天地 (D)北韓農村體驗。
04. 小黃放假時看到電視正在介紹印度之旅，尤其泰姬瑪哈陵的壯麗景觀更是令其嚮往。請問：在下列何時前往印度最為涼爽舒適？  
(A)4月 (B)6月 (C)9月 (D)1月。
05. 東南亞的氣候依其地理位置的不同，主要分為下列哪兩種氣候類型？(甲)熱帶雨林氣候 (乙)熱帶莽原氣候 (丙)熱帶季風氣候 (丁)熱帶沙漠氣候  
(A)甲乙 (B)甲丙 (C)乙丁 (D)丙丁。
06. 印度半島的地形區可分為：(甲)喜馬拉雅山 (乙)德干高原 (丙)印度大平原。若由北向南排列，其正確順序為何？  
(A)甲乙丙 (B)甲丙乙 (C)乙甲丙 (D)丙乙甲。
07. 根據史料記載，泉州港曾為世界大港，當時的商人常利用盛行風乘帆船南下，貿易的範圍包括東南亞、印度。附圖中哪一期間的盛行風最有利於南下貿易？  
(A)甲 (B)乙 (C)丙 (D)丁。



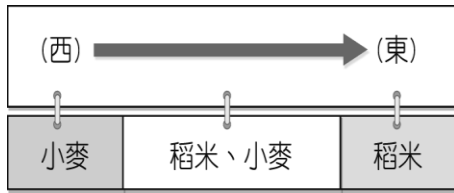
08. 新加坡位於麻六甲海峽東側出口，控制哪兩大海洋之間的交通往來？  
(A)大西洋、太平洋 (B)大西洋、印度洋 (C)太平洋、印度洋 (D)印度洋、北極海。
09. 位於恆河口的孟加拉及其比鄰的印度阿薩姆邦，兩區的降水量皆相當豐沛，但經濟作物卻不同，孟加拉以黃麻為主，阿薩姆邦則以茶葉為重。造成兩地區作物差異的主因為何？  
(A)地形 (B)交通 (C)勞工 (D)資金。
10. 中國籌畫在雲南縱谷區湄公河上游興建多座水庫，這些水庫興建完成後，將影響到下游的用水和生態環境。請問：下列哪一半島會受到影響？  
(A)中南半島 (B)印度半島 (C)朝鮮半島 (D)阿拉伯半島。
11. 臺灣由於近年來人口結構及產業轉型的因素影響，大量引進外籍移工。目前觀光局正推動如附圖所示的認證標章。請問：這項政策對於下列哪一國而言最為友善？  
(A)印尼 (B)越南 (C)菲律賓 (D)泰國。



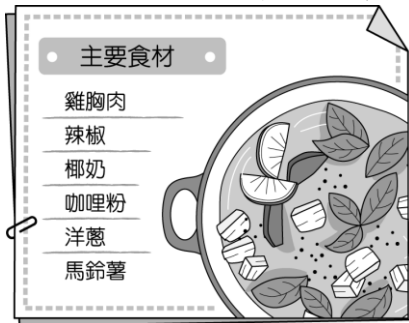
12. 2012年，某作物的世界前四大出口國為泰國、印尼、越南和馬來西亞。根據這些國家的自然環境特徵判斷，該作物最可能為下列何者？  
(A)小麥 (B)棉花 (C)橄欖 (D)橡膠。
13. 下列有關東南亞熱帶栽培業發展的有利條件中，何者不正確？  
(A)氣候溼熱 (B)勞工眾多 (C)海運便利 (D)氣候冷乾。
14. 白博士是一個地理學家，正在探勘世界各地的地理景觀。請問：他到南洋群島考察時，最有可能是要探勘下列哪一種地形景觀的特色？  
(A)冰河地形 (B)三角洲地形 (C)火山地形 (D)沙漠地形。
15. 東南亞的地理位置受到板塊活動的影響相當大，附圖為該地區的板塊分布圖，其中哪一組國家的地理位置皆處於高風險的地震帶上？  
(A)新加坡、馬來西亞 (B)菲律賓、印尼 (C)泰國、柬埔寨 (D)越南、菲律賓。



16. 印度當地主要提供糧食的印度大平原，作物分布如附圖所示，造成圖中這種作物分布差異的主要影響因素為何？  
 (A) 土壤種類 (B) 氣溫高低 (C) 降水量多寡 (D) 地形起伏。



17. 東南亞的豐盛美食已成為當地吸引觀光客的因素，如有「微笑國度」稱號的泰國，其泰式料理便融合各地美食特色，深受國人喜愛。附圖為某知名泰式料理餐廳招牌菜的主要食材介紹，由食材可知該料理受到哪一國的飲食文化影響較大？  
 (A) 日本 (B) 中國 (C) 南韓 (D) 印度。



18. 東協國家近年的經濟發展相當迅速。請問：東協國家發展工業的優勢為何？甲、便宜的勞動力；乙、豐富的資源；丙、完善的交通；丁、高科技技術  
 (A) 甲乙 (B) 乙丙 (C) 丙丁 (D) 甲丁。
19. 東協十國的宗教信仰多元複雜，除了國際貿易帶來不同的宗教外，也與曾受到西方列強的殖民統治有關，至今殖民歷史仍然影響當地發展。請問：下列哪項東南亞特色與殖民歷史最無關？

- (A) 大量人民到海外提供勞務 (B) 具有天主教信仰及英語文化 (C) 大都市多為鄰近港口的港埠型都市 (D) 發展大規模的熱帶栽培業，種植油棕、橡膠等經濟作物。
20. 印度的邦加羅爾軟體工業相當盛行，成為該國新興的產業活動。請問：印度發展軟體工業的有利條件主要為哪些？  
 (甲) 使用英語 (乙) 工資低廉 (丙) 社會平等 (丁) 海運便利  
 (A) 甲乙 (B) 丙丁 (C) 甲丁 (D) 乙丙。
21. 空氣中的水氣受到各種不同因素影響，當水氣抬升時氣溫會降低，容易造成降水，因此形成各種不同的降水型態。如位於印度東北部的阿薩姆邦年降水量可達 6,000mm。請問：該地區最主要的降水類型為下列何者？  
 (A) 對流雨 (B) 地形雨 (C) 鋒面雨 (D) 颱風雨。

22. 印度半島南端的馬爾地夫群島為著名的度假勝地，該地區最可能為下列何種性質的島群？  
 (A) 大陸島 (B) 火山島 (C) 陸連島 (D) 珊瑚礁島。

23. 附圖顯示 2011 年 9 月 18 日發生的強烈地震震央位置，除了建築物倒塌造成的人員傷亡外，由於某些因素影響使得搜救工作不易進行，導致死傷人數持續攀升。根據當地地形、氣候等環境條件判斷，造成上文中搜救困難的因素最可能為下列何者？  
 (A) 山區冰河快速消融以致山洪暴發 (B) 正值沙塵暴盛行時節，能見度低 (C) 引發大規模海嘯，海水淹沒災區 (D) 連日降雨，造成土石流掩埋道路。



24. 菲律賓位於熱帶海域，觀光資源非常豐富，因此旅遊業相當發達。約翰參加旅遊社舉辦的一日遊行程，便被安排到天主教堂參觀，中午還前往餐廳享用豐富的海鮮燉飯，飯後到購物中心血拚。請問上述行程特色和哪一國曾殖民當地的關係最大？  
 (A) 英國 (B) 荷蘭 (C) 西班牙 (D) 義大利。

25. 巴基斯坦位於印度半島的西北部，和印度之間因為宗教等諸多因素而紛爭不斷。請問：巴基斯坦的宗教信仰主要為下列何者？  
 (A) 佛教 (B) 印度教 (C) 基督教 (D) 伊斯蘭教。

26. 附圖為南亞地區圖，圖中哪一地區因地勢低窪，每逢颱風或豪雨，洪水為患？  
 (A) 甲 (B) 乙 (C) 丙 (D) 丁。



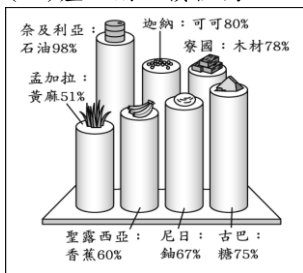
27. 東南亞各國塞車問題嚴重，以印尼為例，雅加達平均每天有 300 萬人進城上班，通勤時間是 1~2 小時。請問：當地可以興建何種交通系統，以減少城市內的塞車之苦？  
 (A) 鐵路 (B) 高鐵 (C) 捷運 (D) 飛機。

28. 為強化本區競爭力，東南亞國家透過結盟成立哪一個經濟組織，加強區域經濟合作與發展？  
 (A) 世界貿易組織 (B) 東南亞國家協會 (C) 北美自由貿易協定 (D) 歐盟。

29. 小真到曼谷旅行時，發現這裡四處可感受當地虔誠的宗教氛圍，除了金碧輝煌的寺廟之外，連到連鎖速食店都可看到附圖中麥當勞叔叔擺出不同於其他國家的姿勢。請問：曼谷當地主要的宗教為何？  
 (A) 基督教 (B) 伊斯蘭教 (C) 印度教 (D) 佛教。

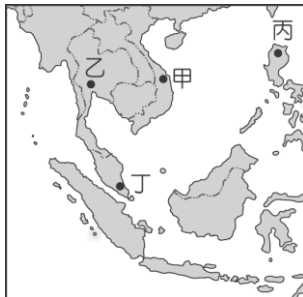


30. 附圖顯示某類型國家的單一產品，在某年占該國出口總額的百分比，如黃麻占孟加拉出口總額的51%。此類型的國家包括東南亞，最可能具有下列哪一項共同的特色？  
 (A)貿易巨額出超 (B)外匯收入不穩定 (C)經濟發展程度高 (D)產品附加價值高。



31. 「瓦度生長的地方有許多伊斯蘭教徒，他的父母以租田地種植水稻維生，但因為常鬧水災，農作收成很不穩定，家中十幾個兄弟姊妹常常三餐不繼。為了生活，瓦度和幾個較大的弟妹，八歲不到就和同村其他小孩到都市的紡織廠打工，貼補家用。」請問：瓦度最可能出生於下列哪一個國家？  
 (A)巴基斯坦 (B)越南 (C)孟加拉 (D)泰國。

32. 因為故鄉的文化與中國相近，阿水來到臺灣擔任看護的工作，適應相當良好。由於她聰明勤勞，很快學會中文，再加上故鄉過去的被殖民經驗，使得她還會說一些法文，她的雇主對她相當滿意，把她當作女兒般疼愛。阿水的故鄉可能位於附圖中的何處？  
 (A)甲 (B)乙 (C)丙 (D)丁。



33. 根據統計，印尼的海岸線長度排名世界第二位，比中國還長，其原因最可能為下列何者？  
 (A)海岸曲折 (B)島嶼數量眾多 (C)國土面積較大 (D)所處緯度較低。

34. 2016年設計的某地理桌遊，遊戲規則為比較各國的人口總數，玩家必須將抽到的卡牌，放入正確的位置，使其由大到小排列。若小芬抽到的是印度，她應該將該卡牌放置在附圖中的哪個位置才正確？  
 (A)甲 (B)乙 (C)丙 (D)丁。

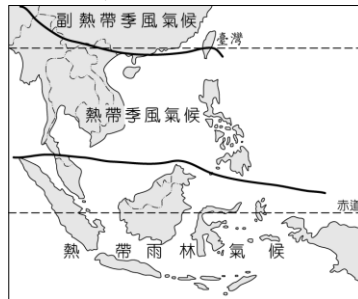


35. 印度半島在其悠久的歷史發展過程中，似乎總蒙上一層神祕的面紗。美國著名的作家馬克吐溫在19世紀末期到該處旅行，不禁嘆道：「印度，是奇觀之國。」而該地區的中部大平原更是孕育出豐富多變的文化。請問：印度半島上的中部大平原，主要是由下列哪一種作用所造成？  
 (A)斷層陷落 (B)風力侵蝕 (C)河川沖積 (D)板塊擠壓。

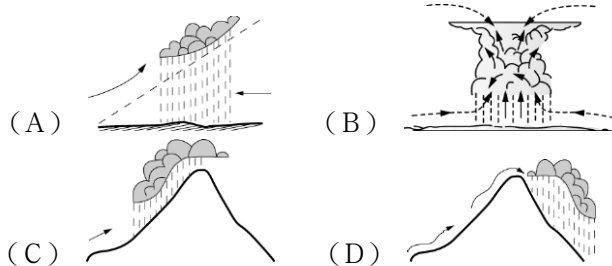
36. 「海盜」是指出沒於海洋，憑藉暴力威脅等手段，搶劫過往船隻財物的歹徒。他們的存在對海運安全構成極大威脅，是國際間相當令人頭痛的問題。附圖是某雜誌報導2004年1月到9月海盜最常出沒的區域圖，其中「x」代表該區曾發生海盜攻擊事件的地點。請問從領海主權的立場及海盜出沒的頻率來考量，下列哪些國家最需要透過國際合作打擊出沒在此地區的海盜？  
 (A)美國、日本 (B)荷蘭、西班牙 (C)越南、泰國、菲律賓 (D)新加坡、印尼、馬來西亞。



- (一)各地的氣候特色受自然環境的影響甚大。附圖為東南亞的氣候分區，請依圖中資料回答37-38題：



37. 東南亞依其地形特色分為中南半島及南洋群島兩個部分，下列哪一個南洋群島的國家位於熱帶季風氣候區？  
 (A)馬來西亞 (B)新加坡 (C)菲律賓 (D)汶萊。  
 38. 熱帶雨林氣候終年有雨，因此氣候最為溼潤，該地區降水類型應為下列何者？



- (二) 2004年的聖誕節，來自歐美國家的遊客前往這個熱情洋溢的印尼度假，然而在隔天，卻發生了9.2級的超級強烈地震，其強度相當於兩萬三千顆原子彈爆炸的能量，相當驚人。除了地震災情外，所引發的海嘯造成周圍國家的嚴重災情。由於震央位於旅遊熱門景點，再加上聖誕節的旅遊旺季，聚集了大量的本地居民和遊客，因此災情極為慘重。根據統計，這次大地震災情造成了近30萬人的死亡。請問：  
 39. 該地震發生時為當地時間（東經105度）上午7點58分55秒，隨即在上午8點10分左右掀起高度達30公尺的巨大海嘯，傷亡慘重。台灣（東經120度）若接收到訊息進行即時新聞插播海嘯消息，則播出的時間應該為何？  
 (A)上午6點30分 (B)上午7點30分 (C)上午8點30分 (D)上午9點30分。

40. 該次地震發生的震央位於印尼西部，其餘震可能影響範圍國家如附圖所示。其主要災情影響區域多位於哪一個海域的周邊地區？  
(A)印度洋 (B)太平洋 (C)大西洋 (D)地中海。

