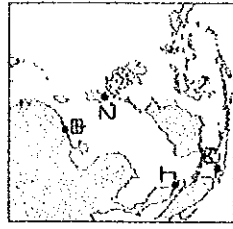


桃園市立石門國中111學年度第一學期第三次段考九年級社會歷史科考試卷

____年____班 座號：____ 姓名：____

一、選擇題 (1~20題，每題2分；21~30題，每題3分)：

- () 1. 啟蒙思潮的出現，是因學者認為可藉理性思考來解決人類社會的問題。請問理性原則的盛行，應該是與下列何項事件最有關？ (A) 宗教改革 (B) 文藝復興 (C) 科學革命 (D) 新航路的發現。
- () 2. 他生活在18世紀動盪不安的時代，他對當時歐洲的君主專制和天主教會的腐敗，極力進行批判和攻擊。請問上文所敘述的應該是下列何人？ (A) 孟德斯鳩 (B) 洛克 (C) 伏爾泰 (D) 狄德羅。
- () 3. 1492年10月12日是哥倫布發現新大陸的日子，美國將這天訂為「哥倫布日」。這天各地多有慶祝活動，但也常有許多美洲原住民對此表達抗議。請推斷美洲原住民抗議的主要原因為何？ (A) 首先發現新大陸的應該是哥白尼 (B) 美洲原住民發展出的馬雅文明，因此被摧毀 (C) 哥倫布使得中南美洲多倫為葡萄牙的殖民地 (D) 哥倫布為美洲原住民帶來了人口大量減少的问题。
- () 4. 「政府能夠代表國家行使統治權，是因為它經由合法的方式，獲得大多數人民的授權，而被統治的人民為了本身利益也願意與政府合作。若政府沒有獲得多數人民的授權，也不代表多數人民的利益，那麼人民應撤回自願的合作，絕不履行所謂的國民義務。但要嚴格遵守非暴力的原則，不可使用暴力反抗，要忍受暴力的打擊，自我犧牲，但絕不妥協，誓死反抗。」請問此文主要反映出啟蒙時代何種理念？ (A) 天賦人權 (B) 主權在民 (C) 言論自由 (D) 自由放任。
- () 5. 以下是一段17世紀臺灣地震的紀錄：「這年二月十五日發生強烈地震，這是我們入臺統治以來最大的地震，漢人店鋪倒塌二十多間，還有婦人及小孩被壓死，熱蘭遮城也多處龜裂。長官立刻向總部呈報，要求儘快從暹羅（今泰國）運木材來進行修復工作。」文中的「總部」，最可能位於附圖中甲、乙、丙、丁何處？ (A) 甲 (B) 乙 (C) 丙 (D) 丁。



- () 6. 過去曾有一位偉大的科學家說過：「如果說我看得比別人遠，那是因為我站在巨人的肩上。」而這位謙遜的科學家所提出之理論，奠定了近代物理學的基礎。請問這位科學家最有可能是下列何者？ (A) 伽利略 (B) 牛頓 (C) 笛卡兒 (D) 哥白尼。
- () 7. 「原本只是地圖上不起眼的小國家，但是因為位置正向西大西洋，王室中又有人率先推動航海技術的發展，因此首先發現通往東方的新航線，因此一度成為遼闊的殖民帝國」。請問上述的內容，應該是指哪一個國家？ (A) 英國 (B) 荷蘭 (C) 西班牙 (D) 葡萄牙。
- () 8. 15、16世紀時，英、法、西班牙和葡萄牙等國，以血統、語言、風俗習慣為基礎，強化人民對王室的認同，形成某種國家型態，之後這些國家多支持海外探險與貿易，逐漸成為海洋強權，開拓海外殖民地。請問上述的國家型態是指下列何者？ (A) 君主立憲國家 (B) 民主共和國家 (C) 共產極權國家 (D) 王權國家。
- () 9. 有關歐洲地理大發現對全世界造成的影響，下列敘述何者錯誤？ (A) 馬雅、印加、阿茲提克等古文明，因此皆亡於歐洲人之手 (B) 蕃薯、馬鈴薯等作物，由美洲傳出至其他地區 (C) 歷史發展的重心因此由地中海走向大西洋時代 (D) 非洲黑人因此被大量輸往美洲成為黑奴。
- () 10. 科學革命時代，學術上主張新的思考態度與研究方法。下列有關科學革命時期，學者和其論點的敘述，何者較為正確？ (A) 盧梭的名言「我思故我在」，強調凡事要懷疑 (B) 狄德羅整理此時期成就，編著有百科全書 (C) 笛卡兒提出演繹法，重視實驗 (D) 牛頓曾在比薩斜塔驗證自由落體的理論。
- () 11. 小丁讀完世界史，他歸納15世紀末歐洲人海外遠航的動機，請幫他檢查正確的有那些？ (甲) 遠航動機

起因於對東方香料、絲綢等貨物的需要(乙)當時歐亞貿易路線被義大利商人及鄂圖曼土耳其商人所掌控(丙)歐洲人海外發展亦是想藉機傳播伊斯蘭教的福音 (A)甲乙丙 (B)甲乙 (C)乙丙 (D)甲丙。

()12. 過去某相信地圖說的航海探險家，在太平洋行駛了90多天，船員因為缺乏糧食，只能以皮革、木屑和老鼠充饑。當船隊抵達今日的菲律賓時，卻又捲入內戰，這名航海家不幸死於當地。請問此人是誰？

(A)哥倫布 (B)達伽馬 (C)鄭和 (D)麥哲倫。

()13. 精彩的世足盃比賽剛剛落幕，從來自中南美洲球員的訪問中，可發現西班牙語是中南美洲大多數國家的官方語言，請問這是受到下列哪一項歷史發展的影響？ (A)亞歷山大東征 (B)蒙古西征 (C)十字軍東征 (D)歐洲國家海外擴張。

()14. 啟蒙運動的學說與現今政治觀念息息相關，例如《中華民國憲法》明文規定：「中華民國之主權屬於國民全體。」請問這種思想最有可能來自於哪一位歐洲學者的主張？ (A)盧梭 (B)洛克 (C)孟德斯鳩 (D)培根。

()15. 1月26日是澳洲國慶日，其實是過去首批英國人移居澳洲的日子。近年來，澳洲國慶日往往出現遊行抗議，希望更改國慶日日期。請問此抗議聲浪，主要是因不認同何事？ (A)澳洲自英國獨立 (B)澳洲淘金熱，吸引太多投資者 (C)英國在此地種植罌粟花，提煉成鴉片 (D)殖民起始日被訂為國慶日。

()16. 代表西班牙出航的航海家，發現新大陸距今已經超過五百年了。請問當時這位航海家抵達新大陸時，第一腳最有可能會踏在附圖中哪一區？ (A)戊 (B)己 (C)庚 (D)辛。



()17. 大雄的歷史報告中，整理了鄭和、達伽馬、哥倫布、麥哲倫等四人的生平事蹟，請問這篇報告的主題最適合的是何者？ (A)海外探險家介紹 (B)啟蒙思想家簡介 (C)科學時代的天才 (D)宗教改革的革命者。

()18. 這間公司被認為是世界上第一間跨國股份公司，靠著東方的香料、絲綢、瓷器等商品賺錢。全盛時期，擁有上百艘商船、軍艦、上萬名員工與軍隊，他們主要駐守在印尼巴達維亞、東印度群島和香料群島。請問這間公司的高階主管主要為哪一國人？ (A)荷蘭 (B)葡萄牙 (C)英國 (D)西班牙。

()19. 19世紀，蒙兀兒帝國最後一任皇帝巴哈杜爾沙二世被流放至緬甸，至此蒙兀兒帝國完全失去對其領土的統治，其領土後來則變為某國的殖民地。請問上述的某國應該是下列何者？ (A)西班牙 (B)英國 (C)印尼 (D)荷蘭。

()20. 現今許多國家都設有總統(總理)、國會和各級法院，三者權力相互制衡。孫中山先生參考歐美政治權力分立，設計採取行政、立法、司法、考試、監察互相制衡分立的體制。請問歐美這種政治體制，源自於何人的思想？ (A)盧梭 (B)洛克 (C)笛卡兒 (D)孟德斯鳩。

()21. 科學革命時代，伽利略證實了某學者的學說，但因與教會的觀點相衝突，使伽利略遭到軟禁多年。請問伽利略所證實的學說為下列何者？ (A)太陽為宇宙中心說 (B)月球為宇宙中心說 (C)地球為宇宙中心說 (D)三大運動定律。

()22. 歷史事實與歷史解釋不同，最大的差別在於歷史事實是呈現客觀的事實本身，而歷史解釋則是史學家對事實的主觀詮釋。就歐洲的科學革命而言，下列哪一項敘述屬於歷史解釋？ (A)牛頓提出萬有引力定律 (B)政府成立科學研究機構 (C)溫度計、顯微鏡等新工具問世 (D)這個時期被稱為天才的世紀。

()23. 丁爺爺有收集各國貨幣的興趣，他發現這枚由某間歐洲東印度公司在印度所發行的貨幣，正面為東印度

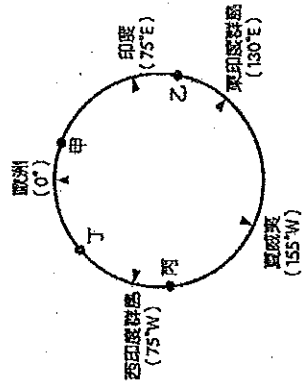
公司紋章，背面為當時上層社會普遍使用的波斯文。請問該硬幣背面使用的語言，為印度歷史哪一時期的痕跡？ (A)阿利安人統治印度時期 (B)英國殖民統治時期 (C)古印度地方割據時期 (D)蒙兀兒帝國統治時期。



- () 24. 「我不同意你的意見，但我以死捍衛你說話的權利。」這句話最早出現於伊夫林·碧翠思·霍爾的著作，可代表某位啟蒙學者的理念。請問這本著作應是以下列哪位學者為主題？ (A)洛克 (B)培根 (C)伏爾泰 (D)笛卡兒。
- () 25. 國外旅遊逐漸解封後，美夢想去看世界遺產-泰姬瑪哈陵，這座美輪美奐的建築是用白色大理石建造而成，是蒙兀兒王朝皇帝為了紀念妻子而興建的陵墓，被譽為穆斯林藝術的珍寶。請問美應該要飛往何地去參觀？ (A)英國 (B)中南美洲 (C)印度 (D)印尼。
- () 26. 歷史課的學習單，請同學發揮邏輯推理能力觀察，下表是依某一歷史概念所整理出的表格，若依相同概念填入空格內容，下列何者最適宜？ (A)西班牙—菲律賓 (B)英國—越南 (C)法國—緬甸 (D)朝鮮—日本。

關係	關係
英國—印度	葡萄牙—澳門
荷蘭—印尼	？

- () 27. 啟蒙運動的學說與現今政治觀念息息相關，例如《中華民國憲法》明文規定：「人民有集會及結社之自由。」以及「人民之生存權、工作權及財產權，應予保障。」請問這種思想，最有可能來自於哪一位歐洲學者的主張？ (A)盧梭 (B)洛克 (C)孟德斯鳩 (D)笛卡兒。
- () 28. 15世紀至18世紀，歐洲探險家探尋通往亞洲的新航路，附圖為部分歐洲探險家到達地區的示意圖，其標示方式僅依照這些地區的經度位置排列，而未考慮其緯度位置。狄亞士在1487年的探險旅程中，到達某洲的最南端，若要在圖中呈現，應標示於何處？ (A)甲 (B)乙 (C)丙 (D)丁。



- () 29. 附表為1514至1800年，黑奴被販運到主要三大洲的統計數據。試分析此表格資料，判斷乙最可能是下列哪一洲？ (A)非洲 (B)大洋洲 (C)美洲 (D)歐洲。

洲別	甲	乙	丙
時間			
1514~1600年	652	58,754	168
1601~1700年	4,160	645,460	847
1701~1800年	4,515	4,569,975	2,658

- () 30. 啟蒙運動時期，學者所提出的主張、學說，下列敘述正確的有幾項？ (A)五項 (B)四項 (C)三項 (D)二項。

學者	主張、學說
洛克	主權在民
盧梭	天賦人權

伏爾泰	抨擊政府與教會的權威及腐敗
孟德斯鳩	五權分立
狄德羅	邀集學者合編百科全書

二、題組(31題~40題，每題3分)

(一)暢銷小說《達文西密碼》講述要破解「倫敦騎士身後為教皇安葬，功業赫赫卻觸怒聖意，所覓寶球應在騎士墓上，紅顏結胎道明其中祕密。」這段文字密碼後，才能打開藏密筒取得線索，最後主角們才發現原來答案是證明萬有引力的蘋果。請問：

() 31. 上述文中所提到的萬有引力-蘋果，最有可能會導引主角們去查閱哪位學者的相關事蹟？ (A)亞美利哥 (B)伽利略 (C)哥白尼 (D)牛頓。

() 32. 承上題，此位學者所處的時代，當時許多政府皆鼓勵科學研究。下列何者不是當時的狀況？ (A)法國成立法蘭西科學院 (B)科學研究嚴格遵循教會的規條 (C)許多新工具的發明 (D)歸納法和演繹法的使用。

(二)有一位英國的學者提出：「人們最初生活在自由狀態下，並沒有政府組織，而且每個人皆有三種天賦人權……但久而久之，人們發覺在自由狀態下，大家都過分強調自己的權利，導致混亂和不安，於是經由大家的同意，設立政府，並賦予政府若干權力……但後來政府濫權，出現暴政，故此時人們有權去推翻它。」請問：

() 33. 依據上述言論判斷，此位學者應該是下列何人？ (A)孟德斯鳩 (B)培根 (C)洛克 (D)盧梭。

() 34. 文中提到的三種天賦人權，並不包括下列哪一項權利？ (A)自由權 (B)參政權 (C)生命權 (D)財產權。

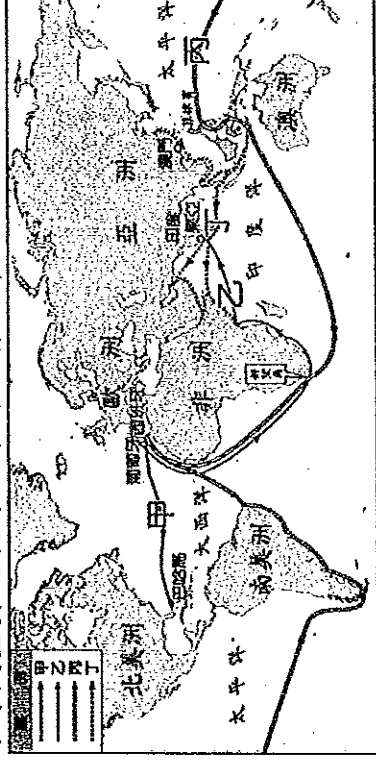
(三)歐洲在1776年出版的一本經濟學著作中，作者認為經濟活動會循著自然的規律，政府毋需干涉，只需要維持良好的經濟環境，讓個人去追求自己的利益。請回答下列問題：

() 35. 上述這本經濟學著作，最有可能是下列何者？ (A)《社會契約論》 (B)《民約論》 (C)《國富論》 (D)《法意》。

() 36. 承上題，這本經濟學著作的作者為何人？ (A)洛克 (B)亞當斯密 (C)狄德羅 (D)笛卡兒。

() 37. 承第35題，此本著作中，所提出的經濟理論為何？ (A)自由放任 (B)人文主義 (C)歸納、演繹法的應用 (D)理性原則。

(四)下圖為15~16世紀，大航海時代重要的航行路線圖。請根據此圖回答下列問題：



() 38. 圖中的丁路線是唯一從中國沿海出發的，關於此路線的敘述，下列何者正確？ (A)是葡萄牙占領澳門後所開創的路線 (B)此次航行得到西班牙王室的支持 (C)與路線乙一樣，皆到過非洲東岸 (D)首次航行此路線的船隊是由達伽馬所率領。

() 39. 甲路線是一條白銀之路，發現該路線的國家後來成為世界鉅富。關於航行甲路線的船隊，何者敘述正確？ (A)此船隊後來向西到達了印度 (B)其重大的意義是發現了美洲新大陸 (C)此船隊是由達伽馬所率領 (D)此船隊完成了航行地球一周的壯舉。

() 40. 關於丙路線的發展，下列何者正確？ (A)船隊橫渡太平洋，最後回到西班牙 (B)是哥白尼帶領船員完成環繞世界一周的路線 (C)是由荷蘭出發，繞過非洲東行 (D)此路線未經過美洲大陸。