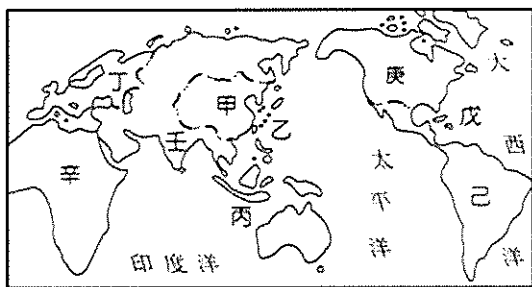


一、選擇題(1~20題，每題2分；21~31題，每題3分。):

- () 1. 有關歐洲人往海上發展，尋找前往東方的新航路，進入大航海時代，對全世界所造成的影響，下列敘述何者正確？ (A)馬雅、印加、阿茲提克等古文明，因此皆亡於歐洲人之手 (B)稻米、馬鈴薯等作物，由美洲傳出至其他地區 (C)歷史發展的重心因此由地中海逐漸轉移至大西洋時代 (D)非洲黑人因此被大量輸往至歐洲成為黑奴。
- () 2. 小雅讀完世界史，她歸納 15 世紀末歐洲人海外遠航的背景與動機，請幫她找出正確的有那些？ (甲)遠航動機起因於對東方香料、絲綢等商品的需求(乙)當時歐亞貿易路線被義大利商人及鄂圖曼土耳其商人所掌控 (丙)歐洲人海外發展亦是想藉機傳播伊斯蘭教的福音(丁)王室支持 (A)甲乙丙丁 (B)甲乙丁 (C)乙丙丁 (D)甲丙。
- () 3. 過去某位相信地圓說的航海探險家，在太平洋行駛了 90 多天，船員因為缺乏糧食，只能以皮革、木屑和老鼠充饑。當船隊抵達今日的菲律賓時，卻又捲入內戰，這名航海家不幸死於當地。請問此人是誰？ (A)哥倫布 (B)達伽馬 (C)狄亞士 (D)麥哲倫。
- () 4. 來自中南美洲阿根廷的球星梅西被譽為當代最偉大的足球員之一，而從這些來自中南美洲球員的訪問中，可發現西班牙語是中南美洲大多數國家的官方語言，請問這是受到下列哪一項歷史發展的影響？ (A)亞歷山大東征 (B)蒙古西征 (C)歐洲國家海外擴張 (D)十字軍戰爭。
- () 5. 英國艦隊於 1788 年 1 月 26 日抵達雪梨灣，在澳洲土地首次升上英國國旗，當天被視為澳洲殖民地的誕生日，也就是澳洲國慶日。近年來，澳洲國慶日卻往往出現遊行抗議，希望更改國慶日日期。請問此抗議聲浪，主要是因不認同何事？ (A)英國在澳洲建立蒙兀兒帝國進行統治 (B)澳洲淘金熱，吸引太多投資者到來 (C)英國在此地種植棉花，提供殖民母國紡織業所需 (D)殖民起始日被訂為國慶日。
- () 6. 15 世紀末，代表西班牙出航的一位航海家，他以為自己已經航行到了亞洲的印度，事實上他是發現了「新大陸」。請問當時這位航海家抵達新大陸時，第一腳最有可能會踏在附圖中哪一區？ (A)戊 (B)壬 (C)庚 (D)辛。




- () 7. 這間公司被認為是世界上第一間跨國股份公司，靠著買賣東方的香料、絲綢、瓷器等商品賺錢。全盛時期，擁有上百艘商船、軍艦、上萬名員工與軍隊，他們主要駐守在印尼巴達維亞、東印度群島和香料群島。請問這間公司最可能隸屬於哪一國家？ (A)荷蘭 (B)印度 (C)法國 (D)西班牙。
- () 8. 自英國人 18 世紀移入南半球某地以來，在殖民政策影響下，當地已有約 130 種原住民語絕跡。附圖為 2019 年，當地政府發行的一款硬幣，幣面列出當地 14 種原住民語言，下方設計一處留白，代表其他已絕跡的 130 種原住民語言。政府希望藉由此硬幣的發行，提醒人民保存、維護和活化原住民語的重要性。請問造成原住民語言消失的現象，與下列何者最相關？ (A)南島語族的消失 (B)大航海時代的興起 (C)鄭和七次下西洋 (D)伊斯蘭教的擴張。



- () 9. 科學革命時代，學術上主張許多新的思考態度與研究方法。下列有關科學革命時期，學者和其論點的敘述，何者正確？ (A)牛頓的名言「我思故我在」，強調凡事要懷疑 (B)狄德羅整理此時期成就，編著有《百科全書》 (C)培根提出演繹法，重視實驗 (D)伽利略曾驗證哥白尼提出關於天文學的理論是正確的。
- () 10. 科學革命時代，伽利略因證實了之前某學者的學說，與教會的觀點相衝突，使得伽利略遭到教會軟禁多年。請問伽利略所證實的學說為下列何者？ (A)太陽為宇宙中心說 (B)行星運行軌道定律 (C)地球為宇宙中心 (D)槓桿原理。
- () 11. 歷史事實與歷史解釋不同，最大的差別在於歷史事實是客觀的呈現事實本身，而歷史解釋則是史學家對史

實主觀的詮釋。就歐洲的科學革命而言，下列哪一項敘述屬於歷史解釋？ (A)牛頓提出三大運動定律 (B)望遠鏡與溫度計等工具的發明、改良 (C)法國成立法蘭西科學院做為科學研究機構 (D)這個時期被稱為天才的世紀。

- ()12. 19世紀，蒙兀兒帝國最後一任皇帝巴哈杜爾沙二世被流放至緬甸，至此蒙兀兒帝國完全失去對其領土的統治，其領土後來則變為某國的殖民地。請問上述的某國應該是下列何者？ (A)西班牙 (B)英國 (C)印尼 (D)荷蘭。
- ()13. 附圖是印度北部著名景點泰姬瑪哈陵，被稱為世界七大景觀之一，甚至被譽為世界最美麗的建築。它是蒙兀兒帝國君主沙賈汗為了紀念他的妻子慕塔芝·瑪哈而建。外觀色調單純，有醒目的圓形屋頂，主建築外有高聳叫拜樓（柱子）建築樣式。請問這是哪一宗教的建築特色？ (A)基督教 (B)佛教 (C)猶太教 (D)伊斯蘭教。



- ()14. 他生活在18世紀的歐洲，出身律師家庭，以機智、談諧、明快的文筆和反應著稱，他曾對當時歐洲的君主專制和天主教會的腐敗，極力進行批判和攻擊。請問上文所敘述的應該是下列何人？ (A)亞當斯密 (B)洛克 (C)伏爾泰 (D)盧梭。
- ()15. 關於啟蒙運動時期，學者所提出的主張、學說，下列敘述正確的是何者？ (A)甲 (B)乙 (C)丙 (D)丁。

學者	主張、學說
(甲)伏爾泰	經濟採取自由放任
(乙)盧梭	五權分立
(丙)洛克	天賦人權
(丁)孟德斯鳩	主權在民

- ()16. 啟蒙運動的學說與現今政治觀念息息相關，公民課老師講到《中華民國憲法》第二條明文規定：「中華民國之主權屬於國民全體。」讓小明不禁想到，這種思想最可能來自於啟蒙時期哪一位歐洲學者的主張？ (A)盧梭 (B)洛克 (C)亞當斯密 (D)笛卡兒。
- ()17. 現今許多國家都設有總統（總理）、國會和各級法院，三者權力相互制衡的政治制度。孫中山先生也參考歐美三者權力分立架構，設計採取行政、立法、司法、考試、監察互相制衡分立的體制，目前中華民國便採取五權分立的制度。請問上述歐美這種政治體制，源自於哪一位學者的思想？ (A)培根 (B)洛克 (C)馬克思 (D)孟德斯鳩。
- ()18. 小美閱讀科學家的傳記，發現除了能得到許多科學知識，也從當中學到許多人生的智慧，例如她閱讀到過去曾有一位偉大的科學家說過：「如果說我看得比別人遠，那是因為我站在巨人的肩上。」而這位科學家所提出之理論，奠定了近代物理學的基礎。請問這位科學家最有可能是下列何者？ (A)伽利略 (B)牛頓 (C)哥倫布 (D)哥白尼。
- ()19. 公民課時，老師在講解經濟學的內容，小奇聽到很多經濟上的專有名詞和概念，覺得對日常生活很有幫助。這當中有位學者的學說，他覺得最適合現在的國家採用。這位學者主張自由貿易並不需要政府過多的注意與限制，競爭愈為自由與普遍，則愈有利於社會，也能使國家得到充分的發展與繁榮。請問這位學者是誰？ (A)亞當斯密 (B)狄德羅 (C)瓦特 (D)馬克思。
- ()20. 班會課討論班遊的事情，兩位同學因為意見不同差點發生衝突，還好老師及時制止，並且向同學宣導「我不同意你的意見，但我以死捍衛你說話的權利。」這項觀念，化解了一場爭端。其實上述這兩句話，最早出現於伊夫林·碧翠思·霍爾的著作，可充分代表某位啟蒙學者的理念。請問這位啟蒙學者應是下列何者？ (A)盧梭 (B)培根 (C)伏爾泰 (D)笛卡兒。
- ()21. 清朝中葉後，面對與英國多次的戰爭，皆居於下風，甚至簽訂不平等條約，開啟了近代中國悲慘的命運。請問在鴉片戰爭、英法聯軍等戰役中，英國軍隊之所以能船堅炮利，和下列哪一歷史因素最相關？ (A)宗教改革的影響 (B)工業革命的成果 (C)啟蒙運動的盛行 (D)海外擴張的結果。
- ()22. 小光在影響世界百大歷史人物的書籍中，看到如下的附圖在解釋某位學者的主張。請問此內容最有可能是介紹哪一位學者？ (A)馬克思 (B)瓦特 (C)狄德羅 (D)亞當斯密。

我認為商品的價值來自工人的勞動，因此我們應該要推翻資本家，建立一個財產共享的社會。



- ()23. 附圖描述工業革命時期，資本家往往獲得財富，過著奢華的生活，而底層礦工則辛苦工作、掙扎求生。這樣不公平的現象產生許多對立與問題，因此有許多學者提出學說、主張，試圖解決此種社會狀況。請問這促使下列哪一學說的興起？ (A)自由放任的經濟主張 (B)社會主義 (C)科學主義 (D)人文主義。



- ()24. 當年第一批進入中南美洲的傳教士，留下許多珍貴的歷史記載，如附圖文字。其實當時中南美洲的原住民除了要面對各種外來疾病威脅外，還需要面對何種狀況？

這些土著們似乎對於上帝是否存在感到困惑，上帝似乎永遠與白皮膚的人站在一起，白皮膚的人幾乎不會生病，而土著們卻成群成群的死亡。白皮膚的人數雖少，但卻能輕易的讓上位者宣告投降，也因為如此，對我們的傳教事業有著很大的助益，他們幾乎毫無抵抗的就改信了我們的宗教。

(A)被迫學習西班牙文 (B)被逼迫開採石油 (C)被販售到非洲為奴 (D)被迫延續馬雅文明。

- ()25. 小亮暑假時要參加探訪美洲馬雅文明的旅行團，請問他最有可能去附圖中的哪一處？ (A)甲 (B)乙 (C)丙 (D)丁。



- ()26. 18世紀，某位法國思想家邀集百餘位學者合編《百科全書》，這是一本知識匯集的辭典，開啟日後這類型百科全書著作的風氣。請問這位邀集學者合編《百科全書》的思想家是下列何人？ (A)馬克思 (B)羅耀拉 (C)狄德羅 (D)笛卡兒。
- ()27. 某位學者懷疑傳統知識的正確性，主張知識可藉由推理而得，不必仰賴經驗歸納。請參考附圖，判斷此學者所提的知識方法為何？ (A)辯證法 (B)歸納法 (C)演繹法 (D)刪去法。



- ()28. 大航海時代，歐洲國家除了貿易外，也積極尋求海外傳教的機會，更一度到達東亞的中國，為使傳教活動能順利進入中國，歐洲傳教士將何者介紹到中國，以獲得知識分子的支持？ (A)傳入古蘭經 (B)引進西方的香料 (C)傳授西方繪畫技巧 (D)介紹西學。
- ()29. 近代歐洲發生許多重要事件，不只影響歐洲人的生活，更是改變了全世界發展的走向。請將下列幾件大事，按照時間發生的先後順序排列(甲)宗教改革(乙)文藝復興(丙)工業革命(丁)科學革命。 (A)甲乙丙丁 (B)乙甲丙丁 (C)乙甲丁丙 (D)丙丁甲乙。
- ()30. 亨利是東印度公司的船員，他搭乘船隻從總部印尼巴達維亞抵達「甲」港口後，卸下香料，裝上當地生產的鹿皮、蔗糖，以及來自中國的絲綢、瓷器等貨物，接著繼續航行至日本，在日本把商品賣掉換取白銀。請問文中的「甲」港口，最可能是下列何者？ (A)大員 (B)長崎 (C)澳門 (D)麻六甲。
- ()31. 工業革命奠定許多歐洲國家富強的基礎，但這些國家為了尋求更多的原料與市場，積極向外發展，從事什

麼行為，更引發彼此之間的競爭與利益衝突？ (A)設立科學研究機構 (B)將美洲新作物傳播至歐亞 (C)將淘金熱潮傳至歐亞 (D)爭奪海外殖民地。

二、題組(32~40 題，每題 3 分。)

(一)暢銷小說《達文西密碼》講述要破解「倫敦騎士身後為教皇安葬，功業赫赫卻觸怒聖意，所覓寶球應在騎士墓上，紅顏結胎道明其中祕密。」這段文字密碼後，才能打開藏密筒取得線索，最後主角們才發現原來答案是證明萬有引力的蘋果。請根據上述，回答下列問題：


- () 32. 上述文中所提到的「萬有引力-蘋果」，最有可能會引導主角們去查閱哪一件相關史事？ (A)宗教改革 (B)啟蒙運動 (C)大航海時代 (D)科學革命。
- () 33. 承上題，這件相關史事的時代，當時許多政府皆鼓勵學者從事研究。下列何者不是當時的狀況？ (A)法國成立法蘭西科學院 (B)科學研究嚴格遵循天主教教會的觀念進行 (C)許多新工具的發明 (D)新知識方法的運用。

(二)下圖為 15~16 世紀，大航海時代重要的航行路線圖。請根據此圖回答下列問題：



- () 34. 圖中的丁路線是唯一從中國沿海出發的，關於此路線的敘述，下列何者正確？ (A)是西班牙占領馬尼拉後所開創的路線 (B)此次航行得到葡萄牙王室的支持 (C)與路線乙一樣，皆到過非洲東岸 (D)首次航行此路線的船隊是由麥哲倫所率領。
- () 35. 甲路線是一條白銀之路，也代表歐洲人首次發現美洲新大陸，而發現該路線的國家後來更成為世界鉅富。關於航行甲路線的船隊，何者敘述正確？ (A)此船隊是由狄亞士所率領 (B)此船隊是由哥倫布所率領 (C)此船隊後來向西到達了印度 (D)此船隊完成了航行地球一周的壯舉。
- () 36. 關於丙路線的發展，下列何者正確？ (A)船隊橫渡太平洋，最後回到西班牙 (B)是哥白尼帶領船員完成環繞世界一周的路線 (C)是由荷蘭出發，繞過非洲東行 (D)此路線未經過美洲大陸。

(三)空氣汙染是當代世界嚴重的問題，過去的英國也曾深受空汙的危害，主要是因為當時人們開始以煤作為驅動蒸汽機，應用於各行各業中，以及家庭也使用煤作為暖爐、廚具的燃料，使空氣汙染物形成如附圖煙霧瀰漫的景觀。請根據上述，回答下列問題：



- () 37. 上文中所描述英國的城市現象，與下列何者的關係最密切？ (A)工業革命 (B)科學革命 (C)文藝復興 (D)宗教改革。
- () 38. 上文中提到關於蒸汽機應用於各行各業，請問英國最早使用蒸汽機的行業是下列何者？ (A)文教業 (B)運輸業 (C)交通業 (D)紡織業。

(四)小丁寒假要出國旅遊，興奮地準備相關物品，也迫不及待地上網蒐集旅程的相關資料。下列是他要去參觀的其中一個景點資料，請回答下列問題：

「馬丘比丘」是印加文明的遺址，是印加帝國的統治者在 15 世紀建造，此遺址高聳在海拔 2430 公尺的山脊上，由於獨特的位置和發現時間較晚，馬丘比丘成了印加帝國最為人熟悉的標誌，它通常被稱為「印加失落之城」。

- () 39. 要參觀尋訪文中的遺址，代表小丁的旅遊行程應會前往何處？ (A)義大利 (B)英國 (C)秘魯 (D)法國。
- () 40. 文中描述印加文明的消失，與下列哪一國家的入侵有關？ (A)葡萄牙 (B)英國 (C)法國 (D)西班牙。