

單一選擇題：1-20 題每題 3 分；21-40 題每題 2 分

- () 1. 下列有關國際貿易的敘述，何者錯誤？(A) 國際貿易也是一種國與國之間的專業分工現象 (B) 我國對日本有貿易逆差，是代表我國對日本的進口總值 > 出口總值 (C) 美金對新台幣匯率由 1:32 變為 1:30，表示新臺幣升值，美金貶值 (D) 新臺幣升值，美金貶值時，有利於臺灣出口商進行出口到美國。
- () 2. 小智帶著 200 元到超市幫媽媽買了一罐韓式辣醬，他看見辣醬上的定價為 188 元，在結帳後趕緊拿回家給媽媽煮他最愛的辣炒年糕；而媽媽為感謝他的幫忙，就將找回的 12 元送給小智當零用錢，而小智也很高興的將錢存到自己的存錢筒中，當成是自己未來買遊戲卡的基金。請問：根據上文，下列敘述何者錯誤？(A) 小智在這裡是擔任商品市場的供給者 (B) 購買辣醬的行為是一種消費行為 (C) 辣醬的定價 188 元，「元」是一種貨幣計價的標準 (D) 小智願意將 12 元存起來，可以看出貨幣是具有價值儲存的功能。
- () 3. 小新為石門國中 909 班班長，除了每天早上要到辦公室拿複習卷發給同學們測驗，完成老師們交辦的事項，還不時要去集合，回來宣達學校提醒的事情，小新的工作任務與下列何者屬於同類型的勞動成果？(A) 農夫種植的農作物 (B) 理髮師的剪髮服務 (C) 便利商店裡的鮮乳 (D) 早餐店裡的三明治。
- () 4. 柯南是一名大學二年級學生，利用課餘的時間至飲料店工作，店長透過監視器發現他與同事一起工作時表現得還算勤奮，但無人監督時就開始打混摸魚。請問：柯南的行為屬於下列何者？(A) 缺乏工作倫理與職業道德 (B) 與資方共創雙贏局面 (C) 為雇主提供優質的勞動成果 (D) 有高度生產力與向心力。
- () 5. 下列有關我國「中央銀行」的敘述，何者錯誤？(A) 保管國家的外匯與黃金 (B) 提供人民存放款服務 (C) 控制發行國家貨幣數量 (D) 輔助各種金融機構的穩定營運
- () 6. 阿信將老爸給他額度十萬元的信用卡附卡刷爆了，卻無力償還。老爸在又氣又無奈下，只好替孩子償還並取消附卡。關於此事件，下列敘述何者正確？(A) 信用卡又稱塑膠貨幣，方便交易 (B) 信用卡能發揮貨幣清償債務的功能 (C) 信用卡可以購物，所以是一種貨幣 (D) 以信用卡消費，完全不能延遲支付帳款，否則會被取消卡片。
- () 7. 花花去百貨公司時，看到一個標價 70000 元的名牌包。這顯示出貨幣的哪項功能？(A) 交易媒介 (B) 債務清償 (C) 價值衡量 (D) 價值儲存
- () 8. 所謂「失業者」的定義指的是下列何者？(A) 除了受僱者以外的所有人 (B) 有工作能力且有在尋找工作，卻還找不到工作的人 (C) 沒有在工作的所有人 (D) 在學學生的代名詞。
- () 9. 右方附圖為勞動參與的示例，從圖中內容判斷，下列敘述何者正確？(A) 甲的勞動成果為有形的財貨 (B) 乙的勞動成果為無形的勞務 (C) 甲、乙皆屬於勞動成果 (D) 甲、乙皆為無酬勞動。
-
- () 10. 陽光基金會近年積極推動臉平權，附圖為相關新聞報導。請問：此報導中雇主的行為屬於下列何者？(A) 性別歧視 (B) 訂立不利的勞動契約 (C) 犧牲受僱者的健康 (D) 以外表評斷受僱者能力。
-
- () 11. 我國西部許多沿海鄉鎮是養蚵的大本營，因此衍生了許多工作機會。有業者貼出徵人剝蚵的告示，寫著「徵有緣人，剝蚵人才，早班、中班、晚班和假日班，時薪 100 元」。下列哪位網友對此事件的評論較「具有保障市場勞動」的觀念？(A) 小君：根據契約自由原則，時薪可以隨雇主自訂 (B) 阿香：就是緣份的問題，不滿意可不去 (C) 小丁：身為國二生，我可以應徵假日班 (D) 小美：時薪的約定也是要遵守法令基本工資規定。
- () 12. 當一國的物價持續以大幅度上漲，通常會引發下列何種現象？(甲) 貨幣價值貶低 (乙) 一般人願意及有能力拿貨幣來儲蓄 (丙) 收入固定的人，生活水準下降 (丁) 同樣金額的貨幣可以買到的物品愈來愈少。正確者為：(A) 甲乙丙 (B) 甲乙丁 (C) 甲丙丁 (D) 乙丙丁。

- () 24. 右方附圖為 2023 年某徵才網站的內容，哪一標示處屬於就業歧視？
 (A) 甲 (B) 乙 (C) 丙 (D) 丁。
- () 25. 國際勞工組織希望藉由「世界無童工日」的設立讓童工問題漸漸獲得改善。請問：下列何者的做法不適當？
 (A) 民眾：加入反童工民間團體宣揚理念
 (B) 雇主：不得讓童工從事有危險性的工作
 (C) 政府：透過立法保障童工權益
 (D) 雇主：協助貧困的童工於半夜工作以增加收入。

百貨公司電梯服務員 我要應徵 ★儲存工作

◎ 工作內容

1. 對百貨服務工作有興趣。(甲)
2. 可配合彈性排班需求。(乙)
3. 面帶笑容，殷勤款待來訪顧客。

◎ 招募對象：限25歲以下女性(丙)

◎ 職位類別：百貨服務生、百貨工作人員

◎ 工作待遇：時薪180/小時(丁)

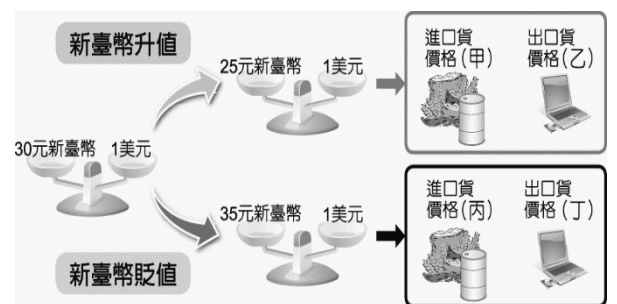
◎ 工作性質：兼職

◎ 上班地點：○○市○○區○○路○○號

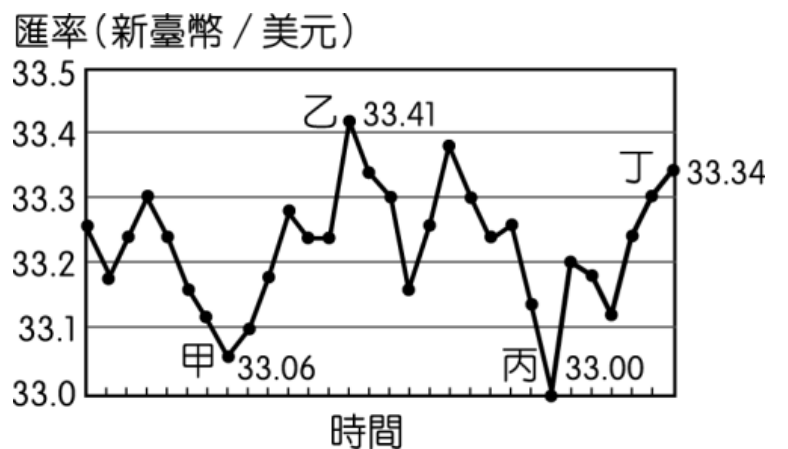
◎ 上班時段：日班/晚班/假日班

- () 26. 承上題，我國政府可透過修改哪一部主要法律來改善童工的問題？
 (A) 《就業服務法》
 (B) 《性別平等工作法》
 (C) 《民法》
 (D) 《勞動基準法》。
- () 27. 依我國的標準而言，童工是指聘用未滿幾歲的人？
 (A) 16 歲 (B) 15 歲 (C) 14 歲
 (D) 12 歲。

- () 28. 匯率的變動對國際貿易的影響是很大的，右方附圖為匯率變動示意圖。請問：(甲)、(乙)、(丙)、(丁)依序應填入什麼才是正確的？
 (A) 上漲、下跌、上漲、下跌
 (B) 上漲、下跌、下跌、上漲
 (C) 下跌、下跌、上漲、上漲
 (D) 下跌、上漲、上漲、下跌。



- () 29. 石門企業定期以新臺幣兌換美元後，向美國進口價值1000美元的原料，右邊附圖是該公司在不同時間美金匯率變動下的兌換紀錄，圖中顯示在不同時間點以1美元兌換新臺幣的比率。僅根據圖中內容判斷，若以新臺幣為衡量單位，甲、乙、丙、丁四個時間點，哪一個時間對石門企業來說進貨成本最低？
 (A) 甲 (B) 乙 (C) 丙 (D) 丁。



※題組(一)

「勞雇雙方協商減少工時」(俗稱無薪假)是指當事業單位受景氣因素影響，為避免資遣員工，造成更多社會問題，雇主與勞工先行協商減少工時。但我國《勞動基準法》或《就業服務法》中並未明確規定無薪假的法源依據，係透過雇工及勞工協商、變更勞動契約內容為之，不過主管機關也有訂定「因應景氣影響勞雇雙方協商減少工時應行注意事項」供勞雇依循，若雇主未依規定與勞工協商而造成勞工權益損害，仍會有罰則。但事業單位實施無薪假並沒有強制通報機制，倘若企業實施無薪假卻未向地方主管機關通報，並沒有違法，導致部分被放無薪假的勞工淪於統計黑數。勞動部幕僚表示，減班休息法制化目前正在研議中，未來將修正上述相關法規且加上更明確的罰則，惟細節尚待評估。根據上述內容，回答第 30~32 題：

- () 30. 雇主做出減班休息的決策與下列何者較無關？
 (A) 對職場的安全衛生有影響
 (B) 可降低受僱者的工作時數
 (C) 可以降低雇主的成本
 (D) 會影響受僱者的工作收入。
- () 31. 根據上文判斷，下列敘述何者正確？
 (A) 事業單位未通報實施減班休息會遭罰款
 (B) 雇主可單方面決定讓受僱者減少工時
 (C) 政府可修改《民法》來改善目前的問題
 (D) 政府統計的減班休息人數實際上可能有誤差。
- () 32. 文末提及減班休息法制化目前正在研議中。請問：政府扮演的角色應為下列何者？
 (A) 政府應保障雇主利益
 (B) 政府應保障受僱者權益
 (C) 政府應保障自身利益
 (D) 政府應盡量公平保障各方利益。

※題組(二)

下表為石門銀行網頁上公告的各種外幣兌換新台幣的匯率，請回答第 33-36 題：

幣別 \ 日期	9 月 1 日	10 月 1 日
美元	32.69	30.10
港幣	3.98	3.30
日圓	0.37	0.37
澳幣	28.51	32.83
歐元	40.10	42.93

說明：上述數值為 1 單位外幣可兌換的新台幣數量，如 1 美元可兌換 32.69 元新台幣

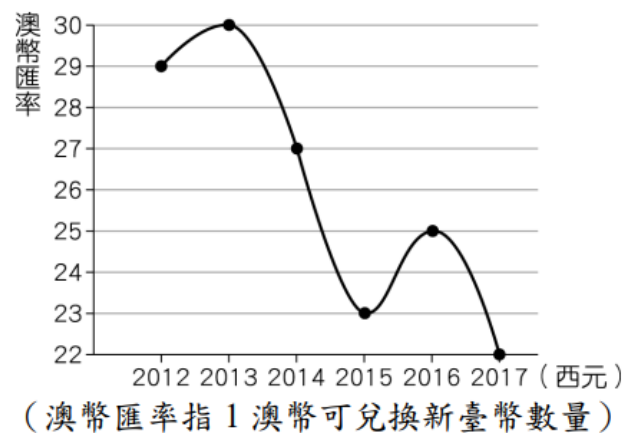
- () 33. 從 9 月至 10 月各國貨幣與新台幣兌換的變化，下列何者正確？(A) 若新臺幣未來對美元持續升值，則買美元來投資一定會賺錢 (B) 臺、澳之間匯率若走勢不變，對台灣想出口商品到澳洲來說是有利的 (C) 9-10 月間買日圓正是好時機 (D) 臺幣繼續貶值，買歐元較便宜。
- () 34. 若不考慮其他因素，此時到哪些國家旅遊是較划算的選擇？(A) 美國、香港 (B) 美國、澳洲 (C) 日本、歐洲 (D) 澳洲、歐洲
- () 35. 美香專門從歐洲進口汽車到台灣販售，依上表匯率變動情形，若壹台定價 30000 歐元的進口車，若其他條件不變，美香在這段時間每壹台車的進貨成本價差多少元？：(A) 便宜了 84900 元 (B) 貴了 84900 元 (C) 沒有差別 (D) 無法判斷。
- () 36. 依上表所呈現的數據，下面所描述的情形哪一項是合理的？(A) 美國向台灣購買電腦產品的訂單會變少 (B) 對想去澳洲遊學的小蓁現在是最佳時機 (C) 去歐洲旅遊旅費會更便宜了 (D) 此時買歐洲名牌包的價錢會更優惠。

※題組(三)

小明為了賺錢及開闊視野而於 2012 年~2014 年到澳洲度假打工近三年，工作內容為果園採果。附圖為 2012~2017 年每年年初澳幣匯率的走勢圖。

請依圖文回答第 37~40 題：

- () 37. 小明於澳洲度假工作的三年間，澳幣的走勢最後為何？(A) 升值 (B) 貶值 (C) 不變 (D) 無法判斷。
- () 38. 小明於 2014 年底回到臺灣，想把三年工作的澳幣存款兌換成新臺幣，他應該在下列哪一個時間點兌換才可以換取較多的新臺幣？



- (A) 回國立刻換 (B) 2015 年 (C) 2016 年 (D) 2017 年。
- () 39. 回國後小明從事進口澳洲商品在臺灣販售的業務。在不考慮其他因素，只根據匯率判斷，小明在哪一年可獲利最多？(A) 2014 年 (B) 2015 年 (C) 2016 年 (D) 2017 年。
- () 40. 假設澳幣在 2017 年後兌換各國貨幣的匯率開始急遽【 】，讓海外觀光客對高幣值、高消費的國家望而卻步；相反的，對澳洲人而言，卻是赴海外旅遊千載難逢的好時機，許多計畫出國旅遊的澳洲人，紛紛搶著排隊擠兌美金、日幣、或新台幣。澳幣【 】也使得澳洲人買進口商品不再昂貴，商家紛紛推出進口商品促銷活動以吸引澳洲人消費。根據內容判斷，文中【 】最可能是指的下列何者？(A) 升值 (B) 貶值 (C) 價值平衡 (D) 通貨膨脹。