
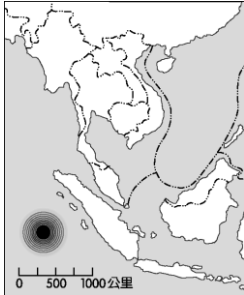


桃園市立石門國中 112 學年度 第二學期 第一次段考 八年級 地理科試卷

班級：_____ 座號：_____ 姓名：_____

※配分：01~20 題-每題 2 分，21~40 題-每題 3 分，共 100 分

01. 附圖為東南亞的部分地圖。若圖上  號處為某次大地震的震央，該次地震引發巨大的海嘯，下列哪一個國家會受到最直接的衝擊？
(A) 越南 (B) 新加坡 (C) 柬埔寨 (D) 印尼。

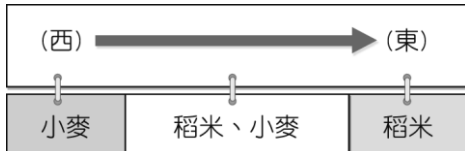


02. CNN 快報：「中颱茉莉預計今天中午將在該國登陸，當地已經發布颱風警報。目前觀測到颱風中心的最大風速達每小時 150 公里，瞬間最大陣風更高達每小時 185 公里，以每小時 17 公里速度往西北方移動。由於威力相當驚人，因此巴士海峽附近地區，如臺灣的恆春半島等地，目前仍必須提高警覺，防止強風豪雨。」上述新聞中的颱風最可能在哪一個國家登陸？
(A) 印度 (B) 菲律賓 (C) 孟加拉 (D) 馬爾地夫。

03. 「某國由上萬個島嶼組成，由於人口成長快速，2023 年的人口數在全世界排名第四，僅次於印度、中國和美國。其首都不僅過度擁擠、交通混亂，且因周遭環境遭受破壞而飽受水患之威脅，該國政府已著手研議遷都的可行性。」上文描述的首都應是下列何者？
(A) 日本東京 (B) 印尼雅加達 (C) 新加坡 (D) 南韓首爾。

04. 2004 年時，正值歡樂的聖誕節假期期間，東南亞和南亞之間發生了可怕的海嘯，造成極大的傷亡。請問：海嘯的發生和當地的哪一個地理條件關係最大？
(A) 板塊接觸、地震頻繁 (B) 橫跨赤道、終年有雨
(C) 海陸交會、季風轉變 (D) 熱帶海域、颱風侵襲。

05. 印度為世界人口大國，當地主要提供糧食的印度大平原，作物分布如附圖所示，造成圖中這種作物分布差異的主要影響因素為何？
(A) 土壤種類 (B) 氣溫高低 (C) 降水量多寡
(D) 地形起伏



06. 印度為南亞面積最為廣大的國家。請問：該國主要的宗教信仰為下列何種宗教？
(A) 佛教 (B) 印度教 (C) 基督教 (D) 伊斯蘭教。
07. 熱帶栽培業因為下列哪些因素影響，市場風險性較大？(甲)單一作物生產(乙)產品出口為主(丙)溼熱地區栽種(丁)需要大量勞力
(A) 甲乙 (B) 甲丙 (C) 乙丁 (D) 丙丁。

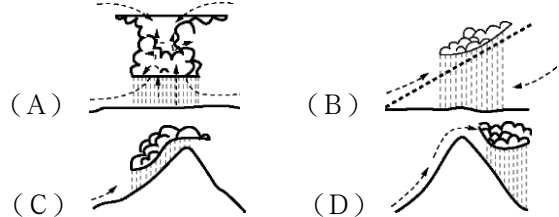
08. 安安觀察南洋群島的地理位置，推測該地應屬於熱帶氣候區。請問：他觀察的最可能是下列哪一項地理位置？
(A) 緯度位置 (B) 經度位置 (C) 海陸位置 (D) 相對位置。

09. Netflix 在 2022 年推出印度電影《孟買女帝》，一上映即引發討論，劇情描述一位 16 歲少女被賣到孟買卡馬蒂普拉，雖被迫成為性工作者，卻憑一己之力奪回自己的權利，也替當地的性工作者發聲，爭取性工作者的孩子的受教權，在當地成為受人景仰的存在。印度存在出身即決定社會階級的觀念，性工作者的孩子也同樣受到歧視，此種現象是因為受到何種制度的影響？
(A) 皇室制度 (B) 種姓制度 (C) 禮樂制度
(D) 宗法制度。

10. 「這個地區早期被稱為 Gangaridai，意謂『恆河位於土地的心臟地帶』。雖然現在當地居民的主要宗教信仰，已經由印度教轉變為伊斯蘭教，也不再視恆河為聖河，但是河水仍然影響著人們的衣食住行。」上述地區的範圍應約略等於現今哪一國家？
(A) 印度 (B) 孟加拉 (C) 巴基斯坦 (D) 斯里蘭卡。

11. 國立中興大學考察團在印度東北部省分進行為期一個月的參訪，特別著重茶產業的技術與文化交流。臺灣對茶葉的需求量大，但供不應求、多仰賴進口，印度就是主要進口來源之一。印度東北部省分茶葉產量豐富的原因與其具備何者條件有關？
(A) 排水良好的平原 (B) 迎風多雨的丘陵
(C) 陽光充足的沙地 (D) 乾燥少雨的高原。

12. 東印度群島有一句氣候諺語：「夜間是熱帶的冬天」。請問：該地主要的降水類型為何？



13. 印度高科技人才有何優點，吸引歐美國家前來投資，成為跨國企業重要據點之一？
(A) 薪資較低、講英語 (B) 薪資較低、講法語
(C) 技術優良、講德語 (D) 個性溫和、講法語。

14. 亞洲的季風氣候是因為大範圍海陸性質的差異所造成，季風氣候的主要特色為風向隨季節變化。南亞的印度半島位於熱帶季風氣候區內，該地區的冬、夏季節風向依序為何？
(A) →、← (B) ↘、↙ (C) ↙、↘
(D) ↘、↘

15. 歷史上，美國曾經殖民過菲律賓群島。請問：當時美國文化在當地所造成的影響，以下列何者最為明顯？
(A) 宗教信仰 (B) 礦產開發 (C) 語言文字 (D) 熱帶栽培業。

16. 「新加坡的土地面積雖然不大，但因具有某項優越的條件，加上政府政策的指導，成功地讓新加坡的煉油產業快速發展，現已成為世界第三大煉油中心。」文中所述的優越條件應是指下列何者？

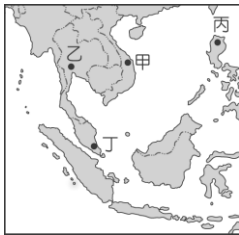
- (A) 為主要石油生產國 (B) 人口多且勞力充足
(C) 地理位置佳且海運便利 (D) 國內重工業市場需求大。

17. 2012 年，某作物的世界前四大出口國為泰國、印尼、越南和馬來西亞。根據這些國家的自然環境特徵判斷，該作物最可能為下列何者？

- (A) 小麥 (B) 棉花 (C) 茶葉 (D) 橡膠。

18. 因為故鄉的文化與中國相近，阿嵐來到臺灣擔任看護的工作，適應相當良好。由於她聰明勤勞，很快學會中文，再加上故鄉過去的被殖民經驗，使得她還會說一些法文，她的雇主阿翔相當滿意，把她當作女兒般疼愛。阿嵐的故鄉可能位於附圖中的何處？

- (A) 甲 (B) 乙 (C) 丙 (D) 丁。



19. 臺灣由於近年來人口結構及產業轉型的因素影響，大量引進國際移工，目前觀光局也正推動如附圖所示的認證標章。請問：這項政策對於下列哪一國而言最為友善？

- (A) 印尼 (B) 越南 (C) 印度 (D) 泰國。



20. 印度半島的地形區可分為：(甲)喜馬拉雅山(乙)德干高原(丙)印度大平原。若由北向南排列，其正確順序為何？

- (A) 甲乙丙 (B) 甲丙乙 (C) 乙甲丙 (D) 丙乙甲。

21. 「在印度有一頂級的旅館，位於全國最大的野生動物和老虎保育區的國家公園旁，全旅館僅由 14 頂帳篷組成。受限於自然條件的關係，只在限定的時間營業，進入不宜旅遊的季節，便將帳篷一一拆卸後收藏，直至較舒適的時節來臨，才又再度搭起營帳，迎接新一批旅客的到來。」根據上述，下列哪些月分最可能都是該旅館的營業時間？

- (A) 3 至 5 月 (B) 6 至 8 月
(C) 9 至 10 月 (D) 11 至隔年 2 月。

22. 印度半島和中國邊境以喜馬拉雅山為兩地之間的阻隔，畫分為不同區域，發展各異。請問：該山脈最主要為何種地形作用力所形成？

- (A) 板塊擠壓 (B) 地殼張裂 (C) 冰河侵蝕 (D) 河川堆積。

23. 印度半島在其悠久的歷史發展過程中，似乎總蒙上一層神祕的面紗。美國著名的作家馬克吐溫在 19 世紀末期到該處旅行，不禁嘆道：「印度，是奇觀之國。」而該地區的中部大平原更是孕育出豐富多變的文化。請問：印度半島上的中部大平原，主要是由下列哪一種作用所造成？

- (A) 冰河侵蝕 (B) 風力侵蝕 (C) 河川沖積 (D) 板塊擠壓。

24. 位於熱帶島嶼的馬爾地夫，碧海藍天的景象、清澈見底的海水及豐富的珊瑚礁景觀吸引了大批人潮，為著名的觀光度假勝地。可惜在 2004 年聖誕節當天的一場災害——南亞大海嘯後，當地大部分都市都被海水所淹沒，損失極為慘重。請問：該島嶼位於下列哪一個海洋？

- (A) 太平洋 (B) 大西洋 (C) 地中海 (D) 印度洋。

25. 印度的氣候類型受到季風轉換的影響而形成不同的氣候特色，共分為涼季、熱季、雨季三類。請問：這些季節的分布現象，若從年初開始一直到當年的年底，依各季節分布的時間加以排列，其先後順序應該為下列何者？

- (A) 熱季、涼季、雨季、熱季 (B) 熱季、雨季、涼季、熱季 (C) 涼季、熱季、雨季、涼季 (D) 涼季、雨季、熱季、涼季。

26. 晴晴到曼谷旅行時，發現這裡四處可感受當地虔誠的宗教氛圍，除了金碧輝煌的寺廟之外，連到連鎖速食店都可看到附圖中麥當勞叔叔擺出不同於其他國家的姿勢。請問：曼谷當地主要的宗教為何？

- (A) 基督教 (B) 伊斯蘭教 (C) 印度教 (D) 佛教。



27. 為強化本區競爭力，東南亞國家透過結盟成立哪一個經濟組織，加強區域經濟合作與發展？

- (A) 世界貿易組織 (B) 東南亞國家協會 (C) 北美自由貿易協定 (D) 亞太經濟合作會議。

28. 東南亞各國塞車問題嚴重，以印尼為例，雅加達平均每天有 300 萬人進城上班，通勤時間是 1~2 小時。請問：當地可以興建何種交通系統，以減少城市內的塞車之苦？

- (A) 鐵路 (B) 高鐵 (C) 捷運 (D) 飛機。

29. 東南亞國家近年的經濟發展相當迅速。請問：東南亞國家發展工業的優勢為何？甲、便宜的勞動力；乙、豐富的資源；丙、完善的空運；丁、高科技技術

- (A) 甲乙 (B) 乙丙 (C) 丙丁 (D) 甲丁。

30. 新加坡位於麻六甲海峽東側出口，控制哪兩大洋之間的交通往來？

- (A) 大西洋、太平洋 (B) 大西洋、印度洋 (C) 太平洋、印度洋 (D) 印度洋、北極海。

31. 阿立到印尼投資設廠，對當地的氣候環境頗不能適應。請問：下列有關印尼氣候特徵的敘述，何者**錯誤**？
 (A) 對流雨旺盛 (B) 終年高溫 (C) 降水量多
 (D) 夏雨冬乾。
32. 東南亞近年來已成為國人喜愛的旅遊勝地。請問：東南亞所屬的地形區中**不包括**下列何者？
 (A) 中南半島 (B) 印度半島 (C) 菲律賓群島
 (D) 東印度群島。
33. 附圖為印度某天的新聞報導，報導中的現象最可能發生在下列哪個月分？
 (A) 正逢雨季的八月 (B) 熱季來臨前的二月
 (C) 雨季來臨前的五月 (D) 涼季來臨前的十月。



34. 熱帶栽培業為東南亞重要產業活動。請問：該產業活動特色主要為下列何者？
 (A) 生產糧食作物 (B) 作物自給為主 (C) 大量生產外銷 (D) 高度機械化。
35. 中國大陸在雲南橫斷山脈縱谷區湄公河上游興建多座水庫，這些水庫興建完成後，嚴重影響到下游的用水和生態環境。請問：下列哪一半島會受到影響？
 (A) 阿拉伯半島 (B) 印度半島 (C) 朝鮮半島
 (D) 中南半島。
36. 印度哪一個都市因為軟體工業相當發達，因此被稱為「印度矽谷」？
 (A) 孟買 (B) 新德里 (C) 邦加羅爾 (D) 加爾各答。
37. 宗教對文化景觀的影響相當大，甚至形成特殊的建築風格及服飾穿著。附圖為某宗教信仰的傳統服飾與建築風格，請問：這個景象在下列哪一國家最為常見？
 (A) 巴基斯坦 (B) 菲律賓 (C) 越南 (D) 印度。



38. 高聳入雲的喜馬拉雅山下，靜靜的橫躺著橫貫千里的大平原，蜿蜒漫長的河流敘述著悠久宏大的古文明。印度半島的印度大平原主要由於來自於聖山的河川所沖積而成，土壤肥沃。請問：該地區主要是由印度河和下列哪一條河川所沖積而成的？
 (A) 湄公河 (B) 尼羅河 (C) 昭披耶河 (D) 恆河。
39. 根據聯合國統計，印度約有 40 % 的人口生活於貧窮之中，出生率高無法提供良好的教育及照顧，環境衛生不佳，導致疾病叢生，死亡率甚高。請問：導致此一現象的根本原因為下列何者？
 (A) 長年乾旱 (B) 長年水患 (C) 戰爭不斷
 (D) 人口過多。