

桃園市立石門國中 112 學年度 第二學期 第一次段考 九年級 地理科試卷

班級：_____ 座號：_____ 姓名：_____

※配分：01~20 題-每題 3 分，21~40 題-每題 2 分，共 100 分

01. 荷蘭東印度公司在 1624 年來臺建造熱蘭遮城，臺灣在當時便通過航海貿易而納入世界經濟體系。當時荷蘭人在此地興建大員市鎮，其名稱來自於當地平埔族的社名「Tayovan」，而該市鎮地區位於附圖中何地？
(A)甲 (B)乙 (C)丙 (D)丁。



02. 臺灣鄉村許多聚落常有一棵大榕樹，成為當地居民聚集、乘涼、聊天之所，這地方容易形成哪一個地名？
(A)蚵寮 (B)鹿寮 (C)烏松 (D)茄苳腳。
03. 臺灣某行政區名稱源自：「因外海波濤洶湧，港口周圍島嶼環繞而海浪平靜，故稱『平湖』。」文中所指的行政區，具有下列何種觀光特色景點？
(A)深黑的柱狀玄武岩台地 (B)達悟族的傳統生活場域 (C)戰地史蹟與閩南式建築 (D)陡直清水斷崖與太平洋。
04. 15 至 17 世紀間，臺灣西部沿海地區是殖民者與移民者進出的門戶，故沿海聚落發展日盛。清帝國時，西部沿海地區自南而北形成具有港口機能的市鎮群，「一府二鹿三艋舺」即是具代表性的三大聚落。上述的「艋舺」位於目前臺北市的哪個行政區？
(A)松山 (B)內湖 (C)北投 (D)萬華。
05. 臺灣出現許多如中正、中山、三民等與在地環境無關的地名，這些地名最可能在哪個時期出現？
(A)鄭氏時期 (B)日治時期 (C)清帝國時期 (D)中華民國在臺灣。
06. 臺灣在唐山過臺灣時，許多來自大陸的漢人移居至此，相關聚落也因此出現原鄉的地名。附圖為臺南市佳里區的地名招牌，當地最可能為哪一個族群分布？
(A)潮州人 (B)泉州人 (C)廣東人 (D)平埔族。



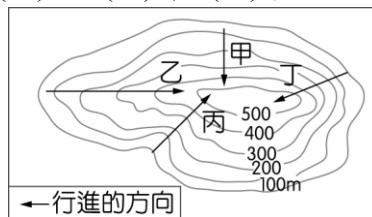
07. 臺灣現有的鄉鎮市區地名是長時間歷史演變而來，下列何者是從鄭氏政權沿用至今？
(A)吉安 (B)松山 (C)新營 (D)民雄。
08. 臺灣出現許多與在地環境無關的地名，例如：南投縣的「仁愛鄉、信義鄉」，這些名稱出現在臺灣的可能原因為何？
(A)彰顯道德教化 (B)日治時期更名 (C)平埔族社名 (D)源自清代沿用。

09. 臺灣歷經數百年開發歷史，透過地名可以看到不同時期留下的痕跡。下列哪一個車站所在地之地名出現的時間最晚？

(A)高雄市的左營車站 (B)臺北市的松山車站
(C)嘉義縣的嘉義車站 (D)花蓮市的吉安車站。

10. 阿立在某小島做野外調查，希望沿途看到最多與「墩」有關的聚落地名，根據等高線的特徵判斷，他應走附圖中的哪條路線？

(A)甲 (B)乙 (C)丙 (D)丁。



11. 臺灣某縣市古稱「半線」，源自平埔族「半線社」的語音翻譯。在清代平定朱一貴事件後而更名。上述內容最有可能指下列哪個縣市？
(A)桃園市 (B)彰化縣 (C)高雄市 (D)屏東縣。
12. 「古稱洄瀾，因急流與海水互相激盪，形成洄瀾巨浪而得名。」上述是指下列哪個行政區？
(A)新竹縣 (B)澎湖縣 (C)屏東縣 (D)花蓮縣。
13. 在臺南沿海一帶的古地名中，常見「鯤鯨」兩字，例如：南鯤鯓等，意指「形狀像魚浮出海面露出背部」。「鯤鯨」是指濱海地區的何種地形？
(A)沙洲 (B)潟湖 (C)岬角 (D)灣澳。
14. 日治時期建造花東鐵路，沿線車站遇當地地名作為站名時，多會將地名轉譯為日本人易於發音的站名，臺東知名的多良車站，如附圖，此地舊稱「打腊打蘭社」(Dalandalan)，後來被日本人改稱為「多多良」(Tatara)，最後省略為現今的「多良」。下列哪一地名同樣與日本的關聯密切？
(A)桃園 (B)花蓮 (C)萬華 (D)澎湖。



15. 噶瑪蘭客運是甲行政區的主要交通運輸工具，因為臺灣早期噶瑪蘭族及其移民歷史，也是影響地名命名因素之一，因此當地最初名稱為「噶瑪蘭」。上文所述「甲行政區」應為下列何者？
(A)宜蘭縣 (B)新竹縣 (C)苗栗縣 (D)嘉義縣。
16. 臺灣一詞已使用數百年，不同時期臺灣的範圍與層級並不相同，哪一時期臺灣一詞所代表範圍最小？
(A)荷蘭 (B)日治 (C)清帝國 (D)民國。
17. 臺灣有很多種古稱呼，何時臺灣成為官方行政區的命名，臺灣一詞固定下來？
(A)鄭氏 (B)清帝國 (C)日治 (D)中華民國在臺灣。

18. 臺灣透過不同時期的地名可觀察地方發展的軌跡，也可察覺不同政權的政治作為。附圖是日治時期某地戶籍內容，圖中的「打貓」應位於今日嘉義縣的哪個行政區？
 (A)東石 (B)新港 (C)民雄 (D)布袋。

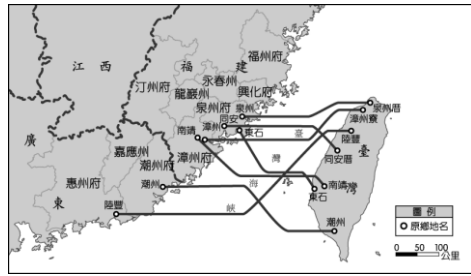
籍本
科嘉
仔義
林廳
庄打
六貓
一東
番頂
戶堡

19. 基於不同的理由與考量，行政區名會經歷數次的更名，擁有多個名稱。舉屏東為例，屏東舊稱「阿猴」，是因在漢人來臺開墾前，屏東一帶是平埔族馬卡道族阿猴社的聚落所在而得名，直至今日治時期，阿猴經日本人雅化地名改為「阿緞」，最後又因其位於半屏山以東而改名「屏東」，沿用至今。根據上文，由屏東地名的演變可知其經歷了數次更名，下列何者並非這幾次更名的命名原則？

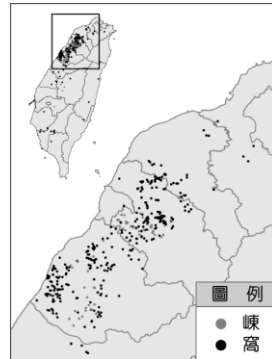
- (A)相對位置 (B)政權更迭 (C)歷史事件
 (D)原住民族。
20. 古地圖中的「台江內海」曾是一個潟湖(如附圖所示)，為水陸、沙洲交會之地，今日多已不復見且海岸線向海大幅推展，現多作為鹽田、魚塢等。「台江內海」消失的原因，與下列何者有關？
 (A)泥沙堆積 (B)海水侵蝕 (C)颱風侵襲 (D)斷層活動。



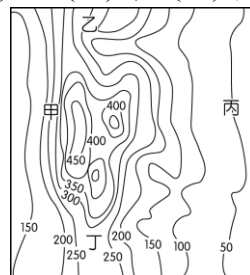
21. 高雄舊稱打狗，指平埔族語竹林的意思，下列何處的命名原則與打狗不同？
 (A)烏松 (B)諸羅 (C)茄苳腳 (D)桃仔園。
22. 將地名標示於商品上，也是常見的產品命名方式，而臺灣受惠於多樣的自然環境與歷史文化，發展出許多具地方特色的產品。下列地方特色的產品中，何者最廣為人知？
 (A)北投陶瓷 (B)宜蘭肉圓 (C)花蓮池上米 (D)萬巒豬腳。
23. 下列哪一個臺灣的地名，乃中華民國政府治理台灣後，為了去除日本殖民對臺灣的影響而修改，也可觀察不同政權的政治作為？
 (A)民雄 (B)松山 (C)吉安 (D)苗栗。
24. 附圖是清代漢人移民帶來的原鄉地名分布圖，原鄉主要是哪兩個省分？
 (A)江西、福建 (B)福建、廣東 (C)廣東、廣西 (D)江西、廣東。



25. 臺灣由於政權更迭，加上族群非常多元，使得地名源流變得十分複雜。例如：「屋」、「壠」等地名，應是何種語言的命名？
 (A)閩南語 (B)客家語 (C)原住民族語
 (D)西班牙語。
26. 臺灣地形多元複雜，為地方提供豐富的命名素材。依據地名判斷，下列哪個聚落的所在位置取水較不方便？
 (A)洄瀾 (B)大灣 (C)崎頂 (D)潭漈。
27. 晴晴上地名資訊服務網查詢「嵨、窩」的地名(見附圖)，此類地名主要分布在哪裡？
 (A)臺北宜蘭 (B)桃竹苗地區 (C)高屏地區
 (D)花東地區。



28. 臺灣早期以農為主，而牛是農業時代的重要角色，象徵著堅忍老實等正面的意義與價值，加上其體型輪廓在視覺上辨識度高，因此臺灣許多地名喜歡以牛為命名。下列哪個地名與牛隻買賣的地方有關？
 (A)牛稠港 (B)牛墟 (C)牛奶寮 (D)牛罵頭。
29. 嘉義縣民雄鄉三興村陳厝寮，其得名於陳姓先民搭寮拓墾。上述的「陳姓先民」最可能是哪一個族群？
 (A)閩南人 (B)客家人 (C)外省人 (D)原住民族。
30. 新北市境內的「山佳」，其原名為「山仔腳」，其名稱可以追溯至清代時期的海山堡山仔腳庄。山仔腳地名主要來自於當地的自然環境，在日治時期改「山仔腳」為「山子腳」，國民政府來臺後則改稱「山佳」至今。該類型地名最可能出現於附圖中何處？
 (A)甲 (B)乙 (C)丙 (D)丁。



31. 近年來，世界氣候異常，很多地方常下大豪雨，若是居住在何種地名的人，常會有水患之苦？
 (A)山仔頂 (B)潭墘 (C)崎頂 (D)崁頂。
32. 在臺灣鄉村地理考察時，常見到廟宇、祠堂出現南靖兩字。南靖屬於中國哪裡常見地名？
 (A)泉州 (B)漳州 (C)汀州 (D)惠州。
33. 高雄市舊稱「打狗(Takau)」，原本可能是平埔族語中竹林之意，漢人取相似音稱為「打狗」，後來哪個外來民族將之改為高雄？
 (A)荷蘭人 (B)葡萄牙人 (C)西班牙人 (D)日本人。
34. 「鼻」在閩南語中指物體突出部分，附圖為鼻字的地名分布圖，可看出該地名多分布在新北、宜蘭、澎湖、屏東等縣市，此地形主要出現的海岸類型何者有誤？
 (A)沙岸地形 (B)岬灣海岸 (C)斷層海岸 (D)珊瑚礁海岸。




35. 先民移民來臺後，為緬懷家鄉常將故鄉地名作為聚落名稱。附圖為小芯至屏東縣遊玩時，所看到的道路指引。當地早期移民，最有可能源自中國的哪個行政區？
 (A)福建省 (B)雲南省 (C)廣東省 (D)四川省。



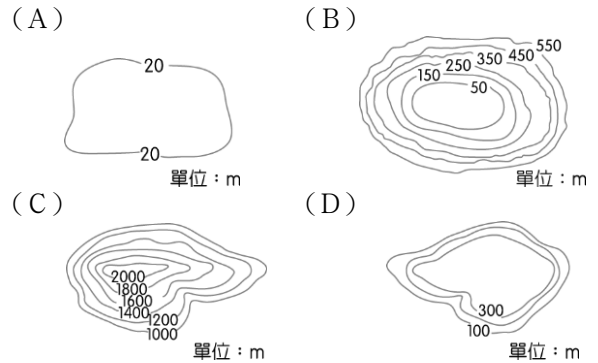
36. 附圖為古代某種作物加工的圖像，由圖中顯示農民從收割甘蔗、榨汁到煮糖的過程，此地最容易形成哪個字的地名？
 (A)埔 (B)崙 (C)窩 (D)廊。



37. 地名的命名與當地地勢有關，由附圖判斷，住在山坡上面的人不怕淹水，但是取水較不方便，此地容易形成何種地名？
 (A)崎腳 (B)山仔腳 (C)潭墘 (D)崎頂。



38. 新北市三重區舊名三重埔，其地名由來與地形有關，該地名與下列哪一張等高線地形圖所呈現的最相符？



39. 地名不僅具有標示定位的作用，更可忠實呈現地方風貌、地形特徵、宗族源流等各種事項。附表為小珍整理的地名命名緣由，則「甲」處應填入下列何者？
 (A)方位 (B)屯墾 (C)宗族 (D)原鄉。

命名緣由	地名
地形	大「湖」、蘇「澳」
動物	「山豬」窟、「鹿」寮
原住民	「噶瑪蘭」、新「社」
甲	前「鎮」、新「營」

40. 臺灣茶名揚國際，其中最知名的莫過於南投鹿谷出產的凍頂烏龍茶。凍頂為當地地名，是源自客語的「凍頂」意指山頂，而非誤傳的「寒冬須凍著腳尖上山頂」。根據上述可以推測當地地形應為下列何者？

