

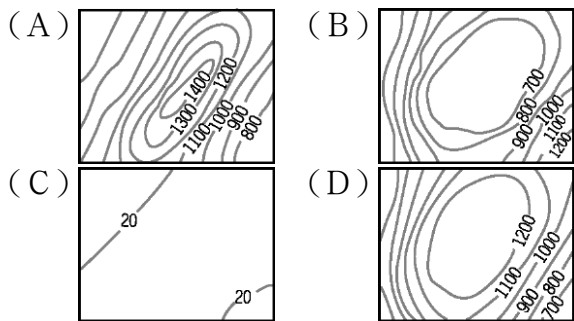
桃園市立石門國中 112 學年第二學期第二次社會領域地理科段考

八年 班 座號： 姓名：

一、單選題

(1-20 題，每題 3 分；21-40 題，每題 2 分，共 100 分)

1. () 西亞的地質年代和該地區的發展影響甚大。請問：盛產石油的阿拉伯半島其主要的地形型態和下列何者最為相近？



2. () 西亞與北非位居歐、亞、非三洲接觸帶，自古位置重要。下列有關該地區的自然環境敘述，何者最為正確？ (A) 深居內陸、無海岸線 (B) 氣候乾燥、沙漠廣布 (C) 高溫多雨、地形崎嶇 (D) 伸入海洋、降水豐富。

3. () 附圖是某種宗教信徒必須做的功課。由圖中內容可知，該宗教應為下列何者？ (A) 佛教 (B) 印度教 (C) 基督教 (D) 伊斯蘭教



4. () 為因應國際石油價格崩盤，2016 年 11 月全球主要產油國家齊聚一堂，達成 15 年來首度減產共識，以穩定國際油價。請問：舉辦上述會議的經濟組織最可能為下列何者？ (A) APEC (B) OPEC (C) WTO (D) ASEAN。

5. () 小胖分享他暑假到西亞的旅遊經歷：「那兒的氣候又乾又熱，有許多的葡萄園和柑橘園，最特別的是搭火車經過鐵橋，或坐汽車經過海底隧道後，就到達歐洲了。」請問：小胖所描述的最可能是下列哪一國家？ (A) 伊朗 (B) 以色列 (C) 土耳其 (D) 沙烏地阿拉伯。

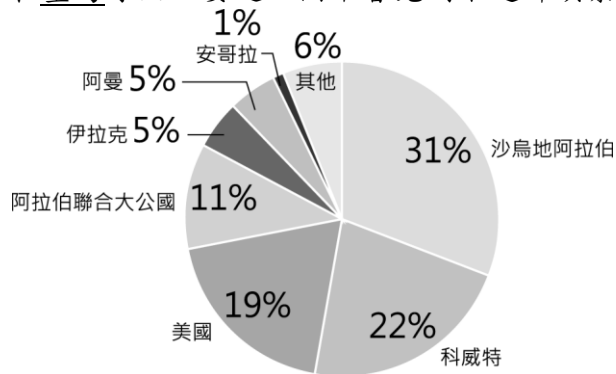
6. () 全球穆斯林人口成長快速，市場商機相當龐大，資訊科技產業針對該族群的需求，設計相關產品，例如智慧型手機的應用程式可在任何地點指引禮拜方向、提醒禮拜時間、判別經過認證的食物等。下列何者也是針對上述族群所設計？ (A) 線上拉丁文翻譯字典 (B) 手機查詢無牛肉料理的餐廳 (C) 《聖經》閱讀筆及口袋電子書 (D) 利用虛擬實境技術做參加的虛擬朝聖。

7. () 小明要向大家介紹西亞與北非的特色，他應該使用下列哪一個標題最為適當？ (A) 溼熱雨林秘境 (B) 伊斯蘭文化區 (C) 東方文化起源 (D) 亞洲佛教聖地。

8. () 西亞的杜拜正積極發展觀光業活動，著名的帆船飯店吸引了全球消費者的目光。請問：該地區發展觀光業最主要的目的為何？ (A) 多元經濟發展 (B) 發揚伊斯蘭教 (C) 增加就業機會 (D) 拓展國際外交。

9. () 撒哈拉沙漠為世界面積最大的乾燥地區，我們若欲到該地區進行實地考察，應該前往下列哪一個大陸？ (A) 歐洲 (B) 非洲 (C) 亞洲 (D) 美洲。

10. () 附圖為 2021 年臺灣原油進口來源國比例圖。請問：在臺灣原油主要進口國中會見到下述哪項景觀？



▲ 2021 年臺灣原油進口來源國比例圖

- (A) 氣候炎熱多雨，雨林廣布 (B) 受盛行西風影響，夏雨冬乾 (C) 氣候乾燥，居民傳統衣著寬鬆 (D) 尼羅河三角洲為人口聚集之處。

11. () 王先生和夫人參加古文明之旅，搭乘豪華郵輪一探世界大河文化的遺跡。附圖為這趟行程的路線圖，請由圖中資料判斷，該大河文明應該位於下列哪一河川？



皮塔餅，又稱阿拉伯薄麵包或口袋餅，是一種圓形口袋狀麵食，廣泛流行於希臘、土耳其、巴爾幹半島、地中海東部地區和阿拉伯半島。

- (A) 恆河 (B) 尼羅河 (C) 幼發拉底河 (D) 底格里斯河。

12. () 非洲西北部的摩洛哥為著名的度假天堂，該國靠近西北部的氣候特色為夏乾冬雨，舒適宜人，有「北非花園」之稱。堅果油、皮塔餅、塔吉鍋皆是該國特色產品，請問該國宜人的氣候類型是 (A) 溫帶海洋性氣候 (B) 溫帶地中海型氣候 (C) 熱帶雨林氣候 (D) 熱帶莽原氣候。

13. () 承上題，該國還有哪一地區的領土爭議紛爭？ (A) 東帝汶 (B) 巴勒斯坦 (C) 喀什米爾 (D) 西撒哈拉。

14. () 埃及蘇伊士運河管理局 (SCA) 宣布 2023 年將上調蘇伊士運河的船舶通行費 10~15%，可預期未來國際運費將持續上漲，原因是蘇伊士運河占全球貨櫃運輸總量的 30%，掌握連接哪兩個水域間航運的重要地位？ (A) 地中海、紅海 (B) 波斯灣、紅海 (C) 波斯灣、阿拉伯海 (D) 地中海、阿拉伯海。

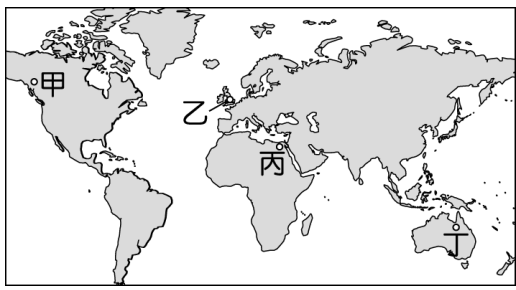
15. () 若位於北非埃及的穆斯林欲搭乘渡輪前往阿拉伯半島參加朝拜，則以橫渡哪一個海域距離最近？ (A) 黑海 (B) 地中海 (C) 紅海 (D) 阿拉伯海。

16. () 附圖是沙烏地阿拉伯的國徽，國徽上的植物生長在沙漠地區，果實產量多，營養價值高，被稱為「沙漠麵包」，是西亞齋戒月期間最重要的開齋食品。國徽中的植物應是何種作物？



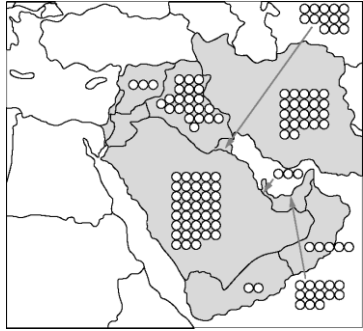
- (A) 椰子 (B) 橄欖 (C) 香蕉 (D) 椰棗。

17. () 全球各地區文化的特色及發展皆不相同，因此形成不同的文化景觀。附圖中何地到處可見到清真寺，生活深受伊斯蘭文化影響？



(A)甲 (B)乙 (C)丙 (D)丁。

18. () 附圖為某區域最主要資源的分布圖，圖上符號○的個數代表其數量的多寡。請根據陸塊的形狀判斷，符號○最可能代表下列何種資源？



(A)煤 (B)鐵 (C)森林 (D)石油。

19. () 某宗教的全球年度大型集會活動在 2017 年約有 235 萬人參與。附表為該年參與者的來源國及其人數，此一宗教活動最可能為下列何者？

國家	人數	國家	人數
沙烏地阿拉伯	600,108	伊朗	86,500
印尼	221,000	土耳其	79,000
巴基斯坦	179,210	奈及利亞	79,000
印度	170,000	阿爾及利亞	36,000
孟加拉	127,198	摩洛哥	31,000
埃及	108,000	其他	635,106

(A)伊斯蘭教朝覲 (B)印度教灑紅節 (C)佛教浴佛節 (D)天主教聖誕彌撒。

20. () 有一專門收錄世界各地大自然聲音的網站，只要點選地圖上的標記，就可以聽到當地各種自然界的聲音。當點選附圖中的甲標記時，最可能聽到下列何種聲音？



(A)沙漠中強風揚起沙塵的聲音 (B)高山冰河緩慢移動的摩擦聲 (C)熱帶雨林中綠青蛙的鳴叫聲 (D)廣闊莽原上獅子群的怒吼聲。

21. () 大批敘利亞難民因內戰紛擾，而逃往歐洲。其中一條路線是由土耳其搭船向西前往歐洲的希臘。請問：上述搭船的路線主要在哪一海域上？ (A)裏海 (B)紅海 (C)地中海 (D)阿拉伯海。

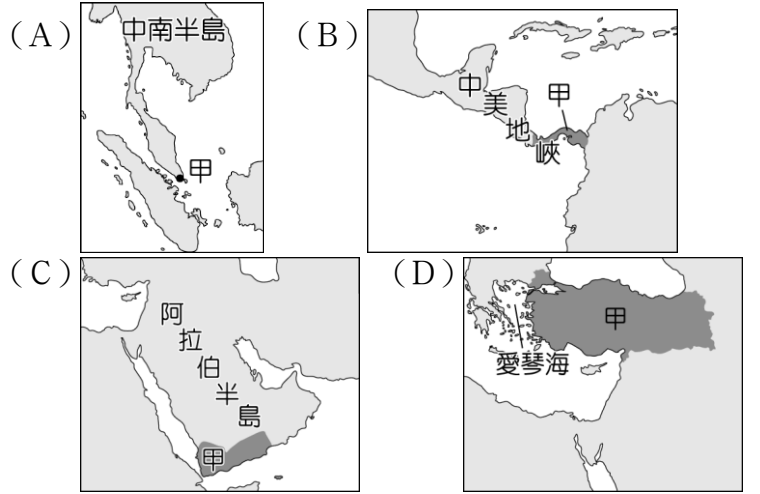
22. () 麥加被認為是伊斯蘭教先知穆罕默德的發祥地，是伊斯蘭教最神聖的城市，擁有天房和禁寺。城中的禁寺是世界上最大的清真寺，也是伊斯蘭教最神聖的地方，寺內的克爾白（天房）相傳是第一個人類阿丹（亞當）興建的？在穆斯林眾多的國家，飯店貼有往麥加天房的方向貼紙。已知麥加位置約為(21.4°N, 39.8°E)。請問：在台灣要朝向麥加禮拜，大約要朝哪一方向？



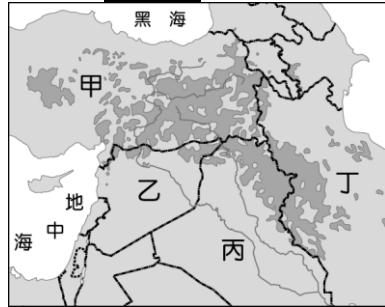
基卜拉，也作奇布拉，是穆斯林在禮拜期間進行禱告時所需要朝向的方向，目前規定為麥加的克爾白所在之方位。

(A)西南方 (B)東南方 (C)西北方 (D)東北方

23. () 甲國的石油產量並不高，卻因重要的交通位置而足以影響國際油價，其所臨的海峽一旦被封鎖，將導致波斯灣油輪經紅海至蘇伊士運河的運輸受阻，而北非的石油通往亞洲市場則必須繞行經過南非，增加運輸時間與成本。下列何者是甲國正確位置的標示？



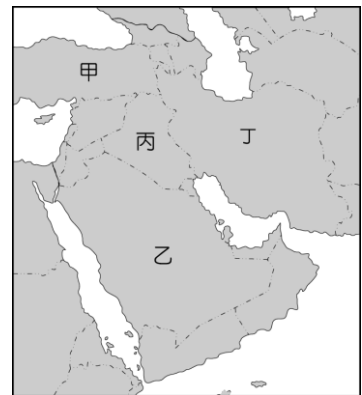
24. () 附圖深灰色處為庫德族人口主要分布地區，庫德族人分布於附途中甲、乙、丙、丁四國交界之間，請問：這四國未包括下列哪一國？



(A)土耳其 (B)伊朗 (C)伊拉克 (D)沙烏地阿拉伯。

25. () 隨著運輸技術的進步，人口的移動為便捷，促使國際勞工遷徙日益頻繁。埃及可憑藉宗教文化類似和語言相同的優勢，大量輸出勞工至下列何地？ (A)北美 (B)東亞 (C)西亞 (D)西歐。

26. () 20 世紀末伊拉克為占領科威特油田，引發波斯灣戰爭，當時造成全球油價飆漲。請問：該國的疆域位於附圖中何處？

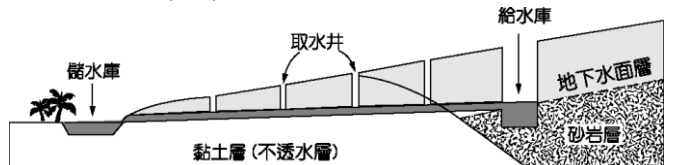


(A)甲 (B)乙 (C)丙 (D)丁。

27. () 承上題，該地區的主要地形是 (A)美索不達米亞平原 (B)阿拉伯高原 (C)伊朗高原 (D)安納托利亞高原。

28. () 英國在殖民非洲時期，為了增加棉花的種植面積及產量，因此在哪一條河興建了亞斯文高壩，對當地的農業幫助甚大？ (A)幼發拉底河 (B)恆河 (C)底格里斯河 (D)尼羅河。

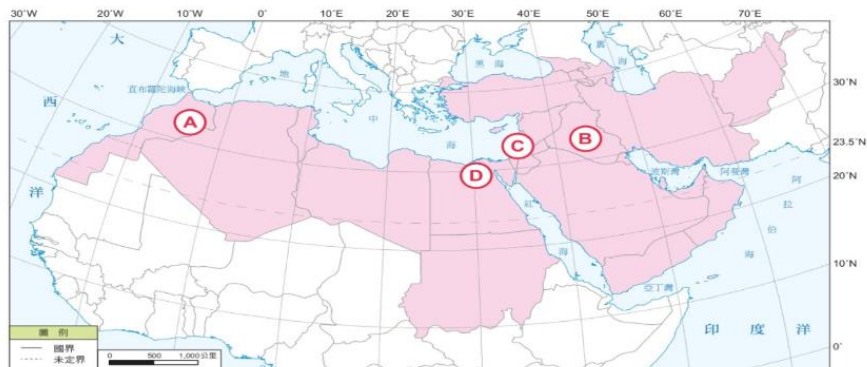
29. () 附圖為西亞與北非地區傳統的灌溉工程之一，請問最可能出現在哪一山區？



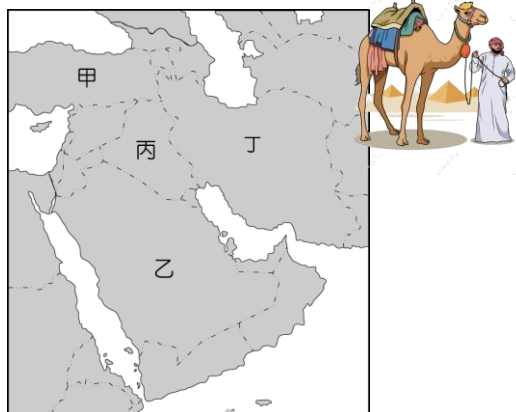
(A)亞特拉斯山 (B)蘇里曼山 (C)高加索山 (D)喜馬拉雅山。

30. () 承上題，該山區位於下方附圖何處？

(A)A (B)B (C)C (D)D。



31. () 小說《倚天屠龍記》中傳說明教源自於西亞的波斯帝國，當時的波斯帝國即現在的伊朗，位於附圖中的哪一個地區？




(A)甲 (B)乙 (C)丙 (D)丁。

32. () 承上題，該地區的綠洲主要灌溉的方式為何？

(A)使用河水，利用渠道灌溉 (B)挖掘深層地下水，形成圓形的人工綠洲 (C)利用高山雪水滲入地下水層，挖掘地下水道灌溉 (D)發明滴灌技術，節省灌溉用水。

33. () 附圖為西亞某國家的灌溉圖，在一望無盡的沙漠中開闢出一圈圈的綠地農田，形成「人工綠洲」。上述該國的灌溉方式最可能為下列何者？



(A)河渠灌溉 (B)鑽井取水 (C)坎井引水 (D)海水淡化。

34. () 承上題，該國可能是 (A)沙烏地阿拉伯 (B)土耳其 (C)伊朗 (D)埃及。

(一)閱讀以下新聞摘要，回答 35-37 題：

杜拜暴雨釀災！人工增雨技術遭指禍首 氣象學家搖頭揭主因

2024-04-18 21:24 中央社／杜拜 18 日綜合外電報導暴雨

杜拜近日暴雨成災，有人歸咎於種雲增雨。

對此，氣象學家解釋，種雲技術可能有助降雨，但無法製造大雨或洪患等級的暴雨，也不可能達到讓杜拜陷入癱瘓的程度。民間氣象學家、前美國國家海洋暨大氣總署 (U.S. National Oceanic and Atmospheric Administration) 首席科學家茂伊 (Ryan Maue) 說，杜拜的暴雨「很可能不是種雲所造成。若是種雲所導致，他們就不會缺水了。人們無法利用稀薄的空氣來造雨，並創造 152 毫米的雨量。」氣象學家表示，這種極端降雨符合世界對人為氣候變遷的預期。「隨著氣候暖化，世界各地降雨越來越大，因為暖空氣可以留住更多水氣。」

35. () 請問：杜拜位於哪一國？ (A)沙烏地阿拉伯

(B)葉門 (C)阿曼 (D)阿拉伯聯合大公國。

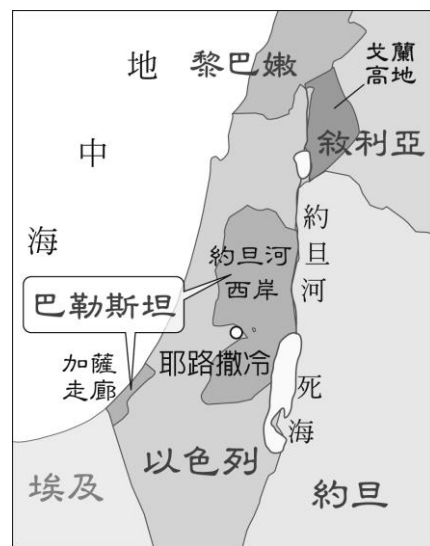
36. () 台灣年平均降水量為 2500mm，杜拜單日降雨量超過一百多毫米就變成暴雨成災，單日雨量超過該區年降水量。請問：杜拜屬於何種氣候？ (A)溫帶沙漠氣候 (B)熱帶沙漠氣候 (C)溫帶地中海型氣候 (D)熱帶雨林氣候。

37. () 顏帥到杜拜(25°N, 55°E)度蜜月，遊覽世界第一高建築—哈里發塔，顏帥在杜拜時間(東四區)晚上 6 點打電話回台灣給家人報平安，請問：當時台灣時間幾點？ (A)晚上 8 點 (B)晚上 10 點 (C)下午 2 點 (D)下午 4 點。

(二)請閱讀以下文章，並回答 38-40 問題：

巴勒斯坦地區於西元前原本為猶太人的居所，猶太人遭羅馬帝國驅逐後，流離失所到世界各地逾千年之久。二戰後，在國際力量支持下，猶太人重新回到巴勒斯坦地區，並建立以色列，但此地區早已居住著信奉伊斯蘭教的阿拉伯人。雙方因領土糾葛、宗教對立、族群差異、難民問題等新仇舊恨，屢屢發生衝突，以色列及巴勒斯坦各聲稱擁有所有的領土範圍。

2014 年為期 50 多日的槍戰，是近年來最大規模的以巴衝突，造成巴勒斯坦平民死傷慘重，至少 2,100 人死亡。2020 年 2 月，美國前總統川普提出中東和平計畫，然而該計畫被認為偏袒以色列。2020 年 5 月，巴勒斯坦總統阿巴斯宣布停止與美國和以色列的所有協議，讓以巴衝突新增變數。



▲巴勒斯坦地區位置圖

(參考資料：改寫自張道宜等，跨世紀的領土種族衝突，圖解簡明世界局勢，2017。)

38. () 三教聖城—耶路撒冷。與下列哪一宗教的關係最小？ (A)印度教 (B)基督教 (C)猶太教 (D)伊斯蘭教。

39. () 附圖為耶路撒冷氣候圖。請問：耶路撒冷 6-8 月夏季無雨的主要原因是 (A)低壓籠罩 (B)高壓籠罩 (C)距海遙遠 (D)涼流經過。

40. () 長久以來以色列和巴勒斯坦不斷發生暴力衝突。下列對當地衝突原因的敘述何者正確？

(A)以色列當地石油蘊藏豐富，各國都想要爭奪 (B)巴勒斯坦面臨印度洋，自古以來就是交通要衝 (C)雙方信仰不同，爭奪聖地及土地引發了許多仇恨 (D)法國及英國分別扶植兩個不同民族爭奪政治勢力。

