

桃園市立石門國民中學 113 學年度 第一學期 第一次段考 九年級 地理科試卷

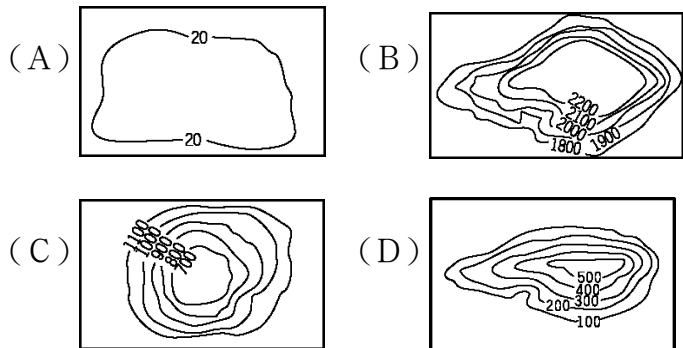
班級：

座號：

姓名：

一、單題 (每題 2 分, 共 40 分)

1. 歐洲的自然條件優越, 人口分布平均, 無人口特別集中或稀疏的現象。請問: 該地區有利人口平均分布的地形主體為下列何者?



2. 英國《經濟學人》雜誌針對全球 111 國的居住環境進行評鑑, 完成了「全世界最適合居住的國家」排名如附表。從表中資料可知, 下列哪一洲的生活品質最佳?

1	愛爾蘭	6	澳大利亞
2	瑞士	7	冰島
3	挪威	8	義大利
4	盧森堡	9	丹麥
5	瑞典	10	西班牙

(A) 歐洲 (B) 北美洲 (C) 大洋洲 (D) 亞洲。

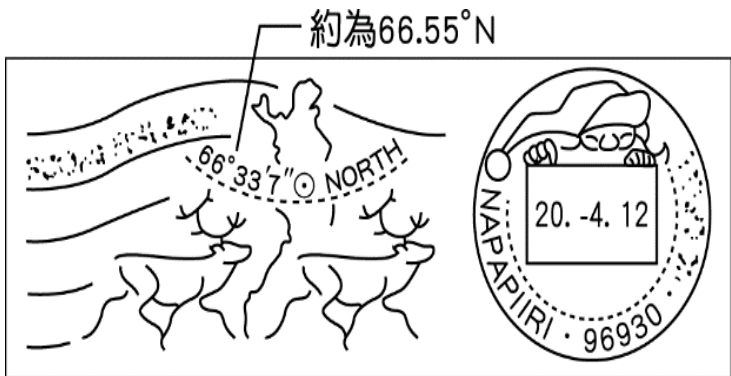
3. 東歐的範圍北起波羅的海, 東南濱臨黑海, 有許多國家分布在此。請問: 目前多將這些國家合併畫為同一地理區最主要的理由為下列何者?

- (A) 自然環境平坦, 往來交通無阻礙
- (B) 歷史上曾為共產國家, 限制各國經濟發展方向
- (C) 多信仰伊斯蘭教, 生活作息一致
- (D) 多為單一族群, 少有戰亂。

4. 塑膠製品進入海洋後易隨著海流漂流, 例如有許多塑膠垃圾隨著北大西洋暖流漂到北極地區, 冰封在冰層中, 使得該區成為塑膠垃圾的儲存槽。下列何國沿海的垃圾最可能會隨著上述洋流漂流到北極地區?

(A) 日本 (B) 波蘭 (C) 智利 (D) 挪威

5. 小嵐到某國旅遊時, 寄明信片回臺灣, 附圖是明信片上具有該國特色的郵戳。根據郵戳上的資訊判斷, 小嵐最可能到下列何國旅遊?



(A) 日本 (B) 芬蘭 (C) 英國 (D) 紐西蘭。

6. 歐洲的經濟發達, 醫療衛生水準相當進步, 人民平均壽命長。請問: 上述會造成當地何種社會現象?

- (A) 人口分布平均 (B) 人口出現老化現象
- (C) 人口出現負成長 (D) 人口素質不佳。

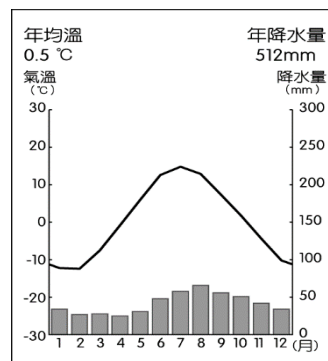
7. 西伯利亞地廣人稀, 人口主要集中在較溫暖的南部及何種交通工具分布沿線?

(A) 公路 (B) 鐵路 (C) 高鐵 (D) 空運。

8. 阿爾卑斯山為歐洲重要的山脈, 下列有關該地區的氣候敘述, 何者最為正確?

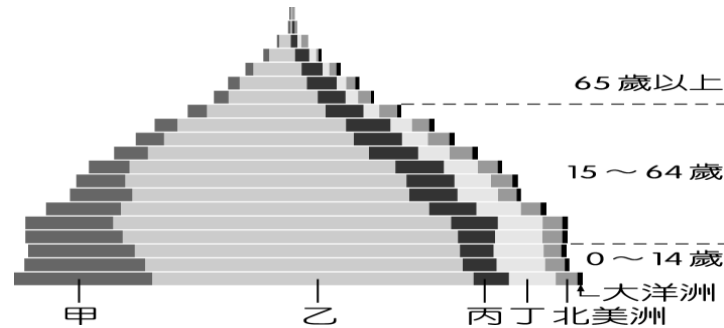
- (A) 阻擋西風東側乾燥 (B) 有利水氣深入內陸
- (C) 冬夏季節年溫差大 (D) 氣候呈現水平變化。

9. 附圖是羅瓦聶密的氣候圖, 該地以聖誕老人村聞名, 每年皆會在全日黑夜中舉辦盛大的嘉年華。該城市應屬於何種氣候類型?



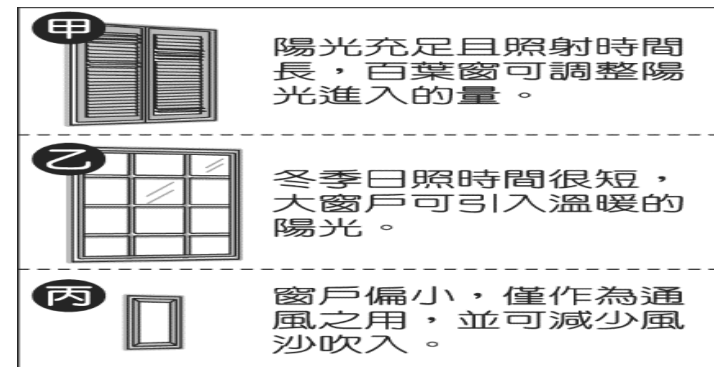
- (A) 高地氣候 (B) 寒帶氣候
- (C) 溫帶海洋性氣候 (D) 溫帶大陸性氣候。

10. 附圖是以每 5 歲為一級距, 統計 2013 年世界各年齡層人口數的示意圖, 其中不同顏色代表不同洲的資料。圖中丙應為哪一洲? 【110 年會考】



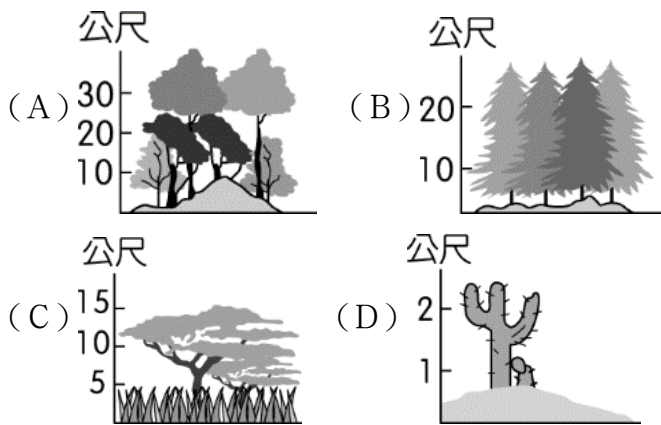

(A) 非洲 (B) 亞洲 (C) 歐洲 (D) 中南美洲。

11. 某位旅行家從北非乾燥地區出發, 向北經地中海到達北歐, 附圖是他記錄途中民宅常見的窗戶形式。在他的旅途中依序記錄的窗戶形式應為下列何者?

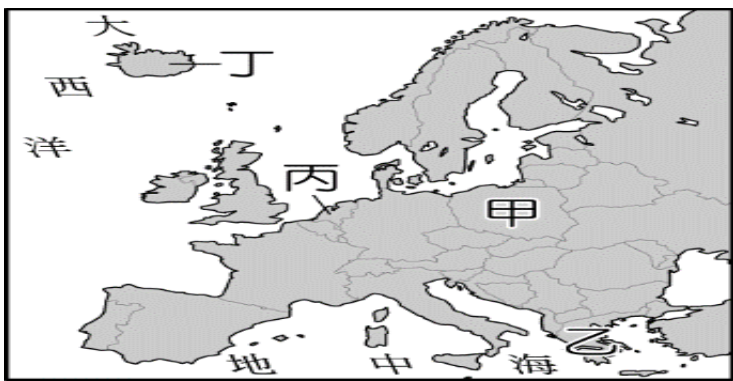


- (A) 甲→乙→丙 (B) 甲→丙→乙
- (C) 丙→甲→乙 (D) 丙→乙→甲。 [104. 會考]

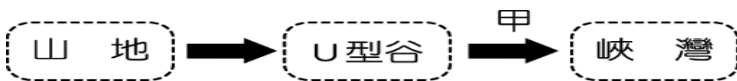
12. 俄羅斯娃娃是由多個相同圖案的空心木頭娃娃, 一個套一個組合而成, 是俄羅斯最具代表性的紀念品(如附圖)。此木頭屬於下列哪一種植物林相?



13. 歐洲發展相當多元化，因此國家眾多。若根據地理位置加以區分，附圖中哪一個國家位於西歐？
()



- (A) 甲 (B) 乙 (C) 丙 (D) 丁。
14. 附圖為某種冰河地形形成的過程，其中甲應為下列何者？〔103. 特招〕
()



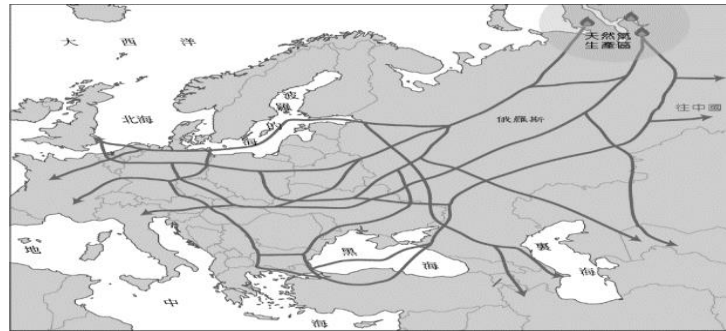
- (A) 冰河堆積 (B) 冰河侵蝕
(C) 海水侵入 (D) 海面下降。
15. 「鹿特丹因位於某條國際大河的出口，銜接北大西洋航線，轉口貿易發達，不僅是該國的最大商港，也是遠洋貨物進出歐洲的大門，有『歐洲的窗口』之稱。」上文中提到的國際大河應是下列何者？
(A) 多瑙河 (B) 萊茵河
(C) 密士失必河 (D) 聖羅倫斯河。
16. 附圖是新聞快報內容，若由法國尼斯的位置判斷，新聞的標題可能為何？
()



- (A) 地中海的恐攻 (B) 愛琴海慘劇
(C) 大西洋的陰霾 (D) 北海多事之秋。
17. 附表是平平針對英國和日本二島國的比較，表中哪一項目的內容完全正確？
()

項目 \ 國家	英國	日本
海陸位置	大西洋東側	太平洋西側
氣候類型	溫帶海洋性	溫帶海洋性
區域結盟	為歐洲聯盟會員國	為東南亞國協會員國

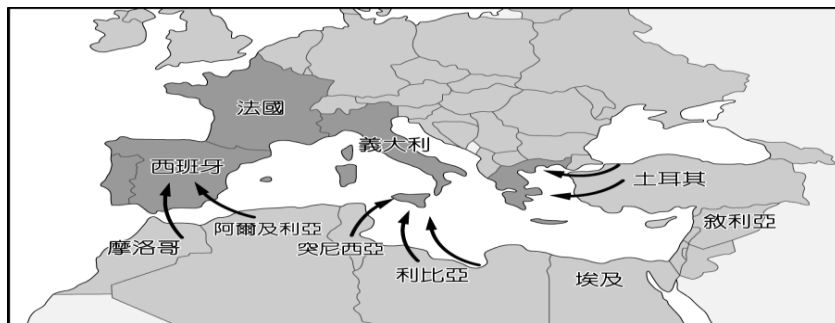
- (A) 海陸位置 (B) 氣候類型
(C) 國家體制 (D) 區域結盟。
18. 附圖是俄羅斯天然氣管線分布圖，下列哪一個國家相當依賴俄羅斯進口的天然氣？
()



- (A) 英國 (B) 瑞典 (C) 冰島 (D) 德國。
19. 2017年，荷蘭全國的電車就已經全面綠能化，採用100%的風力供電。荷蘭的風力發電來源主要是哪一種盛行風向？(A) ← (B) → (C) ↑ (D) ↓。
20. 申根區是指履行《申根公約》的歐洲國家組成之區域。請問以下關於申根區的說明何者正確？
(A) 加入申根區國家都使用歐元
(B) 所有歐洲國家都已加入申根區
(C) 申根區國家取消邊界限制
(D) 加入歐盟的國家才可以加入。

二、題組 (每格3分，共60分)

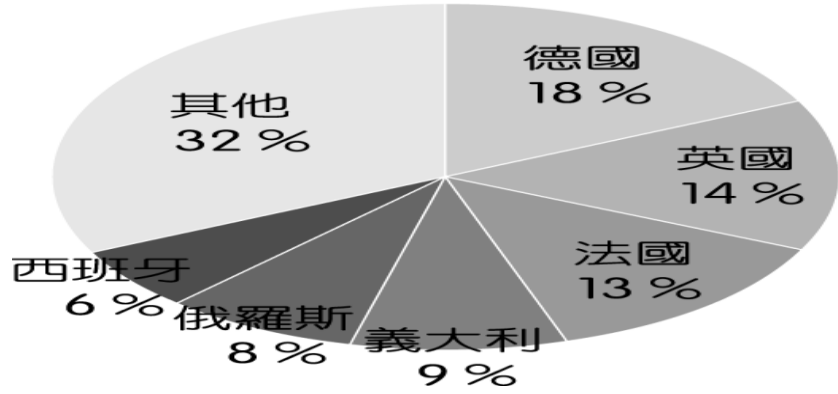
附圖為難民偷渡到南歐的主要海運路線，2007~2011年間有大量來自中東和非洲的難民來到歐洲，基於人道原則，歐洲國家的《申根協議》規定，難民需要在第一個進入的國家提出申請庇護，但由於難民人數過於龐大，收容問題困難，而引發引起歐洲各國間內政上的爭端。請問：



21. 圖中看出，難民偷渡前往歐洲須經過哪一個海域？
() (A) 大西洋 (B) 地中海 (C) 黑海 (D) 阿拉伯海。
22. 由圖可知，若根據《申根協議》規定，下列哪一個國家收到這些難民庇護的申請數量會相對較少？
() (A) 德國 (B) 義大利 (C) 希臘 (D) 西班牙。

還有 1 張試卷，加油！

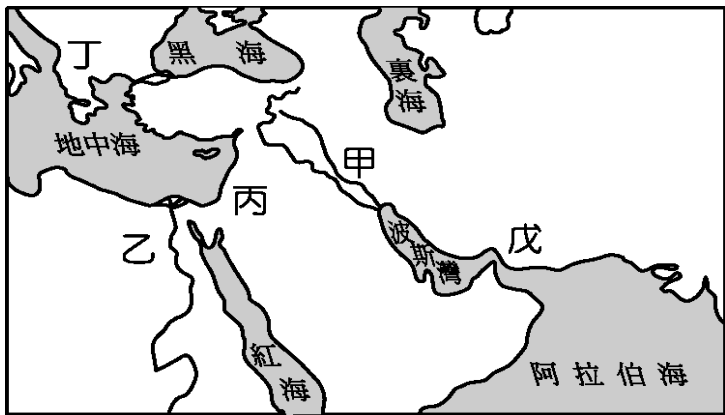
附圖是世界銀行在 2022 年統計歐洲人均 GDP 分布圖：



23. 由圖中判斷，哪一個國家經濟發展最高？
 (A)英國 (B)德國 (C)法國 (D)西班牙。
24. 由圖中判斷，哪一區國家的國民所得普遍較高？
 (A)東歐 (B)北歐 (C)南歐 (D)西歐。

南歐為歐洲古代文化的重心，也是海上商業活動的起源，奠定了歐洲發展的基礎。請問：

25. 歐、亞、非三洲為著名的古文明發源地，其地理位置相近，故彼此的文化影響相當密切，其中歐洲古文明發源的希臘，位於附圖中的何處？



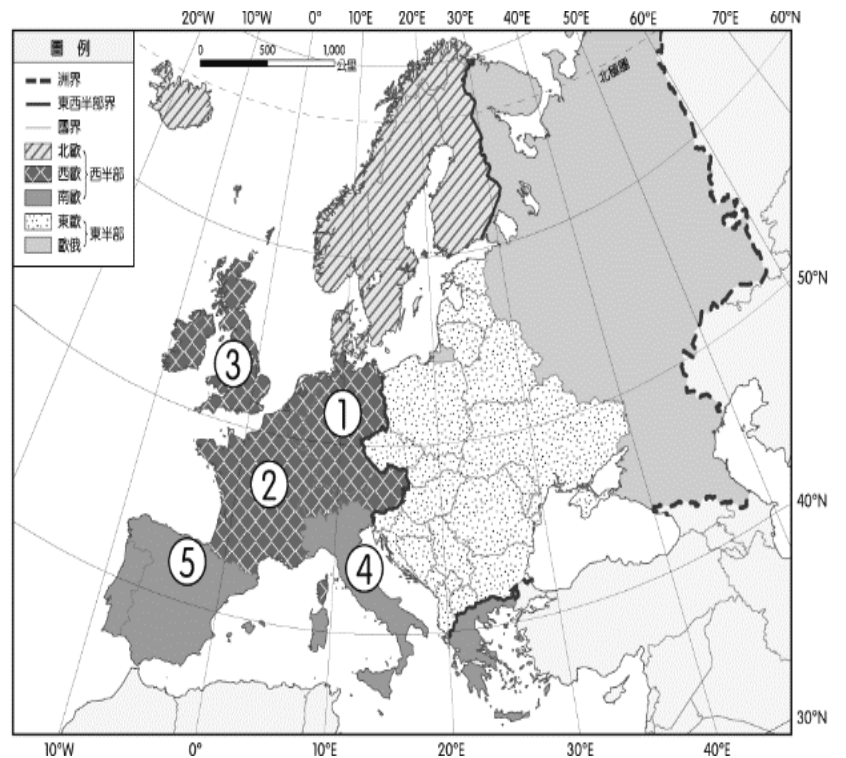
- (A)甲 (B)乙 (C)丙 (D)丁。

26. 西元前 8 世紀左右，希臘地區形成許多城邦，其中以斯巴達和雅典最為著名。從自然環境來看，希臘城邦眾多的原因和哪個因素可能最相關？
 (A)多丘陵地形崎嶇，人們往來不易
 (B)地中海氣候作物生長不易，無法養活大量人口
 (C)位阿爾卑斯山區，阻礙交通發展
 (D)谷灣式海岸有利航運發展，國內常住人口過少

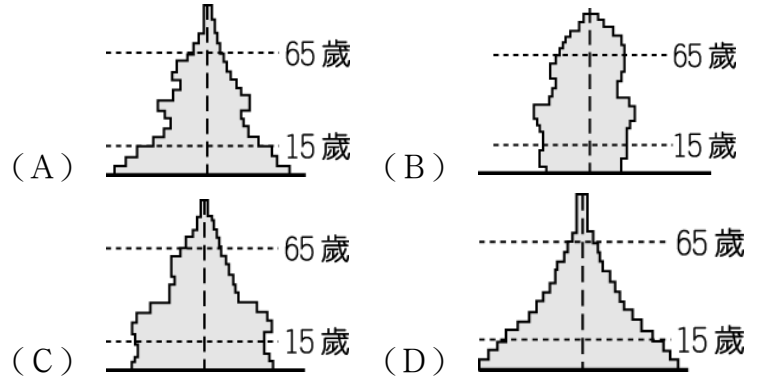
俄羅斯為全世界面積最廣大的國家，境內豐富的資源和獨特的自然環境，形成該國發展的特色。請問：

27. 俄羅斯境內的海洋運輸不發達，最主要的影響因素為
 下列何者？
 (A)海岸線短 (B)氣候嚴寒
 (C)缺乏港口 (D)海水較淺。
28. 西伯利亞今昔發展差異極大，對該地區發展影響最大的主要交通工具為下列何者？
 (A)公路 (B)航空 (C)鐵路 (D)河運。

歐洲國家數量眾多，各國面積及人口數差異大。除了俄羅斯外，歐洲人口最多的五個國家如附圖所示。這五個國家皆位於西半部歐洲，面臨著老年人口增加、自然增加率趨緩，甚至呈人口負成長的現象。請根據附圖回答下列問題：



29. 歐洲的人口分布較其他洲平均，其可能的原因為何？
 (A)火山眾多、土壤肥沃 (B)緯度較高、傳染病少
 (C)氣候溼潤、平原廣大 (D)高溫多雨、農業發達
30. 若要畫一張代表這五個國家的人口金字塔圖，下列何種類型最符合其國家人口發展現況？




俗諺：「民以食為天」，因此農業活動常成為各地區的主要發展課題。而不同區域的農業活動常受到當地自然環境的影響，如地形、氣候、土壤等。請問：

31. 老王是來自南歐的農夫，南歐的地形普遍崎嶇、起伏大，故土壤表層易流失，較為貧瘠。加上發現當地的氣候夏季乾熱、冬季溫溼的條件下，須克服生長季短暫的問題。請問：老王適合種植何種作物？
 (A)橄欖、葡萄 (B)小米、甘蔗
 (C)椰子、榴槤 (D)蓮霧、可可
32. 維奇為俄羅斯的農夫，他敘述當地的氣候特色：「每當六月時，我們可以從事一整天的農業活動，白天的時間特長，農作物生長情況良好。但到了十二月，在下午四、五點太陽就下山了，大家只好早早回家休息。」請問：這是由於該地區的哪一項特性所致？
 (A)氣候乾燥 (B)位東半球
 (C)位居高緯 (D)地勢較高。

背後有題，記得翻頁作答！

閱讀附圖，回答下列問題：



(a) 小德一行人到阿爾卑斯山山區滑雪。

(b) 乘坐纜車時，看到下方有許多寬平的谷地，以及沿著谷地興建的鐵、公路。

午峰站
海拔3,842m

為什麼玉山沒有這種滑雪場？

因為玉山的……

午峰站

戴夫站

(c) 到了午峰站後，大家熱烈地討論著……

(d) 因為雪量相當充足，午峰站到戴夫站的滑雪過程相當愉快！

33. 圖(b)中，他們所看到的谷地景觀，主要的成因為
 (A) 斷層陷落 (B) 河川切割 (C) 雨水溶蝕 (D) 冰河侵蝕。
34. 圖(c)中，小德應如何回答最為正確？
 (A) 緯度較低 (B) 高度較低 (C) 降水量較少 (D) 氣壓較高。
35. 提供當地降雪的水氣，主要是由下列何者所帶來的？
 (A) 西風 (B) 颶風 (C) 信風 (D) 季風。

為了因應全球化的趨勢，並增加國家發展的競爭力，地理位置相鄰的國家常結盟成為區域性的經濟組織。其中以歐盟歷史最悠久，成員國高達28國(2013年)，合作項目多，堪稱全球區域整合的典範。請問：

36. 歐盟的發展為區域性經濟組織的典範，甚至其功能在
 未來更有擴大的趨勢。請問：下列有關歐盟的特色敘述中，何者正確？
 (A) 東西方各種教派匯集，文化兼容並蓄
 (B) 使用英語為單一語言，利於國家溝通
 (C) 會員經濟發展程度相同，利於相互交流
 (D) 發行歐元為單一貨幣，有助商業交流。
37. 臺灣的資訊廠商為打入歐盟市場，欲在歐盟的會員國中投資設廠，以便其產品能夠行銷歐洲國家。其設廠地點最不可能位於下列何者？
 (A) 法國 (B) 澳洲 (C) 丹麥 (D) 西班牙。
38. 歐盟與美洲為世界上兩大經濟自由市場，若歐盟要銷售貨物到北美地區，兩者之間的交通貿易往來必須經過下列哪一個海洋？
 (A) 太平洋 (B) 地中海 (C) 大西洋 (D) 印度洋。
39. 歐盟組織的國家眾多，下列有關該組織的敘述，何者
 正確？

- (A) 基督教及伊斯蘭教國家各半
 (B) 歐盟使用英文為單一官方語言
 (C) 歐盟設立的目的是希望跨國經濟合作
 (D) 歐盟會員國皆使用歐元為單一貨幣。
40. 近年來加入的新成員國為該組織發展帶來新的契機及
 動力，這些國家主要分布的區域為下列何者？
 (A) 西歐 (B) 北歐 (C) 東歐 (D) 南歐。