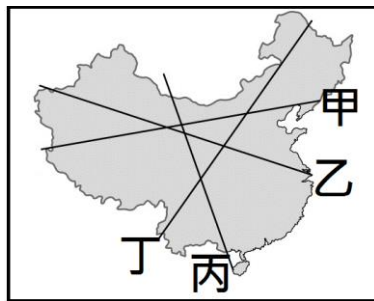


桃園市立光明國中一〇六學年度第一學期第二次段考評量試卷

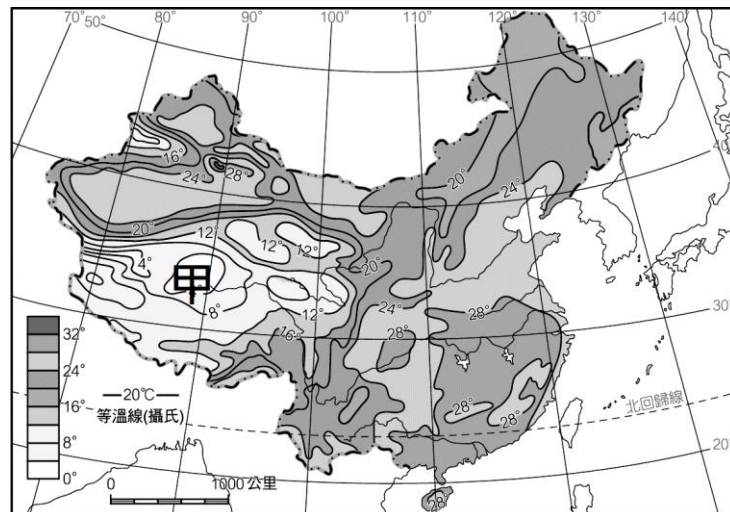
領域 (科目)	社會領域地理科	命題 教師	神龍大俠	範圍	L3-4	得分	
班級	八年 班	姓名		座號		家長 簽章	

本試卷 4 面，共 50 題，每題 2 分，總計 100 分。

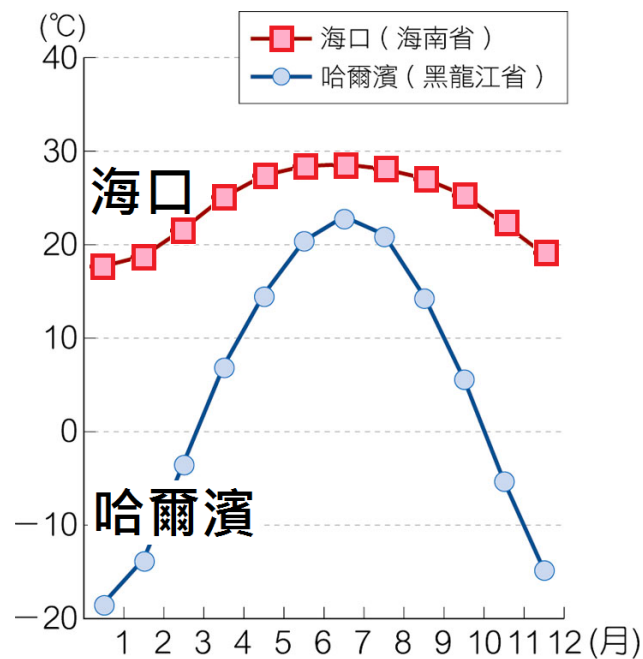
- () 1. 中國人口空間分布不均，和下列何項因素較無關聯？(A)地形 (B)氣候 (C)鄰國多寡 (D)發展程度
- () 2. 中國在 1950 至 1980 年間，對一月月均溫低於 0°C 的區域施行免費供煤取暖政策，但卻造成嚴重空氣汙染，影響當地居民健康。該政策實際供煤的區域，大致為下列哪座山脈以北的區域？
(A)秦嶺 (B)天山 (C)太行山 (D)大興安嶺
- () 3. 下列何者非現今中國的人口問題？
(A)勞動力不足 (B)高齡化 (C)性別比高 (D)人口素質低
- () 4. 中國的新生兒性別比偏高，以 2010 年為例，更高達 117.5，主要可反映出下列何項事實？
(A)男性平均壽命較長 (B)男性新生兒數量較多
(C)嬰兒存活率升高 (D)男性死亡率降低
- () 5. 中國幅員遼闊且各地生活起居皆受當地氣候、地形影響。請問：以下何者生活方式與區域配對正確？
(A)干欄式建築—北方 (B)平頂式建築—南方
(C)騎樓式建築—南方 (D)挖鑿窯洞—西部
- () 6. 中國人口分布不均，人口多集中在中國東半部。以人口分布情況劃分東、西半部，是以附圖中哪條線為分界？
(A)甲 (B)乙 (C)丙 (D)丁
- () 7. 承上題，中國人口稠密區大致和哪一氣候區吻合？
(A)高地氣候 (B)草原氣候 (C)季風氣候 (D)沙漠氣候
- () 8. 中國的民族多元複雜，除了漢族占總人口的 92% 外，其中哪個少數民族中所占的人口數最多？
(A)藏族 (B)回族 (C)壯族 (D)滿族
- () 9. 中國內陸地區的居民，可以利用鹹水湖的蒸發採取所需要的生活用鹽。下列哪個湖泊可以提供青藏高原居民生活的用鹽？
(A)大明湖 (B)青海湖 (C)鄱陽湖 (D)洞庭湖
- () 10. 中國的內流區氣候乾燥且地形封閉，河流形成不易，請問：內流河河水的主要來源為何？
(A)由高山積雪融化補注 (B)引鄰近河水修建人工河
(C)夏季季風帶來地形雨 (D)日夜溫差大多引起雲霧
- () 11. 關於中國降雨時空分布不均，以下何者敘述有誤？
(A)降水由東南向西北遞減
(B)降水季節主要來自冬季季風
(C)西北地區因距海遙遠，水氣無法到達
(D)等雨量線 500mm 可區分乾燥與季風氣候
- () 12. 該地以肉乳為主食，地勢高聳且氣候嚴寒，飼養犛牛作為重要交通工具。請問該地應位於何處？
(A)四川 (B)內蒙古 (C)西藏 (D)新疆
- () 13. 請問中國哪條河流屬於印度洋外流區？
(A)黑龍江 (B)雅魯藏布江 (C)額爾濟斯河 (D)長江



- () 14. 2009 年 7 月，新疆爆發了漢族與少數民族的流血衝突。這件事與哪個少數民族有關？
(A)藏族 (B)苗族 (C)蒙古族 (D)維吾爾族
- () 15. 附圖為中國七月等溫線圖，可發現夏季中國各地普遍高溫，但少部分地區有例外。請問：影響中國七月等溫線分布的主要原因為何？



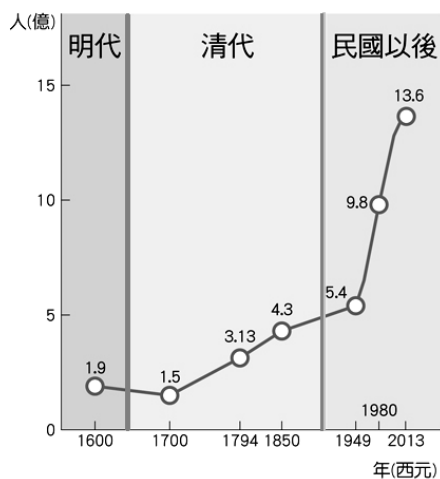
- (A)季風 (B)地形 (C)緯度 (D)距海遠近
- () 16. 承上題，下列哪位人物最有可能為甲地居民？
(A)胡迪：「我每天都騎著紅心馬，奔馳在大草原上。」
(B)巴斯：「這是離天最近的地方，可充分享受日照。」
(C)翠絲：「時常都下著雨的光景，我能在騎樓躲雨。」
(D)蛋頭：「厚牆小窗的房屋可擋風沙，否則身體都是沙。」
- () 17. 中國是世界上人口最多的國家，此說明中國具有何種優勢？(甲)人力充足 (乙)消費市場大 (丙)人口素質高 (丁)礦產資源豐富
(A)甲乙 (B)甲丙 (C)乙丙 (D)丙丁
- () 18. 見附圖，哈爾濱(黑龍江省)的月均溫皆比海口(海南省)來得低，最主要是受到哪一項因素的影響？



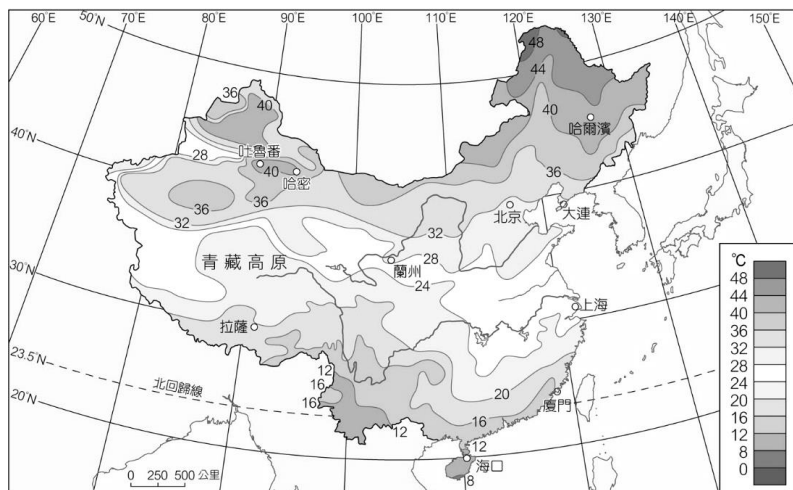
- (A)緯度 (B)季風 (C)地形 (D)距海遠近

【~背面尚有試題~】

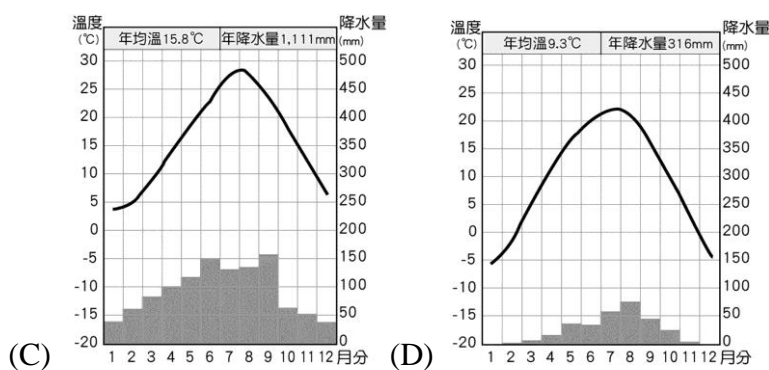
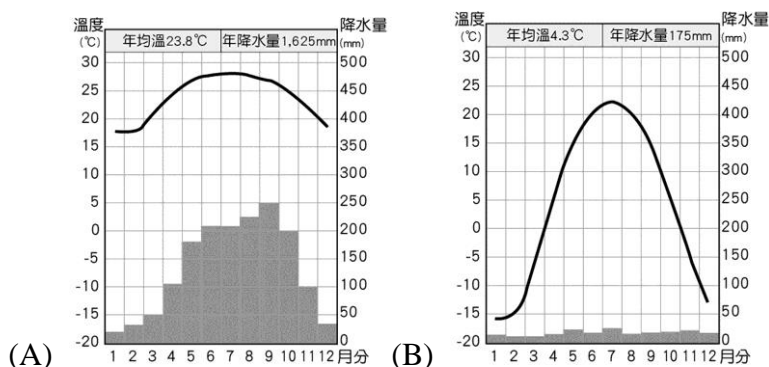
- ()19. 右圖為近代中國人口成長圖，請問其人口成長趨勢有何特徵？
 (A)西元 1700 年以前，中國人口維持不變
 (B)西元 1850 年，中國人口數已突破五億
 (C)西元 1949 年後，中國人口快速成長
 (D)現今，受到計畫生育影響人口呈現負成長



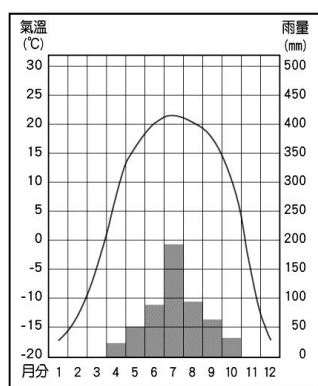
- ()20. 「年溫差」是指在一年之中最暖月均溫和最冷月均溫的差距。下圖為中國的年溫差分布圖，可看出其主要受到哪一項因素影響？



- (A)緯度 (B)季風 (C)地形 (D)距海遠近
 ()21. 附圖為中國四個都市的氣候圖。僅考慮氣候特色，圖中哪個氣候的環境負載力最低？



- ()22. 右圖為中國某地的氣候圖。請問：該地屬於何種氣候類型？
 (A)高地氣候 (B)溫帶草原
 (C)溫帶季風 (D)副熱帶季風



- ()23. 中國 2013 年的文盲率為 4.6%，顯示出人口素質偏低的問題，若想要提升人口素質，下列哪項措施較為合適？
 (A)提升高等教育水平 (B)延長國民教育年限
 (C)合理分配教育資源 (D)鼓勵偏鄉人口遷移

- ()24. 中國人口眾多、成長快速，雖然過往實施「一胎化政策」，使得自然成長率大幅下降，但為何人口增加的數量依然很多？
 (A)死亡率降低 (B)棄嬰風潮興盛
 (C)社會增加率高 (D)人口總數龐大
 ()25. 下述何者為秦嶺、淮河在氣候上所代表的意義？
 (甲)年雨量 750mm 等雨量線
 (乙)年雨量 500mm 等雨量線
 (丙)1 月月均溫 20°C 等溫線
 (丁)1 月月均溫 0°C 等溫線
 (戊)熱帶季風與副熱帶季風氣候分界
 (己)副熱帶季風與溫帶季風氣候分界
 (A)甲丁己 (B)甲丁戊 (C)乙丁己 (D)乙丙戊

題組一：請回答下列問題

文節錄自 S.H.E 【你曾是少年】歌詞 (作詞：肖洋)

.....
 你我來自
 湖北 四川 廣西 寧夏 河南 山東 貴州 雲南 的小鎮鄉村
 曾經發誓 要做了不起的人

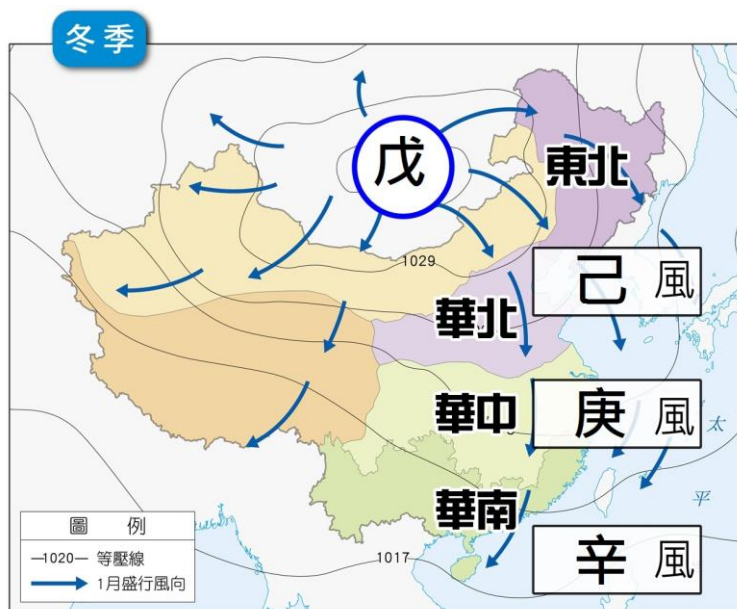
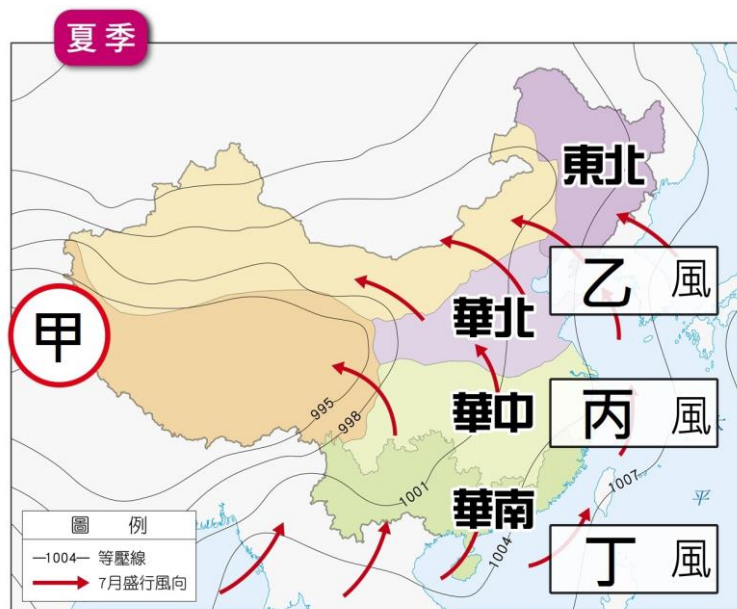
卻在 北京 上海 廣州 深圳
 某天夜半忽然醒來 站在寂寞的陽臺
 只想從這無邊的寂寞中逃出來

許多年前 你有一雙清澈的雙眼
 奔跑起來 像是一道春天的閃電
 想看遍這世界 去最遙遠的遠方
 感覺有雙翅膀 能飛越高山和海洋

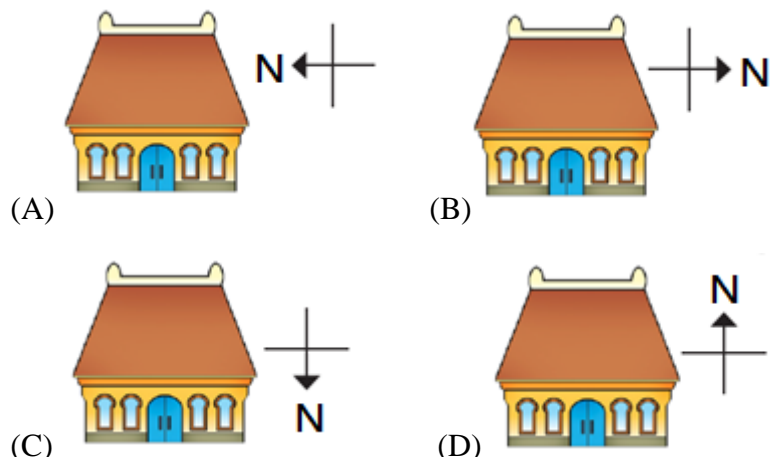
- ()26. 阿波偶然間聽到了【你曾是少年】這首歌曲，歌曲中描述從鄉村到都市打拼的少年心情寫照。請猜測文中少年從小鎮鄉村至北京等城市打拼的主要原因為何？
 (A)城市環境負載力較低 (B)城市有較好的空氣品質
 (C)城市有較多的工作機會 (D)城市提供寂寞的陽臺
 ()27. 承上題，流動人口大量進入這些城市，可能造成很多都市問題，其中**不包括**以下何種？
 (A)公共設施資源不足 (B)都市治安疑慮
 (C)春運難以疏通 (D)性別比失衡
 ()28. 自 1980 年代後，沿海地區經濟改革開放，吸引鄉村人口違法遷移到都市工作，造成都市人口管理上的問題，尤其每年「春運」的過年返鄉人潮，更造成交通運輸上的莫大挑戰。請問：上述所提及的「春運」人潮，最主要移動的方向為何？
 (A)由西部到東部 (B)由東部到中部
 (C)由北部到南部 (D)由中部到東部
 ()29. 中國研究人員針對 1980 年代以後出生的中國年輕人，發表了調查報告，並給他們取了一個名字—「蟻族」。他們聚居在中國最富裕的城市邊緣，平均居住面積不及 10 平方公尺，每天擠一兩個小時的公車上班，工資明顯低於城鎮平均工資，卻咬緊牙關堅持著大城市的夢，就像一群螞蟻雄兵一樣。根據這份報告推斷，下列何地附近最能觀察到這種蟻族的生活形態？
 (A)雲貴高原 (B)黃土高原
 (C)珠江三角洲 (D)塔里木盆地

【~下一頁尚有試題~加油！！】

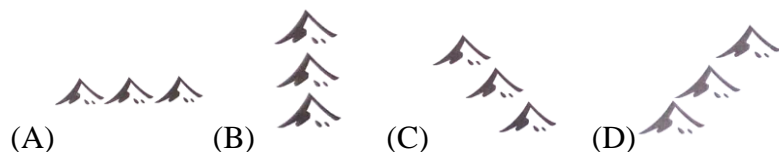
題組二：附圖為中國夏季及冬季季風氣壓圖，回答以下問題：



- () 30. 季風的產生是因大範圍海陸性質差異，導致海陸氣壓系統不同、風向不同，請問：冬季時風向何者正確？
 (A)風由海洋吹向陸地 (B)風由陸地吹向海洋
 (C)風由高山吹向平原 (D)風由平原吹向高山
- () 31. 請判斷夏季氣壓圖中，甲~丁代碼配對何者正確？
 (A)甲-低壓 (B)乙-西北風 (C)丙-北風 (D)丁-東南風
- () 32. 請判斷冬季氣壓圖中，戊~辛代碼配對何者正確？
 (A)戊-低壓 (B)己-西北風 (C)庚-西南風 (D)辛-西南風
- () 33. 以季風風向判斷，中國傳統房屋建築為了顧及「冬暖夏涼」的需求，房屋方位多屬下列何者？

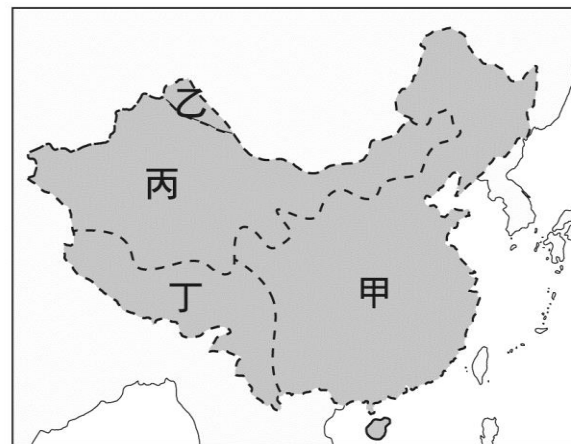


- () 34. 中國東半部何種走向的山脈阻擋夏季暖濕氣流，造成夏季季風無法深入西北內陸？



- () 35. 冬季時每當寒流來襲，氣象主播會說：「因來自○○的高氣壓勢力十分強大，中國東北、華北一帶已開始降雪，臺灣氣溫也將一路下滑。」請問：上述的○○應為下列何地？
 (A)哈薩克 (B)蒙古 (C)日本 (D)北韓

題組三：附圖為中國河川流向分布圖，請回答以下問題：

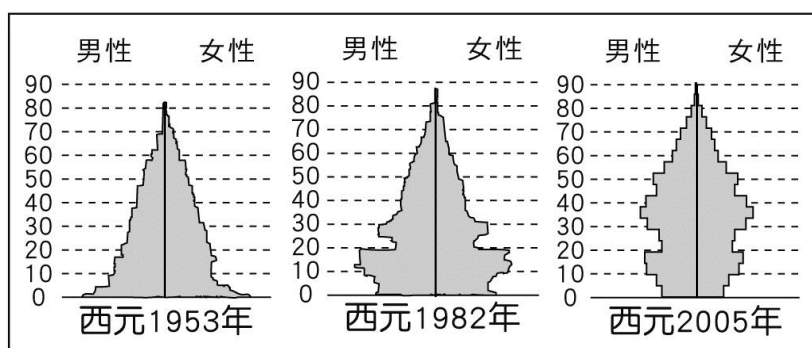


- () 36. 鳴人為了準備考試，整理以下表格，但佐助說有個地方寫錯了，請幫忙指出哪一欄寫錯了？

	(A)	(B)	(C)	(D)
河川	黃河	雅魯藏布江	塔里木河	怒江
流向	(甲)太平洋外流區	(乙)北極海外流區	(丙)內流河	(丁)印度洋外流區

- () 37. 每年乙區的河川在春天會發生「凌汛」，「凌汛」指河川上游已經融冰，但下游仍然結冰，河水從冰層上溢流出來造成水災。請問：此現象跟該河流何項特性有關？
 (A)流向朝北 (B)河水混濁 (C)流量不穩 (D)流速緩慢

題組四：附圖為中國歷年人口金字塔圖，請回答下列問題：



- () 38. 判斷一地勞動人口高低的指標，與下列哪個年齡層人口的比例有關？
 (A)男性人口 (B)老年人口 (C)壯年人口 (D)幼年人口
- () 39. 觀察歷年老年人口比例變化，下列敘述何者正確？
 (A)比例不斷下降 (B)比例不斷上升
 (C)比例先降後升 (D)比例不曾改變
- () 40. 承上題，下列何項人口成長特徵，與老年人口比例變化最為密切？
 (A)死亡率維持穩定 (B)出生率大幅下降
 (C)人口數成長快速 (D)性別比逐年攀升
- () 41. 由圖判斷，目前中國政府亟需著手進行規劃的政策為何？
 (A)進行產業轉型升級，輔導壯年人口創業
 (B)規劃老人安養照護，增加社會福利制度
 (C)加強計畫生育政策，避免加重資源消耗
 (D)實施城鄉分隔政策，人民不得任意遷徙

【~背面尚有試題~】

題組五：請回答下列問題

中國知名節目『爸爸去哪兒第一季』，由五位明星父親與自己的子女一起過夜旅行。以下為節目中製作單位所選取的六個錄製地點地理形態從沙漠跨越到島嶼，氣候特點從亞熱帶跨越到溫帶。氣候多變和唯美的景色，也為節目增色不少。



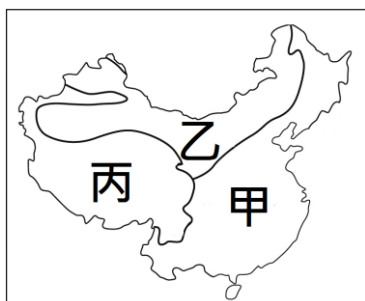
站驛	地點		內容簡介
	位置	地理形態	
第一站	北京市靈水村	華北地區村莊	野炊 唱《走在鄉間的小路上》/ 放羊
第二站	寧夏回族自治區騰格里沙漠	西北地區沙漠	騎駱駝 / 搭野營帳篷 / 填埋麥草方格 / 玩滑沙遊戲 捕魚 / 坐羊皮艇過黃河
第三站	雲南省文山壯族苗族自治州	西南地區石灰岩地貌	遊覽風貌 / 彝族人歡迎儀式 放飛大雁 / 獲取食材 挖藕 / 蹭飯 / 賣食材
第四站	山東省雞鳴島	華東地區海島	海邊釣魚 / 出海作業 地道尋寶 / 修補房頂
第五站	湖南省岳陽市	中南地區村莊	交換爸爸 / 捉泥鰍 小豬比賽 / 表演皮影戲
第六站	黑龍江省雪鄉國家森林公園	東北地區林場	堆雪人 / 做晚餐 暴雪尋馬 / 當地食材做晚餐

()42. 在活動剛開始時，孩子們常因為不習慣與他人分享，常發生小衝突。在中國常有因平時受到父母細心照顧，卻因此恃寵而驕的兒童，被戲稱為「小皇帝」，這種小皇帝的出現，是主要因為中國施行哪項政策所帶來的問題？

- (A)共產制度 (B)民族融合 (C)計畫生育 (D)義務教育

()43. 請由各站位置及活動內容中判斷，這些活動地點多位於附圖中何種氣候區內？

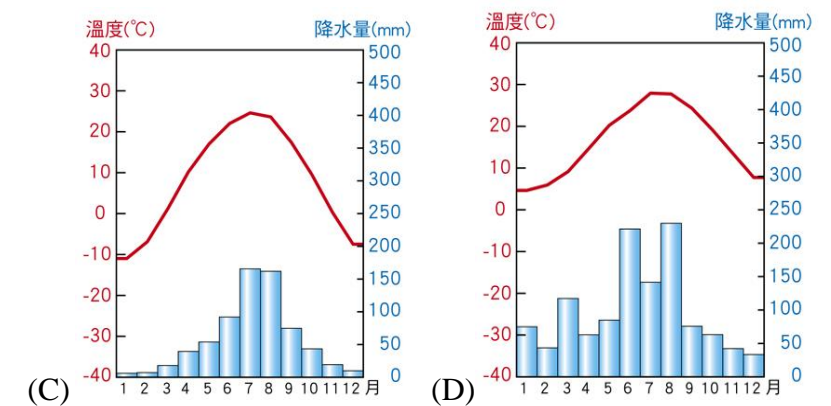
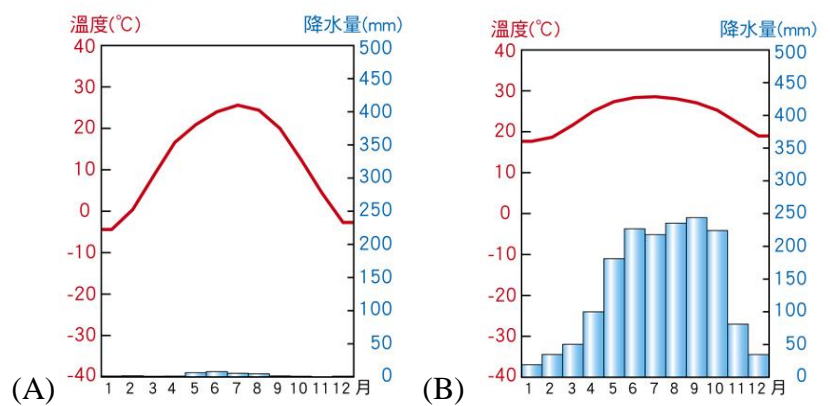
- (A)甲 (B)乙 (C)丙



()44. 在第二站騰格里沙漠中，他們體驗騎乘雙峰駱駝的活動。雙峰駱駝每年可以長出7公斤的毛，請問：雙峰駱駝長毛的特色是為了適應沙漠氣候的哪種特徵呢？

- (A)年降水量少 (B)年日溫差大
(C)植被稀少 (D)空氣稀薄

()45. 承上題，在第二站中體驗了在沙漠中騎駱駝的活動，請問：下列何者最接近當地的氣候環境？



()46. 第三站到了雲南省，除了壯族、苗族、彝族之外，還有很多少數民族分布在此，下列哪項是造成該地區族系多元，且保有傳統生活方式的主要原因？

- (A)人口政策 (B)鄰國眾多 (C)地形阻隔 (D)氣候適宜

()47. 承上題，在第三站雲南省時，他們一起遊覽了當地美麗的石灰岩地貌，請問：他們最有可能利用下列何種交通工具？

- (A)撐船 (B)騎馬 (C)乘坐犛牛 (D)行走棧道

()48. 第五站到了風光明媚的湖南省，在淡水湖裡抓泥鰍、捕魚。中國的湖泊依據當地氣候環境不同，形塑出不同的湖泊特色，依據湖水含鹽度的高低可分為淡水湖和鹹水湖，下列關於湖泊的敘述何者正確？

- (A)Kimi：「洞庭湖和納木錯都是屬於淡水湖」
(B)石頭：「淡水湖沒有調節河川水量的功能」
(C)Cindy：「青海湖是中國第一大淡水湖」
(D)天天：「鹹水湖是因為當地蒸發旺盛而成」

()49. 第六站來到了東北地區的黑龍江省，體驗了堆雪人的活動等活動，豐富的雪量讓他們能在雪橇上玩起暴雪尋馬的遊戲，而晚上一起利用當地食材烹煮晚餐。一起觀看節目的花家人，紛紛發表自己的看法，請問誰的看法最為正確？

- (A)花爸：「他們的晚餐應該是吃肉或者乳製品吧。」
(B)花媽：「俗話說南船北馬，這裡就是以馬為交通工具。」
(C)橘子：「看這裡的景觀，應該是屬於溫帶草原氣候。」
(D)柚子：「這裡冬天會下雪是因為距海太遙遠了。」

()50. 柚子發現第二站寧夏回族自治區和第四站山東省兩者緯度差不多，但是景觀卻有很大的差異，請問：造成此種差異的原因最可能是下列何者？

- (A)地質環境 (B)日照長短 (C)地形高低 (D)距海遠近

【~試題結束~請多多檢查!】