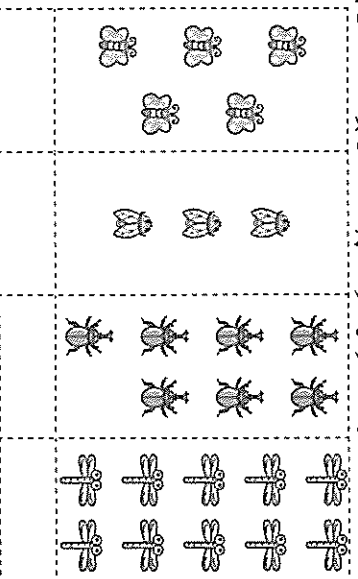


一、看圖回答問題：每格 2 分，共 32 分

1. 數一數，有多少？

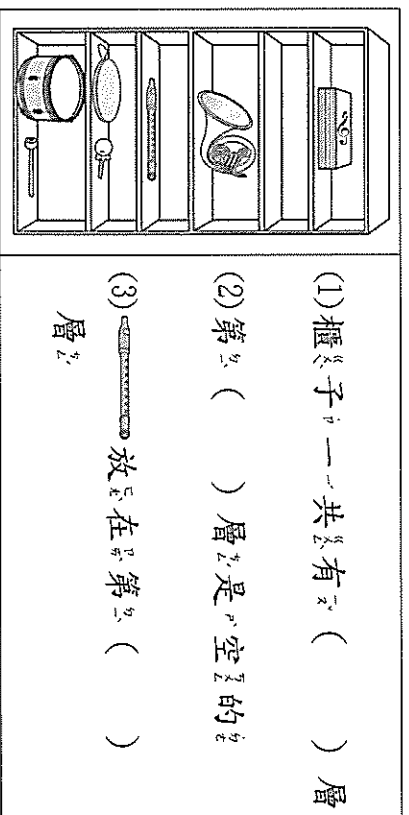


2. 左右各有 ( ) 隻動物，下圖有 ( ) 個樂器，一個樂器只能搭配一隻動物，樂器夠不夠？ ( 夠 ， 不夠 )。

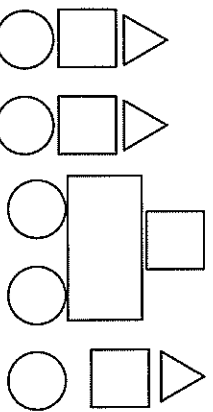


(2) 從右邊開始數：  
 ① 排在第 ( ) 個。  
 ② 排在第 4 個的是 ( )。

3. 由下往上數。

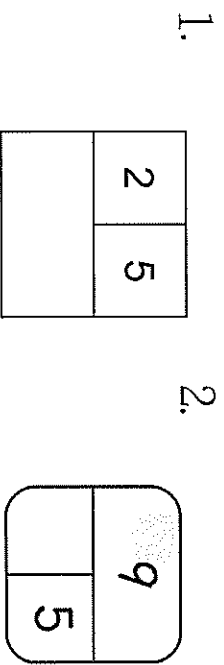


4. 每一種形狀有幾個？



(1) 長方形有 ( ) 個。  
 (2) 正方形有 ( ) 個。  
 (3) 三角形有 ( ) 個。  
 (4) 圓形有 ( ) 個。

二、合合看看、分分看看：每題 2 分，共 18 分



3.

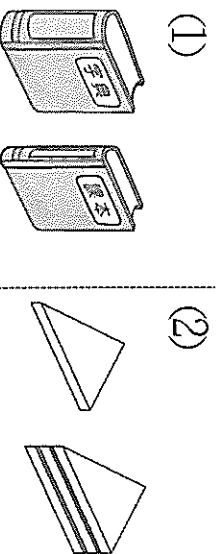
( ) 顆 和 ( ) 顆 ，合起來有 ( ) 顆球。

4. 一共有幾朵花？

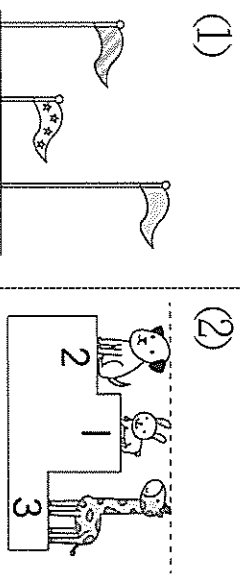
(1) 2 朵和 ( ) 朵合起來是 ( ) 朵。  
 (2) 來是 ( ) 朵。

三、圈圈看看：每小題 2 分，共 16 分

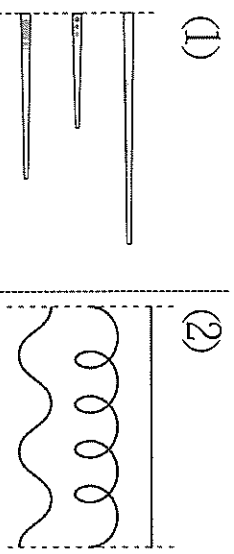
1. 把比較厚的圈起來。



2. 把最高的圈起來。



3. 把最長的圈起來。



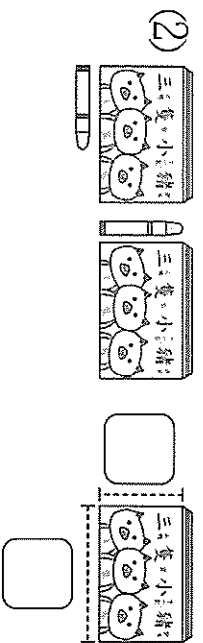
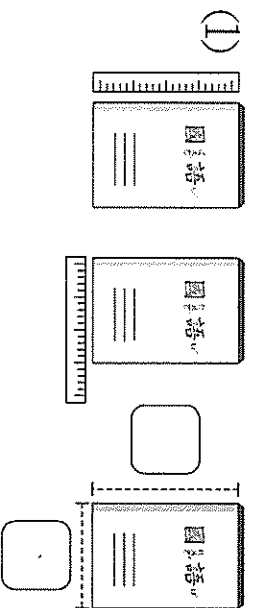
(注意：背面還有題目。)

4. 圈出一個圖，哪 2 個數合起來是 10？

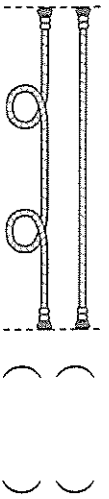
①	②								
<table border="1"><tr><td>2</td><td>4</td></tr><tr><td>6</td><td>7</td></tr></table>	2	4	6	7	<table border="1"><tr><td>5</td><td>7</td></tr><tr><td>4</td><td>3</td></tr></table>	5	7	4	3
2	4								
6	7								
5	7								
4	3								

四、比一比、比一比：每只答 2 分，共 6 分

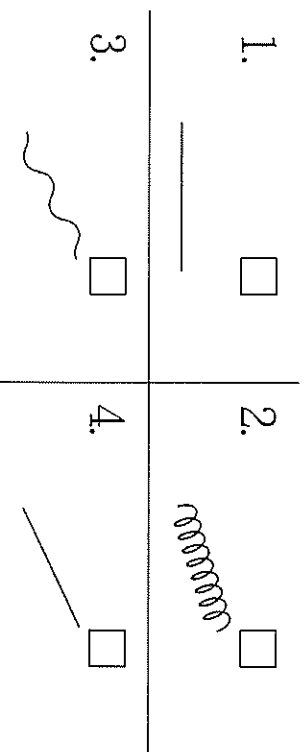
1. 哪一邊比較長？在  中打  $\checkmark$




2. 比較長的在  中打  $\checkmark$ ，比較短的在  打  $\times$ ：



五、哪些是直線？請打  $\checkmark$ ；哪些是曲線？請畫  $\bigcirc$ ：每題 1 分，共 4 分




六、連線：每線 1 分，共 4 分



ㄅ	ㄆ	ㄇ	ㄈ
圓形	正方形	長方形	三角形

七、看圖填入代號。每格 1 分，共 5 分

共 5 分



① (    ) 和 (    ) 是可以滾動的。

② (    )、(    ) 和 (    ) 有平的平面。

八、數數看，比一比：(共 15 分)

(1) 樂器店裡有多少樂器？先寫出數字，再畫出一樣的  $\bigcirc$ 。

(數字每格 1 分，畫  $\bigcirc$  每格 2 分，共 11 分)

5											

2. 看上面圖，圈出圖看：(每格 2 分)

① ( , ) 比較多。

② ( , ) 比較少。