


班級級別	年級	班級	姓名	範圍		家長簽章	座號
				第 5 章 ~ 第 9 章	簽章		

100 分	90~99 分	80~89 分	70~79 分	60~69 分	60 分以下	平均分
人	人	人	人	人	人	分

一、圈出你看 (每題答 2 分，共 12 分)

- 把比較大的數圈起來。  
( 23 , 27 )
- 把比較大的數圈起來。  
( 19 , 11 )
- 看圖圈出正確的時間。  
寫下功課



( 上午 8 點 , 下午 8 點 )


- 請你幫小松鼠看看東西夠不夠嗎?  
把對的的答案圈起來。

(1) 比 (多, 少)。



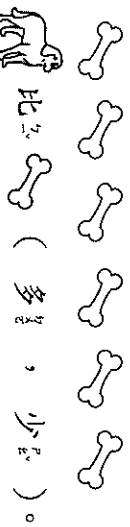
比 (多, 少)。

(2) 比 (多, 少)。



比 (多, 少)。

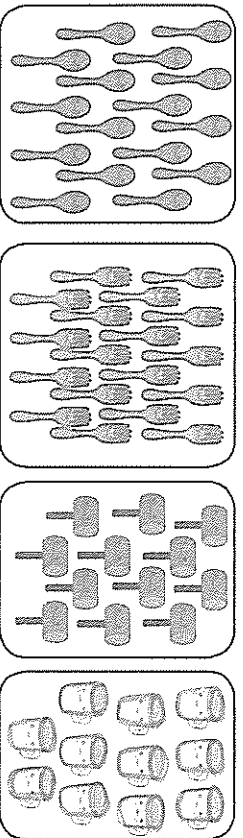
(3) 比 (多, 少)。



比 (多, 少)。

二、連連看 (每題答 1 分，共 21 分)

- 數數看看，有多少？畫線連連看。



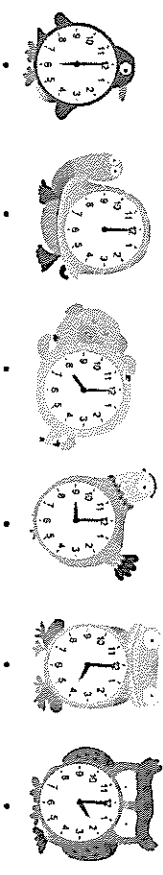
12

11

18

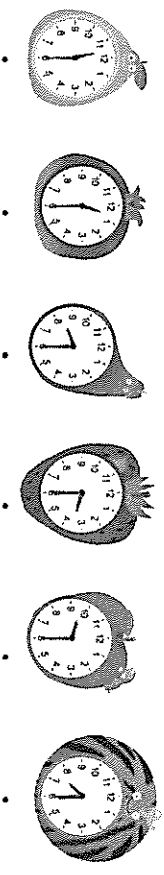
16

- 
- 



6 點 4 點 8 點 12 點 2 點 9 點

- 
- 
- 



12 點半 9 點半 7 點半 11 點半 8 點半 3 點半

- 
- 
- 
- 


① ② ③ ④ ⑤

$4+2$   $7-0$   $3+6$   $8-6$   $9+1$

10 9 7 2 6

三、看看圖做做看看 (每題答 2 分，共 47 分)

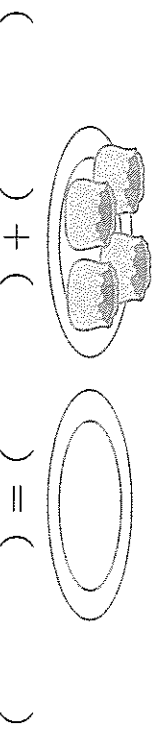
- 先 10 個、10 個一一圈，再寫出有多少。  
少。(3 分)



有 ( ) 隻青蛙。


跳走 1 隻青蛙，有 ( ) 隻青蛙。  
再跳走 1 隻青蛙，有 ( ) 隻青蛙。

- 一共有多少顆燒賣?



( ) + ( ) = ( )

3. 怪物們正在排隊伍。



第23個排  
第28個排

排在第( )個，排在第( )個。  
排在第( )個，排在第( )個。

4. 填填看看，用1、2、3表示事情發生的先後順序。

①吃早餐

( )



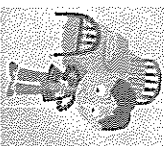
②搭車上學

( )

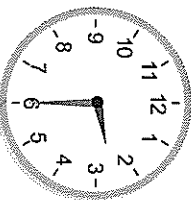


③起床

( )



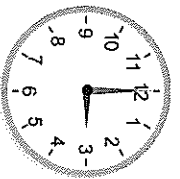
5. 看鐘面填寫看看：



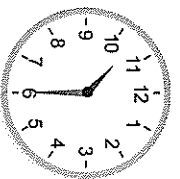
短針指到數字( )和( )

的中間，長針指到數字( )，

是( )點半。



( )點



( )點半




第19個

第26個

(1) 第23個冰品是( )，( )。

(2) 是第( )個冰品。

8. 數數看看，填填看看。



(1) 蝴蝶停在第21朵花，蝴蝶的前一朵花是第( )朵花。

(2) 蜜蜂停在第29朵花，蜜蜂的後一朵花是第( )朵花。

四、應用題(每答5分共20分)

1. 畫○算算看看，再用算式記下來。  
有8個氣球，飛走了2個，剩下幾個氣球？

畫○：

算式：

剩下( )個氣球

2. 畫○算算看看，再用算式記下來。  
池塘裡有5隻青蛙，又跳來了3隻，池塘裡共有幾隻青蛙？

畫○：

算式：

共有( )隻青蛙

3. 畫○算算看看，再用算式記下來。  
水桶裡有10條魚，3隻海獅每隻吃了1條，還剩下幾條魚？

畫○：

算式：

剩下( )條魚

4. 畫○算算看看，再用算式記下來。  
丹丹去採香菇，上午採了3朵，下午採了7朵，共採了幾朵香菇？

畫○：

算式：

共採了( )朵香菇