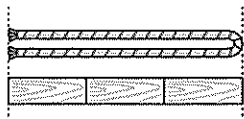


班級	年級	班級	姓名	座號	家長簽章
----	----	----	----	----	------

一、選擇題：(每題 2 分，共 14 分)

- ( ) 一盒餅乾有 17 個，可以分成 8 個和幾個？  
 ① 9 個    ② 8 個    ③ 7 個。
- ( ) 10 顆小籠包裝一盒，38 顆小籠包可以裝成 3 盒後，還剩下  
 ① 8 顆    ② 10 顆    ③ 18 顆。
- ( ) 繩子打開後和幾個木條一樣長？



- ① 4 個    ② 6 個    ③ 8 個。

- ( ) 是由哪兩個圖形拼出來的？  
 ①    ②    ③

- ( ) 拼成 至少需要幾個 ？  
 ① 1 個    ② 2 個    ③ 3 個。

- ( ) 下面哪一個不是用 4 個 拼出來的？  
 ①    ②    ③

- ( ) 數數時，5 個一數，不會出現下面哪一個數？  
 ① 95    ② 20    ③ 62。

二、填填看：(每題 1 分，共 16 分)

- 填入正確的代號。

ㄅ  $9+9$     ㄆ  $7+9$     ㄇ  $9+8$

ㄐ  $8+9$     ㄑ  $8+7$     ㄒ  $8+8$

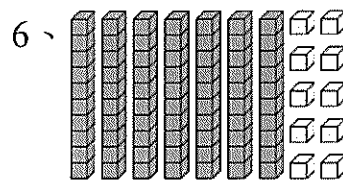
- ( ) 心算卡答案是 16 的有 ( )
- ( ) 心算卡答案是 17 的有 ( )
- ( ) 心算卡答案是 18 的有 ( )

- 83 的十位數字是 ( )，表示有 ( ) 十，個位數字是 ( )，表示有 ( ) 個 1。

- 10 顆扭蛋裝一籃，有 5 籃又有 12 顆，合起來是 ( ) 顆扭蛋。

4、 $14-7=( )$      $15-7=( )$

- 需要 ( ) 個小正方形 ，才能拼出一個大的正方形 。



有 ( ) 個十和 ( ) 個一，合起來是 ( )。記在位值表上。

十位	個位

三、圖圖看：(每題 1 分，共 17 分)

- 把答案正確的算式圈起來。

$8+6=14$      $7+5=12$      $9+9=19$


- 圈出答案是 6 的算式。

( $14-8$  ,  $12-4$  ,  $13-7$  ,  $11-5$  )

- 把比較大的數圈起來。


( 27 , 32 )

- 看數字圈圖圖看。




- 把 36 枝鉛筆，送給 26 個小朋友一人一枝，鉛筆 ( 夠 , 不夠 ) 送給小朋友。

- 找找看下面圖形有那些是正方形？圈起來。

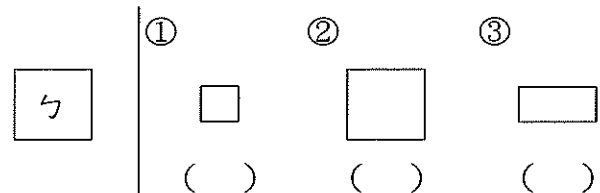


四、勾選題：(每題 1 分，共 6 分)

- 最長的打  $\checkmark$ 。

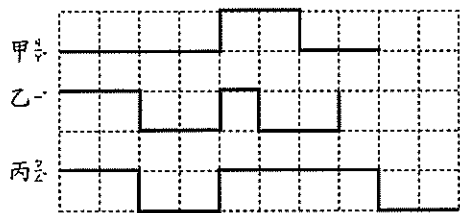


- 找出和 圖大小、形狀都一樣的正方形，並在 ( ) 中打  $\checkmark$ 。



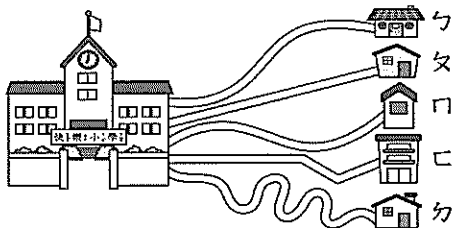
五、看圖回答問題：(每格1分，共20分)

1、繩子有多長？



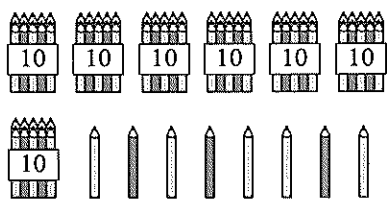
- (1) 甲繩有 ( ) 格長。  
 (2) 乙繩有 ( ) 格長。  
 (3) 丙繩有 ( ) 格長。

2、




- (1) 哪一間距離學校最長？ ( )  
 (2) 哪一間距離學校最短？ ( )

3、一捆鉛筆有10枝，下面共有幾枝鉛筆？



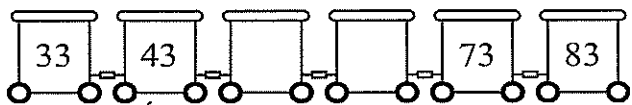
有 ( ) 個十和 ( ) 個一，  
 合起來是 ( ) 枝。

4、17顆氣球破了3顆，還剩下幾顆氣球？將破掉的氣球畫掉，再填看。



算式：( ) - ( ) = ( )  
 還剩下 ( ) 顆氣球。

5、按照數的順序填填看。



6、從48數到60，2個一數填填看。

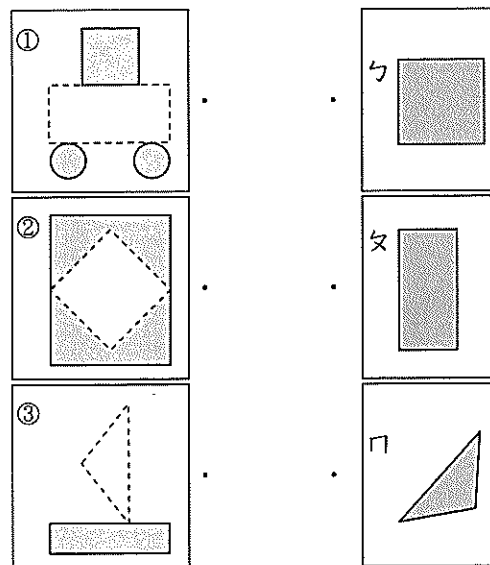


六、連連看：(每答1分，共11分)

1、連出正確的答案。

- |      |   |   |     |
|------|---|---|-----|
| ① 94 | • | • | 八十三 |
| ② 83 | • | • | 四十七 |
| ③ 47 | • | • | 九十四 |
| ④ 61 | • | • | 六十一 |

2、虛線的部分要放入哪一個圖形？



3、把答案相同的連起來。

- |        |   |   |   |
|--------|---|---|---|
| ① 18-9 | • | • | 6 |
| ② 16-8 | • | • | 9 |
| ③ 14-7 | • | • | 8 |
| ④ 12-6 | • | • | 7 |

七、做做看看：(每題4分，共16分)

1、弟弟吃了8顆高麗菜水餃，又吃了9顆韭菜水餃，合起來是吃了几顆水餃？

畫○：

算式：

答：( ) 顆

2、一本繪本的長邊和6枝彩色筆一樣長，兩本相同的繪本的長邊合起來和几枝彩色筆一樣長？

算式：

答：( ) 枝

3、哥哥有16顆彈珠，弟弟有7顆彈珠，哥哥比弟弟多几顆彈珠？

算式：

答：( ) 顆

4、冰箱裡有13顆雞蛋，媽媽拿走了6顆，冰箱裡還有几顆雞蛋？

算式：

答：( ) 顆