






















桃園市龜山區壽山國民小學 108 學年度第 2 學期一年級數學領域期末評量試卷

班級 年 班 姓名	範圍 第 6 章~第 9 章		家長 簽章			
	座號		簽章			
100分	90~99分	80~89分	70~79分	60~69分	60分以下	平均
人	人	人	人	人	人	分

一、選擇題 (每題 2 分，共 14 分)

- ( ) 30 個  可以換幾個  ?  
 ① 2 個    ② 4 個    ③ 6 個。
- ( ) 小恩有 81 元，小安有                 

(4) 哪一些玩具是一樣多，在( )中打✓。

			
( )	( )	( )	( )

(5) 洋娃娃和機器人合起來有幾個？寫出算式做做看。(5分)

算式：

計：

有( )個

2. 怎麼付錢才會剛好？圈圈看。(3分)



3. 看月曆回答問題。

民國 109 年 6 月 2020

日	一	二	三	四	五	六
	1	2	3	4	5	6
7	8	9	10	11	12	13
14	15	16	17	18	19	20
21	22	23	24	25 端午節	26	27
28	29	30				

(1) 這是( )月的月曆。





(2) 這個月的最後一天是( )月( )日，星期( )。

(3) 端午節是( )月( )日，星期( )。





(4) 6月20日是端午節的補課日。請在月曆上把補課日圈起來。

(5) 星期二和星期四要上體育課，這個月共有( )天要上體育課。

4.

 	<p>(1) 哥哥今天去游泳，今天星期( )。</p> <p>(2) 弟弟明天去打籃球，明天是( )月( )日，星期( )。</p>
 	<p>(1) 哥哥今天去游泳，今天星期( )。</p> <p>(2) 弟弟明天去打籃球，明天是( )月( )日，星期( )。</p>

5. 撲滿裡零錢的個數紀錄表。


			
一	正	正下	正正

(1) 數量最少的是( )元，有( )個，是( )元。

(2) 數量最多的是( )元，有( )個，是( )元。

四、寫出算式做做看(共22分)

1. 看圖寫出答案，算算看。



(1) 買一個和一個多或少元？

算式：

計：

要( )元

(2) 一個比一個貴多少元？

算式：

計：

多( )元

2. 先畫⑩和①，再用算式記下來：

(1) 妹妹有21朵康乃馨花，送給媽媽7朵，還有幾朵康乃馨花？(6分)

算式：

計：

有( )朵

(2) 妹妹原來有15顆糖果，姐姐又給她6顆，妹妹現在有幾顆糖果？(6分)

算式：

計：

有( )顆